




МІНІСТЕРСТВО ОСВІТИ І НАУКИ УКРАЇНИ

ХАРКІВСЬКИЙ НАЦІОНАЛЬНИЙ  
ЕКОНОМІЧНИЙ УНІВЕРСИТЕТ  
ІМЕНІ СЕМЕНА КУЗНЕЦЯ

Е. Ю. Железнякова  
Л. О. Норік

# ВИЩА МАТЕМАТИКА В GNU OCTAVE

Навчально-практичний посібник



Харків  
ХНЕУ ім. С. Кузнеця  
2024

УДК 517(075.034)

Ж51

**Авторський колектив:** канд. фіз.-мат. наук, доцент Е. Ю. Железнякова – вступ, підрозд. 1, 2, 4 – 6; канд. екон. наук, доцент Л. О. Норік – підрозд. 3, 7 – 9.

Рецензенти: завідувач кафедри вищої математики Харківського національного університету радіоелектроніки, д-р фіз.-мат. наук, професор *О. Г. Нерух*; професор кафедри вищої математики Харківського національного університету ім. В. Н. Каразіна, д-р фіз.-мат. наук *Д. В. Чібісов*.

**Рекомендовано до видання рішенням ученої ради Харківського національного економічного університету імені Семена Кузнеця.**

Протокол № 4 від 03.04.2023 р.

*Самостійне електронне текстове мережеве видання*

**Железнякова Е. Ю.**

Ж51 Вища математика в GNU Octave [Електронний ресурс] : навчально-практичний посібник / Е. Ю. Железнякова, Л. О. Норік. – Харків : ХНЕУ ім. С. Кузнеця, 2024. – 276 с.

ISBN 978-966-676-868-4

Розглянуто основні питання програми курсу вищої математики із застосуванням інструментарію програмного середовища GNU Octave. Матеріал посібника систематизовано в дев'ять підрозділів. Кожний підрозділ містить основні теоретичні відомості, приклади вирішення завдань, вправи для самостійної роботи та контрольні запитання.

Рекомендовано для здобувачів вищої освіти всіх спеціальностей як допоміжний матеріал у процесі самостійного вивчення навчальної дисципліни, а також для використання викладачами під час проведення лабораторних занять та організації самостійної роботи здобувачів вищої освіти.

**УДК 517(075.034)**

© Железнякова Е. Ю., Норік Л. О., 2024

© Харківський національний економічний університет імені Семена Кузнеця, 2024

ISBN 978-966-676-868-4

# Зміст

<b>Вступ</b> .....	5
<b>Розділ 1. Лінійна алгебра та аналітична геометрія</b> .....	7
1. Знайомство із середовищем GNU Octave .....	7
1.1. Запуск GNU Octave .....	7
1.2. Арифметичні операції в GNU Octave .....	9
1.3. Числові формати виведення даних.....	11
1.4. Текстові коментарі.....	12
1.5. Константи та змінні .....	12
1.6. Функції в Octave.....	16
Контрольні запитання .....	21
2. Елементи лінійної алгебри .....	22
2.1. Матриці та дії над ними .....	22
2.2. Визначник матриці .....	34
2.3. Системи лінійних алгебраїчних рівнянь.....	36
2.4. Завдання для самостійної роботи.....	46
Контрольні запитання .....	67
3. Векторна алгебра та аналітична геометрія .....	67
3.1. Вектори: уведення векторів, дії над векторами.....	68
3.2. Пряма на площині .....	75
3.3. Криві другого порядку .....	80
3.4. Площина .....	86
3.5. Пряма в просторі.....	90
3.6. Завдання для самостійної роботи.....	95
Контрольні запитання .....	100
<b>Розділ 2. Елементи математичного аналізу</b> .....	101
4. Вступ до математичного аналізу.....	101
4.1. Основні правила обчислення границь у середовищі GNU Octave .....	101
4.2. Приклади обчислення границь.....	102
4.3. Завдання для самостійної роботи.....	111
Контрольні запитання .....	119
5. Диференціальне числення функції однієї змінної .....	120
5.1. Обчислення похідної функції.....	120
5.2. Обчислення похідної функції в точці.....	125
5.3. Обчислення похідної функції, заданої неявно.....	128

5.4. Обчислення похідної функції, заданої параметрично ...	129
5.5. Побудова графіка функції .....	130
5.6. Завдання для самостійної роботи .....	135
Контрольні запитання .....	149
6. Диференціальне числення функції багатьох змінних .....	150
6.1. Побудова графіка функції двох змінних .....	151
6.2. Обчислення частинних похідних першого та другого порядку .....	153
6.3. Обчислення градієнта функції в точці та похідної за напрямком вектора .....	156
6.4. Визначення локального екстремуму функції двох змінних .....	159
6.5. Завдання для самостійної роботи .....	164
Контрольні запитання .....	172
7. Інтегральне числення функції однієї змінної .....	173
7.1. Обчислення невизначених інтегралів .....	173
7.2. Обчислення визначених інтегралів. Дослідження невластних інтегралів .....	183
7.3. Обчислення площі фігури, обмеженої лініями .....	186
7.4. Обчислення об'єму тіла, утвореного обертанням навколо відповідної осі фігури, обмеженої лініями .....	190
7.5. Завдання для самостійної роботи .....	193
Контрольні запитання .....	215
8. Диференціальні рівняння .....	215
8.1. Розв'язання диференціальних рівнянь першого порядку ...	216
8.2. Розв'язання диференціальних рівнянь другого порядку ...	223
8.3. Розв'язання прикладних задач із використанням диференціальних рівнянь .....	226
8.4. Завдання для самостійної роботи .....	230
Контрольні запитання .....	248
9. Ряди .....	248
9.1. Дослідження числових рядів на збіжність .....	248
9.2. Степеневий ряд та його збіжність .....	259
9.3. Степеневі ряди Тейлора та Маклорена .....	265
9.4. Завдання для самостійної роботи .....	266
Контрольні запитання .....	274
<b>Використана література .....</b>	<b>275</b>

# Вступ

Навчальна дисципліна «Вища математика» є обов'язковою навчальною дисципліною, яку вивчають, згідно з навчальним планом підготовки фахівців першого бакалаврського рівня. Під час вивчення цієї навчальної дисципліни основне завдання полягає у формуванні в здобувачів вищої освіти необхідних компетентностей щодо застосування елементів вищої математики в процесі вирішення практичних завдань.

Розширення уявлення здобувачів вищої освіти про можливості математичного апарату сьогодні відбувається шляхом інтеграції інформаційних технологій та вищої математики, застосування систем комп'ютерних технологій щодо вищої математики стає одним із видів педагогічних технологій. Достатньо затребуваним програмним середовищем є програма GNU Octave, яка відповідає певним вимогам, що забезпечує системність, послідовність, доступність та наочність як викладання змісту теоретичних питань вищої математики, так і реалізації методів вирішення практичних завдань. Некомерційним онлайн-інтерфейсом GNU Octave є вебсервіс Octave online, оптимізований для Google Chrome та доступний в інтернеті з будь-якого комп'ютера, на якому встановлено сучасний веббраузер. У зв'язку зі стрімким розвитком інформаційних технологій виникає потреба в розробленні навчальних матеріалів до впровадження вебсервісу Octave online у процес навчання вищої математики з орієнтацією на підготовку та виховання фахівців, здатних до вирішення нестандартних завдань в умовах інформаційного суспільства.

Цільовим призначенням цього навчально-практичного посібника є формування цілісної системи теоретичних знань вищої математики, уміння аналітичного мислення та навичок у використанні інструментарію програмного середовища GNU Octave під час вирішення практичних завдань у майбутній професійній діяльності. Навчально-практичний посібник призначено допомогти у вивченні вищої математики, наочно розкрити зміст математичної термінології, сутність математичних методів і прийомів та їхню реалізацію за допомогою вебсервісу Octave online.

Матеріал посібника систематизовано в дев'ять підрозділів. Кожен підрозділ складається з таких частин: мета та компетентності, основні теоретичні відомості, приклади вирішення завдань, вправи для самостійної

роботи та контрольні запитання. Матеріал кожного підрозділу структуровано за програмою вивчення вищої математики в аспекті окремих тем. Викладання теоретичних основ супроводжують прикладами із числовими розрахунками.

Перший підрозділ посібника присвячено опису початку роботи з Octave online, розглянуто вікно програми, основні числові формати та принцип роботи із вбудованими функціями.

У другому підрозділі увагу приділено основним математичним функціям та операціям GNU Octave, які дозволяють реалізувати методи лінійної алгебри, детально описано способи створення масивів і математичні операції над масивами.

Третій підрозділ посібника описує графічні можливості GNU Octave для роботи з векторами та спеціальні функції для вирішення завдань аналітичної геометрії.

У четвертому підрозділі продемонстровано елементи граничного аналізу засобами GNU Octave, а саме функції обчислення границь функції в точці та на нескінченності.

П'ятий та шостий підрозділи знайомлять читачів з інструментами GNU Octave, призначеними для вирішення завдань, пов'язаних із диференціальним численням, відповідно, функцій однієї та багатьох змінних, і графічним інструментарієм для візуалізації графіків функцій.

Сьомий підрозділ присвячено методам інтегрального числення функції однієї змінної в програмному середовищі GNU Octave, а саме: обчисленню невизначених і визначених інтегралів; обчисленню площі фігури, обмеженої лініями; обчисленню об'єму тіла, утвореного обертанням фігури, обмеженої певними лініями навколо відповідної осі; дослідженню невластних інтегралів.

У восьмому підрозділі подано методи вирішення диференціальних рівнянь першого та другого порядку із застосуванням інструментів Octave.

Дев'ятий розділ знайомить читачів із можливостями Octave у ході дослідження числових рядів на збіжність, визначення області збіжності степеневого ряду та розвинення функції в ряд Маклорена.

Така структура навчально-практичного посібника дозволяє використовувати його під час аудиторних занять, самостійної роботи здобувачів вищої освіти, у процесі написання курсових, дипломних і магістерських робіт. Посібник буде корисним і науковцям для виконання аналітичних розрахунків наукових досліджень та ілюстрації визначених результатів.

# Розділ 1

## Лінійна алгебра та аналітична геометрія

### 1. Знайомство із середовищем GNU Octave

#### Мета:

- ✚ знайомство із середовищем GNU Octave;
- ✚ вивчення основних операцій і функцій, за допомогою яких виконують обчислення в середовищі GNU Octave.

#### Компетентності:

уміння виконувати елементарні математичні операції, визначати змінні;

знання та навички у використанні вбудованих функцій системи;  
навички у використанні функцій роботи з масивами даних.

#### 1.1. Запуск GNU Octave

Для запуску GNU Octave потрібно в пошуковому рядку Google написати Octave online та перейти за першим посиланням (рис. 1.1).

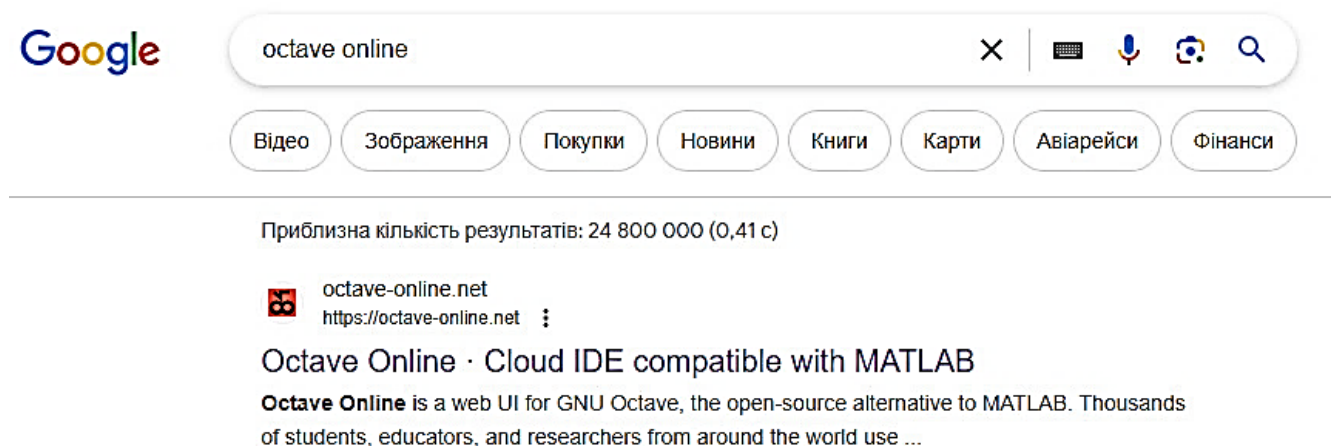


Рис. 1.1. Пошук програми Octave в інтернеті

Після цього на екрані з'являється основне вікно застосунку. Запуск GNU Octave приводить до відкриття робочого середовища, зображеного на рис. 1.2.

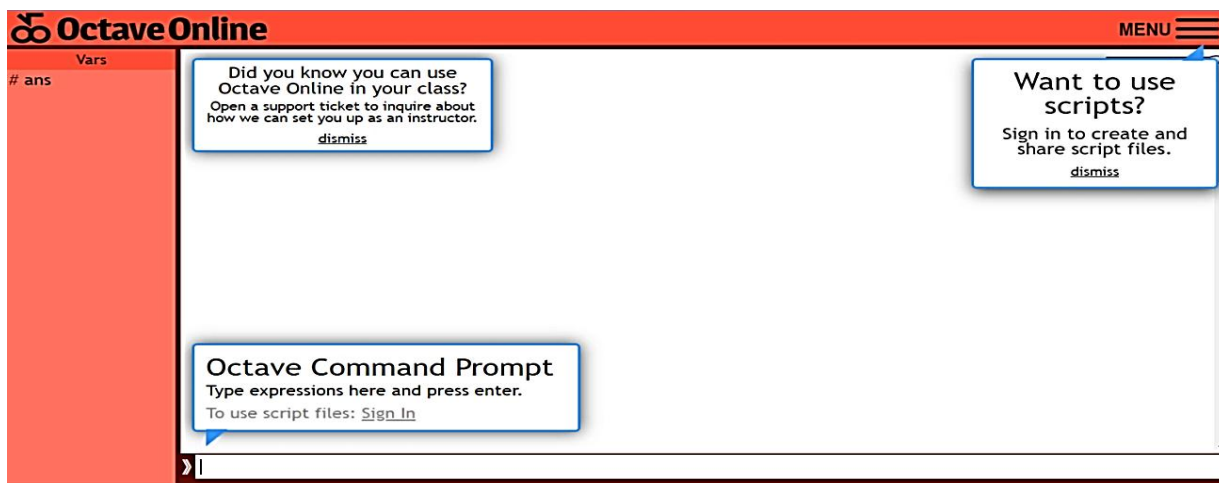


Рис. 1.2. Вікно робочого середовища GNU Octave

Центральним вікном графічного інтерфейсу є інтерфейс командного рядка Octave. У цьому вікні Octave відображає початкове повідомлення, а потім підказку про готовність прийняти введені дані. Сигналом, що система є готовою до роботи, є поява командного рядка із запрошенням >>. Уведення команд здійснюють із клавіатури в командному рядку Octave Command Prompt. У командному рядку діють елементарні засоби редагування. У табл. 1.1 наведено основні команди редактора GNU Octave.

Таблиця 1.1

### Основні команди редактора GNU Octave

Комбінації клавіш	Призначення
→	Переміщення курсора праворуч на один символ
←	Переміщення курсора ліворуч на один символ
Ctrl+→	Переміщення курсора праворуч на одне слово
Ctrl+←	Переміщення курсора ліворуч на одне слово
Home	Переміщення курсора на початок рядка
End	Переміщення курсора в кінець рядка
↑ ↓	Перегортання попередніх команд угору чи вниз для підставлення в рядок введення
Del	Стирання символу праворуч від курсора
Backspace	Стирання символу ліворуч від курсора
Ctrl+k	Стирання до кінця рядка
Ecs	Очищення рядка введення
Ins	Умикання/вимикання режиму вставлення
PageUp	Перегортання сторінок угору
PageDown	Перегортання сторінок униз

Слід зауважити, що клавіші  $\uparrow$  та  $\downarrow$  дозволяють повернути до командного рядка команди, що було введено раніше.

Якщо в порожньому активному командному рядку натиснути клавішу  $\uparrow$ , то з'явиться остання команда, що вводили. Повторне натискання цієї клавіші викликає передостанню команду тощо. Клавіша  $\downarrow$  викликає команди у зворотному напрямку.

Якщо команда, що вводять, закінчується крапкою з комою «;», то результат її дії не відображається в робочому середовищі, а активізує наступний командний рядок. Інакше результат дії команди відразу з'являється на екрані.

## 1.2. Арифметичні операції в GNU Octave

Елементарні арифметичні операції в GNU Octave виконують за допомогою таких операторів:

- + додавання;
- віднімання;
- \* множення;
- / ділення зліва направо;
- \ ділення справа наліво;
- ^ піднесення до степеня.

Для того щоб знайти значення арифметичного виразу, потрібно записати його в командному рядку та натиснути клавішу `Enter`.

Будь-які пропуски до або після арифметичних операцій не є обов'язковими, але їх допускають.

**Приклад 1.1.** Обчисліть значення  $\sin \frac{\pi}{3}$ .

*Розв'язання.* У командному рядку слід увести команду (тут і далі наведено команди із середовища GNU Octave):

```
>>sin(pi/3);
```

або

```
>>sin(pi/3)
```

після введення такого запису слід натиснути клавішу `<Enter>`, маємо таку відповідь: `ans = 0.8660`

**Приклад 1.2.** Обчисліть значення виразу  $A + B$ , якщо

$$A = 25 : 5 + 6 \cdot 3 - 4^2, \quad B = 36 \cdot 4 - 2^3 + 8.$$

*Розв'язання.*

```
>>A=25/5+6*3-4^2; <Enter>
```

```
>>B=36*4-2^3+8; <Enter>
```

```
>>C=A+B <Enter>
```

```
C = 151
```

**Приклад 1.3.** Обчисліть значення виразу  $5 + 8 \cdot 2 - 2^3 + 48 : 6$ .

*Розв'язання.*

```
>>5+8*2-2^3+48/6
```

Після введення такого запису слід натиснути клавішу `<Enter>`, маємо таку відповідь:

```
ans = 21
```

Якщо потрібно ввести десятковий дріб, то для відокремлення дробової частини застосовують крапку.

**Приклад 1.4.** Обчисліть значення виразу  $0.2 + 3 \cdot 0.5$ .

*Розв'язання.*

```
>>0.2+3*0.5
```

```
ans = 1.7000
```

Якщо вираз, значення якого слід обчислити, має великий розмір, перед натисканням клавіші `Enter` потрібно набрати чотири або більше крапок. Тоді це буде означати, що командний рядок продовжується.

**Приклад 1.5.** Обчисліть значення виразу

$$5 + 6 \cdot 2 - 7 + 56 : 8 + 45 - 11 - 52 + 4.$$

## Розв'язання.

```
>>5+6*2-7.... <Enter>  
>>+56/8+45-11.... <Enter>  
>>-52+4 <Enter>  
ans = 3
```

### 1.3. Числові формати виведення даних

За замовчуванням у середовищі GNU Octave налаштовано відображення числових результатів із чотирма цифрами після десяткової крапки. Однак під час роботи із числовими даними є можливість використовувати різні *числові формати*. Для встановлення формату застосовують команду `>>format name`, де `name` – ім'я формату.

Значення параметра `name` наведено в табл. 1.2.

Таблиця 1.2

#### Числові формати в GNU Octave

Імена формату	Виклики формату	Приклади подання (вираз 15.25)
<code>short</code> – коротке подання у фіксованому форматі	<code>&gt;&gt;format short</code>	15.2500
<code>short e</code> – коротке подання в експоненціальному форматі	<code>&gt;&gt;format short e</code>	1.5250e+001
<code>long</code> – довге подання у фіксованому форматі	<code>&gt;&gt;format long</code>	15.250000000000000
<code>long e</code> – довге подання в експоненціальному форматі	<code>&gt;&gt;format long e</code>	1.525000000000000e+001
<code>hex</code> – подання в шістнадцятковому форматі	<code>&gt;&gt;format hex</code>	402e800000000000
<code>bank</code> – подання в грошовому форматі	<code>&gt;&gt;format bank</code>	15.25
<code>rats</code> – подання у вигляді звичайного дробу	<code>&gt;&gt;rats</code>	61/4

Зауважмо, що формат `short` встановлено за замовчуванням. Виклик команди `format` з іншим числовим форматом означає, що виведення чисел будуть здійснювати у встановленому форматі.

## 1.4. Текстові коментарі

**Текстовий коментар** у GNU Octave – це рядок, що починається із символу `%`. Текст, що пишуть після цього символу не є командою, а натискання клавіші `Enter` приводить до активації наступного командного рядка.

Так, у прикладі 1.3 можна виконати команду таким чином:

```
>>5+8*2-2^3+48/6 % обчислімо значення виразу <Enter>  
ans = 21
```

Застосування текстових коментарів можна побачити далі в багатьох прикладах цього посібника.

## 1.5. Константи та змінні

**Константа** – це заздалегідь визначене числове або символльне значення, подане унікальною назвою. Розрізняють числові константи без назви, системні константи та символльні константи.

До *числових констант* без назви належать, наприклад, 5, -28, 6.34.

*Системними константами* називають константи, що визначають системою під час запуску. Перелік системних констант наведено в табл. 1.3.

Таблиця 1.3

### Системні константи, визначені в GNU Octave

Константи	Значення
1	2
i або j	уявна одиниця ( $\sqrt{-1}$ )
e	число $e = 2.71828183$
Pi	число $\pi = 3.141592653589793$
Eps	похибка операцій над числами з рухомою точкою ( $2^{-52}$ )
realmin	найменше число з рухомою точкою ( $2^{-1022} = 2.2251e-308$ )

1	2
realmax	найбільше число з рухомою точкою ( $2^{1023} = 1.7977e+308$ )
Inf	значення машинної нескінченності ( $\infty$ )
Ans	змінна, що зберігає результат останньої операції та зазвичай відображає його значення на екрані в командному вікні
NaN	указівка на невизначений результат (Not-a-Number)

*Символьними константами* називають сукупність символів, що беруть у лапки. Якщо в лапках розміщено арифметичний вираз, то його не обчислюють, а розглядають як послідовність символів.

**Приклад 1.6.** Обчисліть довжину кола, радіус якого дорівнює 4.

*Розв'язання.* Як відомо, довжину кола обчислюють за формулою  $l = 2 \cdot \pi \cdot r$ . Оскільки радіус кола дорівнює 4, то його довжина буде такою:  $l = 2 \cdot \pi \cdot 4 = 8 \cdot \pi$ .

Обчислимо значення цього виразу за допомогою Octave:

```
>>l=8*pi <Enter>
l = 25.133
```

Отже, довжина кола дорівнює 25.133.

**Приклад 1.7.** Обчисліть значення виразу  $\frac{25-5+3}{\sqrt{6-\sqrt{50}}}$ .

*Розв'язання.*

```
>>(25-5+3)/(6-50^(1/2))^(1/2) <Enter>
ans = 1.3608e-15 - 2.2224e+01i
```

Оскільки  $6 < \sqrt{50}$ , то в знаменнику маємо уявне число.

**Приклад 1.8.** Обчисліть значення виразу  $\frac{25-5+3}{6-\sqrt{36}}$ .

*Розв'язання.*

```
>> (25-5+3) / (6-36^(1/2)) <Enter>  
ans = Inf
```

Оскільки вираз у знаменнику дорівнює 0, то значення дробу дорівнює нескінченності.

В Octave можна визначати змінні та використовувати їх у виразах. Для визначення змінної потрібно набрати ім'я змінної, знак «=» та значення, якому вона дорівнює.

Знак «=» є *оператором призначення*. Тобто, якщо в загальному вигляді оператор призначення записати так: ім'я\_змінної = вираз, то як змінну, ім'я якої вказано ліворуч, буде записано значення виразу, указанного праворуч у рівності. Ім'я\_змінної не має збігатися з назвами вбудованих процедур, функцій і вбудованих змінних системи. Система відрізняє великі та малі букви, що містяться в позначеннях змінних. Тому *ABC*, *ABc*, *Abc*, *abc* – це різні позначення змінних.

Вираз, розташований праворуч від знака «=» може бути або числом, або арифметичним виразом, або рядком символів, або символічним виразом. В останніх двох випадках вираз у правій частині оператора призначення потрібно взяти в одинарні лапки.

**Приклад 1.9.** Обчисліть значення виразу  $z = x^2 + (y-2)x$ , якщо  $x=5$ ,  $y=42$ .

*Розв'язання.*

```
>>x=5 <Enter>  
x = 5  
>>y=42 <Enter>  
y = 42  
>>z=x^2+(y-2)*x %обчислімо значення виразу <Enter>  
z = 225
```

**Приклад 1.10.** Розв'яжіть задачу, наведену в прикладі 1.6, шляхом уведення змінних.

*Розв'язання.*

```
>>r='r' % радіус кола <Enter>
r = r
>>l='2*pi*r' % довжина кола <Enter>
l = 2*pi*r
```

Визначено формулу для обчислення довжини кола в загальному вигляді. Якщо надати змінній 'r' певне значення (у цьому разі 4), то буде обчислено значення довжини кола, радіус якого дорівнює 4:

```
>>r=4 <Enter>
r = 4
>>l=2*pi*r <Enter>
l = 25.133
```

Слід нагадати, що, якщо наприкінці виразу в командному рядку не стоїть символ «;», то як результат виводиться ім'я змінної та її значення. Якщо символ «;» наявний, то управління надається наступному командному рядку. Це дає можливість використовувати імена змінних для запису проміжних результатів у пам'ять комп'ютера.

**Приклад 1.11.** Обчисліть значення виразу  $d = a^2 + (c - 2)^2$ , якщо  $a = 5$ ,  $b = 8$ ,  $c = a + b - 4$ .

*Розв'язання.*

```
>>a=5;b=8;c=a+b-4;d=a^2+(c-2)^2 <Enter>
d = 74
```

Якщо команда не містить знака призначення, то за замовчуванням обчислене значення надано спеціальній системній змінній `ans`. Це значення можна використовувати в подальших розрахунках. Але слід пам'ятати, що значення `ans` змінюється після кожного виклику команди без оператора призначення.

Наприклад, якщо ввести послідовно команди, то значення `ans` зберігається після останньої команди:

```
>>56-24 <Enter>
ans = 32
>>3*ans <Enter>
ans = 96
```

## 1.6. Функції в Octave

Усі функції, що використовують в Octave, можна розподілити на вбудовані та визначені користувачем.

У загальному вигляді звернення до будь-якої функції в середовищі Octave має такий вигляд:

```
ім'я_змінної = ім'я_функції(аргумент)
або
ім'я_функції(аргумент)
```

Якщо `ім'я_змінної` названо, то їй буде надано результат застосування функції.

Якщо ні, то значення обчисленого результату буде надано системній змінній `ans`

```
>>x=pi/6; % значення аргументу <Enter>
>>y=sin(x) % значення функції для визначеного
значення аргументу <Enter>
y = 0.5000
```

або

```
>>sin(pi/6) <Enter>
ans = 0.5000
```

Розгляньмо основні елементарні функції Octave (табл. 1.4). Зауважмо, що в Octave аргумент функції обов'язково треба писати в круглих дужках.

### Основні елементарні функції Octave

Функції	Опис функцій
1	2
<i>Тригонометричні функції</i>	
$\sin(x)$	синус числа $x$
$\cos(x)$	косинус числа $x$
$\tan(x)$	тангенс числа $x$
$\cot(x)$	котангенс числа $x$
$\sec(x)$	секанс числа $x$ ( $\cos^{-1}(x)$ )
$\csc(x)$	косеканс числа $x$ ( $\sin^{-1}(x)$ )
<i>Обернені тригонометричні функції</i>	
$\operatorname{asin}(x)$	арксинус числа $x$
$\operatorname{acos}(x)$	арккосинус числа $x$
$\operatorname{atan}(x)$	арктангенс числа $x$
$\operatorname{acot}(x)$	арккотангенс числа $x$
$\operatorname{asec}(x)$	арксеканс числа $x$
$\operatorname{acsc}(x)$	арккосеканс числа $x$
<i>Гіперболічні функції</i>	
$\sinh(x)$	гіперболічний синус числа $x$
$\cosh(x)$	гіперболічний косинус числа $x$
$\tanh(x)$	гіперболічний тангенс числа $x$
$\coth(x)$	гіперболічний котангенс числа $x$
$\operatorname{sech}(x)$	гіперболічний секанс числа $x$
$\operatorname{csch}(x)$	гіперболічний косеканс числа $x$
<i>Обернені гіперболічні функції</i>	
$\operatorname{asinh}(x)$	гіперболічний арксинус числа $x$
$\operatorname{acosh}(x)$	гіперболічний арккосинус числа $x$
$\operatorname{atanh}(x)$	гіперболічний арктангенс числа $x$
$\operatorname{acoth}(x)$	гіперболічний арккотангенс числа $x$
$\operatorname{asech}(x)$	гіперболічний арксеканс числа $x$
$\operatorname{acsch}(x)$	гіперболічний арккосеканс числа $x$
<i>Експоненціальна функція</i>	
$\exp(x)$	експонента числа $x$
<i>Логарифмічна функція</i>	
$\log(x)$	натуральний логарифм числа $x$
$\log_{10}(x)$	десятковий логарифм числа $x$

1	2
<code>log2(x)</code>	логарифм числа $x$ з основою 2
<code>log(x)/log(a)</code>	логарифм числа $x$ з основою $a$
<i>Обчислення квадратного кореня</i>	
<code>sqrt(x)</code>	корінь квадратний із числа $x$
<i>Обчислення модуля числа</i>	
<code>abs(x)</code>	модуль числа $x$
<i>НСД та НСК двох чисел</i>	
<code>gcd(x, y)</code>	найбільший спільний дільник чисел $x$ та $y$
<code>lcm(x, y)</code>	найменше спільне кратне чисел $x$ та $y$
<i>Цілочислові функції</i>	
<code>fix(x)</code>	округлення числа $x$ до найближчого цілого в бік нуля
<code>floor(x)</code>	округлення числа $x$ до найближчого цілого в бік від'ємної нескінченності
<code>ceil(x)</code>	округлення числа $x$ до найближчого цілого в бік додатної нескінченності
<code>round(x)</code>	звичайне округлення числа $x$ до найближчого цілого
<code>rem(x, y)</code>	обчислення залишку від ділення $x$ на $y$
<code>sign(x)</code>	функція знака числа (повертає $-1$ для від'ємних чисел, $1$ – для невід'ємних та $0$ – для $0$ )
<i>Функції для роботи з комплексними числами</i>	
<code>real(Z)</code>	повертає дійсну частину комплексного числа $z$
<code>imag(Z)</code>	повертає уявну частину комплексного числа $z$
<code>angle(Z)</code>	обчислює аргумент комплексного числа $z$ у радіанах від $-\pi$ до $\pi$
<code>conj(Z)</code>	повертає комплексно-спряжене число $\bar{z}$

Розгляньмо приклади роботи з функціями в Octave.

**Приклад 1.12.** Обчисліть значення функцій  $\sin x$ ,  $\cos 2x$ ,  $tg 2x$ ,  $ctgx$ , якщо  $x = \frac{\pi}{3}$ .

*Розв'язання.*

```
>>x=pi/3;    <Enter>
>>sin(x)     <Enter>
```

```
ans = 0.8660
>>cos(2*x) <Enter>
ans = -0.5000
>>tan(2*x) <Enter>
ans = -1.7321
>>cot(x) <Enter>
ans = 0.5774
```

**Приклад 1.13.** Обчисліть значення виразу:

а)  $16\cos\frac{\pi}{9}\cos\frac{2\pi}{9}\cos\frac{4\pi}{9}$ ; б)  $\sin\frac{3\pi}{14}-\sin\frac{\pi}{14}-\sin\frac{5\pi}{14}$ ; в)  $\cos\left(2\arcsin\frac{1}{6}\right)$ ;  
 г)  $\arcsin\frac{1}{4}+\arccos\frac{2}{3}$ ; ґ)  $26\sin\left(2\arctg\frac{2}{3}\right)-\operatorname{tg}\left(\frac{1}{2}\arccos\frac{7}{25}\right)$ .

*Розв'язання:*

```
а) >>16*cos(pi/9)*cos(2*pi/9)*cos(4*pi/9) <Enter>
ans = 2.0000
б) >>sin(3*pi/14)-sin(pi/14)-sin(5*pi/14) <Enter>
ans = -0.5000
в) >>cos(2*asin(1/6)) <Enter>
ans = 0.9444
>>rats(ans) % результат у вигляді раціонального дробу
ans = 17/18
г) >>asin(1/4)+acos(2/3) <Enter>
ans = 1.0937
ґ) >>26*sin(2*atan(2/3))-tan(1/2*acos(7/25)) <Enter>
ans = 23.250
```

**Приклад 1.14.** Обчисліть значення виразу  $\sin\frac{x}{2}\cos\frac{x}{2}$ , якщо  $x = -\frac{\pi}{6}$ .

*Розв'язання.*

```
>>x=-pi/6; <Enter>
>>sin(x/2)*cos(x/2) <Enter>
ans = -0.2500
```

**Приклад 1.15.** Обчисліть значення  $e^{2x}$ ,  $\ln x$ ,  $\lg 2x$ ,  $\log_2^3 x$ ,  $\log_3 x$ , якщо  $x=4$ .

*Розв'язання.*

```
>>x=4;      <Enter>
>>exp(2*x) <Enter>
ans = 2981.0
>>log(x)    <Enter>
ans = 1.3863
>>log10(x)  <Enter>
ans = 0.6021
>>(log2(x))^3 <Enter>
ans = 8
>>log(x)/log(3) % обчислення log3(x) <Enter>
ans = 1.2619
```

**Приклад 1.16.** Обчисліть: а)  $2\lg 5 + \lg 4$ ; б)  $\sqrt{27 + 2\sqrt{50}} \cdot (5 - \sqrt{2})$ ;  
в)  $3\sqrt{3} \cos(\operatorname{arctg} \sqrt{2})$ .

*Розв'язання:*

```
а) >>2*log10(5)+log10(4) <Enter>
ans = 2
б) >>sqrt(27+2*sqrt(50))*(5-sqrt(2)) <Enter>
ans = 23
в) >>3*sqrt(3)*cos(atan(sqrt(2))) <Enter>
ans = 3
```

**Приклад 1.17.** Обчисліть  $\frac{53}{8-\sqrt{11}} + \frac{2}{\sqrt{13}+\sqrt{11}} - \frac{9}{\sqrt{13}+2}$ .

*Розв'язання.*

```
>>53/(8-sqrt(11))+2/(sqrt(13)+sqrt(11))-  
9/(sqrt(13)+2) <Enter>  
ans = 10
```

або можна розв'язання оформити так:

```
>>a=53/(8-sqrt(11)); <Enter>  
>>b=2/(sqrt(13)+sqrt(11)); <Enter>  
>>c=9/(sqrt(13)+2); <Enter>  
>>d=a+b-c <Enter>  
d = 10
```

**Приклад 1.18.** Обчисліть значення виразу  $|\sqrt{2}-\sqrt{21}|$  та округліть його до найближчого цілого числа.

*Розв'язання.*

```
>>a=abs(sqrt(2)-sqrt(21))  
a = 3.1684  
>>round(a)  
ans = 3
```

## Контрольні запитання

1. За допомогою яких операцій у середовищі GNU Octave здійснюються арифметичні обчислення?
2. Які є формати чисел?
3. Як записати відповідь у вигляді раціонального дробу?
4. Що означає знак «;» наприкінці команди в рядку?
5. Які константи називають системними, а які – символічними?

6. Як зробити текстовий коментар?
7. Як обчислюють елементарні математичні функції?
8. Які є особливості під час запису аргументу функції?
9. Чи є можливість обчислення логарифмів за будь-якою основою?
10. Як обчислити квадратний корінь, модуль числа або виразу?

## 2. Елементи лінійної алгебри

### Мета:

- ✚ закріплення теоретичних знань лінійної алгебри;
- ✚ набуття навичок у розв'язанні здобувачами вищої освіти задач матричної алгебри за допомогою середовища GNU Octave;
- ✚ дослідження на сумісність і розв'язання систем лінійних алгебраїчних рівнянь методом Крамера та методом оберненої матриці за допомогою інструментарію середовища GNU Octave.

### Компетентності:

- уміння створювати матриці та виконувати елементарні дії над ними;
- уміння обчислювати визначники будь-якого порядку;
- уміння визначати транспоновану й обернену матриці;
- уміння обчислювати визначники матриць і розв'язувати системи лінійних алгебраїчних рівнянь.

### 2.1. Матриці та дії над ними

Нагадаймо, що **матрицею** називають прямокутну таблицю чисел, яка має  $m$  рядків і  $n$  стовпців, а самі числа є її елементами.

Наприклад, матриця  $A = (a_{ij})_{\substack{i=\overline{1,m} \\ j=\overline{1,n}}}$  має такий вигляд:

$$A = \begin{pmatrix} a_{11} & a_{12} & \dots & a_{1n} \\ a_{21} & a_{22} & \dots & a_{2n} \\ \dots & \dots & \dots & \dots \\ a_{m1} & a_{m2} & \dots & a_{mn} \end{pmatrix}.$$

Якщо в матриці кількість стовпців і кількість рядків є однаковими й дорівнюють  $n$ , то матрицю називають *квадратною матрицею*  $n$ -го порядку. Множину елементів квадратної матриці  $a_{11}, a_{22}, \dots, a_{nn}$  називають *головною діагоналлю матриці*. Квадратну матрицю називають *діагональною матрицею*, якщо всі її елементи, які містяться поза головною діагоналлю, дорівнюють нулю. *Одинична матриця* – це діагональна матриця з одиничними елементами на діагоналі.

Якщо в матриці  $A$  замінити відповідні рядки на стовпці, то маємо *транспоновану матрицю*  $A^T$ .

Над матрицями можна виконувати *лінійні операції*: додавання матриць, множення на число, множення двох матриць. Операція алгебраїчного додавання матриць  $A$  і  $B$  є можливою в тому разі, коли матриці  $A$  і  $B$  мають однакову кількість рядків та однакову кількість стовпців.

Розгляньмо, передусім, методи створення матриць усередині програмного середовища.

Матрицю розміру  $n \times m$  задають такою командою:

```
>>A=[a11 a12 ... a1m; a21 a22 ... a2m; ...; an1 an2 ... anm],
```

де ідентифікатор  $a_{ij}$  відповідає елементу  $a_{ij}$ , тобто є відповідним числом. Рядки відокремлюють крапкою з комою, а елементи кожного рядка відокремлюють знаком пробілу.

**Приклад 2.1.** Визначте матриці  $A$  і  $B$  за допомогою GNU Octave, якщо

$$A = \begin{pmatrix} 1 & -2 & 3 \\ 5 & 2 & 7 \\ -3 & 8 & 9 \end{pmatrix}, \quad B = \begin{pmatrix} 4 \\ 3 \\ -2 \end{pmatrix}.$$

*Розв'язання.*

$A$  – квадратна матриця третього порядку, тобто розміру  $3 \times 3$ , а  $B$  є вектором-стовпцем третього порядку, тобто розміру  $3 \times 1$ .

Для цього в командному рядку слід увести:

```
>>A=[1 -2 3; 5 2 7; -3 8 9] та натиснути <Enter>.
```

У результаті з'явиться матриця:

```
A =  
 1  -2  3  
 5   2  7  
-3   8  9
```

Аналогічно вводьмо дані матриці  $B$ :

```
>>B=[4;3;-2]  
B =  
 4  
 3  
-2
```

До матриць можна застосовувати всі допустимі операції та елементарні функції. Основні операції над матрицями, їхній опис і приклади застосування наведено в табл. 2.1.

Таблиця 2.1

### Функції GNU Octave, що використовують для розв'язання задач матричної алгебри

Функції	Описи
1	2
$A(i,j)$	<p>Звернення до елемента матриці <math>A</math>, розташованого на перетині <math>i</math>-го рядка та <math>j</math>-го стовпця.</p> <p>Наприклад:</p> <pre>&gt;&gt;A=[1 -2 3; 5 2 7; -3 8 9] A =  1  -2  3  5   2  7 -3   8  9</pre> <pre>&gt;&gt;A(2,3) ans =       7</pre>

1	2
$A(i, :)$ , $A(:, j)$	<p>Звернення до елементів матриці <math>A</math>, розташованих в <math>i</math>-му рядку або <math>j</math>-му стовпці.</p> <p>Наприклад:</p> <pre>&gt;&gt;A(2,:) %2-й рядок ans =      5     2     7 &gt;&gt;A(:,2) %2-й стовпець ans =     -2      2      8</pre>
$B'$ (апостроф)	<p>Транспонування матриці.</p> <p>Наприклад, стовпець можна визначити як транспонований рядок:</p> <pre>&gt;&gt;B=[4 3 -2] % вектор-рядок B =      4     3    -2 &gt;&gt;B=B' % вектор-стовпець B =      4      3     -2</pre>
$A1+A2$	<p>Визначення суми двох матриць, які задано змінними <math>A_1</math> і <math>A_2</math> (матриці мають бути однакового розміру).</p> <p>Наприклад:</p> <pre>&gt;&gt;A1=[3 4;1 -2;0 -7] A1 =      3     4      1    -2      0    -7 &gt;&gt;A2=[2 -5;-9 -6; 8 5] A2 =      2    -5     -9    -6      8     5 &gt;&gt;A1+A2 % сума матриць ans =      5    -1     -8    -8      8    -2</pre>

1	2
$a \cdot A_1 \pm b \cdot A_2$	<p>Лінійна комбінація матриць, які задано змінними <math>A_1</math> і <math>A_2</math> (матриці мають бути однакового розміру), <math>a</math> і <math>b</math> – це числа. Наприклад:</p> <pre>&gt;&gt;3*A1-2*A2 ans =      5     22     21     6    -16    -31</pre>
$f(A)$	<p>Якщо <math>f(x)</math> – це елементарна функція, то означена операція приводить до обчислення матриці того самого розміру, що й матриця <math>A</math>, кожний елемент якої дорівнює значенню елементарної функції від відповідного елемента матриці <math>A</math>. Наприклад:</p> <pre>&gt;&gt;sin(A1) ans =     0.1411   -0.7568     0.8415   -0.9093          0   -0.6570  &gt;&gt;exp(B) ans =     0.3679     7.3891    403.4288</pre>
$A \cdot C$	<p>Поелементний добуток матриць, визначених матрицями <math>A</math> і <math>C</math>. Результатом є матриця того самого розміру, що й матриці <math>A</math> і <math>C</math>. Наприклад:</p> <pre>&gt;&gt;A=[1 -2 3; 5 2 7; -3 8 9] A =      1    -2     3      5     2     7     -3     8     9  &gt;&gt;C=[2 1 0;3 1 3;4 -2 -7] C =      2     1     0      3     1     3      4    -2    -7</pre>

1	2
	<pre>&gt;&gt;A.*C ans =      2    -2     0     15     2    21    -12   -16   -63</pre> <p>Матриці мають бути однакового розміру, інакше буде помилка, наприклад:</p> <pre>??? Error using ==&gt; times Matrix dimensions must agree</pre>
A./C	<p>Поелементне ділення матриць, визначених матрицями <math>A</math> і <math>C</math>. Результатом є матриця того самого розміру, що й матриці <math>A</math> і <math>C</math>. Наприклад:</p> <pre>&gt;&gt;A=[1 -2 3; 5 2 7; -3 8 9] A =      1    -2     3      5     2     7     -3     8     9</pre> <pre>&gt;&gt;C=[2 1 0;3 1 3;4 -2 -7] C =      2     1     0      3     1     3      4    -2    -7</pre> <pre>&gt;&gt;A./C ans =      0.5000    -2.0000    Inf      1.6667     2.0000     2.3333     -0.7500    -4.0000    -1.2857</pre> <p>Warning: Divide by zero</p> <p>Матриці мають бути однакового розміру</p>
A.^n	<p>Кожен елемент матриці <math>A</math> підносять до степеня <math>n</math>.</p> <pre>&gt;&gt;A.^2 %піднесення до степеня 2 ans =      1     4     9     25     4    49      9    64    81</pre> <p>Операція може бути застосованою до будь-якої прямокутної матриці (квадратної або прямокутної)</p>

1	2
size(A)	<p>Визначення розміру матриці.</p> <p>Якщо</p> <pre>&gt;&gt;A=[1 -2 3; 5 2 7; -3 8 9] A =      1     -2     3      5      2     7     -3      8     9  &gt;&gt;B=[10 3; -2 5; 15 1] B =     10      3     -2      5     15      1  &gt;&gt;size(A) ans =       3      3  &gt;&gt;size(B) ans =       3      2</pre>
A*B	<p>Добуток матриць. Розміри матриць мають бути погодженими (кількість стовпців першої матриці – першого множника має дорівнювати кількості рядків другої матриці – другого множника).</p> <p>Наприклад:</p> <pre>&gt;&gt;A=[1 -2 3; 5 2 7; -3 8 9] A =      1     -2     3      5      2     7     -3      8     9  &gt;&gt;B=[10 3; -2 5; 15 1] B =     10      3     -2      5     15      1  &gt;&gt;A*B ans =     59     -4    151     32     89     40</pre> <p>Якщо розміри не є погодженими, виникає повідомлення про помилку:</p> <pre>??? Error using ==&gt; mtimes Inner matrix dimensions must agree</pre>

1	2
A^n	<p>Піднесення матриці <math>A</math> до степеня <math>n</math> (матриця має бути квадратною).</p> <pre>&gt;&gt;A^2 %піднесення матриці до степеня 2 ans =     -18    18    16      -6    50    92      10    94   128</pre> <p>або</p> <pre>&gt;&gt;A*A ans =     -18    18    16      -6    50    92      10    94   128</pre> <p>Результат є однаковим</p>
zeros (m, n)	<p>Створення прямокутної матриці розміру <math>m \times n</math>, що складають із нулів. Наприклад:</p> <pre>&gt;&gt;zeros (2, 3) ans =      0     0     0      0     0     0</pre>
ones (m, n)	<p>Створення прямокутної матриці розміру <math>m \times n</math>, що складають з одиниць. Наприклад:</p> <pre>&gt;&gt;ones (2, 3) ans =      1     1     1      1     1     1</pre>
diag (B)	<p>Створення діагональної матриці, у якій на діагоналі стоять елементи, а на інших позиціях – нулі. Наприклад:</p> <pre>&gt;&gt;b=[1 3 6] b =      1     3     6</pre> <pre>&gt;&gt;diag (b) ans =      1     0     0      0     3     0      0     0     6</pre>

1	2
eye (n)	Створення одиничної матриці розміру $n \times n$ . Наприклад: <pre>&gt;&gt;eye(3) % ans =      1     0     0      0     1     0      0     0     1</pre>
inv (A)	Обчислення оберненої матриці (визначник має бути ненульовим). Наприклад: <pre>&gt;&gt;A=[2 1 -1; -1 3 0; 1 0 2] A =      2     1    -1     -1     3     0      1     0     2  &gt;&gt; inv(A) ans =   0.352941  -0.117647   0.176471   0.117647   0.294118   0.058824  -0.176471   0.058824   0.411765</pre>

**Приклад 2.2.** Задано матрицю  $A = \begin{pmatrix} 1 & -2 & 3 \\ 5 & 2 & 7 \\ -3 & 8 & 9 \end{pmatrix}$  та вектор  $B = \begin{pmatrix} 4 \\ 3 \\ -2 \end{pmatrix}$ .

Замініть у матриці  $A$  перший стовпець на вектор  $B$ .

*Розв'язання.* Якщо потрібно замінити перший стовпець на вектор  $B$ , який має той самий розмір, слід здійснити такі операції:

```
>>A=[1 -2 3; 5 2 7; -3 8 9] <Enter>
A =
     1    -2     3
     5     2     7
    -3     8     9
```

```
>>B=[4;3;-2] <Enter>
```

```
B =  
    4  
    3  
   -2
```

```
>>A(:,1)=B <Enter>
```

```
A =  
    4   -2    3  
    3    2    7  
   -2    8    9
```

**Зауваження:** двокрапка в операторі матриці, яка стоїть на першому місці, означає, що беруть усі елементи того стовпця, номер якого стоїть на другому місці.

Наприклад,  $A(:, 3)$  є третім стовпцем матриці  $A$ .

Аналогічно, якщо слід звернутися до  $i$ -го рядка матриці  $A$ , то набираймо  $A(i, :)$ , що визначає вектор-рядок.

Наприклад, якщо матриця має такий вигляд:

```
A =  
    4   -2    3  
    3    2    7  
   -2    8    9,
```

то звернення до її третього рядка буде мати такий вигляд:

```
>>A(3,:) <Enter>
```

```
ans =  
   -2    8    9
```

Цьому рядку можна призначити ідентифікатор, що дозволяє використати його для подальших розрахунків:

```
>>b=A(3,:) <Enter>
```

```
b =  
   -2    8    9
```

Якщо призначити ідентифікатори всім рядкам:

```
>>b1=A(1,:); b2=A(2,:); b3=A(3,:) <Enter>,
```

то матрицю  $A$  можна записати в такому вигляді:

```
A=[b1; b2; b3]
```

Якщо призначити ідентифікатори всім стовпцям:

```
>>c1=A(:,1); c2=A(:,2); c3=A(:,3) <Enter>,
```

то матрицю  $A$  можна записати в такому вигляді:

```
A=[c1 c2 c3].
```

**Приклад 2.3.** Задано матрицю  $A = \begin{pmatrix} 1 & -2 & 3 \\ 5 & 2 & 7 \\ -3 & 8 & 9 \end{pmatrix}$ .

Замініть у матриці  $A$  елемент  $a_{22}$  на 6.

*Розв'язання.* Щоб змінити значення елемента наявної матриці, слід застосувати оператор призначення. Щоб замінити елемент  $a_{22}$ , який дорівнює 2, на 6, потрібно здійснити таку операцію:

```
>> A(2,2)=6 <Enter>
```

Маємо іншу матрицю:

```
A =  
 1  -2  3  
 5   6  7  
-3   8  9
```



*У цих прикладах слід звернути увагу на застосування крапки з комою та пробілів. Крапка з комою розділяє рядки матриці, а пробіли розділяють стовпці.*

**Приклад 2.4.** Задано матриці  $A = \begin{pmatrix} 2 & -1 \\ 0 & 12 \\ 4 & 6 \end{pmatrix}$ ,  $B = \begin{pmatrix} 10 & 3 \\ -2 & 5 \\ 15 & 1 \end{pmatrix}$ .

Визначте матриці  $C = A + B$ ,  $D = 2A - B$ .

*Розв'язання.* Спочатку напишімо їх у системі GNU Octave:

```
>>A=[2 -1; 0 12; 4 6] <Enter>
```

```
A =  
    2    -1  
    0   12  
    4     6
```

```
>>B=[10 3; -2 5; 15 1] <Enter>
```

```
B =  
   10     3  
   -2     5  
   15     1
```

Для обчислення суми  $C = A + B$  вводьмо в командному рядку:

```
>>C=A+B <Enter>
```

та маємо результат:

```
C =  
   12     2  
   -2   17  
   19     7
```

Тепер визначмо матрицю  $D = 2A - B$ :

```
>>D=2*A-B <Enter>
```

```
D =  
   -6    -5  
    2    19  
   -7    11
```

**Приклад 2.5.** Обчисліть добутки матриць  $AB$  та  $BA$ , якщо

$$A = \begin{pmatrix} 2 & 3 & -1 \\ 0 & 4 & -2 \end{pmatrix}, B = \begin{pmatrix} 3 & -1 \\ -2 & 4 \\ 5 & 0 \end{pmatrix}.$$

**Розв'язання.** Спочатку введемо матриці в системі GNU Octave:

```
>>A=[2 3 -1;0 4 -2] <Enter>
```

```
A =  
  2   3  -1  
  0   4  -2
```

```
>>B=[3 -1;-2 4;5 0] <Enter>
```

```
B =  
  3  -1  
 -2   4  
  5   0
```

Визначмо матрицю  $C = A \cdot B$ :

```
>>C=A*B <Enter>
```

```
C =  
  -5   10  
 -18   16
```

Визначмо матрицю  $D = B \cdot A$ :

```
>>D=B*A <Enter>
```

```
D =  
  6   5  -1  
 -4  10  -6  
 10  15  -5
```

## 2.2. Визначник матриці

Нагадаймо, що для квадратної матриці будь-якого порядку можна обчислити визначник (детермінант). Для обчислення визначника матриці в системі GNU Octave використовують спеціальну функцію  $\det(A)$ .

**Приклад 2.6.** Обчисліть визначник матриці:

$$\text{a) } A = \begin{pmatrix} 2 & -1 & -1 \\ 3 & 4 & -2 \\ 3 & -2 & 4 \end{pmatrix}, \text{ b) } B = \begin{pmatrix} 2 & 3 & -3 & 4 \\ 2 & 1 & -1 & 2 \\ 6 & 2 & 1 & 0 \\ 2 & 3 & 0 & -5 \end{pmatrix}.$$

*Розв'язання:*

a) спочатку введемо матрицю в системі GNU Octave:

```
>>A=[2 -1 -1;3 4 -2;3 -2 4] <Enter>
```

```
A =
```

```
2  -1  -1
3   4  -2
3  -2   4
```

Тепер обчислимо її визначник:

```
>>det (A)
```

```
ans = 60.000
```

б) напишімо матрицю  $B$  в системі GNU Octave:

```
>>B=[2 3 -3 4;2 1 -1 2;6 2 1 0; 2 3 0 -5] <Enter>
```

```
B =
```

```
2   3  -3   4
2   1  -1   2
6   2   1   0
2   3   0  -5
```

Тепер обчислимо її визначник:

```
>>det (B)
```

```
ans = 48.000
```

**Приклад 2.7.** Визначте матрицю, обернену до матриці  $A$ , якщо

$$A = \begin{pmatrix} 3 & 4 & 2 \\ 5 & -6 & -4 \\ -4 & 5 & 3 \end{pmatrix}.$$

*Розв'язання.* Спочатку напишімо матрицю в системі GNU Octave:

```
>>A=[3 4 2;5 -6 -4;-4 5 3] <Enter>
```

```
A =  
 3   4   2  
 5  -6  -4  
-4   5   3
```

Тепер визначмо обернену матрицю  $A^{-1}$ :

```
>>iA=inv(A) <Enter>
```

```
iA =  
 0.166667  -0.166667  -0.333333  
 0.083333   1.416667   1.833333  
 0.083333  -2.583333  -3.166667
```

Можна записати елементи матриці у вигляді звичайних дробів. Для цього слід скористатися командою `rats(iA)`.

```
>>iAR=rats(iA) <Enter>
```

```
iAR =  
 1/6      -1/6      -1/3  
 1/12     17/12     11/6  
 1/12     -31/12    -19/6
```

## 2.3. Системи лінійних алгебраїчних рівнянь

Розв'язання систем лінійних алгебраїчних рівнянь (СЛАР) є одним із завдань обчислювальної математики, які використовують в інженерній практиці, прикладних методах математичної статистики й економіки, процедурах аналізу та синтезу фізичних систем різної природи та багатьох інших розділах сучасної науки. Навіть якщо досліджувана система

є нелінійною, то типовий метод її чисельного аналізу полягає в лінеаризації та приводить до розв'язання систем лінійних рівнянь.

У табл. 2.2 наведено опис окремих функцій середовища GNU Octave, які можуть бути застосованими під час розв'язання СЛАР.

Таблиця 2.2

### Функції, що використовують під час розв'язання СЛАР

Функції	Описи
1	2
cond (A)	<p>Обчислення числа обумовленості.</p> <p>Можливість обчислювати розв'язок лінійних рівнянь визначають <i>числом обумовленості</i> (число обумовленості – величина, що характеризує точність розв'язку, визначеного чисельним методом). Якщо воно порівняно з точністю обчислювань (GNU Octave виконує обчислення з подвійною точністю, тримаючи 16 значущих цифр), то відповідь, мабуть, буде неправильною.</p> <p>Наприклад:</p> <pre>&gt;&gt;A=[2 -1 3;4 -5 6;-8 10 -12] A =      2     -1     3      4     -5     6     -8     10    -12  &gt;&gt;cond (A) ans =  2.5728e+017</pre>
rank (A)	<p>Обчислення рангу матриці.</p> <p>Наприклад:</p> <pre>&gt;&gt;A=[3 -1 1;1 1 -4;-3 1 -5] A =      3     -1     1      1     1    -4     -3     1    -5  &gt;&gt;rank (A) ans =      3</pre>

1	2
[A B]	<p>Утворення матриці, кількість стовпців якої дорівнює сумарній кількості стовпців матриць <math>A</math> і <math>B</math>. Водночас кількість рядків матриць <math>A</math> і <math>B</math> має бути однаковою, і стільки саме рядків буде мати результативна матриця.</p> <p>Наприклад:</p> <pre>&gt;&gt;V=[9 8;-1 2;7 3] % визначено матрицю B V =      9     8     -1     2      7     3 &gt;&gt;[A B] ans =      2    -1     3     9     8      4    -5     6    -1     2     -8    10   -12     7     3</pre>
[A; B]	<p>Утворення матриці, кількість рядків якої дорівнює сумарній кількості рядків матриць <math>A</math> і <math>B</math>. Водночас кількість стовпців матриць <math>A</math> і <math>B</math> має бути однаковою, і стільки саме стовпців буде мати результативна матриця.</p> <p>Наприклад:</p> <pre>&gt;&gt;C=[9 8 -1;-1 2 0] C =      9     8    -1     -1     2     0 &gt;&gt;[A;C] ans =      2    -1     3      4    -5     6     -8    10   -12      9     8    -1     -1     2     0</pre>
<p><math>A(:, j) = []</math> або <math>A(i, :) = []</math></p>	<p>Усунення з матриці <math>A</math> <math>j</math>-го стовпця або ж <math>i</math>-го рядка.</p> <p>Наприклад:</p> <pre>&gt;&gt;A=[2 -1 3;4 -5 6;-8 10 -12] % визначено матрицю A</pre>

1	2
	<pre> A =      2     -1     3      4     -5     6     -8     10    -12 &gt;&gt; A(:,3)=[] % усунено 3-й стовпець A =      2     -1      4     -5     -8     10 &gt;&gt; A(2,:)=[] % після усунення 3-го стовпця усунено                 2-й % рядок A =      2     -1     -8     10 </pre>
<p><math>A(:,j)</math> або <math>A(i,:)</math></p>	<p><b>Вибір j-го стовпця або i-го рядка матриці.</b> <b>Наприклад:</b></p> <pre> &gt;&gt;A=[2 -1 3;4 -5 6;-8 10 -12] % визначено матрицю A A =      2     -1     3      4     -5     6     -8     10    -12 &gt;&gt;A(:,1) % вибираймо 1-й стовпець ans =      2      4     -8 &gt;&gt;A(2,:) % вибираймо 2-й рядок ans =      4     -5     6 &gt;&gt;A(:,1:2) % вибираймо 1-й та 2-й стовпці ans =      2     -1      4     -5     -8     10 &gt;&gt; A(2:3,:) % вибираймо 2-й та 3-й рядки ans =      4     -5     6     -8     10    -12 </pre>

**Приклад 2.8.** Дослідіть систему лінійних алгебраїчних систем на сумісність

$$\begin{cases} 3x_1 + 4x_2 + 2x_3 = 5, \\ 5x_1 - 6x_2 - 4x_3 = -3, \\ -4x_1 + 5x_2 + 3x_3 = 1. \end{cases}$$

**Розв'язання.** Визначаймо матрицю системи – матрицю коефіцієнтів за невідомих та матрицю-стовпець правих частин:

```
>>A=[3 4 2;5 -6 -4;-4 5 3] <Enter>
```

```
A =  
 3     4     2  
 5    -6    -4  
 -4     5     3
```

```
>>B=[5; -3; 1]<Enter>
```

```
B =  
 5  
 -3  
 1
```

Для перевірки на сумісність першої системи скористаймося *теоремою Кронекера – Капеллі*:

система лінійних рівнянь є сумісною тоді й тільки тоді, коли ранг її основної матриці дорівнює рангу розширеної матриці; система має єдиний розв'язок, якщо ранг дорівнює кількості невідомих, і має безліч розв'язків, якщо ранги матриці системи та розширеної матриці є меншими від кількості змінних.

СЛАР є несумісною, якщо ранг її основної матриці не дорівнює рангу розширеної матриці.

За допомогою функції `rank` визначмо ранг матриці системи:

```
>>rank(A) <Enter>  
ans = 3
```

тепер сформуємо розширену матрицю системи та обчислімо її ранг:

```
>>[A B] <Enter>  
ans =
```

```
 3   4   2   5  
 5  -6  -4  -3  
-4   5   3   1
```

```
>>rank([A B]) <Enter>  
ans = 3
```

**Висновок:** оскільки ранг матриці СЛАР дорівнює рангу розширеної матриці й дорівнює кількості змінних, то за теоремою Кронекера – Капеллі СЛАР є сумісною та має єдиний розв’язок.

**Приклад 2.9.** Дослідіть систему лінійних алгебраїчних рівнянь на сумісність

$$\begin{cases} 2x_1 - x_2 + 2x_3 = 5, \\ 4x_1 + 3x_2 - 4x_3 = 7, \\ 4x_1 + 8x_2 - 12x_3 = 3. \end{cases}$$

*Розв’язання.* Визначаймо відповідні системам матриці – матриці коефіцієнтів за невідомих і коефіцієнтів правих частин:

```
>>A=[2 -1 2;4 3 -4;4 8 -12] <Enter>
```

```
A =  
 2   -1   2  
 4    3  -4  
 4    8 -12
```

```
>>B=[5; 7; 3] <Enter>
```

```
B =  
 5  
 7  
 3
```

```
>>[A B] <Enter>
```

```
ans =  
  2   -1   2   5  
  4    3  -4   7  
  4    8 -12   3
```

```
>>rank(A) <Enter>  
ans = 2
```

```
>>rank([A B]) <Enter>  
ans = 3
```

**Висновок:** оскільки ранг матриці СЛАР не дорівнює рангу розширеної матриці, то за теоремою Кронекера – Капеллі СЛАР є несумісною та не має розв’язків.

### Метод Крамера розв’язання СЛАР

*Теорема (правило Крамера).*

1. Якщо визначник матриці системи  $\Delta \neq 0$ , то СЛАР має єдиний розв’язок, який можна обчислити за допомогою таких формул Крамера:

$$x_1 = \frac{\Delta_1}{\Delta}, x_2 = \frac{\Delta_2}{\Delta}, \dots, x_n = \frac{\Delta_n}{\Delta},$$

де  $\Delta_1, \Delta_2, \dots, \Delta_n$  – визначники, які утворюють із визначника системи шляхом заміни першого, другого, ... та  $n$ -го стовпця, відповідно, стовпцем вільних членів.

2. Якщо визначник матриці системи  $\Delta = 0$ , та  $\Delta_1 = \Delta_2 = \dots = \Delta_n = 0$ , то СЛАР має безліч розв’язків, тобто є невизначеною.

3. Якщо визначник матриці системи  $\Delta = 0$ , та хоча б один із визначників  $\Delta_1, \Delta_2, \dots, \Delta_n$  відмінний від нуля, то СЛАР не має жодного розв’язку, тобто є несумісною.

**Приклад 2.10.** Розв’яжіть СЛАР методом Крамера:

$$\begin{cases} 3x_1 + 4x_2 + 2x_3 = 5, \\ 5x_1 - 6x_2 - 4x_3 = -3, \\ -4x_1 + 5x_2 + 3x_3 = 1. \end{cases}$$

**Розв'язання.** Обчислимо визначник основної матриці системи:

```
>>A=[3 4 2;5 -6 -4;-4 5 3] <Enter>
```

```
A =  
    3     4     2  
    5    -6    -4  
   -4     5     3
```

```
>> D=det(A) <Enter>
```

```
D = 12.000
```

```
>>B=[5;-3;1] <Enter>
```

```
B =  
    5  
   -3  
    1
```

```
>>D1=[B A(:,2:3)] %1-й стовпець A замінили на B <Enter>
```

```
ans =  
    5     4     2  
   -3    -6    -4  
    1     5     3
```

```
>>Dx1=det(D1) <Enter>
```

```
Dx1 = 12.000
```

```
>>D2=[A(:,1) B A(:,3)] % 2-й стовпець A замінили на B
```

```
D2 =  
    3     5     2  
    5    -3    -4  
   -4     1     3
```

```
>>Dx2=det(D2) <Enter>
```

```
Dx2 = -24.000
```

```
>>D3=[A(:,1:2) B] % 3-й стовпець A замінили на B
```

```

D3 =
    3    4    5
    5   -6   -3
   -4    5    1

>>Dx3=det(D3) <Enter>
Dx3 = 60.000

>>X=[Dx1;Dx2;Dx3]/D % обчислімо розв'язок <Enter>
X =
    1.0000
   -2.0000
    5.0000

```

Для того щоб перевірити правильність виконаних розрахунків, достатньо підставити обчислені значення змінних у початкову систему.

Якщо для кожного рівняння ліва частина збігається із правою, то розв'язок знайдено правильно. Для виконання перевірки в середовищі GNU Octave достатньо знайти добуток матриці системи та стовпця невідомих. Якщо цей добуток збігається зі стовпцем вільних членів, то розв'язок СЛАР знайдено правильно.

Для наведеного прикладу перевірка має такий вигляд:

```

>>A*X % перевірка <Enter>
ans =
    5.0000
   -3.0000
    1.0000

```

### Метод оберненої матриці розв'язання СЛАР

Метод оберненої матриці можна застосовувати тільки у випадках, коли визначник матриці системи не дорівнює нулю.

Тоді розв'язок системи обчислюймо за такою формулою:

$$X = A^{-1}B.$$

Для визначення оберненої матриці використовуймо спеціальну функцію `inv`.

**Приклад 2.11.** Розв'яжіть систему рівнянь, наведену в прикладі 2.3, методом оберненої матриці.

*Розв'язання.* Оскільки визначник матриці системи дорівнює 12 та не дорівнює нулю, то розв'язання методом оберненої матриці є можливим.

Визначмо  $A^{-1}$ , що є оберненою до матриці  $A$ :

```
>>A=[3 4 2;5 -6 -4;-4 5 3] % матриця системи A
```

```
A =  
    3     4     2  
    5    -6    -4  
   -4     5     3
```

```
>>B=[5;-3;1] % стовпець вільних членів B
```

```
B =  
    5  
   -3  
    1
```

```
>>iA=inv(A) % обернена матриця
```

```
iA =  
    0.166667   -0.166667   -0.333333  
    0.083333    1.416667    1.833333  
    0.083333   -2.583333   -3.166667
```

```
>>A*iA % перевірка правильності обчислень
```

```
ans =  
    1.0000    0.0000    0.0000  
    0.0000    1.0000    0.0000  
         0    0.0000    1.0000
```

```
>>X=iA*B % обчислімо розв'язок
```

```
X =  
    1.0000  
   -2.0000  
    5.0000
```

## 2.4. Завдання для самостійної роботи

1. Визначте в середовищі GNU Octave матриці  $A$  та  $B$  розміром  $3 \times 3$ . Виконайте зазначені дії над ними. Обчисліть матрицю  $A^T$ . Обчисліть визначники матриць  $A$  та  $A^T$ . Зробіть висновок. Перевірте, чи має матриця  $B$  обернену  $B^{-1}$ . Якщо має, то обчисліть її. Зробіть перевірку. Доведіть виконання рівності  $(A \cdot B)^T = B^T \cdot A^T$ .

2. Обчисліть визначники заданих матриць.

3. Розв'яжіть систему лінійних алгебраїчних рівнянь методом Крамера в середовищі GNU Octave та зробіть перевірку правильності.

4. Розв'яжіть систему лінійних алгебраїчних рівнянь методом оберненої матриці в середовищі GNU Octave та зробіть перевірку правильності.

5. Дослідіть систему лінійних алгебраїчних рівнянь на сумісність за допомогою теореми Кронекера – Капеллі в середовищі GNU Octave, зробіть висновок.

### Варіант 1

1.  $A(A^2 - B) - 2(B + A)B$ , якщо  $A = \begin{pmatrix} 2 & 3 & 1 \\ -1 & 2 & 4 \\ 5 & 3 & 0 \end{pmatrix}$ ,  $B = \begin{pmatrix} 2 & 7 & 13 \\ -1 & 0 & 15 \\ 5 & 13 & 21 \end{pmatrix}$ .

2. а)  $\begin{vmatrix} 4 & 3 & 1 & 2 \\ 3 & 4 & 3 & 2 \\ 3 & 2 & 1 & 4 \\ 2 & 4 & 2 & 3 \end{vmatrix}$ ; б)  $\begin{vmatrix} -1 & 1 & 3 & 4 & 0 \\ -1 & 0 & 3 & -2 & 2 \\ 2 & 1 & 2 & -3 & 1 \\ 1 & 2 & -1 & 1 & 5 \\ 1 & 2 & 3 & -2 & 0 \end{vmatrix}$ .

3.  $\begin{cases} x_1 + x_2 - 2x_3 = 6, \\ 2x_1 + 3x_2 - 7x_3 = 16, \\ 5x_1 + 2x_2 + x_3 = 16. \end{cases}$

4.  $\begin{cases} 2x_1 - 3x_2 + 5x_3 + x_4 = -7, \\ -x_1 + x_2 + 4x_3 - 2x_4 = 1, \\ 5x_1 + 2x_2 - 3x_3 + 6x_4 = 5, \\ -2x_1 + 5x_2 + x_3 - 7x_4 = 5. \end{cases}$

$$5. \begin{cases} x_1 + 2x_2 - x_3 + x_4 = 1, \\ 3x_1 + x_2 + 2x_3 - x_4 = 2, \\ 2x_1 + 3x_2 - x_3 + 3x_4 = -1, \\ 4x_1 + 2x_2 + 2x_3 + x_4 = 3. \end{cases}$$

### Варіант 2

$$1. A(2A+B) - B(A-B), \text{ якщо } A = \begin{pmatrix} 2 & 3 & 1 \\ 4 & -1 & 0 \\ 0 & 1 & 2 \end{pmatrix}, B = \begin{pmatrix} 9 & 8 & 7 \\ 2 & 7 & 3 \\ 4 & 3 & 5 \end{pmatrix}.$$

$$2. \text{ а) } \begin{vmatrix} 1 & 3 & 5 & 7 \\ 3 & 5 & 7 & 1 \\ 5 & 7 & 1 & 3 \\ 7 & 1 & 3 & 5 \end{vmatrix}; \text{ б) } \begin{vmatrix} 1 & 2 & -3 & 4 & -1 \\ 2 & -1 & 3 & -4 & 2 \\ 3 & 1 & -1 & 2 & -1 \\ 4 & 3 & 4 & 2 & 2 \\ 1 & -1 & -1 & 2 & -3 \end{vmatrix}.$$

$$3. \begin{cases} x_1 - 2x_2 + 3x_3 = 6, \\ 2x_1 + 3x_2 - 4x_3 = 16, \\ 3x_1 - 2x_2 - 5x_3 = 12. \end{cases} \quad 4. \begin{cases} 2x_1 + 3x_2 + 4x_3 + 5x_4 = -2, \\ 3x_1 + x_2 + 2x_3 + 4x_4 = 1, \\ 4x_1 + 6x_2 + 3x_3 + 7x_4 = 1, \\ 5x_1 + 2x_2 + x_3 + 4x_4 = 4. \end{cases}$$

$$5. \begin{cases} 8x_1 + 6x_2 - x_3 - x_4 = 12, \\ x_1 - 3x_2 + 2x_3 + 2x_4 = 2, \\ x_1 + 2x_2 + x_3 - 4x_4 = 0, \\ 6x_1 + 7x_2 - 4x_3 + x_4 = 0, \\ 6x_1 + 2x_2 - 3x_3 + 7x_4 = 12. \end{cases}$$

### Варіант 3

$$1. 2AB - (A+B)(A-B), \text{ якщо } A = \begin{pmatrix} 4 & -2 & 0 \\ 1 & 1 & 2 \\ 3 & -2 & 0 \end{pmatrix}, B = \begin{pmatrix} 0 & -2 & 6 \\ 2 & 4 & 3 \\ 0 & -3 & 4 \end{pmatrix}.$$

$$2. \text{ а) } \begin{vmatrix} 2 & -3 & 1 & 4 \\ 3 & 1 & 2 & 4 \\ 1 & 2 & 3 & 4 \\ 3 & 2 & 4 & 2 \end{vmatrix}; \text{ б) } \begin{vmatrix} 1 & 2 & 1 & 0 & 2 \\ 2 & 1 & 0 & 2 & -1 \\ 1 & 0 & 1 & 1 & 2 \\ 0 & 2 & -1 & -1 & 0 \\ 2 & -1 & 2 & 2 & 1 \end{vmatrix}.$$

$$3. \begin{cases} 2x_1 - x_2 + 3x_3 = 7, \\ x_1 + 3x_2 - 2x_3 = 0, \\ 2x_2 - x_3 = 0. \end{cases} \quad 4. \begin{cases} 2x_1 + 3x_2 + 4x_3 + 5x_4 = 14, \\ 3x_1 + x_2 + 2x_3 + 4x_4 = 10, \\ 4x_1 + 6x_2 + 3x_3 + 7x_4 = 20, \\ 5x_1 + 2x_2 + x_3 + 4x_4 = 12. \end{cases}$$

$$5. \begin{cases} x_1 + 3x_2 - 2x_3 - x_4 = -1, \\ 5x_1 - 3x_2 - x_3 + 3x_4 = 3, \\ 3x_1 + 2x_2 - 5x_3 - 4x_4 = 1, \\ 13x_1 - 4x_2 - 7x_3 + 2x_4 = 7, \\ 2x_1 - 5x_2 + 4x_3 + 7x_4 = 2. \end{cases}$$

#### Варіант 4

$$1. 2A + 3B(AB - 2A), \text{ якщо } A = \begin{pmatrix} 1 & -1 & 0 \\ 2 & 0 & -1 \\ 1 & 1 & 1 \end{pmatrix}, \quad B = \begin{pmatrix} 5 & 3 & -1 \\ -1 & 2 & 0 \\ -3 & 0 & 0 \end{pmatrix}.$$

$$2. \text{ а) } \begin{vmatrix} 2 & 4 & 3 & 5 \\ 3 & -2 & 5 & 4 \\ 5 & 4 & 2 & -3 \\ 4 & 3 & 4 & -2 \end{vmatrix}; \text{ б) } \begin{vmatrix} 4 & 1 & 3 & 2 & 5 \\ 2 & 3 & 0 & 4 & 1 \\ 1 & 2 & 1 & 0 & 3 \\ 1 & 2 & 0 & 3 & 1 \\ 4 & 3 & 1 & 0 & 2 \end{vmatrix}.$$

$$3. \begin{cases} 2x_1 + x_2 + 4x_3 = 20, \\ 2x_1 - x_2 - 3x_3 = 3, \\ 3x_1 + 4x_2 - 5x_3 = -8. \end{cases} \quad 4. \begin{cases} x_1 + 2x_2 + 3x_3 + 4x_4 = 7, \\ x_1 + 2x_3 + 2x_4 = 5, \\ 4x_1 + x_2 - x_3 = 3, \\ 2x_1 + x_2 + x_3 = 1. \end{cases}$$

$$5. \begin{cases} 2x_1 + x_2 + 2x_3 - 2x_4 - 3x_5 = 8, \\ x_1 - 2x_2 + 3x_3 - x_4 + 2x_5 = 2, \\ 3x_1 - x_2 + 5x_3 - 3x_4 - x_5 = 6. \end{cases}$$

### Варіант 5

$$1. 2A - AB(B - A) + B, \text{ якщо } A = \begin{pmatrix} 3 & 2 & -1 \\ 0 & -1 & 2 \\ 5 & 7 & 1 \end{pmatrix}, B = \begin{pmatrix} 0 & 3 & -1 \\ 2 & -1 & 2 \\ -3 & 1 & 4 \end{pmatrix}.$$

$$2. \text{ а) } \begin{vmatrix} 1 & 2 & 3 & 4 \\ 0 & 1 & 2 & 3 \\ -1 & 0 & 1 & 2 \\ -2 & -1 & 0 & 1 \end{vmatrix}; \quad \text{ б) } \begin{vmatrix} 2 & 1 & 3 & -1 & 1 \\ 1 & -2 & 1 & 3 & -1 \\ 3 & 4 & 5 & -5 & 3 \\ 1 & 3 & 2 & -4 & 2 \\ 5 & -5 & 6 & 8 & -2 \end{vmatrix}.$$

$$3. \begin{cases} x_1 + 5x_2 - x_3 = 7, \\ 2x_1 - x_2 - x_3 = 4, \\ 3x_1 - 2x_2 + 4x_3 = 11. \end{cases} \quad 4. \begin{cases} x_1 + 2x_2 + 3x_3 + 4x_4 = 0, \\ 7x_1 + 14x_2 + 20x_3 + 27x_4 = 0, \\ 5x_1 + 10x_2 + 16x_3 + 19x_4 = -2, \\ 3x_1 + 5x_2 + 6x_3 + 13x_4 = 5. \end{cases}$$

$$5. \begin{cases} 3x_1 + x_2 - 2x_3 + 4x_4 - x_5 = 1, \\ x_1 - 3x_2 + x_3 - 2x_4 + 2x_5 = -2, \\ x_1 + 7x_2 - 4x_3 + 8x_4 - 5x_5 = 5, \\ 5x_1 + 5x_2 - 5x_3 + 10x_4 = 4. \end{cases}$$

### Варіант 6

1.  $2AB - (A+B)(A-B)$ , якщо  $A = \begin{pmatrix} 3 & 4 & 5 \\ -1 & 0 & 2 \\ -2 & -1 & 0 \end{pmatrix}$ ,  $B = \begin{pmatrix} 0 & 1 & -2 \\ -1 & 1 & 2 \\ 3 & -1 & 0 \end{pmatrix}$ .

2. а)  $\begin{vmatrix} 1 & -1 & 0 & 3 \\ 3 & 2 & 1 & -1 \\ 1 & 2 & -3 & 3 \\ 4 & 0 & 1 & 2 \end{vmatrix}$ ; б)  $\begin{vmatrix} 5 & 3 & 2 & 6 & -1 \\ 3 & 5 & 2 & 5 & 0 \\ 3 & 9 & 3 & 10 & 2 \\ 10 & 2 & 3 & 7 & 1 \\ 1 & -1 & 0 & 2 & 1 \end{vmatrix}$ .

3.  $\begin{cases} x_1 + 5x_2 - x_3 = 7, \\ 2x_1 - x_2 - x_3 = 4, \\ 3x_1 - 2x_2 + 4x_3 = 11. \end{cases}$

4.  $\begin{cases} 3x_1 + 4x_2 - 2x_3 + 5x_4 = 10, \\ 2x_1 + 3x_2 + 5x_3 - 4x_4 = -2, \\ 4x_1 + 5x_2 - 4x_3 - 3x_4 = -7, \\ 5x_1 + 3x_2 + 2x_3 - 5x_4 = -1. \end{cases}$

5.  $\begin{cases} 9x_1 - 3x_2 + 5x_3 + 6x_4 = 4, \\ 6x_1 - 2x_2 + 3x_3 + 4x_4 = 5, \\ 3x_1 - x_2 + 3x_3 + 14x_4 = -8. \end{cases}$

### Варіант 7

1.  $A^2 - (A+B)(A-3B)$ , якщо  $A = \begin{pmatrix} 4 & 5 & 6 \\ -1 & 0 & 3 \\ -1 & 2 & -1 \end{pmatrix}$ ,  $B = \begin{pmatrix} 0 & -1 & 2 \\ 1 & 0 & -2 \\ 3 & 1 & 2 \end{pmatrix}$ .

2. а)  $\begin{vmatrix} -1 & 2 & 4 & -2 \\ 3 & 1 & 0 & -1 \\ 4 & 3 & 2 & -3 \\ 3 & 0 & 4 & 1 \end{vmatrix}$ ; б)  $\begin{vmatrix} 1 & 1 & 1 & 3 & 1 \\ 1 & 1 & 1 & 1 & 4 \\ 1 & 1 & 3 & 1 & 1 \\ 2 & 1 & 1 & 1 & 1 \\ 1 & 2 & 1 & 1 & 1 \end{vmatrix}$ .

$$3. \begin{cases} 7x_1 + 2x_2 + 3x_3 = 15, \\ 5x_1 - 3x_2 + 2x_3 = 15, \\ 10x_1 - 11x_2 + 5x_3 = 36. \end{cases}$$

$$4. \begin{cases} 3x_1 - 2x_2 + x_3 - x_4 = -11, \\ x_1 + 3x_2 - x_3 + 2x_4 = 14, \\ 5x_1 - x_2 + 3x_3 + x_4 = 1, \\ 4x_1 - 2x_2 + 5x_3 + 2x_4 = 7. \end{cases}$$

$$5. \begin{cases} x_1 + 8x_2 + 2x_3 = 13, \\ x_1 + x_2 + 5x_3 = -7, \\ 2x_1 + 3x_2 - 3x_3 = 14, \\ 2x_1 + x_2 + x_3 = 2, \\ x_1 + 3x_2 + x_3 = 5, \\ 6x_1 + 9x_2 + 13x_3 = -2. \end{cases}$$

### Варіант 8

$$1. B(A + 2B) - 3AB, \text{ якщо } A = \begin{pmatrix} 7 & -3 & 0 \\ 1 & -1 & 0 \\ 2 & 0 & 3 \end{pmatrix}, \quad B = \begin{pmatrix} -4 & 2 & 1 \\ 1 & 0 & 1 \\ 3 & 2 & 1 \end{pmatrix}.$$

$$2. \text{ а) } \begin{vmatrix} 4 & 3 & 3 & 1 \\ 3 & 4 & 3 & 2 \\ 3 & 2 & 1 & 4 \\ 2 & 4 & 2 & 3 \end{vmatrix}; \quad \text{ б) } \begin{vmatrix} -1 & 1 & 3 & 4 & 0 \\ -1 & 0 & 3 & -2 & 2 \\ 2 & 1 & 2 & -3 & 1 \\ 1 & 2 & -1 & 1 & 5 \\ 1 & 2 & 3 & -2 & 0 \end{vmatrix}.$$

$$3. \begin{cases} 7x_1 + 5x_2 + 2x_3 = 18, \\ x_1 - x_2 - x_3 = 3, \\ x_1 + x_2 + 2x_3 = -2. \end{cases}$$

$$4. \begin{cases} 5x_1 + 2x_2 + x_3 + 4x_4 = 4, \\ 4x_1 + 6x_2 - 3x_3 + 7x_4 = 1, \\ 3x_1 + x_2 + 2x_3 + 4x_4 = 1, \\ 2x_1 + 3x_2 + 4x_3 + 5x_4 = -2. \end{cases}$$

$$5. \begin{cases} 2x_1 + x_2 - x_3 - 3x_4 = 2, \\ 4x_1 + x_3 - 7x_4 = 3, \\ 2x_2 - 3x_3 + x_4 = 1, \\ 2x_1 + 3x_2 - 4x_3 - 2x_4 = 3. \end{cases}$$

### Варіант 9

$$1. 2(A+B)(2B-A), \text{ якщо } A = \begin{pmatrix} 2 & 3 & -1 \\ 4 & 5 & 2 \\ -1 & 0 & 7 \end{pmatrix}, \quad B = \begin{pmatrix} -1 & 0 & 5 \\ 0 & 1 & 3 \\ 2 & -2 & 4 \end{pmatrix}.$$

$$2. \text{ а) } \begin{vmatrix} 3 & 1 & 1 & 1 \\ 1 & 3 & 1 & 1 \\ 1 & 1 & 3 & 1 \\ 1 & 1 & 1 & 3 \end{vmatrix}; \quad \text{ б) } \begin{vmatrix} 2 & 1 & 1 & 1 & 1 \\ 1 & 3 & 1 & 1 & 1 \\ 1 & 1 & 4 & 1 & 1 \\ 1 & 1 & 1 & 5 & 1 \\ 1 & 1 & 1 & 1 & 6 \end{vmatrix}.$$

$$3. \begin{cases} 5x_1 + 8x_2 - x_3 = -1, \\ x_1 + 2x_2 + 3x_3 = 9, \\ 2x_1 - 3x_2 + 2x_3 = 13. \end{cases} \quad 4. \begin{cases} x_1 + 2x_2 + 3x_3 - 2x_4 = 6, \\ 2x_1 - x_2 - 2x_3 - 3x_4 = 8, \\ 3x_1 + 2x_2 - x_3 + 2x_4 = 4, \\ 2x_1 - 3x_2 + 2x_3 + x_4 = -8. \end{cases}$$

$$5. \begin{cases} x_1 + x_2 + x_3 + x_4 = 1, \\ 2x_1 - x_2 + x_3 - x_4 = 0, \\ 5x_1 + 3x_2 - x_3 + x_4 = 0, \\ 7x_1 + 2x_2 - x_3 - x_4 = 0, \\ x_1 - x_2 - 2x_3 = 0. \end{cases}$$

### Варіант 10

$$1. 3A - (A + 2B)B, \text{ якщо } A = \begin{pmatrix} 4 & 5 & -2 \\ 3 & -1 & 0 \\ 4 & 2 & 7 \end{pmatrix}, \quad B = \begin{pmatrix} 2 & 1 & -1 \\ 0 & 1 & 3 \\ 5 & 7 & 3 \end{pmatrix}.$$

$$2. \text{ а) } \begin{vmatrix} 1 & 1 & 1 & 1 \\ 1 & 2 & 3 & 4 \\ 1 & 3 & 6 & 10 \\ 1 & 4 & 10 & 20 \end{vmatrix}; \quad \text{б) } \begin{vmatrix} 5 & 6 & 0 & 0 & 0 \\ 1 & 5 & 6 & 0 & 0 \\ 0 & 1 & 5 & 6 & 0 \\ 0 & 0 & 1 & 5 & 6 \\ 0 & 0 & 0 & 1 & 5 \end{vmatrix}.$$

$$3. \begin{cases} x_1 + 2x_2 + x_3 = 4, \\ 3x_1 + 5x_2 - 7x_3 = 1, \\ 2x_1 + 7x_2 - x_3 = 8. \end{cases} \quad 4. \begin{cases} x_1 + 2x_2 + 3x_3 + 4x_4 = 5, \\ 2x_1 + x_2 + 2x_3 + 3x_4 = 1, \\ 3x_1 + 2x_2 + x_3 + 2x_4 = 1, \\ 4x_1 + 3x_2 + 2x_3 + x_4 = -5. \end{cases}$$

$$5. \begin{cases} 2x_1 - 3x_2 + 4x_3 - x_4 = 1, \\ x_1 + x_2 + x_3 = 0, \\ 5x_1 - 2x_2 + x_3 - x_4 = 0. \end{cases}$$

### Варіант 11

$$1. 2(A-B)(A^2+B), \text{ якщо } A = \begin{pmatrix} 5 & 1 & 7 \\ -10 & -2 & 1 \\ 0 & 1 & 2 \end{pmatrix}, \quad B = \begin{pmatrix} 2 & 4 & 1 \\ 3 & 1 & 0 \\ 7 & 2 & 1 \end{pmatrix}.$$

$$2. \text{ а) } \begin{vmatrix} 1 & 2 & 3 & 4 \\ 2 & 3 & 4 & 1 \\ 3 & 4 & 1 & 2 \\ 4 & 1 & 2 & 3 \end{vmatrix}; \quad \text{б) } \begin{vmatrix} 1 & 2 & 3 & 4 & 5 \\ 6 & 7 & 8 & 9 & 10 \\ 11 & 12 & 13 & 14 & 15 \\ 16 & 17 & 18 & 19 & 20 \\ 21 & 22 & 23 & 24 & 25 \end{vmatrix}.$$

$$3. \begin{cases} 3x_1 + 2x_2 + x_3 = 5, \\ 2x_1 + 3x_2 + x_3 = 1, \\ 2x_1 + x_2 - 3x_3 = 11. \end{cases} \quad 4. \begin{cases} x_2 - 3x_3 + 4x_4 = -5, \\ x_1 + \quad - 2x_3 + 3x_4 = -4, \\ 3x_1 + 2x_2 \quad - 5x_4 = 12, \\ 4x_1 + 3x_2 - 5x_3 \quad = 5. \end{cases}$$

$$5. \begin{cases} x_1 + x_2 - 3x_3 = -1, \\ 2x_1 + x_2 - 2x_3 = 1, \\ x_1 + x_2 + x_3 = 3, \\ x_1 + 2x_2 - 3x_3 = 1. \end{cases}$$

### Варіант 12

$$1. (A^2 - B^2)(A + B), \text{ якщо } A = \begin{pmatrix} 7 & 2 & 0 \\ -7 & -2 & 1 \\ 1 & 1 & 1 \end{pmatrix}, \quad B = \begin{pmatrix} 0 & 2 & 3 \\ 1 & 0 & -2 \\ 3 & 1 & 1 \end{pmatrix}.$$

$$2. \text{ а) } \begin{vmatrix} 1 & 1 & 1 & 1 \\ 1 & 2 & 3 & 4 \\ 1 & 4 & 9 & 16 \\ 1 & 8 & 27 & 64 \end{vmatrix}; \quad \text{ б) } \begin{vmatrix} 3 & 1 & 5 & 1 & 6 \\ 4 & 0 & 1 & 1 & 4 \\ 1 & 2 & 1 & 0 & 0 \\ -2 & 2 & 3 & -3 & 0 \\ 1 & 6 & 15 & -2 & 8 \end{vmatrix}.$$

$$3. \begin{cases} x_1 + 2x_2 + 4x_3 = 31, \\ 5x_1 + x_2 + 2x_3 = 29, \\ 3x_1 - x_2 + x_3 = 10. \end{cases} \quad 4. \begin{cases} 2x_1 - x_2 + 3x_3 + 2x_4 = 4, \\ 3x_1 + 3x_2 + 3x_3 + 2x_4 = 6, \\ 3x_1 - x_2 - x_3 + 2x_4 = 6, \\ 3x_1 - x_2 + 3x_3 - x_4 = 6. \end{cases}$$

$$5. \begin{cases} 2x_1 + x_2 + x_3 = 2, \\ x_1 + 3x_2 + x_3 = 5, \\ x_1 + x_2 + 5x_3 = -7, \\ 2x_1 + 3x_2 - 3x_3 = 14. \end{cases}$$

### Варіант 13

$$1. (A - B^2)(2A + B), \text{ якщо } A = \begin{pmatrix} 5 & 2 & 0 \\ 10 & 4 & 1 \\ 7 & 3 & 2 \end{pmatrix}, \quad B = \begin{pmatrix} 3 & 6 & -1 \\ -1 & -2 & 0 \\ 2 & 1 & 3 \end{pmatrix}.$$

$$2. \text{ а) } \begin{vmatrix} 1 & 2 & 3 & 4 \\ -2 & 1 & -4 & 3 \\ 3 & -4 & -1 & 2 \\ 4 & 3 & -2 & -1 \end{vmatrix}; \quad \text{б) } \begin{vmatrix} 1 & 1 & 1 & 1 & 0 \\ 0 & 1 & 1 & 1 & 1 \\ 1 & 2 & 3 & 0 & 0 \\ 0 & 1 & 2 & 3 & 0 \\ 0 & 0 & 1 & 2 & 3 \end{vmatrix}.$$

$$3. \begin{cases} 4x_1 - 3x_2 + 2x_3 = 9, \\ 2x_1 + 5x_2 - 3x_3 = 4, \\ 5x_1 + 6x_2 - 2x_3 = 18. \end{cases} \quad 4. \begin{cases} x_1 + x_2 + x_3 + x_4 = 0, \\ x_2 + x_3 + x_4 + x_5 = 0, \\ x_1 + 2x_2 + 3x_3 = 1, \\ x_2 + 2x_3 + 3x_4 = -2, \\ x_3 + 2x_4 + 3x_5 = 2. \end{cases}$$

$$5. \begin{cases} x_1 + 3x_2 - 3x_3 = 2, \\ 2x_1 - 3x_2 + 4x_3 = -1, \\ 3x_1 + 2x_2 - x_3 = 4, \\ x_1 - 8x_2 + 9x_3 = -6. \end{cases}$$

### Варіант 14

$$1. (A - B)2A + 2B, \text{ якщо } A = \begin{pmatrix} 5 & -1 & 3 \\ 0 & 2 & -1 \\ -2 & -1 & 0 \end{pmatrix}, \quad B = \begin{pmatrix} 2 & 1 & -1 \\ 0 & 1 & 3 \\ 5 & 7 & 3 \end{pmatrix}.$$

$$2. \text{ а) } \begin{vmatrix} 5 & 1 & 2 & 4 \\ 4 & 6 & 3 & 7 \\ 3 & 1 & 2 & 4 \\ 2 & 3 & 4 & 5 \end{vmatrix}; \quad \text{б) } \begin{vmatrix} 2 & -4 & 1 & -2 & -1 \\ 5 & 3 & -6 & -1 & -2 \\ 3 & -1 & 1 & 4 & -3 \\ -1 & 2 & 3 & 1 & -5 \\ 1 & 1 & -2 & 3 & 1 \end{vmatrix}.$$

$$3. \begin{cases} 2x_1 - x_2 - x_3 = 4, \\ 3x_1 + 4x_2 - 2x_3 = 11, \\ 3x_1 - 2x_2 + 4x_3 = 11. \end{cases} \quad 4. \begin{cases} x_1 + 3x_2 + 5x_3 + 7x_4 = 12, \\ 3x_1 + 5x_2 + 7x_3 + x_4 = 0, \\ 5x_1 + 7x_2 + x_3 + 3x_4 = 4, \\ 7x_1 + x_2 + 3x_3 + 5x_4 = 16. \end{cases}$$

$$5. \begin{cases} x_1 - 2x_2 + 3x_3 - 4x_4 = 4, \\ x_2 - x_3 + x_4 = -3, \\ x_1 + 3x_2 - 3x_4 = 1, \\ -7x_2 + 3x_3 + x_4 = -3. \end{cases}$$

### Варіант 15

$$1. (A-B)A+3B, \text{ якщо } A = \begin{pmatrix} 3 & 2 & -5 \\ 4 & 2 & 0 \\ 1 & 1 & 2 \end{pmatrix}, \quad B = \begin{pmatrix} -1 & 2 & 4 \\ 0 & 3 & 2 \\ -1 & -3 & 4 \end{pmatrix}.$$

$$2. \text{ а) } \begin{vmatrix} 2 & 1 & 1 & -1 \\ 3 & -1 & 1 & 1 \\ 4 & 2 & 1 & -1 \\ 1 & 2 & 1 & 2 \end{vmatrix}; \quad \text{ б) } \begin{vmatrix} 1 & 2 & -1 & 1 & 1 \\ 3 & 1 & 2 & -1 & 2 \\ 2 & 3 & -1 & 3 & -1 \\ 4 & 2 & 2 & 1 & 3 \\ 2 & 1 & 3 & -7 & 1 \end{vmatrix}.$$

$$3. \begin{cases} x_1 + x_2 + 2x_3 = -1, \\ 2x_1 - x_2 + 2x_3 = -4, \\ 4x_1 + x_2 + 4x_3 = -2. \end{cases} \quad 4. \begin{cases} x_1 + 2x_2 + 3x_3 + 4x_4 = 5, \\ 2x_1 + x_2 + 2x_3 + 3x_4 = 1, \\ 3x_1 + 2x_2 + x_3 + 2x_4 = 1, \\ 4x_1 + 3x_2 + 2x_3 + x_4 = -5. \end{cases}$$

$$5. \begin{cases} 2x_1 + x_2 + 3x_3 - 7x_4 = 5, \\ x_1 - 2x_2 + 3x_3 - 4x_4 = 4, \\ x_2 - x_3 + x_4 = -3, \\ x_1 + 3x_2 - 3x_4 = 1. \end{cases}$$

**Варіант 16**

$$1. 2(A - 0,5B) + AB, \text{ якщо } A = \begin{pmatrix} 5 & 3 & -1 \\ 2 & 0 & 4 \\ 3 & 5 & -1 \end{pmatrix}, \quad B = \begin{pmatrix} 1 & 4 & 16 \\ -3 & -2 & 0 \\ 5 & 7 & 2 \end{pmatrix}.$$

$$2. \text{ а) } \begin{vmatrix} 4 & 5 & 2 & 1 \\ 1 & 4 & 6 & 3 \\ 1 & 3 & 1 & 2 \\ -2 & 2 & 3 & 4 \end{vmatrix}; \quad \text{ б) } \begin{vmatrix} 3 & 1 & 5 & 1 & 6 \\ 4 & 0 & 1 & 1 & 4 \\ 1 & 2 & 1 & 0 & 0 \\ -2 & 2 & 3 & -3 & 0 \\ 1 & 6 & 15 & -2 & 8 \end{vmatrix}.$$

$$3. \begin{cases} 3x_1 - x_2 = 5, \\ -2x_1 + x_2 + x_3 = 0, \\ 2x_1 - x_2 + 4x_3 = 15. \end{cases} \quad 4. \begin{cases} x_1 + x_2 + 2x_3 + 3x_4 = 1, \\ 3x_1 - x_2 - x_3 - 2x_4 = -4, \\ 2x_1 + 3x_2 - x_3 - x_4 = -6, \\ x_1 + 2x_2 + 3x_3 - 2x_4 = -5. \end{cases}$$

$$5. \begin{cases} x_1 + 2x_2 - 3x_4 + 2x_5 = 1, \\ x_1 - x_2 - 3x_3 + x_4 - 3x_5 = 2, \\ 2x_1 - 3x_2 + 4x_3 - 5x_4 + 2x_5 = 7, \\ 9x_1 - 9x_2 + 6x_3 - 16x_4 + 2x_5 = 25. \end{cases}$$

**Варіант 17**

$$1. 2A - (A^2 + B)B, \text{ якщо } A = \begin{pmatrix} 1 & 4 & 2 \\ 2 & 1 & -2 \\ 0 & 1 & -1 \end{pmatrix}, \quad B = \begin{pmatrix} 4 & 6 & -2 \\ 4 & 10 & 1 \\ 2 & 4 & -5 \end{pmatrix}.$$

$$2. \text{ а) } \begin{vmatrix} -1 & 3 & -1 & 2 \\ 3 & 1 & -2 & 1 \\ 2 & -1 & 1 & -2 \\ 1 & 2 & -3 & 1 \end{vmatrix}; \quad \text{ б) } \begin{vmatrix} 1 & 3 & -2 & -2 & 1 \\ 0 & -2 & 2 & 1 & 0 \\ -1 & 2 & 1 & -1 & 3 \\ 1 & -1 & 3 & 0 & 1 \\ 2 & 2 & 3 & -2 & 1 \end{vmatrix}.$$

$$3. \begin{cases} 3x_1 - x_2 + x_3 = 4, \\ 2x_1 - 5x_2 - 3x_3 = -17, \\ x_1 + x_2 - x_3 = 0. \end{cases} \quad 4. \begin{cases} 2x_1 - 3x_2 + 5x_3 + x_4 = -7, \\ -x_1 + x_2 + 4x_3 - 2x_4 = 1, \\ 5x_1 + 2x_2 - 3x_3 + 6x_4 = 5, \\ -2x_1 + 5x_2 + x_3 - 7x_4 = 5. \end{cases}$$

$$5. \begin{cases} x_1 + x_2 + x_3 - 2x_4 + 3x_5 = 1, \\ 2x_1 + 2x_2 + 4x_3 - x_4 + 3x_5 = 2, \\ 3x_1 + 3x_2 + 5x_3 - 2x_4 + 3x_5 = 1, \\ 2x_1 + 2x_2 + 8x_3 - 3x_4 + 9x_5 = 2. \end{cases}$$

### Варіант 18

$$1. 3(A^2 - B^2) - 2AB, \text{ якщо } A = \begin{pmatrix} 4 & 2 & 1 \\ 3 & -2 & 0 \\ 0 & -1 & 2 \end{pmatrix}, \quad B = \begin{pmatrix} 2 & 0 & 2 \\ 5 & -7 & -2 \\ 1 & 0 & -1 \end{pmatrix}.$$

$$2. \text{ а) } \begin{vmatrix} 1 & 2 & 3 & 4 \\ 2 & 1 & 2 & 3 \\ 3 & 1 & 1 & 2 \\ 4 & 3 & 2 & 1 \end{vmatrix}; \quad \text{ б) } \begin{vmatrix} 1 & 1 & 1 & 1 & 0 \\ 0 & 1 & 1 & 1 & 1 \\ 1 & 2 & 3 & 0 & 0 \\ 0 & 1 & 2 & 3 & 0 \\ 0 & 0 & 1 & 2 & 3 \end{vmatrix}.$$

$$3. \begin{cases} x_1 + x_2 + x_3 = 2, \\ 2x_1 - x_2 - 6x_3 = -1, \\ 3x_1 - 2x_2 = 8. \end{cases} \quad 4. \begin{cases} 5x_1 + 2x_2 + x_3 + 4x_4 = 45, \\ 4x_1 + 6x_2 + 3x_3 + 7x_4 = 1, \\ 3x_1 + x_2 + 2x_3 + 4x_4 = 1, \\ 2x_1 + 3x_2 + 4x_3 + 5x_4 = -2. \end{cases}$$

$$5. \begin{cases} 9x_1 - 3x_2 + 5x_3 + 6x_4 = 4, \\ 6x_1 - 2x_2 + 3x_3 + 4x_4 = 5, \\ 3x_1 - x_2 + 3x_3 + 14x_4 = -8. \end{cases}$$

### Варіант 19

1.  $(2A - B)(3A + B) - 2AB$ , якщо  $A = \begin{pmatrix} 1 & 0 & 3 \\ -2 & 0 & 1 \\ -1 & 3 & 1 \end{pmatrix}$ ,  $B = \begin{pmatrix} 7 & 5 & 2 \\ 0 & 1 & 2 \\ -3 & -1 & -1 \end{pmatrix}$ .

2. а)  $\begin{vmatrix} 2 & 4 & 2 & 3 \\ 3 & 2 & 1 & 4 \\ 3 & 4 & 3 & 2 \\ 4 & 3 & 3 & 1 \end{vmatrix}$ ; б)  $\begin{vmatrix} 2 & 1 & 1 & 1 & 1 \\ 1 & 2 & 1 & 1 & 1 \\ 1 & 1 & 3 & 1 & 1 \\ 1 & 1 & 1 & 4 & 1 \\ 1 & 1 & 1 & 1 & 5 \end{vmatrix}$ .

3.  $\begin{cases} 2x_1 + x_2 - x_3 = 1, \\ x_1 + x_2 + x_3 = 6, \\ 3x_1 - x_2 + x_3 = 4. \end{cases}$       4.  $\begin{cases} 2x_1 + x_2 + x_3 - x_4 = 1, \\ 3x_1 - x_2 + x_3 + x_4 = 2, \\ 4x_1 + 2x_2 + x_3 - x_4 = 1, \\ x_1 + x_4 = 2. \end{cases}$

5.  $\begin{cases} 2x_1 + x_2 + x_3 + x_4 = 1, \\ x_1 - x_2 + x_3 - 2x_4 = 0, \\ 2x_1 + x_2 + 3x_3 - 7x_4 = 1, \\ x_1 + x_2 + x_3 + x_4 = 2. \end{cases}$

### Варіант 20

1.  $B(A + 2B) - 3AB$ , якщо  $A = \begin{pmatrix} 7 & -3 & 0 \\ 1 & -1 & 0 \\ 2 & 0 & 3 \end{pmatrix}$ ,  $B = \begin{pmatrix} -4 & 2 & 1 \\ 1 & 0 & 1 \\ 3 & 2 & 1 \end{pmatrix}$ .

2. а)  $\begin{vmatrix} 2 & 1 & 0 & 2 \\ 3 & 2 & 1 & 0 \\ -1 & 0 & 1 & 3 \\ -1 & 2 & 1 & 3 \end{vmatrix}$ ; б)  $\begin{vmatrix} 1 & -1 & 2 & -2 & 3 \\ 0 & 1 & 3 & -1 & 2 \\ 4 & -2 & 1 & 3 & 1 \\ 0 & 3 & -1 & 1 & -4 \\ 5 & 3 & 5 & 1 & 2 \end{vmatrix}$ .

$$3. \begin{cases} 7x_1 + 5x_2 + 2x_3 = 18, \\ x_1 - x_2 - x_3 = 3, \\ x_1 + 7x_2 + 2x_3 = -2. \end{cases} \quad 4. \begin{cases} 4x_1 - 3x_2 + x_3 + 5x_4 = 7, \\ x_1 - 2x_2 - 2x_3 - 3x_4 = 3, \\ 3x_1 - x_2 + 2x_3 = -1, \\ 2x_1 + 3x_2 + 2x_3 - 8x_4 = -7. \end{cases}$$

$$5. \begin{cases} 3x_1 + 2x_2 + x_3 + 4x_4 + 5x_5 = 3, \\ x_1 + 2x_2 - x_3 + x_4 + 2x_5 = 0, \\ x_1 - 2x_2 + 3x_3 + 2x_4 + x_5 = 3. \end{cases}$$

### Варіант 21

$$1. 3B + (A + B)B, \text{ якщо } A = \begin{pmatrix} -1 & 2 & 4 \\ 0 & 3 & 2 \\ -1 & -3 & 4 \end{pmatrix}, \quad B = \begin{pmatrix} 3 & 2 & -5 \\ 4 & 2 & 0 \\ 1 & 1 & 2 \end{pmatrix}.$$

$$2. \text{ а) } \begin{vmatrix} -1 & 3 & -1 & 2 \\ 3 & 1 & -2 & 1 \\ 2 & -1 & 1 & -2 \\ 1 & 2 & -3 & 1 \end{vmatrix}; \quad \text{ б) } \begin{vmatrix} 1 & 3 & -2 & -2 & 1 \\ 0 & -2 & 2 & 1 & 0 \\ -1 & 2 & 1 & -1 & 3 \\ 1 & -1 & 3 & 0 & 1 \\ 2 & 2 & 3 & -2 & 1 \end{vmatrix}.$$

$$3. \begin{cases} x_1 + 2x_2 + x_3 = 4, \\ 3x_1 - 5x_2 - 7x_3 = 1, \\ 2x_1 + 7x_2 - x_3 = 8. \end{cases} \quad 4. \begin{cases} x_1 - 2x_3 + 3x_4 = -45, \\ x_2 - 3x_3 + 4x_4 = -5, \\ 3x_1 + 2x_2 - 5x_4 = 12, \\ 4x_1 + 3x_2 - 5x_3 = 5. \end{cases}$$

$$5. \begin{cases} 3x_1 + 2x_2 + x_3 + 4x_4 + 5x_5 = 3, \\ x_1 + 2x_2 - x_3 + x_4 + 2x_5 = 0, \\ x_1 - 2x_2 + 3x_3 + 2x_4 + x_5 = 3. \end{cases}$$

**Варіант 22**

1.  $2AB - (2A + B)(3A - B)$ , якщо  $A = \begin{pmatrix} 7 & 5 & 2 \\ 0 & 1 & 2 \\ -3 & -1 & -1 \end{pmatrix}$ ,  $B = \begin{pmatrix} 1 & 0 & 3 \\ -2 & 0 & 1 \\ -1 & 3 & 1 \end{pmatrix}$ .

2. а)  $\begin{vmatrix} 2 & 4 & 3 & 5 \\ 3 & -2 & 5 & 4 \\ 5 & 4 & 2 & -3 \\ 4 & 3 & 4 & -2 \end{vmatrix}$ ; б)  $\begin{vmatrix} 4 & 1 & 3 & 2 & 5 \\ 2 & 3 & 0 & 4 & 1 \\ 1 & 2 & 1 & 0 & 3 \\ 1 & 2 & 0 & 3 & 1 \\ 4 & 3 & 1 & 0 & 2 \end{vmatrix}$ .

3.  $\begin{cases} 7x_1 + 2x_2 + 3x_3 = 15, \\ 5x_1 - 3x_2 + 2x_3 = 15, \\ 10x_1 - 11x_2 + 5x_3 = 36. \end{cases}$       4.  $\begin{cases} x_1 + 2x_2 + 3x_3 + 4x_4 = 11, \\ 2x_1 + 3x_2 + 4x_3 + x_4 = 12, \\ 3x_1 + 4x_2 + x_3 + 2x_4 = 13, \\ 4x_1 + x_2 + 2x_3 + 3x_4 = -5. \end{cases}$

5.  $\begin{cases} x_1 + 8x_2 + 2x_3 = 13, \\ x_1 + x_2 + 5x_3 = -7, \\ 2x_1 + 3x_2 - 3x_3 = 14, \\ 2x_1 + x_2 + x_3 = 2, \\ x_1 + 3x_2 + x_3 = 5, \\ 6x_1 + 9x_2 + 13x_3 = -2. \end{cases}$

**Варіант 23**

1.  $(B - A)2B + 2A$ , якщо  $A = \begin{pmatrix} 3 & 7 & -2 \\ 1 & 1 & -2 \\ 0 & 1 & 3 \end{pmatrix}$ ,  $B = \begin{pmatrix} 5 & -1 & 3 \\ 0 & 2 & -1 \\ -2 & -1 & 0 \end{pmatrix}$ .

2. а)  $\begin{vmatrix} -1 & 2 & 4 & -2 \\ 3 & 1 & 0 & -1 \\ 4 & 3 & 2 & -3 \\ 3 & 0 & 4 & 1 \end{vmatrix}$ ; б)  $\begin{vmatrix} 1 & 1 & 1 & 3 & 1 \\ 1 & 1 & 1 & 1 & 4 \\ 1 & 1 & 3 & 1 & 1 \\ 2 & 1 & 1 & 1 & 1 \\ 1 & 2 & 1 & 1 & 1 \end{vmatrix}$ .

$$3. \begin{cases} 2x_1 + 5x_2 - 3x_3 = 4, \\ 4x_1 - 3x_2 + 2x_3 = 9, \\ 5x_1 + 6x_2 - 2x_3 = 18. \end{cases}$$

$$4. \begin{cases} 3x_1 + x_2 + 2x_3 + 4x_4 = 1, \\ 2x_1 + 3x_2 + 4x_3 + 5x_4 = -2, \\ 5x_1 + 2x_2 + x_3 + 4x_4 = 4, \\ 4x_1 + 6x_2 + 3x_3 + 7x_4 = 1. \end{cases}$$

$$5. \begin{cases} 2x_1 + x_2 + 2x_3 - 2x_4 - 3x_5 = 8, \\ x_1 - 2x_2 + 3x_3 - x_4 + 2x_5 = 2, \\ 3x_1 - x_2 + 5x_3 - 3x_4 - x_5 = 6. \end{cases}$$

### Варіант 24

$$1. (A^2 - B^2) + 3AB, \text{ якщо } A = \begin{pmatrix} 0 & 1 & -2 \\ -1 & 1 & 2 \\ 3 & -1 & 0 \end{pmatrix}, \quad B = \begin{pmatrix} 3 & 4 & 5 \\ -1 & 0 & 2 \\ -2 & -1 & 0 \end{pmatrix}.$$

$$2. \text{ а) } \begin{vmatrix} 1 & 2 & 2 & 2 \\ -2 & 2 & 2 & 2 \\ -2 & -2 & 3 & 2 \\ -2 & -2 & -2 & 4 \end{vmatrix}; \quad \text{ б) } \begin{vmatrix} 3 & -1 & 2 & -1 & 1 \\ 5 & 1 & -2 & 1 & 2 \\ 9 & -1 & 1 & 3 & 4 \\ 3 & 0 & 6 & -1 & 3 \\ 5 & 2 & 3 & -2 & 1 \end{vmatrix}.$$

$$3. \begin{cases} 3x_1 - x_2 + x_3 = 12, \\ x_1 + 2x_2 + 4x_3 = 6, \\ 5x_1 + x_2 + 2x_3 = 3. \end{cases} \quad 4. \begin{cases} 2x_1 + 3x_2 + 11x_3 + 5x_4 = 2, \\ x_1 + x_2 + 5x_3 + 2x_4 = 1, \\ 3x_1 + 3x_2 + 9x_3 + 5x_4 = -2, \\ 2x_1 + x_2 + 3x_3 + 2x_4 = -3. \end{cases}$$

$$5. \begin{cases} x_1 - 2x_2 + x_3 - 4x_4 + x_5 = 2, \\ 3x_1 - 2x_2 - 5x_3 - 6x_4 - x_5 = 3, \\ 2x_1 - 14x_3 + 4x_4 - 6x_5 = -2. \end{cases}$$

### Варіант 25

1.  $3B + 2A(BA - 2B)$ , якщо  $A = \begin{pmatrix} 1 & -1 & 0 \\ 2 & 0 & -1 \\ 1 & 1 & 1 \end{pmatrix}$ ,  $B = \begin{pmatrix} -3 & 0 & 0 \\ 5 & 3 & 1 \\ -1 & 2 & 0 \end{pmatrix}$ .

2. а)  $\begin{vmatrix} 2 & 1 & 4 & 3 \\ 5 & 0 & -1 & 0 \\ 2 & -1 & 6 & 3 \\ 1 & 5 & -1 & 2 \end{vmatrix}$ ; б)  $\begin{vmatrix} 1 & 3 & -2 & -2 & 1 \\ 0 & -2 & 2 & 1 & 0 \\ -1 & 2 & 1 & -1 & 3 \\ 1 & -1 & 3 & 0 & 1 \\ 2 & 2 & 3 & -2 & 1 \end{vmatrix}$ .

3.  $\begin{cases} 2x_1 - x_2 + 2x_3 = 3, \\ x_1 + x_2 + 2x_3 = -4, \\ 4x_1 + x_2 + 4x_3 = -3. \end{cases}$

4.  $\begin{cases} 2x_1 - 3x_2 + 5x_3 + x_4 = -7, \\ -x_1 + x_2 + 4x_3 - 2x_4 = 1, \\ 5x_1 + 2x_2 - 3x_3 + 6x_4 = 5, \\ -2x_1 + 5x_2 + x_3 - 7x_4 = 5. \end{cases}$

5.  $\begin{cases} x_1 + x_2 + x_3 - 2x_4 + 3x_5 = 1, \\ 2x_1 + 2x_2 + 4x_3 - x_4 + 3x_5 = 2, \\ 3x_1 + 3x_2 + 5x_3 - 2x_4 + 3x_5 = 1, \\ 2x_1 + 2x_2 + 8x_3 - 3x_4 + 9x_5 = 2. \end{cases}$

### Варіант 26

1.  $(A + 2B)(3A - B)$ , якщо  $A = \begin{pmatrix} 1 & 2 & 3 \\ 4 & -2 & -1 \\ 0 & 1 & -1 \end{pmatrix}$ ,  $B = \begin{pmatrix} 2 & 3 & -1 \\ -2 & 0 & -1 \\ 1 & 0 & 1 \end{pmatrix}$ .

2. а)  $\begin{vmatrix} 2 & -1 & 3 & 2 \\ 3 & 3 & 3 & 2 \\ 3 & -1 & -1 & 2 \\ 3 & -1 & 3 & -1 \end{vmatrix}$ ; б)  $\begin{vmatrix} 1 & 2 & 3 & 4 & 5 \\ 2 & 1 & 2 & 3 & 4 \\ 2 & 2 & 1 & 2 & 3 \\ 2 & 2 & 2 & 3 & 2 \\ 2 & 2 & 2 & 2 & 1 \end{vmatrix}$ .

$$3. \begin{cases} 2x_1 - x_2 + 2x_3 = 2, \\ 3x_1 + 2x_2 + x_3 = 15, \\ x_1 + 3x_2 + 3x_3 = 10. \end{cases} \quad 4. \begin{cases} x_1 + 4x_2 - 7x_3 + 6x_4 = 0, \\ x_1 - 3x_2 - 6x_4 = 9, \\ 2x_1 + x_2 - 5x_3 + x_4 = 8, \\ 2x_2 - x_3 + 2x_4 = -5. \end{cases}$$

$$5. \begin{cases} -x_1 + 3x_2 + 3x_3 + 2x_4 + 5x_5 = 2, \\ -3x_1 + 5x_2 + 2x_3 + 3x_4 + 4x_5 = 2, \\ -3x_1 + x_2 - 5x_3 - 7x_5 = -2, \\ -5x_1 + 7x_2 + x_3 + 16x_4 + x_5 = 10. \end{cases}$$

### Варіант 27

$$1. 3(B+A) - (A-B)A, \text{ якщо } A = \begin{pmatrix} 1 & 2 & 3 \\ 0 & -2 & 3 \\ 1 & 1 & 1 \end{pmatrix}, \quad B = \begin{pmatrix} 4 & 2 & 1 \\ -1 & 2 & 0 \\ 2 & 3 & -1 \end{pmatrix}.$$

$$2. \text{ а) } \begin{vmatrix} 2 & -1 & 1 & 0 \\ 0 & 1 & 2 & -1 \\ 3 & -1 & 2 & 3 \\ 3 & 1 & 6 & 1 \end{vmatrix}; \quad \text{ б) } \begin{vmatrix} 3 & 1 & 5 & 1 & 6 \\ 4 & 0 & 1 & 1 & 4 \\ 1 & 2 & 1 & 0 & 0 \\ -2 & 2 & 3 & -3 & 0 \\ 1 & 6 & 15 & -2 & 8 \end{vmatrix}.$$

$$3. \begin{cases} 5x_1 + 8x_2 + x_3 = 2, \\ 3x_1 - 2x_2 + 6x_3 = -7, \\ 2x_1 + x_2 - x_3 = -5. \end{cases} \quad 4. \begin{cases} 2x_1 + 2x_2 - x_3 + x_4 = 4, \\ 4x_1 + 3x_2 - x_3 + 2x_4 = 6, \\ 8x_1 + 5x_2 - 3x_3 + 4x_4 = 12, \\ 3x_1 + 3x_2 - 2x_3 + 2x_4 = 6. \end{cases}$$

$$5. \begin{cases} 9x_1 - 3x_2 + 5x_3 + 6x_4 = 4, \\ 6x_1 - 2x_2 + 3x_3 + 4x_4 = 5, \\ 3x_1 - x_2 + 3x_3 + 14x_4 = -8. \end{cases}$$

**Варіант 28**

1.  $AB - 2(A+B)A$ , якщо  $A = \begin{pmatrix} 2 & 1 & -1 \\ 1 & 0 & 1 \\ 3 & 1 & -2 \end{pmatrix}$ ,  $B = \begin{pmatrix} 2 & -1 & 0 \\ 0 & 2 & 1 \\ 1 & 3 & -1 \end{pmatrix}$ .

2. а)  $\begin{vmatrix} 3 & -1 & 4 & 2 \\ 5 & 2 & 0 & 1 \\ 0 & 2 & 1 & -3 \\ 6 & -2 & 9 & 8 \end{vmatrix}$ ; б)  $\begin{vmatrix} 1 & 2 & 3 & 4 & 5 \\ 5 & 2 & 3 & 4 & 1 \\ 3 & 4 & 5 & 1 & 2 \\ 4 & 1 & 2 & 5 & 3 \\ 2 & 5 & 1 & 3 & 4 \end{vmatrix}$ .

3.  $\begin{cases} 2x_1 - 3x_2 + x_3 = -7, \\ x_1 + 4x_2 + 2x_3 = -1, \\ x_1 - 4x_2 = -5. \end{cases}$       4.  $\begin{cases} 2x_1 + 3x_2 + 11x_3 + 5x_4 = 2, \\ x_1 + x_2 + 5x_3 + 2x_4 = 1, \\ 2x_1 + x_2 + 3x_3 + 2x_4 = -3, \\ x_1 + x_2 + 3x_3 + 4x_4 = -3. \end{cases}$

5.  $\begin{cases} 3x_1 - 5x_2 + 2x_3 + 4x_4 = 2, \\ 7x_1 - 4x_2 + x_3 + 3x_4 = 5, \\ 5x_1 + 7x_2 - 4x_3 - 6x_4 = 3. \end{cases}$

**Варіант 29**

1.  $(A+2B) - (3A-B)$ , якщо  $A = \begin{pmatrix} 1 & 2 & 3 \\ 4 & -2 & 1 \\ 0 & 1 & -1 \end{pmatrix}$ ,  $B = \begin{pmatrix} 2 & 3 & -1 \\ -2 & 0 & -1 \\ 1 & 0 & 1 \end{pmatrix}$ .

2. а)  $\begin{vmatrix} 1 & 1 & -6 & -4 \\ 3 & -1 & -6 & -4 \\ 2 & 3 & 9 & 2 \\ 3 & 2 & 3 & 8 \end{vmatrix}$ ; б)  $\begin{vmatrix} 3 & 2 & 2 & 2 & 2 \\ 2 & 3 & 2 & 5 & 3 \\ 9 & 1 & 4 & -5 & 1 \\ 2 & 2 & 3 & 4 & 5 \\ 7 & 1 & 6 & -1 & 7 \end{vmatrix}$ .

$$3. \begin{cases} x_1 + x_2 - 2x_3 = 6, \\ 2x_1 + 3x_2 - 7x_3 = 16, \\ 5x_1 + 2x_2 + x_3 = 16. \end{cases} \quad 4. \begin{cases} 4x_1 + 4x_2 + 5x_3 + 5x_4 = 0, \\ 2x_1 + 3x_3 - x_4 = 10, \\ x_1 + x_2 - 5x_3 = -10, \\ 3x_2 + 2x_3 = 1. \end{cases}$$

$$5. \begin{cases} 2x_1 + x_2 - x_3 - 3x_4 = 2, \\ 4x_1 + x_3 - 7x_4 = 3, \\ 2x_2 - 3x_3 + x_4 = 1, \\ 2x_1 + 3x_2 - 4x_3 - 2x_4 = 3. \end{cases}$$

### Варіант 30

$$1. 2AB + A(B - A), \text{ якщо } A = \begin{pmatrix} -1 & 2 & -1 \\ 2 & 3 & 0 \\ 0 & 2 & -1 \end{pmatrix}, \quad B = \begin{pmatrix} 1 & 2 & -1 \\ 2 & -1 & 0 \\ 1 & 2 & 1 \end{pmatrix}.$$

$$2. \text{ а) } \begin{vmatrix} 1 & 3 & -2 & 1 \\ 2 & 4 & -1 & 2 \\ 3 & 5 & -2 & 1 \\ 2 & 8 & -3 & 2 \end{vmatrix}; \quad \text{ б) } \begin{vmatrix} -1 & 1 & 3 & 4 & 0 \\ -1 & 0 & 3 & -2 & 2 \\ 2 & 1 & 2 & -3 & 1 \\ 1 & 2 & -1 & 1 & 5 \\ 1 & 2 & 3 & -2 & 0 \end{vmatrix}.$$

$$3. \begin{cases} 7x_1 + 2x_2 + 3x_3 = 15, \\ 5x_1 - 3x_2 + 2x_3 = 15, \\ 10x_1 - 11x_2 + 5x_3 = 36. \end{cases} \quad 4. \begin{cases} x_1 + 2x_2 + 3x_3 + 4x_4 = 0, \\ 7x_1 + 14x_2 + 20x_3 + 27x_4 = 0, \\ 5x_1 + 10x_2 + 16x_3 + 19x_4 = -2, \\ 3x_1 + 5x_2 + 6x_3 + 13x_4 = 5. \end{cases}$$

$$5. \begin{cases} 7x_1 - 5x_2 - 2x_3 - 4x_4 = 8, \\ -3x_1 + 2x_2 + x_3 + 2x_4 = -3, \\ 2x_1 - x_2 - x_3 - 2x_4 = 1, \\ -x_1 + x_3 + 24x_4 = 1, \\ -x_2 + x_3 + 2x_4 = 3. \end{cases}$$

## Контрольні запитання

1. Яким чином у середовищі GNU Octave визначають матрицю розміру  $m \times n$ ?
2. Яким чином у середовищі GNU Octave визначають вектор-стовпець та вектор-рядок?
3. Як із вектора-стовпця отримати вектор-рядок?
4. Як обчислити суму матриць та їхню лінійну комбінацію?
5. Як з'ясувати розміри матриці?
6. Як звернутися до елементів матриці чи вектора, а також до рядка або стовпця?
7. Як обчислити визначник матриці? Чи для будь-якої матриці можна це зробити?
8. Як обчислити обернену матрицю? За яким критерієм з'ясовують наявність оберненої матриці?
9. Що таке транспонована матриця? Чи будь-яку матрицю можна транспонувати?
10. Яким чином дослідити СЛАР на сумісність у середовищі GNU Octave?
11. У чому полягає метод розв'язання СЛАР за допомогою оберненої матриці в середовищі GNU Octave?
12. У чому полягає метод розв'язання СЛАР за формулами Крамера в середовищі GNU Octave?

## 3. Векторна алгебра та аналітична геометрія

### Мета:

- ✚ вивчення основних операцій і функцій, за допомогою яких відбувається розв'язання задач векторної алгебри та аналітичної геометрії в середовищі GNU Octave;
- ✚ закріплення теоретичних знань із векторної алгебри та аналітичної геометрії;
- ✚ набуття практичних навичок у розв'язанні задач векторної алгебри та аналітичної геометрії за допомогою середовища GNU Octave;
- ✚ аналіз та пояснення визначених результатів.

### Компетентності:

уміння використовувати інструментарій GNU Octave під час розв'язання завдань векторної алгебри та аналітичної геометрії;  
навички у візуалізації об'єктів аналітичної геометрії.

## 3.1. Вектори: уведення векторів, дії над векторами

В Octave є припущення, що кожна задана змінна – це вектор, матриця або масив, і залежить це від конкретного значення змінної та завдання.

Уведення вектора в Octave здійснюють за допомогою команд, за якими вводять матрицю-рядок:

```
>>V=[x1 x2 x3]
```

або

```
>>V=[x1, x2, x3]
```

чи матрицю-стовпець (координати відділяють знаком «;»)

```
>>V=[x1; x2; x3] % V - ім'я вектору, x1, x2, x3 -  
значення координат вектора
```

Перетворити вектор-рядок у вектор-стовпець можна за допомогою знака апострофа «'», який використовують під час транспонування вектора.

У разі, якщо вектор задано *координатами початку та кінця*, то слід спочатку ввести ці координати (як матрицю-рядок або матрицю-стовпець), а потім виконати команду віднімання відповідних координат або віднімання матриць-рядків (матриць-стовпців). Для знаходження довжини (модуля) вектора  $\vec{a} = (a_x, a_y, a_z)$  достатньо виконати звичайну арифметичну операцію, відповідно до формули  $|\vec{a}| = \sqrt{a_x^2 + a_y^2 + a_z^2}$ .

**Приклад 3.1.** Уведіть вектор  $\vec{a} = (11; 4; 8)$  та вектор  $\overline{AB}$ , якщо задано координати його початку та кінця  $A = [5; 2]$ ,  $B = [3; -8]$ . Визначте довжину вектора  $\vec{a}$ .

### Розв'язання.

Команди:

```
>>a=[11 4 8]
```

або

```
>>a=[11, 4, 8]
```

видають однаковий результат у вигляді вектора-рядка:

```
a =  
    11     4     8
```

команда

```
>>a =[11; 4; 8]
```

або, якщо попередньо виконано введення вектора-рядка, то команда

```
>>a'
```

видають вектор-стовпець:

```
a =  
    11  
     4  
     8
```

Щоб визначити координати вектора  $\vec{AB}$ , якщо задано координати його початку та кінця  $A=[5; 2]$ ,  $B=[3; -8]$ , слід виконати такі команди:

```
>>A=[3,-2], B=[5,-8] % уведення координат точок  
початку та кінця вектора
```

```
A =  
     3     -2
```

```
B =  
     5     -8
```

```
>>AB=[B(1)-A(1),B(2)-A(2)] % від відповідних  
координат кінця вектора віднімання координат початку
```

```
AB =  
     2     -6
```

або

```
>>AB=B-A % віднімання матриць
AB =
     2    -6
```

Для обчислення довжини (модуля) вектора  $\bar{a}$  слід увести арифметичну операцію, яка відображає формулу  $|\bar{a}| = \sqrt{a_x^2 + a_y^2 + a_z^2}$  :

```
>>mod_a=sqrt(a(1)^2+a(2)^2+a(3)^2) %a(1), a(2), a(3) -
координати вектора a
mod_a = 14.177
```

або можна обчислити довжину вектора і за допомогою функції `norm`:

```
>>mod_a=norm(a)
mod_a = 14.177
```

Основні алгебраїчні дії з векторами виконують із використанням групи операторів: додавання – «+», віднімання – «-», множення на число – «\*».

**Приклад 3.2.** Задано вектори  $\bar{a} = (4; 3; -2)$ ,  $\bar{b} = (8; 5; 6)$ .

Визначте вектори:  $\bar{c} = \bar{a} + \bar{b}$ ;  $\bar{d} = \bar{a} - \bar{b}$ ;  $\bar{f} = 2\bar{a} + 4\bar{b}$ .

*Розв'язання.* Спочатку слід увести вихідні вектори:

```
>>a=[4 3 -2], b=[8 5 6]
```

Далі виконуймо дії над векторами:

```
>>c=a+b
c =
     12     8     4
>>d=a-b
d =
     -4    -2    -8
```

```
>>f=2*a+4*b
```

```
f =
```

```
40    26    20
```

Щоб виконати *множення векторів*, слід розрізняти види добутків векторів.

Обчислити *скалярний добуток* двох векторів  $\bar{a}$  і  $\bar{b}$  можна за допомогою знака «\*» (вектори мають бути однакового розміру та перший вектор має бути вектором-рядком, а другий – вектором-стовпцем) або за допомогою функції `dot(a,b)`, де  $a,b$  – позначення векторів однакового розміру.

Варто нагадати, що скалярний добуток можна використати для: обчислення довжини будь-якого вектора  $\bar{a}$ , застосувавши команду `sqrt(dot(a,a))`;

установлення перпендикулярності двох векторів  $\bar{a}$  і  $\bar{b}$  (якщо `dot(a,b)` дорівнює нулю, то вектори перпендикулярні, інакше – ні);

визначення косинуса кута між векторами  $\bar{a}$  і  $\bar{b}$  (за формулою  $\cos \alpha = \frac{\bar{a} \cdot \bar{b}}{|\bar{a}| \cdot |\bar{b}|}$ ).

Щоб обчислити *векторний добуток* двох векторів  $\bar{a}$  і  $\bar{b}$  однакового розміру, використовують функцію `cross(a,b)`. Слід нагадати, що за допомогою векторного добутку можна визначити колінеарність векторів (якщо векторний добуток векторів  $\bar{a}$  і  $\bar{b}$  дорівнює нулю, то вектори  $\bar{a}$  і  $\bar{b}$  є колінеарними, інакше – ні) та обчислити площу паралелограма, побудованого на двох векторах, як на сторонах (потрібно обчислити довжину вектора, що є векторним добутком векторів, на яких побудований паралелограм).

Ураховуючи, що *мішаний добуток* трьох векторів  $\bar{a}$ ,  $\bar{b}$ ,  $\bar{c}$  дорівнює визначнику, складеному з координат цих векторів, то обчислити мішаний добуток можна за допомогою функції `det([a;b;c])`.

За допомогою мішаного добутку можна дослідити компланарність (якщо мішаний добуток векторів  $\bar{a}$ ,  $\bar{b}$ ,  $\bar{c}$  дорівнює нулю, то вектори  $\bar{a}$ ,  $\bar{b}$  та  $\bar{c}$  є компланарними, інакше – ні) векторів та обчислити об'єм

паралелепіеда (мішаний добуток векторів, на яких побудований паралелепіед).

*Зауваження:* оскільки об'єм паралелепіеда має бути додатною величиною, а знак мішаного добутку векторів залежить від порядку їхнього запису, то під час обчислення об'єму слід визначати абсолютне значення (модуль) мішаного добутку векторів.

**Приклад 3.3.** Задано вектори  $\bar{a} = (-3; 4; -1)$ ,  $\bar{b} = (-1; 2; 3)$ ,  $\bar{c} = (-4; -2; 1)$ .

Обчисліть: скалярний добуток векторів  $\bar{a}$  і  $\bar{b}$ ; векторний добуток векторів  $\bar{a}$  і  $\bar{b}$  та мішаний добуток векторів  $\bar{a}$ ,  $\bar{b}$ ,  $\bar{c}$ .

Визначте, чи є вектори  $\bar{a}$  і  $\bar{b}$  перпендикулярними, або колінеарними?

Визначте кут між векторами  $\bar{a}$  і  $\bar{b}$ . Чи є вектори  $\bar{a}$ ,  $\bar{b}$ ,  $\bar{c}$  компланарними?

*Розв'язання.* Лістинг виконання цього завдання має такий вигляд:

```
>>a=[-3 4 -1]; b=[-1 2 3]; c=[-4 -2 1];  
>>dot(a,b) % скалярний добуток векторів  
ans = 8
```

```
>>alfa=acos(dot(a,b)/(norm(a)*norm(b))) % визначення  
радіанної міри кута між векторами  
alfa = 1.1381
```

```
>>alfa=alfa*180/pi % визначення градусної міри кута  
між векторами  
alfa = 65.209  
>>cross(a, b) % векторний добуток векторів  
ans =
```

```
14 10 -2
```

```
>>det([a; b; c]) % мішаний добуток векторів  
ans = -78
```

Отже, визначено:

скалярний добуток векторів  $\bar{a}$  і  $\bar{b}$  не дорівнює нулю, тому вектори  $\bar{a}$  і  $\bar{b}$  не є перпендикулярними;

кут між векторами  $\bar{a}$  і  $\bar{b}$  дорівнює 1,14 рад, або 65,21°;

векторний добуток векторів  $\bar{a}$  і  $\bar{b}$  не дорівнює нулю, тому вектори  $\bar{a}$  і  $\bar{b}$  не є колінеарними;

мішаний добуток векторів  $\bar{a}$ ,  $\bar{b}$ ,  $\bar{c}$  не дорівнює нулю, тому вектори  $\bar{a}$ ,  $\bar{b}$ ,  $\bar{c}$  не є компланарними.

**Приклад 3.4.** Задано вершини трикутної піраміди  $A(1; 3; 8)$ ,  $B(-1; 2; 4)$ ,  $C(4; -2; 7)$ ,  $D(5; 3; 6)$ .

Визначте: довжину ребра  $AB$ ; площу грані  $ABC$ ; об'єм піраміди  $ABCD$ .

*Розв'язання.* Оскільки за умовою задачі задано координати точок, то можна визначити координати всіх векторів, що їх поєднують.

Довжину ребра  $AB$  можна визначити як довжину вектора  $\overline{AB}$ .

Грань  $ABC$  можна розглядати як трикутник, що побудований на векторах  $\overline{AB}$  та  $\overline{AC}$ . Цей трикутник є половиною від паралелограма, побудованого на цих векторах. Тому його площу можна визначити як половину від площі паралелограма. А площу паралелограма можна визначити за допомогою векторного добутку векторів  $\overline{AB}$  та  $\overline{AC}$ .

На трьох векторах, що виходять з однієї із заданих точок, можна побудувати паралелепіпед, який містить шість пірамід, одна з яких  $ABCD$ . Об'єм паралелепіпеда можна обчислити за допомогою мішаного добутку трьох векторів, що виходять з однієї із заданих точок. Тому об'єм піраміди буде дорівнювати 1/6 від об'єму паралелепіпеда.

На підставі викладених міркувань уведено відповідні команди в Octave, лістинг виконання яких має такий вигляд:

```
>>A=[1 3 8]; B=[-1 2 4]; C=[4 -2 7]; D=[5 3 6];
```

```
>>AB=B-A % визначення координат вектора AB
```

```
AB =
```

```
-2 -1 -4
```

```

>>mod_AB=norm(AB) %довжина ребра AB
mod_AB = 4.5826

>>AC=C-A % визначення координат вектора AC
AC =

    3   -5   -1

>>S=cross(AB,AC) % визначення векторного добутку
векторів AB та AC
S =

   -19   -14    13

>>S_P=norm(S) % обчислення площі паралелограма,
побудованого на векторах AB та AC
S_P = 26.944

>>S_ABC=S_P/2 % визначення площі грані ABC
S_ABC = 13.472

>>AD=D-A % визначення координат вектора AD
AD =

    4    0   -2

>>V_P=det([AB;AC;AD]) % обчислення мішаного добутку
векторів AB, AC, AD
V_P = -102

>>V_ABCD=abs(V_P/6) % обчислення об'єму піраміди ABCD -
abs - модуль числа
V_ABCD = 17

```

Отже, довжина ребра  $AB$  становить 4.5826 од., площа грані  $ABC$  дорівнює 13.472 кв.од., об'єм піраміди  $ABCD$  – 17 куб. од.

## 3.2. Пряма на площині

Основні завдання, пов'язані із прямою на площині, можна виконати в Octave за допомогою відповідних функцій.

Рівняння прямої, що проходить через точку  $M(x_0; y_0)$  і має нормальний вектор  $\bar{N} = (A; B)$ , визначають за такою формулою:

$$A(x - x_0) + B(y - y_0) = 0.$$

**Приклад 3.5.** Визначте рівняння прямої, що проходить через точку  $M(4; -2)$  і має нормальний вектор  $\bar{N} = (3; -1)$ .

*Розв'язання.*

Ліву частину рівняння  $A(x - x_0) + B(y - y_0) = 0$  можна визначити, якщо помножити скалярно відповідні масиви-вектори з урахуванням символічних змінних.

Виконаймо такі команди:

```
>>syms x y
>>M=[4 -2] % уведення координат точки M
M =

    4    -2

>>N=[3 -1] % уведення координат нормального вектора
N =

    3    -1

>>MM1=[x-M(1) y-M(2)]
MM1 = (sym) [x - 4  y + 2] (1x2 matrix)
>>L=dot(MM1,M)
L = (sym)

    4·x - 2·y - 20
```

Отже, визначено рівняння прямої  $4x - 2y - 20 = 0$ .

Дослідження *взаємного розташування двох прямих на площині* зведено до аналізу кутів між нормальними векторами цих прямих.

Якщо пряму задано загальним рівнянням  $Ax + By + C = 0$ , то *відстань від точки  $M_0(x_0, y_0)$  до цієї прямої* визначають за такою формулою:

$$d = \left| \frac{Ax_0 + By_0 + C}{\sqrt{A^2 + B^2}} \right|.$$

**Приклад 3.6.** Визначте відстань від точки  $M(2;1)$  до прямої  $x - 2y + 12 = 0$ .

*Розв'язання.* Із рівняння заданої прямої маємо нормальний вектор  $\bar{N} = (1; -2)$ , вільний член рівняння  $C = 12$ . Далі скористаймося формулою відстані від точки до прямої та підходом, реалізованим у прикл. 3.5:

```
>>M=[2 1] % уведення координат точки M
```

```
M =
```

```
2    1
```

```
>>N=[1 -2] % уведення координат нормального вектора
```

```
N =
```

```
1    -2
```

```
>>C=12 % уведення вільного члена рівняння прямої
```

```
C = 12
```

```
>>D=abs(dot(M,N)+C)/norm(N) % обчислення відстані від точки до заданої прямої
```

```
D = 5.3666
```

*Візуалізація прямої на площині* відбувається з використанням набору функцій графічного інструментарію Octave:

`plot(x,y,'параметри стилю та кольору лінії')` – послідовне з'єднання прямими лініями точок, де  $x, y$  – вхідні аргументи

функції, координати яких визначено в масивах; поширеним стилем лінії є суцільна лінія, символом якої в параметрах є символ «-»; кольори лінії визначають символами – *y* – жовтий, *k* – чорний, *m* – рожевий, *c* – блакитний, *r* – червоний, *g* – зелений, *b* – синій, *w* – білий (у табл. 3.1 наведено символи інших стилів ліній та маркерів);

Таблиця 3.1

### Символи позначення маркерів та стилів лінії

Маркери		Стиль лінії
. крапка	v трикутник (униз)	- суцільна
o коло	^ трикутник (угору)	: пунктирна
x хрестик	< трикутник (ліворуч)	-. штрих-пунктирна
+ плюс	> трикутник (праворуч)	-- штрихова
* астериск	p п'ятикутник	(none) без лінії
s квадрат	h шестикутник	
d ромб		

`line([M1(1),M2(1)], [M1(2),M2(2)], 'LineWidth', число, 'Color', 'символ кольору')` – зображення прямої, яка проходить через точки  $M_1(x_1, y_1)$  та  $M_2(x_2, y_2)$ , число – величина товщини лінії, символ кольору – позначення кольору (символи наведено раніше);

`text(x, y, 'text', 'fontsize', число)` – напис тексту, який міститься в параметрі `text` ліворуч точки з координатами  $(x, y)$ , число – величина розміру шрифту;

`grid on` – нанесення на графік ліній координатної сітки;

`axis equal` – установлення однакового відношення масштабу за координатними осями;

`hold on` – блокування режиму очищення екрана для побудови декількох графіків в одній системі координат;

`hold off` – увімкнення режиму очищення екрана;

`title('text')` – виведення назви графіка;

`xlabel('напис під віссю x'), ylabel('напис над віссю y')` – написи осей *x* та *y*, відповідно.

**Приклад 3.7.** Трикутник  $ABC$  задано координатами вершин:  $A(2;1)$ ,  $B(1;-2)$ ,  $C(-2;1)$ .

Побудуйте трикутник. Обчисліть довжини сторін трикутника та внутрішні кути трикутника.

*Розв'язання.*

Спочатку вводьмо вихідні дані – вершини трикутника.

Далі побудуємо трикутник  $ABC$  на координатній площині за допомогою функції `line` та нанесімо необхідні підписи на рисунок:

```
>>A=[2,1]; B=[1,-2]; C=[-2,1];
>>line([A(1),B(1)],[A(2),B(2)'],'LineWidth',3,'Color',
'b') % побудова прямої AB
>>line([A(1),C(1)],[A(2),C(2)'],'LineWidth',3,'Color',
'b') % побудова прямої AC
>>line([B(1),C(1)],[B(2),C(2)'],'LineWidth',3,'Color',
'b') % побудова прямої BC
>>text(A(1),A(2),'A','fontsize',20) % вершина A
>>text(B(1),B(2),'B','fontsize',20) % вершина B
>>text(C(1),C(2),'C','fontsize',20) % вершина C
>>xlabel('x','fontsize',15) % напис осі X
>>ylabel('y','fontsize',15) % напис осі Y
>>grid on % нанесення на графік ліній координатної
сітки
>>axis equal % встановлення однакового відношення
масштабу за координатними осями
```

Результат виконання наведених команд в Octave показано на рис. 3.1.

Сторони трикутника можна розглядати як вектори, довжини та кути між якими визначають за допомогою функцій, використаних у п. 3.1.

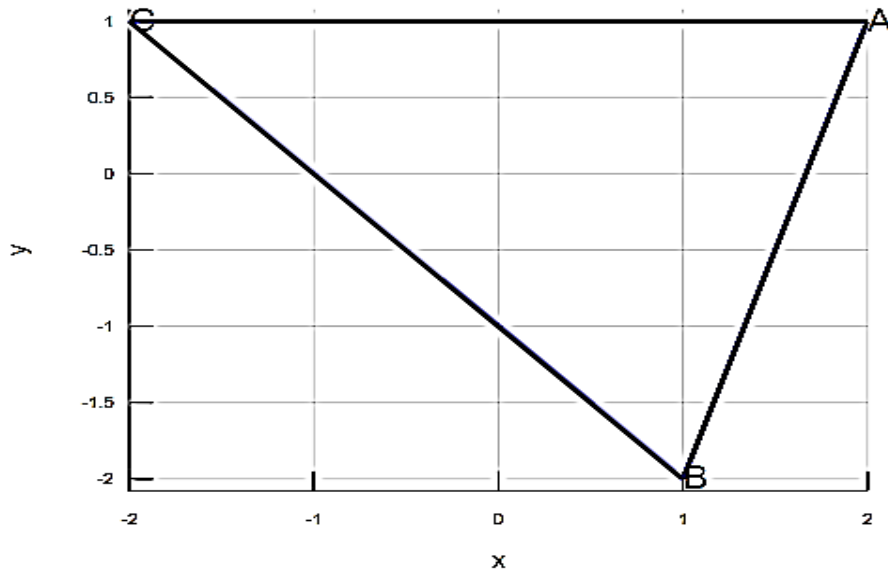


Рис. 3.1. Побудова трикутника ABC за заданими вершинами

Маємо:

```
>>AB=B-A %координати вектора AB
```

```
AB =
```

```
 -1  -3
```

```
>>AC=C-A % координати вектора AC
```

```
AC =
```

```
 -4   0
```

```
>>BC=C-B % координати вектора BC
```

```
BC =
```

```
 -3   3
```

```
>>distAB=norm(AB) % довжина сторони AB
```

```
distAB = 3.1623
```

```
>>distAC=norm(AC) % довжина сторони AC
```

```
distAC = 4
```

```
>>distBC=norm(BC) % довжина сторони BC
```

```
distBC = 4.2426
```

```
>>ABC=acos(dot(AB,BC)/(norm(AB)*norm(BC))) % визначення  
радіанної міри кута ABC
```

```
ABC = 1.1071
```

>>ABC=ABC\*180/pi % визначення градусної міри кута ABC  
 ABC = 63.435

>>BAC=acos(dot(AB,AC)/(norm(AB)\*norm(AC))) % визначення  
 радіанної міри кута BAC

BAC = 1.2490

>>BAC=BAC\*180/pi % визначення градусної міри кута BAC  
 BAC = 71.565

>>ACB=acos(dot(BC,AC)/(norm(BC)\*norm(AC))) % визначення  
 радіанної міри кута ACB

ACB = 0.7854

>>ACB=ACB\*180/pi % визначення градусної міри кута ACB  
 ACB = 45

Отже, обчислено сторони та кути заданого трикутника.

### 3.3. Криві другого порядку

Відомо, що криву другого порядку задають таким рівнянням:

$$Ax^2 + Bxy + Cy^2 + Dx + Ey + F = 0.$$

До кривих другого порядку належать еліпс, гіпербола, парабола.  
 Основні параметри кривих другого порядку наведено в табл. 3.2.

Таблиця 3.2

Параметри кривих другого порядку

Еліпс	Гіпербола	Парабола
1	2	3
Канонічні рівняння		
$\frac{(x-x_0)^2}{a^2} + \frac{(y-y_0)^2}{b^2} = 1$	$\frac{(x-x_0)^2}{a^2} - \frac{(y-y_0)^2}{b^2} = 1$ або $-\frac{(x-x_0)^2}{a^2} + \frac{(y-y_0)^2}{b^2} = 1$	$(y-y_0)^2 = \pm 2p(x-x_0)$ або $(x-x_0)^2 = \pm 2p(y-y_0)$

1	2	3
Центр		Вершина
$O(x_0; y_0)$		
2c – фокусна відстань		–
якщо $a \geq b$ , то $c^2 = a^2 - b^2$ ; якщо $a < b$ , то $c^2 = b^2 - a^2$	$c^2 = a^2 + b^2$	
Фокуси		
якщо $a \geq b$ , то $F_{1,2}(x_0 \pm c; y_0)$ , якщо $a < b$ , то $F_{1,2}(x_0; y_0 \pm c)$		$F\left(x_0 + \frac{p}{2}; y_0\right)$
Ексцентриситет		
якщо $a \geq b$ , то $\varepsilon = \frac{c}{a} < 1$ ; якщо $a < b$ , то $\varepsilon = \frac{c}{b} < 1$	якщо $a \geq b$ , то $\varepsilon = \frac{c}{a} > 1$ ; якщо $a < b$ , то $\varepsilon = \frac{c}{b} > 1$	$\varepsilon = 1$
Директриси		
якщо $a \geq b$ , то $x = x_0 \pm \frac{a}{\varepsilon} = x_0 \pm \frac{a^2}{c}$ ; якщо $a < b$ , то $y = y_0 \pm \frac{b}{\varepsilon} = y_0 \pm \frac{b^2}{c}$		$x = x_0 - \frac{p}{2}$ або $y = y_0 \pm \frac{p}{2}$
Асимптоти		
–	$y = \pm \frac{b}{a}(x - x_0) + y_0$	–

У середовищі Octave є можливість будувати графіки кривих другого порядку, якщо ввести символний вираз функції.

Для візуалізації символних функцій треба скористатися функцією `ezplot(f)`, де `f` – символна функція від одного аргументу за замовчуванням (щоб задати рівняння кривої другого порядку, можна спочатку

подати його у вигляді функції, заданої неявно –  $f(x, y) = 0$ , де  $x, y$  мають бути визначеними символьними змінними за допомогою команди `syms x y`). За допомогою цієї функції є можливість надати будь-якій математичній функції графічну ілюстрацію, не виявляючи область її визначення. Графік виводять у межах інтервалу  $[-2\pi; 2\pi]$ .

Після початкового зображення графіка можна уточнити його за допомогою команди `ezplot(f, [xmin, xmax])`, де `xmin, xmax` – діапазон варіації змінної  $x$ . Для візуалізації основних характеристик кривих другого порядку слід перетворити вихідне рівняння кривої до канонічного рівняння, установити центр та осі й визначити основні характеристики.

**Приклад 3.8.** Для заданого рівняння кривої другого порядку встановіть її тип, побудуйте її, визначте та позначте центр, фокуси, директриси й асимптоти (якщо крива – гіпербола):

$$5x^2 - 9y^2 - 20x + 9y - \frac{109}{4} = 0.$$

*Розв'язання.* Спочатку вводьмо вихідні дані:

```
>>syms x y % визначення символьних змінних
>>f=5*x^2-9*y^2-20*x+9*y-109/4 % визначення заданого
рівняння кривої другого порядку
```

```
f = (sym)
      2          2          109
      5·x  - 20·x  - 9·y  + 9·y  - —
                                 4
```

```
>>ezplot(f)
```

Результат показано на рис. 3.2, де встановлено, що це рівняння визначає гіперболу. Вигляд кривої в цьому прикладі є несиметричним, що потребує коригування діапазону варіації змінної  $x$  (із рис. 3.2 видно, що можна встановити, наприклад, відрізок  $[-5; 9]$ ).

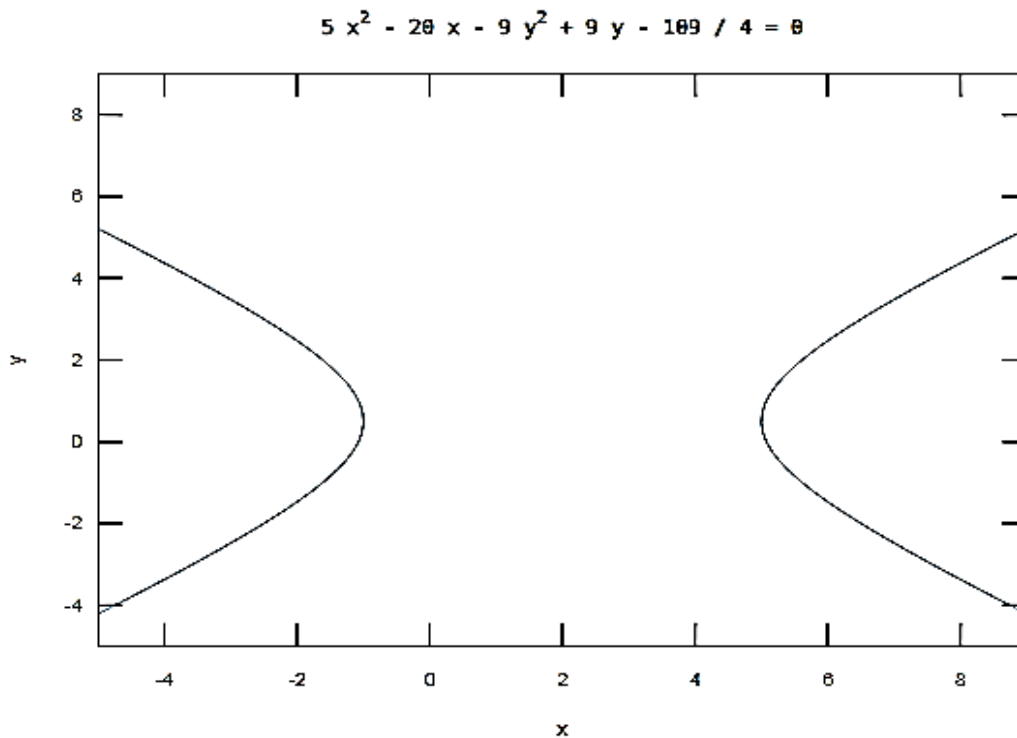


Рис. 3.2. Результат побудови кривої за вихідним рівнянням

Щоб обчислити характеристики гіперболи, слід перетворити задане рівняння до канонічного вигляду, визначити центр та піввісі.

Після виділення повних квадратів визначено таке рівняння:

$$\frac{(x-2)^2}{9} - \frac{(y-\frac{1}{2})^2}{5} = 1,$$

звідки встановлено, що центром цієї гіперболи є т.  $O(2; \frac{1}{2})$ , піввісі  $a=3, b=\sqrt{5}$ .

Далі слід визначити характеристики гіперболи:

```
>>O=[2, 0.5]; % уведення координат центру кривої
>>a=3; b=sqrt(5); % уведення півосей гіперболи
>>syms x y; % визначення символічних змінних
>>f=((x-2)^2)/9-((y-1/2)^2)/5-1; % уведення
канонічного рівняння
>>ezplot(f,[-5, 9]) % побудова кривої з урахуванням
нового діапазону змінної x
>>grid on
```

Результат показано на рис. 3.3.

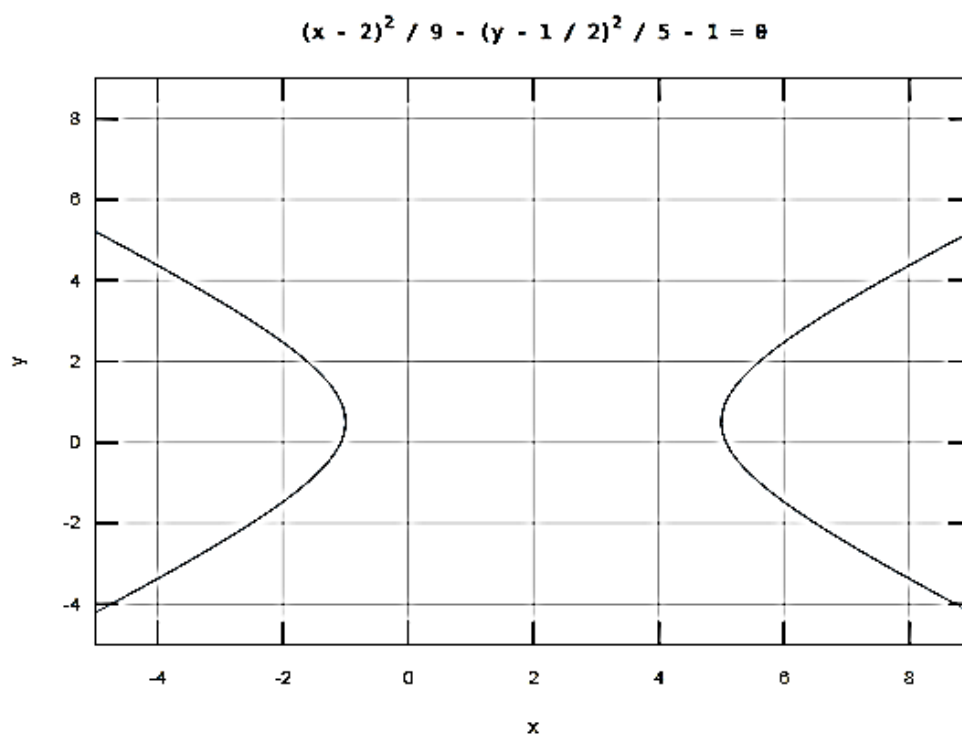


Рис. 3.3. Результат побудови за канонічним рівнянням

Позначимо на цьому графіку кривої другого порядку її центр, фокуси, директриси та асимптоти. Для нанесення на графік додаткових даних викличмо таку команду:

```
>>hold on
```

Центр кривої міститься в точці  $O(2; 0,5)$ , зобразимо її:

```
>>plot(O(1),O(2),'o'); % зображення центра кривої  
>>text(O(1),O(2),'O')
```

За формулою  $c^2 = a^2 + b^2$  (для гіперболи див. табл. 3.2) та з урахуванням, що  $a = 3, b = \sqrt{5}$ , визначаймо:

```
>>c=sqrt(a^2+b^2)  
c = 3.7417
```

Оскільки  $a \geq b$ , то визначаймо координати фокусів за такою формулою:  $F_{1,2}(x_0 \pm c; y_0)$ , де  $O(x_0; y_0)$  – центр гіперболи:

```
>>F1=[O(1)+c,O(2)];
>>F2=[O(1)-c,O(2)];
>>plot(F1(1),F1(2),'o') % позначення фокуса F1
>>plot(F2(1),F2(2),'o') % позначення фокуса F1
>>text(F1(1),F1(2),'F1')
>>text(F2(1),F2(2),'F2')
```

Визначмо директриси гіперболи за формулою  $x = x_0 \mp \frac{a^2}{c}$ :

```
>>x1=O(1)+(a^2)/c;
>>x2=O(1)-(a^2)/c;
```

Під час побудови цих прямих постійними залишають змінні  $x$ , а інтервал змінної  $y$  виберімо, зважаючи на рис. 3.3.

Це буде інтервал  $[-4 \ 8]$ .

```
>>plot([x1 x1],[-4 8]); % побудова першої директриси
>>plot([x2 x2],[-4 8]); % побудова другої директриси
```

Визначмо асимптоти гіперболи за формулою  $y = \pm \frac{b}{a}(x - x_0) + y_0$ :

```
>>y1=b*(x-O(1))/a+O(2);
>>y2=-b*(x-O(1))/a+O(2);
```

Побудуємо прямі:

```
>>xx=-5:0.5:9 % визначення масиву точок із наявного
діапазону варіації змінної x
>>y1=b*(xx-O(1))/a+O(2); % обчислення значень y1
>>y2=-b*(xx-O(1))/a+O(2); % обчислення значень y2
>>plot(xx,y1) % побудова першої асимптоти
>>plot(xx,y2) % побудова другої асимптоти
```

Результат описаних раніше команд показано на рис. 3.4.

$$(x - 2)^2 / 9 - (y - 1 / 2)^2 / 5 - 1 = 0$$

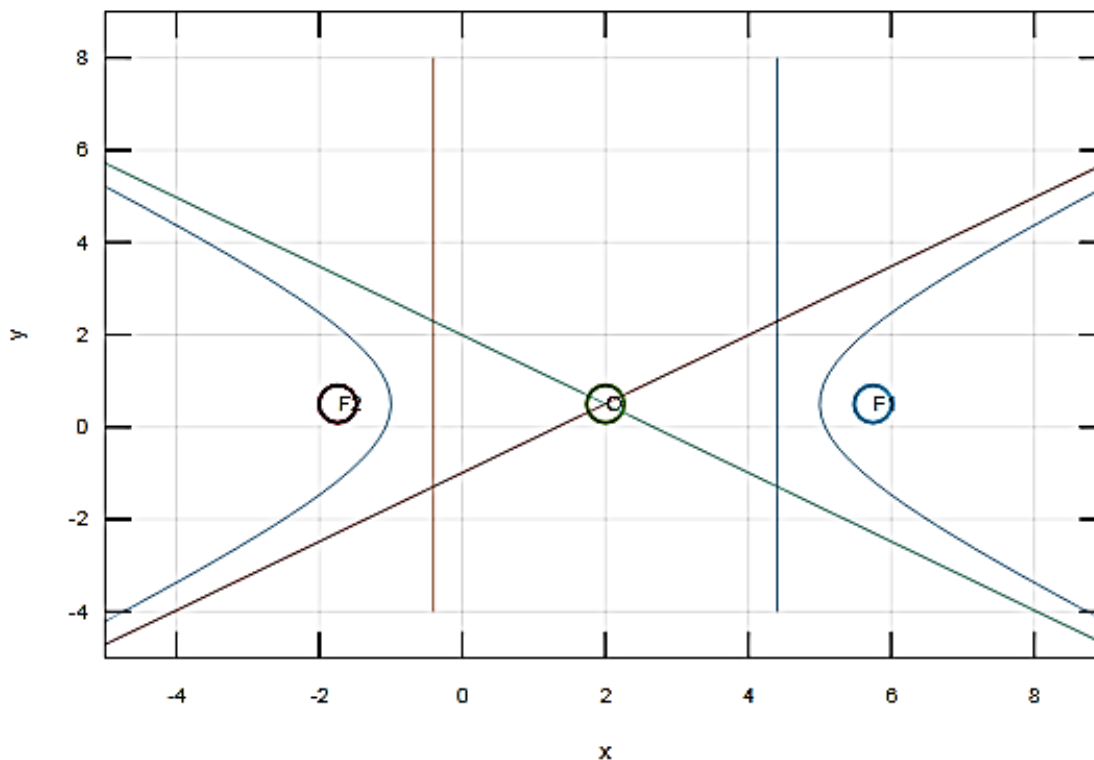


Рис. 3.4. Побудова гіперболи та її характеристик

### 3.4. Площина

Завдання, пов'язані із площиною у просторі, можна виконати в Octave за допомогою функцій, використаних раніше.

У разі просторового розгляду завдання слід урахувувати, що будь-яка точка (вектор) у просторі характеризується трьома координатами, які вводять як звичайний масив.

Основні функції, які використовують для векторів, є доцільними для застосування в завданнях із площиною.

Рівняння  $Ax + By + Cz + D = 0$  є загальним рівнянням площини  $\pi$ , яка має нормальний вектор  $\vec{N} = (A, B, C)$ .

Слід згадати такі особливості:

$D = 0 \Rightarrow Ax + By + Cz = 0$  – площина проходить через початок координат  $O(0,0,0)$  ( $O \in \pi$ );

$$\left. \begin{array}{l} A = 0 \\ B = 0 \\ C = 0 \end{array} \right\} \Rightarrow \left[ \begin{array}{l} By + Cz + D = 0 \Rightarrow |\bar{N} \perp Ox| \Rightarrow \pi \parallel Ox, \\ Ax + Cz + D = 0 \Rightarrow |\bar{N} \perp Oy| \Rightarrow \pi \parallel Oy, \\ Ax + By + D = 0 \Rightarrow |\bar{N} \perp Oz| \Rightarrow \pi \parallel Oz; \end{array} \right.$$

$$\left. \begin{array}{l} A = D = 0 \\ B = D = 0 \\ C = D = 0 \end{array} \right\} \Rightarrow \left[ \begin{array}{l} By + Cz = 0 \Rightarrow |\bar{N} \perp Ox, O \in \pi| \Rightarrow Ox \subset \pi, \\ Ax + Cz = 0 \Rightarrow |\bar{N} \perp Oy, O \in \pi| \Rightarrow Oy \subset \pi, \\ Ax + By = 0 \Rightarrow |\bar{N} \perp Oz, O \in \pi| \Rightarrow Oz \subset \pi; \end{array} \right.$$

$$\left. \begin{array}{l} A = B = 0 \\ A = C = 0 \\ B = C = 0 \end{array} \right\} \Rightarrow \left[ \begin{array}{l} Cz + D = 0 \Rightarrow |\bar{N} \perp Ox, \bar{N} \perp Oy| \Rightarrow \pi \parallel xOy, \\ By + D = 0 \Rightarrow |\bar{N} \perp Ox, \bar{N} \perp Oz| \Rightarrow \pi \parallel xOz, \\ Ax + D = 0 \Rightarrow |\bar{N} \perp Oy, \bar{N} \perp Oz| \Rightarrow \pi \parallel yOz; \end{array} \right.$$

$$\left. \begin{array}{l} A = B = D = 0 \\ B = C = D = 0 \\ A = C = D = 0 \end{array} \right\} \Rightarrow \left[ \begin{array}{l} Cz = 0 \Rightarrow |\bar{N} \perp xOy, O \in \pi| \Rightarrow \pi - \text{площина } xOy, \\ Ax = 0 \Rightarrow |\bar{N} \perp yOz, O \in \pi| \Rightarrow \pi - \text{площина } yOz, \\ By = 0 \Rightarrow |\bar{N} \perp xOz, O \in \pi| \Rightarrow \pi - \text{площина } xOz. \end{array} \right.$$

Рівняння площини, що проходить через три точки  $M_1(x_1, y_1, z_1)$ ,  $M_2(x_2, y_2, z_2)$ ,  $M_3(x_3, y_3, z_3)$  має такий вигляд:

$$\begin{vmatrix} x - x_3 & y - y_3 & z - z_3 \\ x_1 - x_3 & y_1 - y_3 & z_1 - z_3 \\ x_2 - x_3 & y_2 - y_3 & z_2 - z_3 \end{vmatrix} = 0,$$

тобто потрібно згадати, як в Octave увести матрицю й обчислити її визначник.

**Приклад 3.9.** Визначте рівняння площини, що проходить через точки  $M_1(-3; 2; 6)$ ,  $M_2(1, 2, 7)$ ,  $M_3(-2, 0, 1)$ .

**Розв'язання.** Оскільки рівняння площини має символічний вираз, то слід ввести символічні змінні:

```
>>syms x y z
```

Уводьмо вихідні точки та складеймо матрицю:

```
>>M1=[-3 2 6]
```

```
M1 =  
-3 2 6
```

```
>>M2=[1 2 7]
```

```
M2 =  
1 2 7
```

```
>>M3=[-2 0 1]
```

```
M3 =  
-2 0 1
```

```
>>P1=[x-M1(1); M2(1)-M1(1); M3(1)-M1(1)]
```

```
P1 = (sym 3×1 matrix)
```

```
[ x + 3 ]  
|       |  
|  4    |  
|       |  
|  1    |
```

```
>>P2=[y-M1(2); M2(2)-M1(2); M3(2)-M1(2)]
```

```
P2 = (sym 3×1 matrix)
```

```
[ y - 2 ]  
|       |  
|  0    |  
|       |  
| -2    |
```

```
>>P3=[z-M1(3); M2(3)-M1(3); M3(3)-M1(3)]
```

```
P3 = (sym 3×1 matrix)
 [ z - 6 ]
 |       |
 |  1    |
 |       |
 [ -5    ]
```

```
>>P=[P1 P2 P3]
P = (sym 3×3 matrix)
 [ x + 3  y - 2  z - 6 ]
 |           |
 |  4      0    1    |
 |           |
 [  1     -2   -5    ]
```

```
>>g=det (P)
g = (sym) 2·x + 21·y - 8·z + 12
```

Отже, шукане рівняння площини має такий вигляд:  
 $2x + 21y - 8z + 12 = 0$ , де координати нормального вектора  
 $\bar{N} = (2; 21; -8)$ .

Визначення *кута між площинами* має за основу формулу косинуса кута між векторами (у випадку із площинами – між нормальними векторами) і тому слід звернутися до підрозділу 1 цього розділу.

Визначення *відстані від довільної фіксованої точки  $M_0(x_0, y_0, z_0)$  до площини*, заданої загальним рівнянням  $Ax + By + Cz + D = 0$ , є аналогічним задачі визначення відстані  $d$  від точки до прямої на площині (див. прикл. 3.6).

Відповідна формула має такий вигляд:

$$d = \frac{|Ax_0 + By_0 + Cz_0 + D|}{\sqrt{A^2 + B^2 + C^2}}.$$

Слід зазначити, що формула відстані від довільної фіксованої точки  $M_0(x_0, y_0, z_0)$  до площини може бути використаною в задачі про визначення довжини висоти піраміди (як відстань від точки, із якої опущено висоту, до площини-грані, на яку опущено висоту).

**Приклад 3.10.** Обчисліть відстань від точки  $M_0(4; -2; -3)$  до площини  $2x + y - 8z + 18 = 0$ .

*Розв'язання.*

Із рівняння заданої площини маємо нормальний вектор  $\vec{N} = (2; 1; -8)$  та вільний член рівняння  $C = 18$ . Далі скористаймося формулою відстані від точки до площини та підходом, реалізованим у прикл. 3.5:

```
>>M=[4 -2 -3] % уведення координат точки M
M =
    4    -2    -3
>>N=[2 1 -8] % уведення координат нормального вектора
N =
    2     1    -8
>>C=18 % уведення вільного члена рівняння прямої
C = 12
>>D=abs(dot(M,N)+C)/norm(N) % обчислення відстані від
точки до заданої площини
D = 5.7785
```

Отже, відстань від точки  $M_0(4; -2; -3)$  до площини  $2x + y - 8z + 18 = 0$  становить 5,7785 од.

### 3.5. Пряма в просторі

Нехай пряму лінію  $l$  у просторі задано загальним рівнянням:

$$\begin{cases} A_1x + B_1y + C_1z + D_1 = 0 (\pi_1), \\ A_2x + B_2y + C_2z + D_2 = 0 (\pi_2). \end{cases} \quad (3.1)$$

Щоб перейти від загального рівняння до канонічного, треба визначити координати будь-якої точки  $(x_0, y_0, z_0)$ , що належить прямій, та координати напрямного вектора  $\bar{s} = (m, n, p)$  прямої.

Якщо будь-якій невідомій змінній надати довільне значення, то система (3.1) стане системою двох лінійних рівнянь із двома невідомими, розв'язок якої визначає координати точки, що належить заданій прямій. Щоб визначити координати напрямного вектора, слід згадати, що нормальні вектори площин  $\pi_1$  і  $\pi_2$  перпендикулярні до прямої  $l$ , тому вектор  $\bar{s}$  можна обчислити за допомогою векторного добутку  $\bar{N}_1 \times \bar{N}_2$ , який визначають за функцією `cross(N1, N2)`.

Кут між двома прямими в просторі визначають з урахуванням формули косинуса кута між напрямними векторами  $\bar{s}_1, \bar{s}_2$  цих прямих:

$$\cos \varphi = \frac{\bar{s}_1 \cdot \bar{s}_2}{|\bar{s}_1| \cdot |\bar{s}_2|} = \frac{m_1 m_2 + n_1 n_2 + p_1 p_2}{\sqrt{m_1^2 + n_1^2 + p_1^2} \cdot \sqrt{m_2^2 + n_2^2 + p_2^2}}.$$

Синус кута між прямою і площиною обчислюють за такою формулою:

$$\sin \varphi = \frac{|\bar{N} \cdot \bar{s}|}{|\bar{N}| \cdot |\bar{s}|} = \frac{|Am + Bn + Cp|}{\sqrt{A^2 + B^2 + C^2} \cdot \sqrt{m^2 + n^2 + p^2}},$$

де  $\bar{N} = (A, B, C)$  – нормальний вектор площини,  $\bar{s} = (m, n, p)$  – напрямний вектор прямої.

**Приклад 3.11.** Задано загальне рівняння прямої:

$$\begin{cases} x - 2y + 2z = 0, \\ 2x - 4y + z + 1 = 0. \end{cases}$$

Визначте: координати точки, що належить заданій прямій, якщо відомо, що вона належить площині  $ZOX$ ; координати напрямного вектора прямої.

### Розв'язання.

Оскільки за умовою задачі невідома точка належить площині  $ZOX$ , то вона має координату  $y_0 = 0$ . Тоді система, якою задано вихідну

$$\text{пряму, набере вигляду } \begin{cases} x + 2z = 0, \\ 2x + z + 1 = 0. \end{cases}$$

Для розв'язання цієї системи виконуймо такі команди:

```
>>syms x y
>> eq1=sym('x+2*z')% уведення першого рівняння
системи
eq1 = (sym) x + 2*z
>>eq2=sym('2*x+z+1')% уведення другого рівняння
системи
eq2 = (sym) 2*x + z + 1
>>[x0 z0]=solve(eq1,eq2) % розв'язання системи
рівнянь
x0 = (sym) -2/3
z0 = (sym) 1/3
```

Отже, визначено координати точки, яка належить заданій прямій і площині  $ZOX$ :  $\left(-\frac{2}{3}; 0; \frac{1}{3}\right)$ .

Щоб обчислити координати напрямного вектора заданої прямої, скористаймося векторним добутком нормальних векторів площин:

```
>>N1=[1 -2 2]
N1 =
     1     -2     2
>>N2=[2 -4 1]
N2 =
     2     -4     1
>>s=cross(N1,N2)
s =
     6     3     0
```

Отже, маємо напрямний вектор прямої  $\vec{s} = (6; 3; 0)$  прямої.

**Приклад 3.12.** Чотиригранну піраміду (тетраедр) задано координатами її вершин  $A(2; -2, 4)$ ,  $B(1; 3; 6)$ ,  $C(-2; 0; 3)$ ,  $D(4; -1; 3)$ . Визначте: кут  $\alpha$  між ребрами  $\overline{AB}$  та  $\overline{AD}$ ; кут  $\beta$  між ребром  $AD$  і гранню  $ABC$ ; довжину висоти  $h$ , опущеної з вершини  $D$  на грань  $ABC$ .

*Розв'язання.*

Уводьмо вихідні дані завдання та виконуймо обчислення:

```
>>A=[2 -2 4];B=[1 3 6]; C=[-2 0 3]; D=[4 -1 3];
>>AB=B-A % координати вектора AB
AB =
    -1     5     2
>>AD=D-A % координати вектора AD
AD =
     2     1    -1
>>alfa=acos(dot(AB,AD)/(norm(AB)*norm(AD)))
% визначення радіанної міри кута між ребрами AB та AD
alfa = 1.4962
>> alfa = alfa*180/pi % визначення градусної міри
кута між ребрами AB та AD
alfa = 85.725
```

Щоб обчислити кут  $\beta$  між ребром  $AD$  і гранню  $ABC$ , складімо спочатку рівняння площини (див. прикл. 3.9) та встановімо координати нормального вектора площини:

```
>>syms x y z
>>P1=[x-A(1); B(1)-A(1); C(1)-A(1)]
P1 = (sym 3x1 matrix)
 [ x - 2 ]
 [      ]
 [ -1    ]
 [      ]
 [ -4    ]
>>P2=[y-A(2); B(2)-A(2); C(2)-A(2)]
```

```
P2 = (sym 3×1 matrix)
```

$$\begin{bmatrix} y + 2 \\ | \\ | \quad 5 \\ | \\ | \quad 2 \end{bmatrix}$$

```
>>P3=[z-A(3); B(3)-A(3); C(3)-A(3)]
```

```
P3 = (sym 3×1 matrix)
```

$$\begin{bmatrix} z - 4 \\ | \\ | \quad 2 \\ | \\ | \quad -1 \end{bmatrix}$$

```
>>P=det([P1 P2 P3]) % визначення рівняння площини ABC
```

```
P = (sym) -9·x - 9·y + 18·z - 72
```

```
>>N=[-9 -9 18]
```

```
N =
```

$$\begin{bmatrix} -9 & -9 & 18 \end{bmatrix}$$

```
>>beta=asin(dot(N,AD)/(norm(N)*norm(AD))) % визначення  
радіанної міри кута між ребром AD та площиною ABC
```

```
beta = -0.9851
```

```
>>beta = beta*180/pi % визначення градусної міри кута  
між ребром AD та площиною ABC
```

```
beta = -56.443
```

**За прикл. 3.10 визначмо довжину висоти  $h$ , опущеної з вершини  $D$  на грань  $ABC$ :**

```
>>C1=-72 % уведення вільного члена рівняння прямої
```

```
C = -72
```

```
>>h=abs(dot(D,N)+C1)/norm(N) % обчислення відстані від  
точки D до площини ABC
```

```
h = 2.0412
```

Отже, кут  $\alpha$  між ребрами  $\overline{AB}$  та  $\overline{AD}$  дорівнює 85.725 град; кут  $\beta$  між ребром  $AD$  і гранню  $ABC$  дорівнює  $-56.443$  град; довжина висоти  $h$ , опущеної з вершини  $D$  на грань  $ABC$ , становить 2.0412 од.

### 3.6. Завдання для самостійної роботи

1. Трикутник задано координатами вершин  $A(x_A, y_A)$ ,  $B(x_B, y_B)$ ,  $C(x_C, y_C)$ . Побудуйте трикутник. Визначте довжини сторін трикутника та внутрішні кути трикутника.

2. Для заданого рівняння кривої другого порядку встановіть її тип, побудуйте її, визначте та позначте центр, фокуси, директриси й асимптоти (для гіперболи).

3. Чотиригранну піраміду (тетраедр) задано координатами її вершин  $A(x_A, y_A, z_A)$ ,  $B(x_B, y_B, z_B)$ ,  $C(x_C, y_C, z_C)$ ,  $D(x_D, y_D, z_D)$ . Визначте: довжину ребра  $AB$ ; кут між ребрами  $\overline{AB}$  та  $\overline{AD}$ ; рівняння площини  $ABC$ ; площу грані  $ABC$ ; кут між ребром  $AD$  і гранню  $ABC$ ; об'єм піраміди; довжину висоти, опущеної з вершини  $D$  на грань  $ABC$ .

#### Варіант 1

1.  $A(1, 2)$ ;  $B(2, -1)$ ;  $C(-1, 1)$ .
2.  $2x^2 + 3y^2 - 4x + 6y - 7 = 0$ .
3.  $A(3, 4, 5)$ ;  $B(1, 2, 1)$ ;  $C(-2, -3, 6)$ ;  $D(3, -6, -3)$ .

#### Варіант 2

1.  $A(2, 3)$ ;  $B(3, 0)$ ;  $C(0, 2)$ .
2.  $x^2 - y^2 - 4x + 2y - 4 = 0$ .
3.  $A(-7, -5, 6)$ ;  $B(-2, 5, -3)$ ;  $C(3, -2, 4)$ ;  $D(1, 2, 2)$ .

### Варіант 3

1.  $A(3, 4); B(4, 1); C(1, 3)$ .
2.  $16x^2 - 9y^2 - 64x - 54y - 161 = 0$ .
3.  $A(1, 3, 1); B(-1, 4, 6); C(-2, -3, 4); D(3, 4, -4)$ .

### Варіант 4

1.  $A(0, 1); B(1, -2); C(-2, 0)$ .
2.  $2x^2 + 4y^2 - 6x + 8y - 3 = 0$ .
3.  $A(2, 4, 1); B(-3, -2, 4); C(3, 5, -2); D(4, 2, -3)$ .

### Варіант 5

1.  $A(-1, 0); B(0, -3); C(-3, -1)$ .
2.  $x^2 - 4y^2 + 8x - 24y - 24 = 0$ .
3.  $A(-5, -3, -4); B(1, 4, 6); C(3, 2, -2); D(8, -2, 4)$ .

### Варіант 6

1.  $A(-1, -2); B(-2, 1); C(1, -1)$ .
2.  $x^2 - 10x - 4y + 13 = 0$ .
3.  $A(3, 4, 2); B(-2, 3, -5); C(4, -3, 6); D(6, -5, 3)$ .

### Варіант 7

1.  $A(0, -1); B(-1, 2); C(2, 0)$ .
2.  $2x^2 + 5y^2 - 12x + 10y + 13 = 0$ .
3.  $A(-4, 6, 3); B(3, -5, 1); C(2, 6, -4); D(2, 4, -5)$ .

### Варіант 8

1.  $A(0, -2); B(1, -3); C(-3, 0)$ .
2.  $y^2 - 6x + 14y + 49 = 0$ .
3.  $A(7, 5, 8); B(-4, -5, 3); C(2, -3, 5); D(5, 1, -4)$ .

### Варіант 9

1.  $A(-2, -3); B(-3, 0); C(0, -2)$ .
2.  $x^2 + 4y^2 + 4x - 16y - 8 = 0$ .
3.  $A(3, -2, 6); B(-6, -2, 3); C(1, 1, -4); D(4, 6, -7)$ .

### Варіант 10

1.  $A(-3, -4); B(-4, -1); C(-1, -3)$ .
2.  $x^2 - 6x - 4y + 29 = 0$ .
3.  $A(-5, -4, -3); B(7, 3, -1); C(6, -2, 0); D(3, 2, -7)$ .

### Варіант 11

1.  $A(1, -1); B(2, -2); C(-2, 1)$ .
2.  $3x^2 - y^2 + 12x4y - 4 = 0$ .
3.  $A(3, -5, -2); B(-4, 2, 3); C(1, 5, 7); D(-2, -4, 5)$ .

### Варіант 12

1.  $A(2, 0); B(3, -1); C(-1, 2)$ .
2.  $x^2 + 8x - 20y - 24 = 0$ .
3.  $A(7, 4, 9); B(1, -2, -3); C(-5, -3, 0); D(1, -3, 4)$ .

### Варіант 13

1.  $A(3, 1); B(4, 0); C(0, 3)$ .
2.  $9x^2 + 25y^2 - 18x + 100y - 89 = 0$ .
3.  $A(-4, -7, -3); B(-4, -5, 7); C(2, -3, 3); D(3, 2, 1)$ .

### Варіант 14

1.  $A(1, 0); B(0, 3); C(3, 1)$ .
2.  $4x^2 - 9y^2 - 8x - 36y - 68 = 0$ .
3.  $A(-4, -5, -3); B(3, 1, 2); C(5, 7, -6); D(6, -1, 5)$ .

### Варіант 15

1.  $A(0, 2); B(-1, 3); C(3, 0)$ .
2.  $y^2 - 10x - 2y - 19 = 0$ .
3.  $A(5, 2, 4); B(-3, 5, -7); C(1, -5, 8); D(9, -3, 5)$ .

### Варіант 16

1.  $A(-1, 1); B(-2, 2); C(2, -1)$ .
2.  $16x^2 + 25y^2 + 64x - 50y - 311 = 0$ .
3.  $A(-6, 4, 5); B(5, -7, 3); C(4, 2, -8); D(2, 8, -3)$ .

### Варіант 17

1.  $A(-2, 0); B(-3, 1); C(1, -2)$ .
2.  $x^2 - 4y^2 + 6x + 16y - 11 = 0$ .
3.  $A(5, 3, 6); B(-3, -4, 4); C(5, -6, 8); D(4, 0, -3)$ .

### Варіант 18

1.  $A(-3, -1); B(-4, 0); C(0, -3)$ .
2.  $y^2 - 2x + 8y + 10 = 0$ .
3.  $A(5, -4, 4); B(-4, -6, 5); C(3, 2, -7); D(6, 2, -9)$ .

### Варіант 19

1.  $A(-1, -3); B(0, -4); C(-4, -1)$ .
2.  $5x^2 + 9y^2 - 30x + 18y + 9 = 0$ .
3.  $A(-7, -6, -5); B(5, 1, -3); C(8, -4, 0); D(3, 4, -7)$ .

### Варіант 20

1.  $A(1, 3); B(0, 4); C(4, 1)$ .
2.  $9x^2 - 16y^2 - 54x - 64y - 161 = 0$ .
3.  $A(7, -1, -2); B(1, 7, 8); C(3, 7, 9); D(-3, -5, 2)$ .

### Варіант 21

1.  $A(2, 1); B(1, -2); C(-2, 1)$ .
2.  $2y^2 + x - 4y - 8 = 0$ .
3.  $A(5, 2, 7); B(7, -6, -9); C(-7, -6, 3); D(1, -5, 2)$ .

### Варіант 22

1.  $A(1, 0); B(0, -3); C(-3, 0)$ .
2.  $x^2 + 2y^2 - 54x - 64y - 161 = 0$ .
3.  $A(-2, -5, -1); B(-6, -7, 9); C(4, -5, 1); D(2, 1, 4)$ .

### Варіант 23

1.  $A(0, -1); B(-1, -4); C(-4, -1)$ .
2.  $7x^2 - 2y^2 + 28x + 14 = 0$ .
3.  $A(-6, -3, -5); B(5, 1, 7); C(3, 5, -1); D(4, -2, 9)$ .

### Варіант 24

1.  $A(3, 2); B(2, -1); C(-1, 2)$ .
2.  $2x^2 - 8x + y + 5 = 0$ .
3.  $A(7, 4, 2); B(-5, 3, -9); C(1, -5, 3); D(7, -9, 1)$ .

### Варіант 25

1.  $A(4, 3); B(3, 0); C(0, 3)$ .
2.  $5x^2 + 9y^2 - 30x + 18y + 9 = 0$ .
3.  $A(-8, 2, 7); B(3, -5, 9); C(2, 4, -6); D(4, 6, -5)$ .

### Варіант 26

1.  $A(-2, -1); B(-1, 2); C(2, -1)$ .
2.  $x^2 - 4y^2 - 2x - 8y + 13 = 0$ .
3.  $A(4, 3, 1); B(2, 7, 5); C(-4, -2, 4); D(2, -3, -5)$ .

### Варіант 27

1.  $A(-1, 0); B(0, 3); C(3, 0)$ .
2.  $9x^2 - 16y^2 + 90x + 32y - 367 = 0$ .
3.  $A(-9, -7, 4); B(-4, 3, -1); C(5, -4, 2); D(3, 4, 4)$ .

### Варіант 28

1.  $A(0, 1); B(1, 4); C(4, 1)$ .
2.  $9x^2 + 4y^2 - 18x - 8y - 23 = 0$ .
3.  $A(3, 5, 3); B(-3, 2, 8); C(-3, -2, 6); D(7, 8, -2)$ .

### Варіант 29

1.  $A(-3, -2); B(-2, 1); C(1, -2)$ .
2.  $4x^2 - 8x + y + 7 = 0$ .
3.  $A(4, 2, 3); B(-5, -4, 2); C(5, 7, -4); D(6, 4, -7)$ .

### Варіант 30

1.  $A(-4, -3); B(-3, 0); C(0, -3)$ .
2.  $2y^2 + x - 8y + 3 = 0$ .
3.  $A(-4, -2, -3); B(2, 5, 7); C(6, 3, -1); D(6, -4, 1)$ .

## Контрольні запитання

1. Яким чином у GNU Octave визначають вектор і виконують дії з векторами? Як визначають пряму на площині та у просторі?
2. За допомогою якого набору функцій графічного інструментарію Octave будують пряму на площині та криву другого порядку?
3. Як обчислити відстань від точки до прямої або до площини?
4. Як визначити кути між прямими на площині, у просторі та між площинами? Як побудувати рівняння площини, що проходить через три задані точки?

## Розділ 2

# Елементи математичного аналізу

## 4. Вступ до математичного аналізу

### Мета:

- ✚ закріплення теоретичних знань теорії границь;
- ✚ набуття навичок в обчисленні границь функцій у точці та на нескінченності за допомогою середовища GNU Octave.

### Компетентності:

уміння обчислювати границі функцій у випадках, коли змінна прямує до певного числа або до нескінченності.

### 4.1. Основні правила обчислення границь у середовищі GNU Octave

У середовищі GNU Octave символічний аналіз здійснюють за допомогою ППП Symbolic Math, деякі функції якого призначені для розв'язування задач математичного аналізу, а саме, для обчислення границь математичних функцій.

Для цього в Octave є функція `limit`. За допомогою цієї функції можна обчислити границю функції в деякій точці, включно із плюсом або мінусом нескінченність.

Першим вхідним аргументом функції `limit` є символічний вираз, другим – змінна, а третім – точка, у якій обчислюють границю.

Для того щоб обчислити границю деякої функції  $f(x)$ , потрібно послідовно виконати такі дії:

- 1) задати всі символічні змінні, які використовують в описі функції, за допомогою команди `syms`;
- 2) задати функцію (або створити символічну функцію за допомогою функції `sym`, водночас немає потреби виконувати крок 1);
- 3) застосувати функцію `limit`.

У табл. 4.1 наведено деякі правила виклику функції `limit` у різних випадках.

Правила виклику функції `limit`

Математичні операції	Команди GNU Octave	Описи команд
$\lim_{x \rightarrow 0} f(x)$	<code>limit(f)</code>	Використовують, якщо $x \rightarrow 0$ , $f$ – визначають як символну змінну
$\lim_{x \rightarrow a} f(x)$	<code>limit(f, 'x', a)</code> або <code>limit(f, a)</code>	Для функції однієї змінної можна скористатися другим варіантом виклику
$\lim_{x \rightarrow +\infty} f(x)$	<code>limit(f, 'x', inf)</code> або <code>limit(f, inf)</code>	Обчислення границі, якщо аргумент функції прямує до нескінченності ( <code>inf = ∞</code> )
$\lim_{x \rightarrow -\infty} f(x)$	<code>limit(f, 'x', -inf)</code> або <code>limit(f, -inf)</code>	Обчислення границі, якщо аргумент функції прямує до від'ємної нескінченності ( <code>-inf = -∞</code> )
$\lim_{x \rightarrow a-0} f(x)$	<code>limit(f, 'x', a, 'left')</code>	Лівостороння границя функції
$\lim_{x \rightarrow a+0} f(x)$	<code>limit(f, 'x', a, 'right')</code>	Правостороння границя функції

**Зауваження 1:** під час обчислення декількох границь не обов'язково кожен раз оголошувати змінні та параметри, якщо раніше вони вже були описаними.

**Зауваження 2:** для уникнення плутанини в процесі роботи з функцією `limit` рекомендують викликати її у формі `limit(f, 'x', a)`.

## 4.2. Приклади обчислення границь

**Приклад 4.1.** Обчисліть границю функції  $\lim_{x \rightarrow 2} (3x^2 - 2x + 7)$ .

*Розв'язання.* Спочатку опишемо змінну, потім уведемо функцію й обчислюємо границю, якщо  $x \rightarrow 2$ :

```
>>syms x <Enter>
>>f=sym('3*x^2-2*x+7') <Enter>
```

```
f = (sym)
      2
      3·x  - 2·x + 7
>>limit(f, 'x', 2) <Enter>
ans = (sym) 15
```

**Приклад 4.2.** Обчисліть границі функцій:

$$1) \lim_{x \rightarrow 1} \frac{3x^2 - 2x}{x+1}; 2) \lim_{x \rightarrow 1} \frac{3x^2 - 2x}{x-1}; 3) \lim_{x \rightarrow 1} \frac{3x-3}{x+1}; 4) \lim_{x \rightarrow 2} \frac{x-2}{\sqrt{x+2}}.$$

**Розв'язання:**

```
1) >>syms x <Enter>
>>f=sym(' (3*x^2-2*x)/(x+1) ') <Enter>
f = (sym)
      2
      3·x  - 2·x
      -----
      x + 1
>>limit(f, 'x', 1) <Enter>
ans = (sym) 1/2
```

```
2) >>syms x <Enter>
>>f=sym(' (3*x^2-2*x)/(x-1) ') <Enter>
f = (sym)
      2
      3·x  - 2·x
      -----
      x - 1
>>limit(f, 'x', 1) <Enter>
ans = (sym) ∞
```

```
3) >>syms x <Enter>
>>f=sym(' (3*x-3)/(x+1) ') <Enter>
f = (sym)
      3·x - 3
      -----
      x + 1
```

```
>>limit(f,'x',1) <Enter>
ans = (sym) 0
```

```
4) >>syms x <Enter>
>>f=sym('(x-2)/sqrt(x+2)') <Enter>
f = (sym)
      x - 2
      -----
      \sqrt{x + 2}
```

```
>>limit(f,'x',2)
ans = (sym) 0
```

**Приклад 4.3.** Обчисліть границі функцій:

$$1) \lim_{x \rightarrow 1} \frac{3x^2 - 2x - 1}{x^4 - x}; \quad 2) \lim_{x \rightarrow 1} \frac{x^3 - 1}{x - 1}; \quad 3) \lim_{x \rightarrow -2} \frac{x^3 + 3x^2 + 2x}{x^2 - x - 6}; \quad 4) \lim_{x \rightarrow 3} \frac{3x^2 - 7x - 6}{2x^2 - 7x + 3}.$$

**Розв'язання:**

```
1) >>syms x <Enter>
>>f=sym('(3*x^2-2*x-1)/(x^4-x)') <Enter>
f = (sym)
      2
      3·x  - 2·x  - 1
      -----
      4
      x  - x
```

```
>>limit(f,'x',1) <Enter>
ans = (sym) 4/3
```

```
2) >>syms x <Enter>
>>f=sym('(x^3-1)/(x-1)') <Enter>
f = (sym)
      3
      x  - 1
      -----
      x  - 1
```

```
>>limit(f,'x',1) <Enter>
ans = (sym) 3
```

3) >>syms x <Enter>

```
>>f=sym('(x^3+3*x^2+2*x)/(x^2-x-6)') <Enter>
```

```
f = (sym)
```

$$\frac{x^3 + 3x^2 + 2x}{x^2 - x - 6}$$

```
>>limit(f,'x',-2) <Enter>
```

```
ans = (sym) -2/5
```

4) >>syms x <Enter>

```
>>f=sym('(3*x^2-7*x-6)/(2*x^2-7*x+3)') <Enter>
```

```
f = (sym)
```

$$\frac{3x^2 - 7x - 6}{2x^2 - 7x + 3}$$

```
>>limit(f,'x',3) <Enter>
```

```
ans = (sym) 11/5
```

**Приклад 4.4.** Обчисліть границі функцій:

$$1) \lim_{x \rightarrow 4} \frac{x - \sqrt{3x+4}}{16 - x^2}; 2) \lim_{x \rightarrow 2} \frac{\sqrt{4x+1} - 3}{\sqrt{x+2} - 2}; 3) \lim_{x \rightarrow 0} \frac{x}{\sqrt{x+1} - 1}; 4) \lim_{x \rightarrow 0} \frac{\sqrt{x^2+4} - 2}{\sqrt{x^2+9} - 3}.$$

**Розв'язання:**

1) >>syms x <Enter>

```
>>f=sym('(x-sqrt(3*x+4))/(16-x^2)') <Enter>
```

f = (sym)

$$\frac{x - \sqrt{3x + 4}}{16 - x^2}$$

>>limit(f,'x',4) <Enter>

ans = (sym) -5/64

2) >>syms x <Enter>

>>f=sym('(sqrt(4\*x+1)-3)/(sqrt(x+2)-2)') <Enter>

f = (sym)

$$\frac{\sqrt{4x + 1} - 3}{\sqrt{x + 2} - 2}$$

>>limit(f,'x',2) <Enter>

ans = (sym) 8/3

3) >>syms x <Enter>

>>f=sym('x/(sqrt(x+1)-1)') <Enter>

f = (sym)

$$\frac{x}{\sqrt{x + 1} - 1}$$

>>limit(f,'x',0) <Enter>

ans = (sym) 2

4) >>syms x <Enter>

>>f=sym('(sqrt(x^2+4)-2)/(sqrt(x^2+9)-3)') <Enter>

f = (sym)

$$\frac{\sqrt{x^2 + 4} - 2}{\sqrt{x^2 + 9} - 3}$$

```
>>limit(f,'x',0) <Enter>
```

```
ans = (sym) 3/2
```

**Приклад 4.5.** Обчисліть границі функцій:

$$1) \lim_{x \rightarrow \infty} \frac{5x^3 + 3x^2}{2x^4 + 3x - 5}; 2) \lim_{x \rightarrow \infty} \frac{8x^3 - 3x^2 + 2x}{4x^3 - 2x + 1}; 3) \lim_{x \rightarrow \infty} \frac{6x^5 - 3x^2 + 2x}{4x^3 - 2x + 1}.$$

*Розв'язання.* Зверніть увагу, що тепер змінна прямує до нескінченності. Тому в процесі обчислення границі слід замість певного числа писати `inf`:

```
1) >>syms x <Enter>
```

```
>>f=sym(' (5*x^3+3*x^2) / (2*x^4+3*x-5) ') <Enter>
```

f = (sym)

$$\frac{5 \cdot x^3 + 3 \cdot x^2}{2 \cdot x^4 + 3 \cdot x - 5}$$

```
>>limit(f,'x',inf) <Enter>
```

```
ans = (sym) 0
```

```
2) >>syms x <Enter>
```

```
>>f=sym(' (8*x^3-3*x^2+2*x) / (4*x^3-2*x+1) ') <Enter>
```

$$f = (\text{sym})$$

$$\frac{8 \cdot x^3 - 3 \cdot x^2 + 2 \cdot x}{4 \cdot x^3 - 2 \cdot x + 1}$$

>>limit(f,'x',inf) <Enter>

ans = (sym) 2

3) >>syms x <Enter>

>>f=sym(' (6\*x^5-3\*x^2+2\*x) / (4\*x^3-2\*x+1) ') <Enter>

f = (sym)

$$\frac{6 \cdot x^5 - 3 \cdot x^2 + 2 \cdot x}{4 \cdot x^3 - 2 \cdot x + 1}$$

>>limit(f,'x',inf) <Enter>

ans = (sym) ∞

**Приклад 4.6.** Обчисліть границі функцій:

$$1) \lim_{x \rightarrow 0} \frac{\operatorname{tg} 5x}{\sin 3x}; 2) \lim_{x \rightarrow 0} \frac{1 - \cos 6x}{\operatorname{tg}^2 6x}; 3) \lim_{x \rightarrow 0} \frac{\sin 5x}{\operatorname{arctg} 6x}; 4) \lim_{x \rightarrow 0} \frac{\sin^2\left(\frac{x}{3}\right)}{x^2}.$$

**Розв'язання:**

1) >>syms x <Enter>

>>f=sym('tan(5\*x)/sin(3\*x)') <Enter>

f = (sym)

tan(5·x)

-----  
sin(3·x)

```
>>limit(f,'x',0) <Enter>
ans = (sym) 5/3
```

```
2) >>syms x <Enter>
```

```
>>f=sym('(1-cos(6*x))/(tan(6*x))^2') <Enter>
```

```
f = (sym)
  1 - cos(6·x)
  ───────────
          2
tan (6·x)
```

```
>>limit(f,'x',0) <Enter>
ans = (sym) 1/2
```

```
3) >>syms x <Enter>
```

```
>>f=sym('sin(5*x)/atan(6*x)') <Enter>
```

```
f = (sym)
  sin(5·x)
  ───────────
atan(6·x)
```

```
>>limit(f,'x',0) <Enter>
ans = (sym) 5/6
```

```
4) >>syms x <Enter>
```

```
>>f=sym('(sin(x/3))^2/x^2') <Enter>
```

```
f = (sym)
  sin2( $\frac{x}{3}$ )
  ───────────
          2
          x
```

```
>>limit(f,'x',0) <Enter>
ans = (sym) 1/9
```

**Приклад 4.7.** Обчисліть границі функцій:

$$1) \lim_{x \rightarrow \infty} \left(1 + \frac{1}{x}\right)^{2x}; \quad 2) \lim_{x \rightarrow \infty} \left(1 + \frac{2}{3x}\right)^x; \quad 3) \lim_{x \rightarrow \infty} \left(1 + \frac{1}{x-1}\right)^{2x}; \quad 4) \lim_{x \rightarrow \infty} \left(\frac{6x-7}{6x+5}\right)^{2x-1}.$$

**Розв'язання:**

```
1) >>syms x <Enter>
>>f=sym(' (1+1/x) ^ (2*x) ') <Enter>
f = (sym)
```

$$\left(1 + \frac{1}{x}\right)^{2 \cdot x}$$

```
>>limit(f,'x',inf) <Enter>
ans = (sym)
      2
      e
```

```
2) >>syms x <Enter>
>>f=sym(' (1+2/(3*x)) ^ (x) ') <Enter>
f = (sym)
```

$$\left(1 + \frac{2}{3 \cdot x}\right)^x$$

```
>>limit(f,'x',inf) <Enter>
ans = (sym)
      2/3
      e
```

```
3) >>syms x <Enter>
>>f=sym(' (1+1/(x-1)) ^ (2*x) ') <Enter>
f = (sym)
```

$$\left(1 + \frac{1}{x-1}\right)^{2 \cdot x}$$

```
>>limit(f,'x',inf) <Enter>
ans = (sym)
      2
      e
```

```
4) >>syms x <Enter>
>>f=sym('((6*x-7)/(6*x+5))^(2*x-1)') <Enter>
f = (sym)
      2·x - 1
      (6·x - 7)
      (6·x + 5)
```

```
>>limit(f,'x',inf) <Enter>
ans = (sym)
      -4
      e
```

### 4.3. Завдання для самостійної роботи

Обчисліть границі функцій за допомогою команд програмного середовища GNU Octave.

#### Варіант 1

$$\begin{array}{lll} \text{a) } \lim_{x \rightarrow \infty} \frac{2x^2 - 3x + 1}{5x^2 + 3x - 2}; & \text{б) } \lim_{x \rightarrow \infty} \frac{3x^2 + 4x - 2}{4x^3 - 5x + 7}; & \text{в) } \lim_{x \rightarrow \infty} \frac{6x^4 + x - 12}{x^2 - 15x - 2}; \\ \text{г) } \lim_{x \rightarrow 1} \frac{x^2 + 3x - 4}{x^3 - 1}; & \text{г) } \lim_{x \rightarrow 5} \frac{\sqrt{x-1} - 2}{x - 5}; & \text{д) } \lim_{x \rightarrow 5} \frac{\sqrt{x+4} - 3}{\sqrt{x-1} - 2}; \\ \text{е) } \lim_{x \rightarrow 0} \frac{1 - \cos 2x}{1 - \cos 6x}; & \text{е) } \lim_{x \rightarrow \infty} \left( \frac{2x-1}{2x+3} \right)^{8x+1}. & \end{array}$$

#### Варіант 2

$$\begin{array}{lll} \text{a) } \lim_{x \rightarrow \infty} \frac{3x^2 + 5x - 1}{4x^2 - x + 5}; & \text{б) } \lim_{x \rightarrow \infty} \frac{7x^2 + 4x + 2}{9x^3 - 15x - 2}; & \text{в) } \lim_{x \rightarrow \infty} \frac{8x^3 + 2x - 9}{x^2 - 5x + 3}; \end{array}$$

$$\text{г) } \lim_{x \rightarrow 1} \frac{x^2 + 5x - 6}{2x^2 - x - 1};$$

$$\text{г) } \lim_{x \rightarrow 2} \frac{\sqrt{2x+5} - 3}{x-2};$$

$$\text{д) } \lim_{x \rightarrow 4} \frac{\sqrt{2x+1} - 3}{\sqrt{3x+4} - 4};$$

$$\text{е) } \lim_{x \rightarrow 0} \frac{\operatorname{tg} 2x}{\sin 3x};$$

$$\text{е) } \lim_{x \rightarrow \infty} \left( \frac{3x+1}{3x-2} \right)^{2x-1}.$$

### Вариант 3

$$\text{а) } \lim_{x \rightarrow \infty} \frac{5x^2 + 4x - 1}{6x^2 - x + 3};$$

$$\text{б) } \lim_{x \rightarrow \infty} \frac{4x^2 + 6x - 5}{9x^3 + 5x + 2};$$

$$\text{в) } \lim_{x \rightarrow \infty} \frac{8x^4 - 3x - 7}{x^2 + 25x - 6};$$

$$\text{г) } \lim_{x \rightarrow 1} \frac{2x^2 + 3x - 5}{x^2 - 1};$$

$$\text{г) } \lim_{x \rightarrow -2} \frac{x+2}{\sqrt{x+6} - 2};$$

$$\text{д) } \lim_{x \rightarrow 3} \frac{\sqrt{x+6} - 3}{\sqrt{3x} - 3};$$

$$\text{е) } \lim_{x \rightarrow 0} \frac{\arcsin 2x}{2x};$$

$$\text{е) } \lim_{x \rightarrow \infty} \left( \frac{2x+5}{2x-7} \right)^{3x+4}.$$

### Вариант 4

$$\text{а) } \lim_{x \rightarrow \infty} \frac{4x^2 + 3x - 2}{2x^2 + x + 4};$$

$$\text{б) } \lim_{x \rightarrow \infty} \frac{2x^2 + 16x - 8}{8x^3 + 9x + 3};$$

$$\text{в) } \lim_{x \rightarrow \infty} \frac{x^3 - 13x + 9}{4x^2 + 5x - 2};$$

$$\text{г) } \lim_{x \rightarrow 2} \frac{x^2 + 3x - 10}{x^2 - 4};$$

$$\text{г) } \lim_{x \rightarrow 1} \frac{x-1}{\sqrt{2x+7} - 3};$$

$$\text{д) } \lim_{x \rightarrow -1} \frac{\sqrt{x+5} - 2}{\sqrt{8-x} - 3};$$

$$\text{е) } \lim_{x \rightarrow 0} \frac{1 - \cos x}{x^2};$$

$$\text{е) } \lim_{x \rightarrow \infty} \left( \frac{4x-5}{4x-3} \right)^{3x+1}.$$

### Вариант 5

$$\text{а) } \lim_{x \rightarrow \infty} \frac{3x^2 + 15x - 1}{2x^2 - 7x + 2};$$

$$\text{б) } \lim_{x \rightarrow \infty} \frac{2x^3 + 6x + 8}{x^4 + 9x - 2};$$

$$\text{в) } \lim_{x \rightarrow \infty} \frac{3x^3 + 3x - 8}{4x^2 - 5x + 2};$$

$$\text{г) } \lim_{x \rightarrow 2} \frac{x^2 + 2x - 8}{x^2 - 2x};$$

$$\text{г) } \lim_{x \rightarrow 1} \frac{\sqrt{3x+6} - 3}{x-1};$$

$$\text{д) } \lim_{x \rightarrow 1} \frac{\sqrt{5x+4} - 3}{\sqrt{8x+1} - 3};$$

$$\text{е) } \lim_{x \rightarrow 0} \frac{\operatorname{ctg} 6x}{\operatorname{ctg} 2x};$$

$$\text{е) } \lim_{x \rightarrow \infty} \left( \frac{5x+1}{5x-3} \right)^{3x-1}.$$

**Варіант 6**

$$\begin{array}{lll} \text{a) } \lim_{x \rightarrow \infty} \frac{3x^2 + 3x + 1}{6x^3 + 2x - 1}; & \text{б) } \lim_{x \rightarrow \infty} \frac{x^3 - 6x - 2}{4x^4 - 9x + 7}; & \text{в) } \lim_{x \rightarrow \infty} \frac{2x^3 + 7x - 3}{4x^2 + 3x - 3}; \\ \text{г) } \lim_{x \rightarrow -1} \frac{x^2 + 5x + 4}{x^2 - 1}; & \text{г) } \lim_{x \rightarrow -1} \frac{\sqrt{2x + 6} - 2}{x + 1}; & \text{д) } \lim_{x \rightarrow 0} \frac{\sqrt{5x + 9} - 3}{\sqrt{8x + 1} - 1}; \\ \text{е) } \lim_{x \rightarrow 0} \frac{1 - \cos 8x}{1 - \cos 2x}; & \text{е) } \lim_{x \rightarrow \infty} \left( \frac{3x + 7}{3x - 5} \right)^{2x-1}. & \end{array}$$

**Варіант 7**

$$\begin{array}{lll} \text{a) } \lim_{x \rightarrow \infty} \frac{2x^3 + 2x^2 - 1}{x^3 + 5x + 1}; & \text{б) } \lim_{x \rightarrow \infty} \frac{2x^2 + 16x - 9}{9x^4 - 9x^2 - 13}; & \text{в) } \lim_{x \rightarrow \infty} \frac{8x^3 + 17x + 9}{4x^2 - 4x - 3}; \\ \text{г) } \lim_{x \rightarrow 3} \frac{x^2 + 2x - 15}{x^2 - 9}; & \text{г) } \lim_{x \rightarrow 0} \frac{\sqrt{x + 9} - 3}{x}; & \text{д) } \lim_{x \rightarrow 2} \frac{\sqrt{x + 2} - 2}{\sqrt{8x} - 4}; \\ \text{е) } \lim_{x \rightarrow 0} \frac{1 - \cos 6x}{x \sin 3x}; & \text{е) } \lim_{x \rightarrow \infty} \left( \frac{x + 2}{x - 5} \right)^{2x+3}. & \end{array}$$

**Варіант 8**

$$\begin{array}{lll} \text{a) } \lim_{x \rightarrow \infty} \frac{2x^3 + x^2 - x}{2x^3 + 6x - 1}; & \text{б) } \lim_{x \rightarrow \infty} \frac{12x^2 - 3x - 8}{7x^4 + 9x^2 - 3}; & \text{в) } \lim_{x \rightarrow \infty} \frac{9x^3 - 7x + 3}{3x^2 + 4x - 5}; \\ \text{г) } \lim_{x \rightarrow 0} \frac{x^3 + 2x^2 + 3x}{x^2 - x}; & \text{г) } \lim_{x \rightarrow 1} \frac{\sqrt{8x + 1} - 3}{x - 1}; & \text{д) } \lim_{x \rightarrow 3} \frac{\sqrt{2x + 2} - \sqrt{8}}{\sqrt{1 + x} - \sqrt{2}}; \\ \text{е) } \lim_{x \rightarrow 0} \frac{\operatorname{tg} 2x}{\sin 5x}; & \text{е) } \lim_{x \rightarrow \infty} \left( \frac{2x + 3}{2x - 4} \right)^{3x+5}. & \end{array}$$

**Варіант 9**

$$\begin{array}{lll} \text{a) } \lim_{x \rightarrow \infty} \frac{2x^2 - 7x + 2}{4x^2 + 7x - 1}; & \text{б) } \lim_{x \rightarrow \infty} \frac{x^2 - 6x + 8}{8x^4 - 9x^2 + 2}; & \text{в) } \lim_{x \rightarrow \infty} \frac{6x^3 - 7x^2 + 19}{4x^2 - 4x + 3}; \\ \text{г) } \lim_{x \rightarrow 1} \frac{3x^2 + 5x - 8}{x^2 + 3x - 4}; & \text{г) } \lim_{x \rightarrow 0} \frac{2x}{\sqrt{5x + 9} - 3}; & \text{д) } \lim_{x \rightarrow -1} \frac{\sqrt{2x + 11} - 3}{\sqrt{8 - x} - 3}; \end{array}$$

$$e) \lim_{x \rightarrow 0} \frac{\sin 3x}{\operatorname{tg} 6x};$$

$$e) \lim_{x \rightarrow \infty} \left( \frac{3x+2}{3x-4} \right)^{2x+3}.$$

### Варіант 10

$$a) \lim_{x \rightarrow \infty} \frac{5x^2 + 6x - 7}{2x^2 + 3x - 4};$$

$$б) \lim_{x \rightarrow \infty} \frac{4x^2 + 6x - 9}{9x^4 - 7x^2 - 2};$$

$$в) \lim_{x \rightarrow \infty} \frac{5x^3 - 7x^2 + 7}{5x^2 + 2x - 3};$$

$$г) \lim_{x \rightarrow -1} \frac{3x^2 - 5x - 8}{x^2 - 1};$$

$$г) \lim_{x \rightarrow 0} \frac{\sqrt{7x+4} - 2}{3x};$$

$$д) \lim_{x \rightarrow 1} \frac{\sqrt{2x+2} - 2}{\sqrt{5x-3} - \sqrt{2}};$$

$$e) \lim_{x \rightarrow 0} \sin 2x \operatorname{ctg} 5x;$$

$$e) \lim_{x \rightarrow \infty} \left( \frac{3x-2}{3x+4} \right)^{4x-1}.$$

### Варіант 11

$$a) \lim_{x \rightarrow \infty} \frac{3x^3 - 3x^2 + x}{6x^3 + 5};$$

$$б) \lim_{x \rightarrow \infty} \frac{2x^2 - 6x + 3}{3x^3 - 2x^2 - 12};$$

$$в) \lim_{x \rightarrow \infty} \frac{3x^3 + 7x^2 + 17}{15x^2 - 6x + 4};$$

$$г) \lim_{x \rightarrow -2} \frac{2x^2 - 3x - 14}{x^2 - 4};$$

$$г) \lim_{x \rightarrow 1} \frac{\sqrt{x^2 + 3} - 2}{x^2 - 1};$$

$$д) \lim_{x \rightarrow 4} \frac{\sqrt{2x+1} - 3}{\sqrt{3x-11} - 1};$$

$$e) \lim_{x \rightarrow 0} \frac{x \sin 2x}{1 - \cos 8x};$$

$$e) \lim_{x \rightarrow \infty} \left( \frac{x+5}{x-7} \right)^{6x-1}.$$

### Варіант 12

$$a) \lim_{x \rightarrow \infty} \frac{6x^2 + 4x - 1}{3x^2 + 2x + 2};$$

$$б) \lim_{x \rightarrow \infty} \frac{6x^3 - 2x + 3}{5x^4 - 12x^2 + 2};$$

$$в) \lim_{x \rightarrow \infty} \frac{9x^3 + x^2 + 7}{5x^2 - 2x - 4};$$

$$г) \lim_{x \rightarrow -1} \frac{3x^2 + 3x}{2x^2 - x - 3};$$

$$г) \lim_{x \rightarrow -1} \frac{\sqrt{x^2 + 8} - 3}{x+1};$$

$$д) \lim_{x \rightarrow 0} \frac{\sqrt{2x+1} - 1}{\sqrt{3x+2} - \sqrt{2}};$$

$$e) \lim_{x \rightarrow 0} \frac{\arcsin 4x}{2x};$$

$$e) \lim_{x \rightarrow \infty} \left( \frac{2x+4}{2x-1} \right)^{2x+1}.$$

### Варіант 13

$$a) \lim_{x \rightarrow \infty} \frac{2x^2 + 6x + 5}{4x^2 - 3x + 1};$$

$$б) \lim_{x \rightarrow \infty} \frac{2x^3 - 12x + 5}{x^4 - 2x^2 + 12};$$

$$в) \lim_{x \rightarrow \infty} \frac{4x^3 + 2x^2 - 7}{8x^2 + 2x - 3};$$

$$\begin{array}{lll} \text{г) } \lim_{x \rightarrow 1} \frac{5x^2 + 6x - 11}{x^2 + 2x - 3}; & \text{г) } \lim_{x \rightarrow 2} \frac{\sqrt{2x+5} - 3}{3x - 6}; & \text{д) } \lim_{x \rightarrow 3} \frac{\sqrt{x+1} - 2}{\sqrt{3x-2} - \sqrt{7}}; \\ \text{е) } \lim_{x \rightarrow 0} \operatorname{tg} 3x \operatorname{ctg} 6x; & \text{е) } \lim_{x \rightarrow \infty} \left( \frac{2x+5}{2x-3} \right)^{4x-1}. & \end{array}$$

#### Варіант 14

$$\begin{array}{lll} \text{а) } \lim_{x \rightarrow \infty} \frac{x^3 + 2x^2 - 1}{2x^3 + x + 2}; & \text{б) } \lim_{x \rightarrow \infty} \frac{3x^3 - 12x^2 - 5}{2x^4 - 2x^2 + 7}; & \text{в) } \lim_{x \rightarrow \infty} \frac{4x^3 + 2x^2 - 7}{8x^2 + 2x - 3}; \\ \text{г) } \lim_{x \rightarrow 2} \frac{3x^2 + 5x - 22}{x^2 - 4}; & \text{г) } \lim_{x \rightarrow 2} \frac{3x - 6}{\sqrt{2x} - 2}; & \text{д) } \lim_{x \rightarrow 5} \frac{\sqrt{2x-1} - 3}{\sqrt{5x} - 5}; \\ \text{е) } \lim_{x \rightarrow 0} \frac{1 - \cos 4x}{1 - \cos 8x}; & \text{е) } \lim_{x \rightarrow \infty} \left( \frac{x+3}{x+5} \right)^{4x+1}. & \end{array}$$

#### Варіант 15

$$\begin{array}{lll} \text{а) } \lim_{x \rightarrow \infty} \frac{1 + 2x - 3x^2}{2 - 2x + 3x^2}; & \text{б) } \lim_{x \rightarrow \infty} \frac{5x^3 - 2x^2 + 5}{2x^4 - 12x^2 + 7}; & \text{в) } \lim_{x \rightarrow \infty} \frac{7x^3 + 9x^2 - 17}{8x^2 - 3x + 3}; \\ \text{г) } \lim_{x \rightarrow -2} \frac{2x^2 + 3x - 2}{x^2 + 3x + 2}; & \text{г) } \lim_{x \rightarrow 0} \frac{4x}{\sqrt{3x+4} - 2}; & \text{д) } \lim_{x \rightarrow -1} \frac{\sqrt{2x+11} - 3}{\sqrt{15-x} - 4}; \\ \text{е) } \lim_{x \rightarrow 0} \frac{3x}{\arcsin 6x}; & \text{е) } \lim_{x \rightarrow \infty} \left( \frac{2x-3}{2x+1} \right)^{3x-3}. & \end{array}$$

#### Варіант 16

$$\begin{array}{lll} \text{а) } \lim_{x \rightarrow \infty} \frac{x^3 + x + 2}{2x^3 - x^2 + 2}; & \text{б) } \lim_{x \rightarrow \infty} \frac{15x^3 - 8x^2 + 5}{12x^4 - 2x^2 + 7}; & \text{в) } \lim_{x \rightarrow \infty} \frac{6x^3 + x^2 - 7}{8x^2 + x + 3}; \\ \text{г) } \lim_{x \rightarrow 1} \frac{2x^2 - 2}{\sqrt{x+3} - 2}; & \text{г) } \lim_{x \rightarrow 3} \frac{\sqrt{x+1} - 2}{2x - 6}; & \text{д) } \lim_{x \rightarrow -2} \frac{\sqrt{x+11} - 3}{\sqrt{5-2x} - 3}; \\ \text{е) } \lim_{x \rightarrow 0} \frac{\cos x - \cos^2 x}{x^2}; & \text{е) } \lim_{x \rightarrow \infty} \left( \frac{2x+1}{2x+5} \right)^{3x+3}. & \end{array}$$

**Варіант 17**

$$\begin{array}{lll} \text{a) } \lim_{x \rightarrow \infty} \frac{2x^3 + 3x + 4}{4x^3 + x^2 + 2}; & \text{б) } \lim_{x \rightarrow \infty} \frac{12x^3 + 8x^2 - 5x}{2x^4 - 2x^3 + 9}; & \text{в) } \lim_{x \rightarrow \infty} \frac{3x^3 + 4x^2 - 7}{2x^2 + 11x + 3}; \\ \text{г) } \lim_{x \rightarrow 3} \frac{x^2 + x - 12}{x^2 - 9}; & \text{г) } \lim_{x \rightarrow 0} \frac{\sqrt{2x+1} - 1}{x}; & \text{д) } \lim_{x \rightarrow 0} \frac{\sqrt{x+25} - 5}{\sqrt{15-2x} - \sqrt{15}}; \\ \text{е) } \lim_{x \rightarrow 0} \frac{\sin x}{\operatorname{tg} 4x}; & \text{е) } \lim_{x \rightarrow \infty} \left( \frac{2x+5}{2x+4} \right)^{3x+1}. & \end{array}$$

**Варіант 18**

$$\begin{array}{lll} \text{a) } \lim_{x \rightarrow \infty} \frac{4 + 2x - x^2}{2 - x - 2x^2}; & \text{б) } \lim_{x \rightarrow \infty} \frac{2x^3 - 4x^2 + 5x}{2x^4 + 2x^3 - 9x}; & \text{в) } \lim_{x \rightarrow \infty} \frac{3x^3 + 4x^2 - 7}{2x^2 + 11x + 3}; \\ \text{г) } \lim_{x \rightarrow 1} \frac{4x^2 - 3x - 1}{2x - 2}; & \text{г) } \lim_{x \rightarrow 2} \frac{3x - 6}{\sqrt{3x-2} - 2}; & \text{д) } \lim_{x \rightarrow 2} \frac{\sqrt{3x+30} - 6}{\sqrt{13-2x} - 3}; \\ \text{е) } \lim_{x \rightarrow 0} \frac{\sin^2 2x}{\sin^2 4x}; & \text{е) } \lim_{x \rightarrow \infty} \left( \frac{x+3}{x-6} \right)^{5x-1}. & \end{array}$$

**Варіант 19**

$$\begin{array}{lll} \text{a) } \lim_{x \rightarrow \infty} \frac{4x^2 + 4x + 1}{8x^2 - x + 3}; & \text{б) } \lim_{x \rightarrow \infty} \frac{4x^3 - 14x^2 + 5x}{12x^4 + 2x^3 - 7x}; & \text{в) } \lim_{x \rightarrow \infty} \frac{13x^3 - 4x^2 + 17}{2x^2 - 11x + 4}; \\ \text{г) } \lim_{x \rightarrow 0} \frac{x^2 + 4x}{2x}; & \text{г) } \lim_{x \rightarrow 2} \frac{\sqrt{3x+3} - 3}{4x - 8}; & \text{д) } \lim_{x \rightarrow -2} \frac{\sqrt{3x+31} - 5}{\sqrt{1-2x} - \sqrt{5}}; \\ \text{е) } \lim_{x \rightarrow 0} \frac{1 - \cos 6x}{x \operatorname{tg} 3x}; & \text{е) } \lim_{x \rightarrow \infty} \left( \frac{2x-5}{2x+1} \right)^{7x-1}. & \end{array}$$

**Варіант 20**

$$\begin{array}{lll} \text{a) } \lim_{x \rightarrow \infty} \frac{8x^2 - x + 3}{4x^2 + 2x - 1}; & \text{б) } \lim_{x \rightarrow \infty} \frac{7x^3 - 4x^2 + 15x}{2x^4 + 12x^3 - 9x}; & \text{в) } \lim_{x \rightarrow \infty} \frac{5x^3 - 14x^2 + 7}{2x^2 - 6x + 4}; \\ \text{г) } \lim_{x \rightarrow 1} \frac{x^3 - 1}{x^2 + 3x - 4}; & \text{г) } \lim_{x \rightarrow 1} \frac{\sqrt{5x+4} - 3}{x-1}; & \text{д) } \lim_{x \rightarrow -2} \frac{\sqrt{3x+31} - 5}{\sqrt{1-2x} - \sqrt{5}}; \\ \text{е) } \lim_{x \rightarrow 0} \frac{x^2}{1 - \cos 3x}; & \text{е) } \lim_{x \rightarrow \infty} \left( \frac{2x+3}{2x-7} \right)^{6x+1}. & \end{array}$$

**Варіант 21**

$$\begin{array}{lll} \text{a) } \lim_{x \rightarrow \infty} \frac{6x^2 + 5x - 1}{3x^2 - x + 7}; & \text{б) } \lim_{x \rightarrow \infty} \frac{8x^3 - 14x^2 + 15x}{x^4 + 12x^3 + 9x - 1}; & \text{в) } \lim_{x \rightarrow \infty} \frac{7x^3 - 14x^2 - 3}{2x^2 + 16x + 4}; \\ \text{г) } \lim_{x \rightarrow 1} \frac{x^2 - 7x + 6}{x^2 - 1}; & \text{г) } \lim_{x \rightarrow 0} \frac{\sqrt{7x+1} - 1}{5x}; & \text{д) } \lim_{x \rightarrow 1} \frac{\sqrt{x+24} - 5}{\sqrt{1+4x} - \sqrt{5}}; \\ \text{е) } \lim_{x \rightarrow 0} \frac{1 - \cos 4x}{2x^2}; & \text{е) } \lim_{x \rightarrow \infty} \left( \frac{3x+5}{3x-2} \right)^{7x-1}. & \end{array}$$

**Варіант 22**

$$\begin{array}{lll} \text{a) } \lim_{x \rightarrow \infty} \frac{2 + 5x + 6x^2}{7 - 3x - 2x^2}; & \text{б) } \lim_{x \rightarrow \infty} \frac{3x^3 - 4x^2 + 15x}{2x^4 + 12x^3 + 9x}; & \text{в) } \lim_{x \rightarrow \infty} \frac{5x^3 - 4x^2 + 13}{4x^2 + 16x - 5}; \\ \text{г) } \lim_{x \rightarrow 2} \frac{x^2 + 7x - 18}{x - 2}; & \text{г) } \lim_{x \rightarrow 1} \frac{\sqrt{5x-1} - 2}{3x - 3}; & \text{д) } \lim_{x \rightarrow 4} \frac{\sqrt{2x+28} - 6}{\sqrt{1+x} - \sqrt{5}}; \\ \text{е) } \lim_{x \rightarrow 0} \frac{\sin x - \sin 2x}{2x}; & \text{е) } \lim_{x \rightarrow \infty} \left( \frac{2x+9}{2x+7} \right)^{3x+2}. & \end{array}$$

**Варіант 23**

$$\begin{array}{lll} \text{a) } \lim_{x \rightarrow \infty} \frac{5x^2 + 7x - 1}{10x^2 + x - 2}; & \text{б) } \lim_{x \rightarrow \infty} \frac{9x^3 - 14x^2 + 5x}{3x^4 + 2x^3 - 9x}; & \text{в) } \lim_{x \rightarrow \infty} \frac{6x^3 + 7x^2 - 13}{2x^2 + 16x - 15}; \\ \text{г) } \lim_{x \rightarrow -1} \frac{2x^2 - x - 3}{x^3 + 1}; & \text{г) } \lim_{x \rightarrow 0} \frac{3x}{\sqrt{3x+9} - 3}; & \text{д) } \lim_{x \rightarrow 0} \frac{\sqrt{2x+25} - 5}{\sqrt{1+x} - 1}; \\ \text{е) } \lim_{x \rightarrow 0} \frac{\operatorname{tg}^2 x}{\sin^2 2x}; & \text{е) } \lim_{x \rightarrow \infty} \left( \frac{3x-1}{3x+4} \right)^{x+1}. & \end{array}$$

**Варіант 24**

$$\begin{array}{lll} \text{a) } \lim_{x \rightarrow \infty} \frac{x^3 + 5x^2 - 3}{2x^3 - x^2 + 3}; & \text{б) } \lim_{x \rightarrow \infty} \frac{x^3 - 4x^2 + 5x - 1}{3x^4 - 2x^3 - 8x + 3}; & \text{в) } \lim_{x \rightarrow \infty} \frac{8x^3 + 17x^2 - 3}{2x^2 + 6x - 1}; \\ \text{г) } \lim_{x \rightarrow -1} \frac{x+1}{x^2 + 5x + 4}; & \text{г) } \lim_{x \rightarrow 3} \frac{2x-6}{\sqrt{x+6} - 3}; & \text{д) } \lim_{x \rightarrow 3} \frac{\sqrt{3x+16} - 5}{\sqrt{3x} - 3}; \\ \text{е) } \lim_{x \rightarrow 0} \frac{\sin 2x - \sin x}{3x}; & \text{е) } \lim_{x \rightarrow \infty} \left( \frac{2x+1}{2x} \right)^{3x-1}. & \end{array}$$

**Варіант 25**

$$\begin{array}{lll} \text{a) } \lim_{x \rightarrow \infty} \frac{6 - 5x - 2x^3}{1 + 4x + x^3}; & \text{б) } \lim_{x \rightarrow \infty} \frac{9x^3 - x^2 - 11}{3x^4 - 18x + 3}; & \text{в) } \lim_{x \rightarrow \infty} \frac{4x^3 + 17x^2 + 3}{12x^2 - 6x - 1}; \\ \text{г) } \lim_{x \rightarrow 1} \frac{5x^2 + 7x - 12}{x^2 + 3x - 4}; & \text{г) } \lim_{x \rightarrow 0} \frac{\sqrt{1+3x} - \sqrt{1+x}}{x}; & \text{д) } \lim_{x \rightarrow -3} \frac{\sqrt{3x+25} - 4}{\sqrt{1-3x} - \sqrt{10}}; \\ \text{е) } \lim_{x \rightarrow 0} \frac{x^2 \operatorname{ctg} 2x}{\sin 3x}; & \text{е) } \lim_{x \rightarrow \infty} \left( \frac{5x-1}{5x+2} \right)^{x+1}. & \end{array}$$

**Варіант 26**

$$\begin{array}{lll} \text{a) } \lim_{x \rightarrow \infty} \frac{6x^2 + 5x - 1}{3x^2 - x + 7}; & \text{б) } \lim_{x \rightarrow \infty} \frac{7x^3 - 12x^2 + 15}{3x^4 - 8x^2 + 17}; & \text{в) } \lim_{x \rightarrow \infty} \frac{x^3 + 6x^2 - 7}{9x^2 - 3x + 13}; \\ \text{г) } \lim_{x \rightarrow 1} \frac{x^2 - 7x + 6}{x^2 - 1}; & \text{г) } \lim_{x \rightarrow 0} \frac{\sqrt{7x+1} - 1}{5x}; & \text{д) } \lim_{x \rightarrow 1} \frac{\sqrt{3x+22} - 5}{\sqrt{1+3x} - 2}; \\ \text{е) } \lim_{x \rightarrow 0} \frac{1 - \cos 4x}{2x^2}; & \text{е) } \lim_{x \rightarrow \infty} \left( \frac{3x+5}{3x-2} \right)^{7x-1}. & \end{array}$$

**Варіант 27**

$$\begin{array}{lll} \text{a) } \lim_{x \rightarrow \infty} \frac{2 + 5x + 6x^2}{7 - 3x - 2x^2}; & \text{б) } \lim_{x \rightarrow \infty} \frac{7x^3 - 4x^2 + 11x}{3x^4 + 2x^3 - 9x}; & \text{в) } \lim_{x \rightarrow \infty} \frac{5x^3 + 4x^2 - 9}{x^2 + 6x - 4}; \\ \text{г) } \lim_{x \rightarrow 2} \frac{x^2 + 7x - 18}{x - 2}; & \text{г) } \lim_{x \rightarrow 1} \frac{\sqrt{5x-1} - 2}{3x-3}; & \text{д) } \lim_{x \rightarrow -1} \frac{\sqrt{3x+19} - 4}{\sqrt{1-3x} - 2}; \\ \text{е) } \lim_{x \rightarrow 0} \frac{\sin x - \sin 2x}{2x}; & \text{е) } \lim_{x \rightarrow \infty} \left( \frac{2x+9}{2x+7} \right)^{3x+2}. & \end{array}$$

**Варіант 28**

$$\begin{array}{lll} \text{a) } \lim_{x \rightarrow \infty} \frac{5x^2 + 7x - 1}{10x^2 + x - 2}; & \text{б) } \lim_{x \rightarrow \infty} \frac{11x^3 + 8x^2 - 4}{11x^4 - 2x^2 + x}; & \text{в) } \lim_{x \rightarrow \infty} \frac{9x^3 + 2x^2 - 7}{2x^2 + 6x + 13}; \\ \text{г) } \lim_{x \rightarrow -1} \frac{2x^2 - x - 3}{x^3 + 1}; & \text{г) } \lim_{x \rightarrow 0} \frac{3x}{\sqrt{3x+9} - 3}; & \text{д) } \lim_{x \rightarrow -4} \frac{\sqrt{3x+28} - 4}{\sqrt{1-2x} - 3}; \\ \text{е) } \lim_{x \rightarrow 0} \frac{\operatorname{tg}^2 x}{\sin^2 2x}; & \text{е) } \lim_{x \rightarrow \infty} \left( \frac{3x-1}{3x+4} \right)^{x+1}. & \end{array}$$

### Варіант 29

а)  $\lim_{x \rightarrow \infty} \frac{x^3 + 5x^2 - 3}{2x^3 - x^2 + 3}$ ; б)  $\lim_{x \rightarrow \infty} \frac{15x^3 - 8x^2 - 4x}{x^4 - 12x^2 + 3x}$ ; в)  $\lim_{x \rightarrow \infty} \frac{3x^3 + 12x^2 - 9}{2x^2 - 6x + 15}$ ;  
г)  $\lim_{x \rightarrow -1} \frac{x+1}{x^2 + 5x + 4}$ ; г)  $\lim_{x \rightarrow 3} \frac{2x-6}{\sqrt{x+6}-3}$ ; д)  $\lim_{x \rightarrow 0} \frac{\sqrt{3x+25}-5}{\sqrt{1-6x}-1}$ ;  
е)  $\lim_{x \rightarrow 0} \frac{\sin 2x - \sin x}{3x}$ ; е)  $\lim_{x \rightarrow \infty} \left( \frac{2x+1}{2x} \right)^{3x-1}$ .

### Варіант 30

а)  $\lim_{x \rightarrow \infty} \frac{6-5x-2x^3}{1+4x+x^3}$ ; б)  $\lim_{x \rightarrow \infty} \frac{6x^3 - 5x^2 - 4x}{3x^4 - 12x^2 + 5x}$ ; в)  $\lim_{x \rightarrow \infty} \frac{7x^3 + 2x^2 - 3}{12x^2 + 8x + 5}$ ;  
г)  $\lim_{x \rightarrow 1} \frac{5x^2 + 7x - 12}{x^2 + 3x - 4}$ ; г)  $\lim_{x \rightarrow 0} \frac{\sqrt{1+3x} - \sqrt{1+x}}{x}$ ; д)  $\lim_{x \rightarrow 1} \frac{\sqrt{x+24}-5}{\sqrt{13+3x}-4}$ ;  
е)  $\lim_{x \rightarrow 0} \frac{x^2 \operatorname{ctg} 2x}{\sin 3x}$ ; е)  $\lim_{x \rightarrow \infty} \left( \frac{5x-1}{5x+2} \right)^{x+1}$ .

### Контрольні запитання

1. За допомогою якої функції GNU Octave можна обчислити границю функції?
2. Що є аргументами функції `limit`?
3. Як записати функцію в символьному форматі?
4. Як задати аргумент функції у GNU Octave?
5. Як визначити границю функції, якщо її аргумент прямує до нуля в GNU Octave? Як визначити границю функції, якщо її аргумент прямує до числа, що не дорівнює нулю в GNU Octave? Які є особливості обчислення функції, якщо її аргумент прямує до нескінченності?
6. Як обчислити ліву та праву границі функції?
7. Чи обов'язково під час обчислювання декількох границь кожен раз оголошувати змінні та параметри, якщо раніше вони вже були описаними?
8. Які елементарні математичні функції середовища GNU Octave використовують під час обчислення границь функцій?

## 5. Диференціальне числення функції однієї змінної

### Мета:

- ✚ набуття навичок в обчисленні похідної функції та похідної функції в точці за допомогою середовища GNU Octave;
- ✚ набуття навичок в обчисленні похідної функції, заданої неявно, за допомогою середовища GNU Octave;
- ✚ набуття навичок в обчисленні похідної функції, заданої параметрично, за допомогою середовища GNU Octave;
- ✚ побудова графіка функції за допомогою середовища GNU Octave.

### Компетентності:

- уміння обчислювати похідну функції, похідну функції в точці, похідну функції, заданої неявно та параметрично;
- уміння будувати графік функції за допомогою середовища GNU Octave.

### 5.1. Обчислення похідної функції

Диференціювання в Octave здійснюють у техніці символьних змінних. Для обчислення похідної використовують функцію `diff`.

За допомогою функції `diff` можна обчислити похідні явної функції, неявної функції та функції, заданої параметрично. Можна обчислити як перші похідні, так і похідні вищих порядків.

Першим вхідним аргументом функції `diff` є символьний вираз, що визначає функцію, яка диференціюється, другим – змінна диференціювання, а третім – порядок похідної.

Для того щоб обчислити похідну деякої функції  $f(x)$ , потрібно послідовно виконати такі дії:

- 1) задати всі символьні змінні, які використовують в описі функції, за допомогою команди `syms`;
- 2) задати функцію (або створити символьну функцію за допомогою функції `sym`, водночас немає потреби виконувати крок 1);
- 3) викликати функцію `diff`.

У таблиці 5.1 наведено опис функції `diff`.

Опис функції `diff`

Похідні функції	Команди GNU Octave	Описи команд
$f'(x)$	<code>diff(f)</code> , <code>diff(f, 'x')</code>	За замовчуванням $x$ є змінною функції. Якщо не вказано порядок похідної, то обчислюють похідну першого порядку
$f'(x, a)$	<code>diff(f, 'a')</code>	Для функцій, які залежать від змінної $x$ і від параметра $a$ , за яким обчислюють першу похідну
$f^{(n)}(x)$	<code>diff(f, 'x', n)</code> , <code>diff(f, n)</code>	Похідна $n$ -го порядку за змінною $x$
$f^{(n)}(x, a)$	<code>diff(f, 'a', n)</code>	Похідна $n$ -го порядку за змінною $a$

**Зауваження 1:** під час обчислювання декількох похідних не обов'язково кожен раз оголошувати змінні та параметри, якщо раніше вони вже були описаними.

**Зауваження 2:** для уникнення плутанини під час роботи із функцією `diff` рекомендують викликати її у формі `diff(f, 'x', n)`.

Розгляньмо декілька прикладів визначення похідної функції.

**Приклад 5.1.** Обчисліть похідну функції

$$y = \frac{5}{x^3} + 8x^{\frac{3}{4}} + 2\sqrt[4]{x} + 9x \cdot \sqrt[3]{x^2} - 3.$$

**Розв'язання.** Спочатку опишемо змінну, потім уведемо функцію й обчислюємо похідну:

```
>>syms x
>>f=sym('5/x^3+8*x^(3/4)+2*x^(1/4)+9*x*x^(2/3)-3')
f = (sym)
      3/4      4      _____      5/3      5
      8·x      + 2·√ x      + 9·x      - 3 + —
                                          3
                                          x
```

```
>>diff(f, 'x')
ans = (sym)
      2/3   15      6      1
      15·x  -  --- +  --- +  ---
              4      4      3/4
              x   √ x   2·x
```

**Приклад 5.2.** Обчисліть похідну функції  $y = \frac{x - \sin x}{\sqrt{x}}$ .

*Розв'язання.*

```
>>syms x
>>f=sym(' (x-sin(x))/sqrt(x) ')
f = (sym)
      x - sin(x)
      -----
           √x
>>diff(f, 'x')
ans = (sym)
      1 - cos(x)   x - sin(x)
      ----- - -----
           √x           3/2
                   2·x
```

**Приклад 5.3.** Обчисліть похідну функції  $y = x^3 \operatorname{arctg} x$ .

*Розв'язання.*

```
>>syms x
>>f=sym('x^3*atan(x)')

f = (sym)
      3
      x ·atan(x)

>>diff(f, 'x')
```

```
ans = (sym)
      3
      x      2
      ----- + 3·x ·atan(x)
      2
x  + 1
```

**Приклад 5.4.** Обчисліть похідну функції  $y = (x^3 - 1)(x^2 + x + 1)$ .

*Розв'язання.*

```
>>syms x
>>f=sym('(x^3-1)*(x^2+x+1)')
f = (sym)
```

$$\left(x^3 - 1\right) \cdot \left(x^2 + x + 1\right)$$

```
>>diff(f,'x')
ans = (sym)
```

$$3 \cdot x^2 \cdot \left(x^2 + x + 1\right) + \left(2 \cdot x + 1\right) \cdot \left(x^3 - 1\right)$$

**Приклад 5.5.** Обчисліть похідну функції  $y = \sin(3x + 1)$ .

*Розв'язання.*

```
>>syms x
>>f=sym('sin(3*x+1)')
f = (sym) sin(3·x + 1)
>>diff(f,'x')
ans = (sym) 3·cos(3·x + 1)
```

**Приклад 5.6.** Обчисліть похідну функції  $y = (1 - x^4 - x^8)^{-\frac{1}{2}}$ .

*Розв'язання.*

```
>>syms x
>>f=sym('(1-x^4-x^8)^(-1/2)')
```

f = (sym)

$$\frac{1}{\sqrt{-x^8 - x^4 + 1}}$$

>>diff(f, 'x')

ans = (sym)

$$\frac{4 \cdot x^7 + 2 \cdot x^3}{\left(-x^8 - x^4 + 1\right)^{3/2}}$$

**Приклад 5.7.** Обчисліть похідну функції  $y = \left(\cos 3x + \arcsin^2 \sqrt{x}\right)^3$ .

*Розв'язання.*

>>syms x

>>f=sym('(cos(3\*x)+(asin(sqrt(x)))^2)^3')

f = (sym)

$$\left(\cos(3 \cdot x) + \arcsin^2(\sqrt{x})\right)^3$$

>>diff(f, 'x')

ans = (sym)

$$\left(-9 \cdot \sin(3 \cdot x) + \frac{3 \cdot \arcsin(\sqrt{x})}{\sqrt{x} \cdot \sqrt{1-x}}\right) \cdot \left(\cos(3 \cdot x) + \arcsin^2(\sqrt{x})\right)^2$$

**Приклад 5.8.** Обчисліть похідну функції  $y = e^{-x^2}$ .

*Розв'язання.*

```
>>syms x
>>f=sym('exp(-x^2)')
f = (sym)
      2
     -x
     e
>>diff(f,'x')
ans = (sym)
      2
     -x
    -2·x·e
```

## 5.2. Обчислення похідної функції в точці

Для того щоб обчислити значення похідної функції в точці, потрібно застосувати команду `subs` (вираз, змінна, точка).

**Приклад 5.9.** Обчисліть похідну функції  $y = x^2 - 3x + 4$  в точці  $x = 1$ .

*Розв'язання.*

```
>>syms x
>>f=sym('x^2-3*x+4')
f = (sym)
      2
     x  - 3·x + 4
>>df=diff(f,'x')
df = (sym) 2·x - 3
>>subs(df,'x',1)
ans = (sym) -1
```

**Приклад 5.10.** Складіть рівняння дотичної до графіка функції  $y = x^3 + 2x - 1$  в точці з абсцисою  $x = 0$ .

*Розв'язання.* Рівняння дотичної до графіка функції в заданій точці має такий вигляд:

$$y - f(x_0) = f'(x_0)(x - x_0), \text{ або } y = kx + b,$$

де коефіцієнти рівняння обчислюють за такими формулами:

$$k = f'(x_0); b = f(x_0) - f'(x_0) \cdot x_0.$$

```
>>syms x
>>x0=0; % значення абсциси точки дотику
>>f=sym('x^3+2*x-1') % визначаймо функцію
f = (sym)
  3
  x  + 2·x - 1

>>f0=subs(f,'x',0) % визначаймо значення функції
в точці 0
f0 = (sym) -1
>>df=diff(f,'x') % визначаймо похідну заданої функції

df = (sym)
  2
  3·x  + 2

>>df0=subs(df,'x',0) % значення похідної в точці 0
df0 = (sym) 2

>>y=sym('k*x+b') % рівняння дотичної
y = (sym) b + k·x

>>k=df0
k = (sym) 2

>>b=f0-x0*df0
b = (sym) -1
```

```
>>y=k*x+b
```

```
y = (sym) 2*x - 1
```

**Приклад 5.11.** Задано деяку функцію  $y(x) = \frac{x}{x-70}$  залежності між собівартістю одиниці продукції  $y$  (тис. грн) та обсягом виготовленої продукції  $x$  (млн од.).

Обчисліть еластичність собівартості, якщо обсяг виготовленої продукції становить 60 млн од.

*Розв'язання.* Спочатку слід пригадати формулу еластичності:

$$E(y) = \frac{x}{y} \cdot y', \text{ де } y = y(x).$$

Отже, маємо:

```
>>syms E(x)
```

```
>>syms y(x)
```

```
>>y(x)=x/(x-70)
```

```
y(x) = (symfun)
```

$x$

$$\frac{x}{x - 70}$$

```
>>E(x)=(x/y(x))*diff(y(x))
```

```
E(x) = (symfun)
```

$$(x - 70) \cdot \left( -\frac{x}{(x - 70)^2} + \frac{1}{x - 70} \right)$$

```
>>E(60)
```

```
ans = (sym) 7
```

Отже, отримано, що в разі збільшення обсягу виготовлення продукції на 1 % від 60 млн од. собівартість одиниці продукції зросте на 7 %.

### 5.3. Обчислення похідної функції, заданої неявно

Функцію, задану неявно, визначають рівнянням  $F(x, y) = 0$ , де вважають, що змінна  $y$  є функцією від  $x$ :  $y = y(x)$ . Похідну  $y'$  обчислюють

за формулою  $y' = -\frac{F'_x(x, y)}{F'_y(x, y)}$ , де  $F'_x(x, y)$  – це похідна від функції

$F(x, y)$  за змінною  $x$ , коли змінну  $y$  вважають параметром, і, відповідно,  $F'_y(x, y)$  – це похідна від функції  $F(x, y)$  за змінною  $y$ , коли змінну  $x$  вважають параметром.

**Приклад 5.12.** Обчисліть похідну функції  $x^2 y^2 = \operatorname{tg} y$ .

*Розв'язання.* Виконуймо основні команди:

```
>>syms x
>>F=sym('x^2*y^2-tan(y)') % визначення функції F(x,y)
F = (sym)
      2  2
      x ·y - tan(y)
>>dFx=diff(F,'x') % обчислення F'x
dFx = (sym)
      2
      2·x·y
>>dFy=diff(F,'y') % обчислення F'y
dFy = (sym)
      2          2
      2·x ·y - tan (y) - 1
>>dy=-dFx/dFy

dy = (sym)
      2
      -2·x·y
      -----
      2          2
      2·x ·y - tan (y) - 1
```

## 5.4. Обчислення похідної функції, заданої параметрично

Функцію  $y=f(x)$  називають поданою в параметричній формі, якщо її визначено за допомогою двох функцій  $x=\varphi(t)$ ,  $y=\psi(t)$  від допоміжної змінної  $t$  (параметра), а саме:

$$\begin{cases} x=\varphi(t), \\ y=\psi(t). \end{cases}$$

Тоді її похідну обчислюють за такою формулою:

$$y'_x = \frac{y'_t}{x'_t} = \frac{\psi'(t)}{\varphi'(t)}.$$

**Приклад 5.13.** Обчисліть похідну функції  $\begin{cases} x = t^3 + 5\sin t, \\ y = t \cos 3t. \end{cases}$

*Розв'язання.*

```
>>syms t % уводимо параметр
>>x=t^3+5*sin(t) % записуємо вираз для x
x = (sym)
      3
      t  + 5*sin(t)

>>y=t*cos(3*t) % записуємо вираз для y
y = (sym) t*cos(3*t)

>>dxdt=diff(x,'t') % обчислюємо похідну x по t
dxdt = (sym)
        2
        3*t  + 5*cos(t)

>>dyt=diff(y,'t')
dyt = (sym) -3*t*sin(3*t) + cos(3*t) % обчислюємо
похідну y по t
```

```
>>dyx=dyt/dxt % обчислюймо похідну у по x
dyx = (sym)
      -3*t*sin(3*t) + cos(3*t)
      -----
              2
      3*t + 5*cos(t)
```

## 5.5. Побудова графіка функції

Розгляньмо побудову графіків у лінійному масштабі. Для цього можна скористатися функцією `plot`. Слід згадати, що залежно від вхідних аргументів функція `plot` дозволяє будувати один або декілька графіків, змінювати колір та стиль ліній і додавати маркери на кожен графік.

Побудову найпростішого графіка здійснюють так:

визначають вектор значень аргумента  $x$ ;

обчислюють вектор значень функції  $y(x)$ ;

уводять функцію `plot(x,y)` для побудови графіка (у результаті чого з'являється графічне вікно, у якому зображено графік функції).

Команди для визначення вектора  $x$  і обчислення значень функції  $y(x)$  краще закінчувати крапкою з комою, щоб їх значення не виводили в командне вікно.

Команда `plot` з'єднує точки з координатами  $(x_i, y_i)$  прямими відрізками, автоматично підбирає масштаб кожної осі в графічному вікні. Є можливість за допомогою команди `plot` власноруч задати колір і стиль зображених ліній, визначаючи параметри цієї команди таким чином:

```
>>plot (x,y, 's')
```

Колір лінії визначається буквою латинського алфавіту (табл. 5.2), стиль лінії – за допомогою символів «-» та «·» (табл. 5.3), а маркери – за допомогою геометричних фігур (табл. 5.4).

Таблиця 5.2

## Кольори лінії

Символи	Кольори лінії
b	синій
g	зелений
r	червоний
c	лимонний
m	фіолетовий
y	жовтий
k	чорний

Таблиця 5.3

## Стиль лінії

Символи	Стилі лінії
-	суцільна
.	пунктирна
..	штрих-пунктирна
--	штрихова
(none)	без лінії

Таблиця 5.4

## Символи маркерів

Символ маркеру	.	*	x	+	o	s	d	v	^	<	>	p	h
Зображення маркеру	крапка	*	×	+	o	■	◆	▼	▲	◀	▶	△	◐

Змінюючи третій аргумент функції `plot`, комбінуючи кольори, стилі й маркери, можна створювати різноманітні оформлення графіків. Зазначимо, що функції, графіки яких будують, не обов'язково визначені на однакових проміжках. У цьому разі вибирають максимальний проміжок і всі графіки будують на ньому.

Якщо потрібно побудувати декілька графіків на одній координатній площині, до команди `plot` слід увести одразу декілька функцій:

```
plot(x1, y1, x2, y2, ...).
```

Також до команди `plot` можна ввести параметри, які визначають вид кривої графіка функції.

Наприклад, якщо потрібно, щоб перший графік був накресленим червоною лінією, а другий – синіми точками, слід використати функцію: `plot(x1,y1,'-r',x2,y2,'.b')`.

Масив даних задають так:

```
x=початкове значення:крок:кінцеве значення
```

Можна також використати функцію `linspace`, аргументами якої є початкове значення, кінцеве значення та кількість точок між ними.

**Приклад 5.14.** Побудуйте графік функції  $y = \sin x$ .

*Розв'язання.* Виконаймо ескіз графіка (рис. 5.1):

```
>>x=-10:0.1:10;  
>>y=sin(x);  
>>plot(x,y)
```

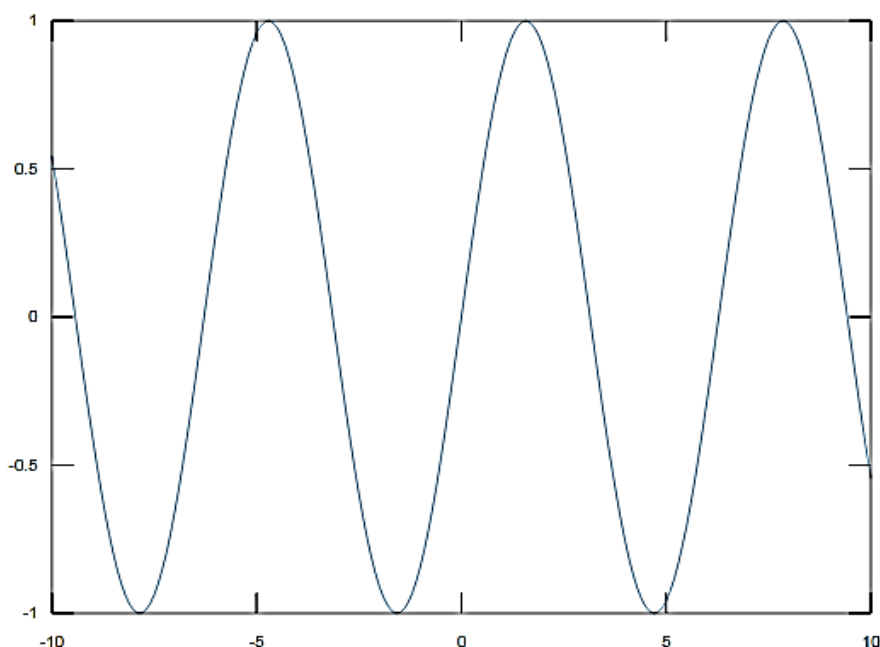


Рис. 5.1. Графік функції  $y = \sin x$

Зобразимо тепер той самий графік лінією червоного кольору (рис. 5.2):

```
>>x=-10:0.1:10;  
>>y=sin(x);  
>>plot(x,y,'-r')
```

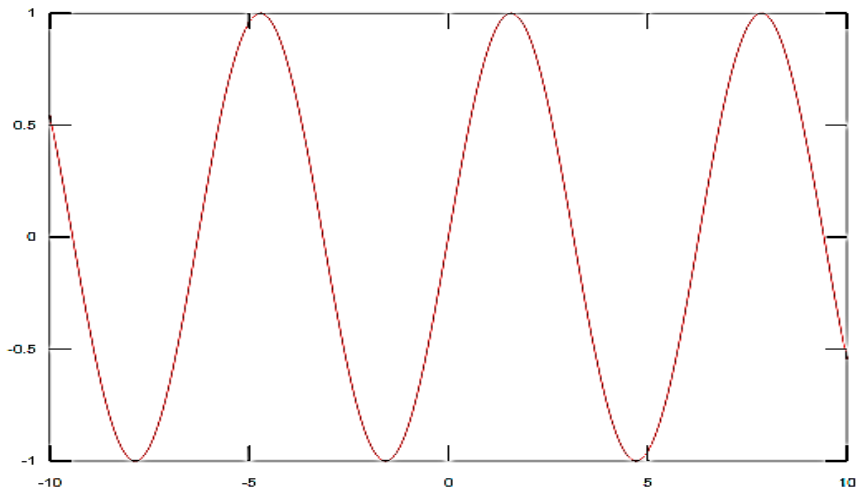


Рис. 5.2. Графік функції  $y = \sin x$  червоного кольору

А тепер – точками синього кольору (рис. 5.3):

```
>> x=-10:0.1:10;  
>> y=sin(x);  
>> plot(x,y,'.b')
```

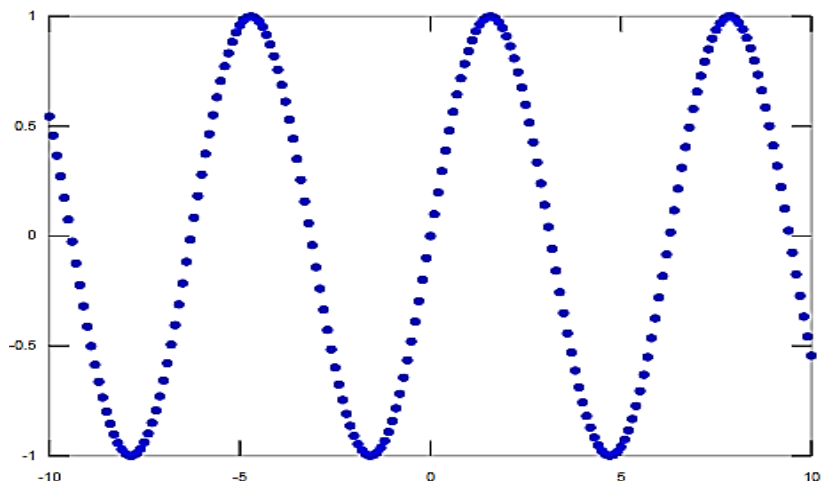


Рис. 5.3. Графік функції  $y = \sin x$  точками синього кольору

Для побудови графіків функцій, заданих у параметричному вигляді, також використовують функцію `plot`.

**Приклад 5.15.** Побудуйте графік астроїди, заданої рівнянням:

$$\begin{cases} x = 3\cos^3 t, \\ y = 3\sin^3 t, \\ t \in [0; 2\pi]. \end{cases}$$

*Розв'язання.*

```
>>t=0:pi/50:2*pi;  
>>x=3*cos(t).^3;  
>>y=3*sin(t).^3;  
>>plot(x,y)
```

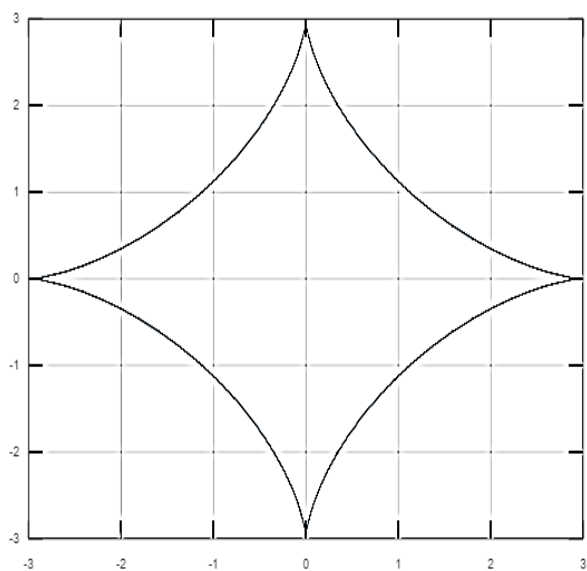
За допомогою команди `grid on` можна додати сітку до графіка.

За допомогою функції `linewidth` можна змінювати товщину лінії.

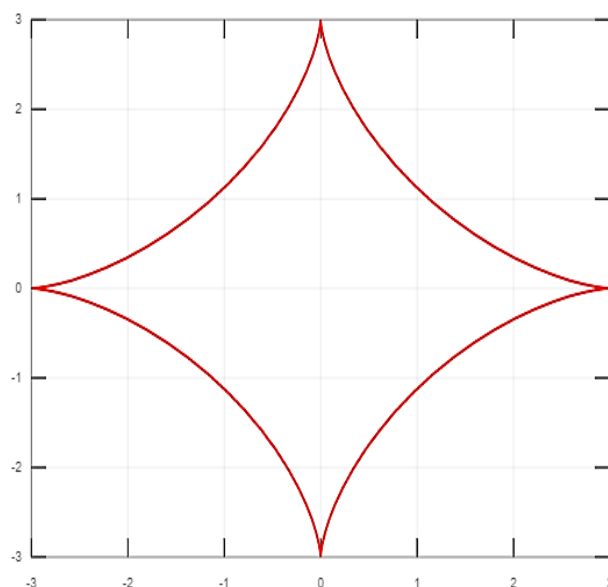
Наприклад, якщо потрібно, щоб графік астроїди був червоного кольору й товщина лінії дорівнювала 3 пікселям, то слід написати так:

```
>>plot(x, y, 'r','linewidth', 3)  
>>grid on
```

На рис. 5.4 та 5.5 зображено графіки астроїди.



**Рис. 5.4. Графік астроїди з доданими лініями сітки**



**Рис. 5.5. Графік астроїди червоного кольору й товщиною лінії 3 пікселі**

## 5.6. Завдання для самостійної роботи

1. Обчисліть похідні функцій.
2. Визначте рівняння дотичної до графіка функції в заданій точці.
3. Побудуйте графік функції двома кольорами, різними видами ліній і товщиною 2 пікселі.

### Варіант 1

1. а)  $y = (2+x)\sqrt{3-x}$ ; б)  $y = \frac{4\arctg 2x}{(x-1)^2}$ ;

в)  $y = \sqrt{25x^2 + 1}\arctg 5x - \frac{1}{(2x+1)^2}$ ; г)  $y = (x^2 + 1)^{\cos x}$ ;

г)  $y = \frac{\sqrt{x+5} \cdot (x-5)^3}{(x+7)^2}$ ; д)  $x^2 + 2xy + y^3 = 3$ ; е)  $x = \sqrt{1-t^2}$ ,  $y = \frac{1}{t}$ .

2.  $y = \frac{1+x^2}{1-x^2}$  в точці  $x_0 = 2$ .

3. а)  $y = \frac{1}{4}x^4 - 2x^3$ ; б)  $\begin{cases} x = \cos^2 t, \\ y = \sin^2 t, \\ t \in [0, 2\pi]. \end{cases}$

### Варіант 2

1. а)  $x\sqrt{x^2-1}$ ; б)  $y = \frac{\arcsin 3x}{(x-4)^3}$ ; в)  $y = \frac{1}{2\sqrt{x}} + \frac{x^3}{3}\arccos x$ ;

г)  $y = (x^4 + 5)^{\ctg x}$ ; г)  $y = \frac{(x-6)^3 \cdot (x+4)^5}{\sqrt{(x+1)^5}}$ ; д)  $y^2 = x \sin y$ ;

е)  $x = \sqrt{1-t}$ ,  $y = \frac{1}{\sqrt{t}}$ .

2.  $y = \frac{x+1}{(x-1)^2}$  в точці  $x_0 = -2$ .

$$3. \text{ a) } y = 2x^3 + 3x^2 - 5; \quad \text{б) } \begin{cases} x = 4 \cos t, \\ y = 3 \sin t, \\ t \in [0, 2\pi]. \end{cases}$$

### Варіант 3

$$1. \text{ a) } y = 3^{\operatorname{ctg} x}; \quad \text{б) } y = \frac{\ln(x-1)}{(x+5)^4}; \quad \text{в) } y = x\sqrt{4-x^2} + 4 \arcsin \frac{x}{2};$$

$$\text{г) } y = (\arcsin x)^{\sqrt{x}}; \quad \text{д) } y = \frac{(x+2)^4 \cdot (x-7)^5}{\sqrt[4]{(x-2)^3}}; \quad \text{е) } xy^2 - y \ln x = 5;$$

$$\text{ж) } x = te^t, \quad y = \arcsin t + \sin t.$$

$$2. \quad y = \frac{x^2}{x^2 - 4} \text{ в точці } x_0 = 1.$$

$$3. \text{ a) } y = \frac{1}{4}x^4 - x^3; \quad \text{б) } \begin{cases} x = 2 \cos t, \\ y = 5 \sin t, \\ t \in [0, 2\pi]. \end{cases}$$

### Варіант 4

$$1. \text{ a) } y = \arcsin(\ln x); \quad \text{б) } y = \frac{2 \arccos 4x}{(x+2)^3}; \quad \text{в) } y = (x^2 + 3)^{\sin x};$$

$$\text{г) } y = x\sqrt{x^2 - 1} + \ln(x + \sqrt{x^2 - 1}); \quad \text{д) } y = \frac{\sqrt{x+3} \cdot (x-4)^3}{(x+5)^6};$$

$$\text{е) } x + y + e^y \operatorname{arctg} x = 0; \quad \text{ж) } x = \sqrt{1+2t}, \quad y = 3t^2 \cos^2 \sqrt{t}.$$

$$2. \quad y = \frac{x}{8-x} \text{ в точці } x_0 = 3.$$

$$3. \text{ a) } y = \frac{1}{3}x^3 - x^2; \quad \text{б) } \begin{cases} x = 3(t - \sin t), \\ y = 3(1 - \cos t), \\ t \in [0, 2\pi]. \end{cases}$$

**Варіант 5**

1. а)  $y = \ln(\arcsin 3x)$ ; б)  $y = \frac{\ln(x-4)}{(x+15)^2}$ ; в)  $y = \sqrt{x^2 + \sqrt{\cos 3x}} - \frac{1}{\ln x}$ ;

г)  $y = (3x-2)^{\frac{2}{x}}$ ; д)  $y = \frac{(x-5)^3 \cdot (x-4)^7}{\sqrt{(x+1)^3}}$ ; е)  $\arctg y = 2x + \sqrt{y}$ ;

е)  $x = 2 + \sqrt{\sin t}$ ,  $y = t^2 \cos t$ .

2.  $y = \frac{x^2 + 2}{x^2 + 1}$  в точці  $x_0 = 3$ .

3. а)  $y = \frac{1}{3}x^3 + x^2$ ; б)  $\begin{cases} x = 5(t - \sin t), \\ y = 5(1 - \cos t), \\ t \in [0, 2\pi]. \end{cases}$

**Варіант 6**

1. а)  $y = (1 - 2\sqrt{x})^4$ ; б)  $y = \frac{4\arctg 3x}{(x-2)^3}$ ; в)  $y = (x^4 + 5)^{\operatorname{ctgx}}$ ;

г)  $y = \ln \sin \sqrt[3]{\arctg e^{3x}} + \frac{1}{2(x+1)^2}$ ; д)  $y = \frac{(x+5)^8 \cdot (x-4)^4}{\sqrt[5]{(x-2)^2}}$ ;

е)  $\arctg y = x \sin y$ ; е)  $x = t^3 + 5 \sin t$ ,  $y = t \cos 3t$ .

2.  $y = \frac{x^4 + 1}{4x^2}$  в точці  $x_0 = -1$ .

3. а)  $y = \frac{3}{4}x^4 - x^3$ ; б)  $\begin{cases} x = 4(t - \sin t), \\ y = 4(1 - \cos t), \\ t \in [0, 2\pi]. \end{cases}$

**Варіант 7**

1. а)  $y = \sqrt{\arctg x}$ ; б)  $y = \frac{\ln(x+9)}{(x-3)^4}$ ; в)  $y = (\operatorname{ctgx})^{\frac{1}{\sin x}}$ ;

$$\text{г) } y = \sqrt{x^2 + 1} \cdot \sin^2 3x + \frac{1}{2x-1} + \ln 2; \quad \text{г) } y = \frac{(x-2)^3 \cdot \sqrt[3]{(x+4)^4}}{(x+5)^6};$$

$$\text{д) } y = 5 - xe^{2y}; \quad \text{е) } x = \sqrt{1+3t}, \quad y = t^2 \cos 5t.$$

$$2. \quad y = \frac{x}{-x^2 - 1} \quad \text{в точці } x_0 = 3.$$

$$3. \quad \text{а) } y = -\frac{1}{3}x^3 - x^2; \quad \text{б) } \begin{cases} x = 7(t - \sin t), \\ y = 7(1 - \cos t), \\ t \in [0, 2\pi]. \end{cases}$$

### Варіант 8

$$1. \quad \text{а) } y = \sqrt[3]{5+3x^2}; \quad \text{б) } y = \frac{\arcsin 4x}{(x-4)^3}; \quad \text{в) } y = (\ln(2x+1))^{2+\cos x};$$

$$\text{г) } y = \frac{x}{(x+5)^2} - x^4 \cdot \text{tg}^2 \sqrt{3x} - \log_3 2; \quad \text{г) } y = \frac{(x+1)^3 \cdot (x-7)^3}{\sqrt{(x+4)^5}};$$

$$\text{д) } x^3 - y^3 = 3x^2y^2 + 3; \quad \text{е) } x = \ln^3 t, \quad y = t^2 + ctg \sqrt{t}.$$

$$2. \quad y = \left(2 - \frac{2}{x}\right)^2 \quad \text{в точці } x_0 = 6.$$

$$3. \quad \text{а) } y = -\frac{1}{9}x^3 + x^2; \quad \text{б) } \begin{cases} x = 2\cos^3 t, \\ y = 2\sin^3 t, \\ t \in [0, 2\pi]. \end{cases}$$

### Варіант 9

$$1. \quad \text{а) } y = x^4 \sqrt{4-x^2}; \quad \text{б) } y = \frac{\text{arctg} 5x}{(x-12)^4};$$

$$\text{в) } y = \frac{3}{(\sqrt{x}+3)^3} + (x-1)^3 \cos^2 2x - \frac{1}{5}; \quad \text{г) } y = (\text{ctgx})^{\sin 3x};$$

$$\text{г) } y = \frac{(x-2)^2 \cdot (x+5)^7}{\sqrt{(x+9)^5}}; \text{ д) } 2^x + 2^y = 2^{x+y};$$

$$\text{е) } x = te^t, y = \arcsin t + \sin^2 t.$$

$$2. y = x^2 + \frac{1}{x^2} \text{ в точці } x_0 = -3.$$

$$3. \text{ а) } y = \frac{1}{4}x^3 + x^2; \quad \text{б) } \begin{cases} x = 7 \cos^3 t, \\ y = 7 \sin^3 t, \\ t \in [0, 2\pi]. \end{cases}$$

### Варіант 10

$$1. \text{ а) } y = x\sqrt{x^2+1}; \quad \text{б) } y = \frac{3 \operatorname{arctg} 4x}{(x-8)^4}; \quad \text{в) } y = (x^2+1)^{\cos x};$$

$$\text{г) } y = \frac{2}{(x+3)^4} - (2x+5)^3 \sin^4 \sqrt{2x} + \frac{1}{2}; \quad \text{д) } y = \frac{\sqrt{x+8} \cdot (x-4)^3}{(x+3)^4};$$

$$\text{е) } 2y \ln y = x; \quad \text{ж) } x = 3 - \sqrt{\sin 2t}, y = t^2 \cos 2t.$$

$$2. y = \frac{x}{1+x^2} \text{ в точці } x_0 = 1.$$

$$3. \text{ а) } y = -\frac{1}{3}x^3 + x^2; \quad \text{б) } \begin{cases} x = 4 \cos^3 t, \\ y = 4 \sin^3 t, \\ t \in [0, 2\pi]. \end{cases}$$

### Варіант 11

$$1. \text{ а) } y = x^2 \sin x; \quad \text{б) } y = \frac{\ln(5x+9)}{(x-4)^3}; \quad \text{в) } y = \frac{\operatorname{arctg} 3x}{1+9x^2} - 3\sqrt{\cos 2x};$$

$$\text{г) } y = (tg^2 x - x^2)^x; \quad \text{д) } y = \frac{(x-12)^2 \cdot \sqrt[4]{(x+4)^3}}{(x+2)^6}; \quad \text{е) } 2^x + 2^y = \sin y;$$

$$\text{ж) } x = \cos t + \sin t, y = \sin t - t \cos t.$$

2.  $y = \left(1 - \frac{1}{x^2}\right)^2$  в точці  $x_0 = 2$ .

3. а)  $y = \frac{1}{9}x^3 + x^2$ ; б)  $\begin{cases} x = 5 \cos^3 t, \\ y = 5 \sin^3 t, \\ t \in [0, 2\pi]. \end{cases}$

### Варіант 12

1. а)  $y = \frac{x^2}{\cos x}$ ; б)  $y = 2^{2x} \cdot \sqrt{3x^2 + 1}$ ; в)  $y = (\ln 3x)^{\cos x}$ ;

г)  $y = \frac{2}{3} \sqrt{(\operatorname{arctg} e^{2x})^3} - \frac{2}{(x+1)^3}$ ; д)  $y = \frac{(x-1)^2 \cdot (x+7)^3}{\sqrt{(x+4)^7}}$ ;

е)  $2^{x+y} = x + 10y$ ; ж)  $x = \sqrt{1+3t}$ ,  $y = t^2 \sin t$ .

2.  $y = \frac{9-x^2}{9+x^2}$  в точці  $x_0 = 0$ .

3. а)  $y = \frac{1}{3}x^3 - 3x^2$ ; б)  $\begin{cases} x = 6 \cos^3 t, \\ y = 6 \sin^3 t, \\ t \in [0, 2\pi]. \end{cases}$

### Варіант 13

1. а)  $y = \sqrt{x^3 + x}$ ; б)  $y = \frac{\ln(x-4)}{(x+13)^5}$ ; в)  $y = \frac{1}{2} \ln(e^{2x} + 1) - 2 \operatorname{arctg} e^x$ ;

г)  $y = x^{\sqrt{x}}$ ; д)  $y = \frac{(x+2)^2 \cdot \sqrt[3]{(x+4)^2}}{(x-5)^4}$ ; е)  $x + \operatorname{tg} y = 2^x + y^2$ ;

ж)  $x = 2t - \sin 2t^2$ ,  $y = \sin^2(2t)$ .

2.  $y = \frac{x+2}{(x-2)^2}$  в точці  $x_0 = 3$ .

$$3. \text{ а) } y = -\frac{1}{3}x^3 - 3x^2; \quad \text{б) } \begin{cases} x = \sin t, \\ y = \cos t, \\ t \in [0, 2\pi]. \end{cases}$$

### Варіант 14

$$1. \text{ а) } y = \operatorname{tg}^2 3x; \quad \text{б) } y = \frac{\ln(x-5)}{(x+4)^8}; \quad \text{в) } y = e^{\sin x} + \left(x - \frac{1}{\cos x}\right)^4;$$

$$\text{г) } y = (1 + e^x)^{x^2+2}; \quad \text{д) } y = \frac{\sqrt{x-2} \cdot (x+7)^3}{(x-5)^4}; \quad \text{е) } x - y + 7 \cos y = 0;$$

$$\text{ж) } x = \ln(t^5 + 3), \quad y = \frac{t^2}{t^5 + 3}.$$

$$2. \quad y = \frac{x^2}{x^2 - 9} \quad \text{в точці } x_0 = -1.$$

$$3. \text{ а) } y = \frac{1}{3}x^3 + 2x^2; \quad \text{б) } \begin{cases} x = 16 \sin^3 t, \\ y = 13 \cos t - 5 \cos(2t) - 2 \cos(3t) - \cos(4t), \\ t \in [0, 2\pi]. \end{cases}$$

### Варіант 15

$$1. \text{ а) } y = x^2 \operatorname{arctg} x; \quad \text{б) } y = \frac{\ln(2x-3)}{(x+2)^7}; \quad \text{в) } y = \sin^4(\sqrt[3]{x}-1)e^{-x^3};$$

$$\text{г) } y = (\operatorname{arctg} \sqrt{x})^{\ln(x^2+1)}; \quad \text{д) } y = \frac{(x-10)^3 \cdot \sqrt[6]{(x+4)^3}}{(x-6)^6};$$

$$\text{е) } x^3 y^2 + (x-y)^2 = b; \quad \text{ж) } x = \operatorname{arctg} t, \quad y = \ln(1+t^2).$$

$$2. \quad y = \frac{x}{4-x} \quad \text{в точці } x_0 = 8.$$

$$3. \text{ а) } y = \frac{1}{4}x^4 - x^3; \quad \text{б) } \begin{cases} x = 2\cos t + \cos 2t, \\ y = 2\sin t - \sin 2t, \\ t \in [0, 2\pi]. \end{cases}$$

### Варіант 16

$$1. \text{ а) } y = x^3 \cos x; \quad \text{б) } y = \frac{\arcsin 5x}{(x-5)^3}; \quad \text{в) } y = \left( \frac{4}{5x^2} - \frac{1}{3x} \right) \sqrt{6x + x^2};$$

$$\text{г) } y = (x^4 + 4)^{\sin 2x}; \quad \text{д) } y = \frac{\sqrt{x-1} \cdot (x-5)^8}{(x+2)^7}; \quad \text{е) } \ln y + \frac{x^2}{y} = 3a;$$

$$\text{ж) } x = 3t - \sin 3t^2, \quad y = \sin^2 3t.$$

$$2. \quad y = \frac{x^4 + 1}{x^2} \text{ в точці } x_0 = -1.$$

$$3. \text{ а) } y = -\frac{1}{9}x^3 - x^2; \quad \text{б) } \begin{cases} x = 20(\cos t + \frac{1}{5}\cos 5t), \\ y = 20(\sin t - \frac{1}{5}\sin 5t), \\ t \in [0, 2\pi]. \end{cases}$$

### Варіант 17

$$1. \text{ а) } y = \frac{x^4}{\cos x}; \quad \text{б) } y = \sqrt{x^2 - 1} \cdot \arcsin 2x; \quad \text{в) } y = x^2 e^{-x^3} - 3^{1 - \ln^2 5x};$$

$$\text{г) } y = (x^2 + e^x)^{\operatorname{tg}^3 x}; \quad \text{д) } y = \frac{(x+1)^5 \cdot (x+7)^4}{\sqrt{(x+14)^3}};$$

$$\text{е) } y \sin x - \cos(x - y) = a; \quad \text{ж) } x = \frac{1}{t} - t, \quad y = \sqrt{t^2 + 1}.$$

$$2. \quad y = \frac{x^2 + 2}{2 - x} \text{ в точці } x_0 = -4.$$

$$3. \text{ а) } y = -\frac{1}{3}x^3 - 2x^2; \quad \text{б) } \begin{cases} x = 4.4(\cos t + \frac{1}{1.1}\cos(1.1t)), \\ y = 4.4(\sin t - \frac{1}{1.1}\sin(1.1t)), \\ t \in [0, 20\pi]. \end{cases}$$

### Варіант 18

$$1. \text{ а) } y = \sqrt{x + \sqrt{x}}; \text{ б) } y = \frac{\ln(4x+3)}{(x-12)^3}; \text{ в) } y = \sqrt[5]{(2 - \sqrt{x \sin 2x})^3};$$

$$\text{г) } y = (1 + 2^x)^{x^2+2}; \text{ д) } y = \frac{\sqrt[7]{(x+4)^2 \cdot (x-2)^5}}{(x+5)^3}; \text{ е) } xy = ctgy;$$

$$\text{е) } x = 3t^2 + 5, y = \operatorname{arctg} \sqrt{t}.$$

$$2. y = \frac{x^2}{x^2 - 1} \text{ в точці } x_0 = 2.$$

$$3. \text{ а) } y = -\frac{1}{4}x^4 + x^3; \quad \text{б) } \begin{cases} x = 24.8(\cos t + \frac{1}{6.2}\cos(6.2t)), \\ y = 24.8(\sin t - \frac{1}{6.2}\sin(6.2t)), \\ t \in [0, 10\pi]. \end{cases}$$

### Варіант 19

$$1. \text{ а) } y = x^3 \ln x; \text{ б) } y = \frac{2 \arccos 3x}{(x+4)^3}; \text{ в) } y = \sin^3(\sqrt[3]{x} - x\sqrt{x});$$

$$\text{г) } y = (\cos 2x)^{\sin x}; \text{ д) } y = \frac{(x-3)^2 \cdot (x-4)^4}{\sqrt{(x+6)^3}}; \text{ е) } xy = ctgy;$$

$$\text{е) } \begin{cases} x = e^{-t}, \\ y = e^{3t}. \end{cases}$$

2.  $y = \left(3 - \frac{3}{x^2}\right)^2$  в точці  $x_0 = 3$ .

3. а)  $y = \frac{1}{3}x^3 + 2x^2$ ; б)  $\begin{cases} x = (1 + \cos t)\cos t, \\ y = (1 + \cos t)\sin t, \\ t \in [0, 2\pi]. \end{cases}$

### Варіант 20

1. а)  $y = (1 + x^2)\operatorname{arctg}x$ ; б)  $y = \frac{\ln(5x + 2)}{(x - 8)^6}$ ; в)  $y = (1 + \operatorname{ctg}^3 3x)e^{-\frac{x}{3}}$ ;

г)  $y = (x^3 + 1)^{\operatorname{tg}^2 \frac{x}{2}}$ ; д)  $y = \frac{(x - 11)^2 \cdot \sqrt[6]{(x + 5)^5}}{(x - 9)^6}$ ; е)  $\operatorname{arctg}y = x + y^2$ ;

е)  $x = \ln(t^3 + 2), y = \frac{t}{t^3 + 2}$ .

2.  $y = \frac{x^2 + 1}{x^2 - 1}$  в точці  $x_0 = 0$ .

3. а)  $y = -\frac{1}{4}x^4 - x^3$ ; б)  $\begin{cases} x = 6\cos t - 4\cos^3 t, \\ y = 4\sin^3 t, \\ t \in [0, 2\pi]. \end{cases}$

### Варіант 21

1. а)  $y = 2^{\operatorname{tg}x}$ ; б)  $y = \frac{\operatorname{arcsin} 3x}{(x - 14)^3}$ ; в)  $y = \frac{\sqrt{1 - \sin^3 2x}}{1 + \cos 4x}$ ; г)  $y = (\operatorname{tg}x)^{\sin^2 x}$ ;

д)  $y = \frac{\sqrt{x + 3} \cdot (x - 2)^4}{(x - 5)^5}$ ; е)  $e^x \sin y = e^{-y} \cos x$ ; ж)  $\begin{cases} x = \ln(1 + t^2), \\ y = t - \operatorname{arctg}t. \end{cases}$

2.  $y = \frac{1 - x^2}{1 + x^2}$  в точці  $x_0 = -2$ .

$$3. \text{ а) } y = \frac{1}{9}x^3 - x^2; \quad \text{б) } \begin{cases} x = 8(\cos t + \frac{1}{4}\cos(4t)), \\ y = 8(\sin t - \frac{1}{4}\sin(4t)), \\ t \in [0, 2\pi]. \end{cases}$$

### Варіант 22

$$1. \text{ а) } y = x \sin^2 x; \text{ б) } y = \frac{\ln(4x+2)}{(x-6)^6}; \text{ в) } y = \ln(x^3 + \sqrt[3]{x^6+3});$$

$$\text{г) } y = (x^3 - 1)^{\cos \sqrt{x}}; \text{ д) } y = \frac{(x+6)^5 \cdot \sqrt[7]{(x+1)^2}}{(x-9)^4}; \text{ е) } e^{xy} - x^2 + y^2 = b;$$

$$\text{ж) } x = 2 \cos t - \cos 2t, y = 2 \sin t - \sin 2t.$$

$$2. y = \frac{(x-1)^2}{x+1} \text{ в точці } x_0 = -3.$$

$$3. \text{ а) } y = -\frac{1}{3}x^3 - 2x^2; \quad \text{б) } \begin{cases} x = 6.2(\cos t + \frac{1}{3.1}\cos(3.1t)), \\ y = 6.2(\sin t - \frac{1}{3.1}\sin(3.1t)), \\ t \in [0, 20\pi]. \end{cases}$$

### Варіант 23

$$1. \text{ а) } y = x^3 \cos 2x; \text{ б) } y = \frac{\ln(2x+2)}{(x+3)^5}; \text{ в) } y = \frac{x^2}{2\sqrt{1-3x^2}} + \ln^5 \sin 2x;$$

$$\text{г) } y = (\sin 2x)^{\ln x}; \text{ д) } y = \frac{(x-8)^2 \cdot (x+4)^3}{\sqrt{(x+4)^5}}; \text{ е) } 2y^2x = \sin(xy);$$

$$\text{ж) } \begin{cases} x = \cos^2 t, \\ y = tg^2 t. \end{cases}$$

2.  $y = \frac{x^2 - 4}{x^2}$  в точці  $x_0 = 3$ .

3. а)  $y = 2x^3 - 3x^2 + 1$ ; б) 
$$\begin{cases} x = 13(\cos t + \frac{1}{6.5}\cos(6.5t)), \\ y = 13(\sin t - \frac{1}{6.5}\sin(6.5t)), \\ t \in [0, 4\pi]. \end{cases}$$

### Варіант 24

1. а)  $y = e^{-2x} \cdot \sin x$ ; б)  $y = \frac{5 \operatorname{arctg} 3x}{(x+4)^4}$ ; в)  $y = x^{\operatorname{arcsin} x}$ ;

г)  $y = \sqrt{(1+x^2)^3} + \frac{1}{\ln^2(2x+1)}$ ; д)  $y = \frac{\sqrt[5]{(x+3)^2 \cdot (x+2)^5}}{(x+5)^6}$ ;

е)  $\sin(x+y) = \cos(x+y)$ ; ж)  $x = \operatorname{arctg} t, y = \frac{t^2}{2}$ .

2.  $y = \frac{8-x}{x}$  в точці  $x_0 = 7$ .

3. а)  $y = 2 - 3x^3 + x^4$ ; б) 
$$\begin{cases} x = \sin\left(t + \frac{\pi}{2}\right), \\ y = \sin(2t), \\ t \in [0, 2\pi]. \end{cases}$$

### Варіант 25

1. а)  $y = \frac{x^3}{\sin x}$ ; б)  $y = e^{-4x} \cdot \operatorname{arctg} 2x$ ; в)  $y = \sqrt[3]{3x + \cos x} - \ln \operatorname{tg}\left(\frac{x}{3}\right)$ ;

г)  $y = (\ln x)^{3x}$ ; д)  $y = \frac{(x-9)^2 \cdot \sqrt[3]{(x+5)^5}}{(x-5)^6}$ ; е)  $2y^3 - 5y + 3x = b$ ;

ж)  $x = \sqrt{t}, y = \sqrt[3]{t-1}$ .

2.  $y = \frac{x^2 + 1}{x^2 + 2}$  в точці  $x_0 = -1$ .

3. а)  $y = \frac{2}{3}x^3 + \frac{1}{2}x^2$ ; б)  $\begin{cases} x = \sin\left(3t + \frac{\pi}{2}\right), \\ y = \sin(2t), \\ t \in [0, 2\pi]. \end{cases}$

### Варіант 26

1. а)  $y = (1+x)\sqrt{5+2x}$ ; б)  $y = \frac{4 \arccos 2x}{(x-5)^4}$ ;

в)  $\sqrt{1+4x^2} \arctg 2x + \ln^2 \sin 4x$ ; г)  $y = (x^3 - 1)^{\sin x}$ ;

г)  $y = \frac{(x+3)^2 \cdot (x+4)^4}{\sqrt{(x-1)^5}}$ ; д)  $x^3 - 3xy + y^2 - 1$ ; е)  $x = \sqrt{1+t^2}$ ,  $y = \frac{1}{t}$ .

2.  $y = \frac{4x^2}{x^4 + 1}$  в точці  $x_0 = 1$ .

3. а)  $y = x^4 - 3x^3 + 2$ ; б)  $\begin{cases} x = \sin\left(5t + \frac{\pi}{2}\right), \\ y = \sin(6t), \\ t \in [0, 2\pi]. \end{cases}$

### Варіант 27

1. а)  $y = \sqrt{x+1} \cdot \ln 5x$ ; б)  $y = \frac{7 \arctg 2x}{(x+6)^4}$ ; в)  $y = \sin^4 3x + x^2 \arccos x$ ;

г)  $y = (\sqrt{x})^{\text{ctgx}}$ ; г)  $y = \frac{(x-8)^2 \cdot (x+4)^3}{\sqrt{(x+4)^5}}$ ; д)  $y^2 + x^2 = \sin y$ ;

е)  $x = 2 \cos^2 t$ ,  $y = 3 \sin^2 t$ .

2.  $y = \frac{x^2 + 1}{-x}$  в точці  $x_0 = 3$ .

3. а)  $y = 2x^3 + 9x^2 + 12x$ ;

б) 
$$\begin{cases} x = 16 \sin^3 t, \\ y = 13 \cos t - 5 \cos(2t) - 2 \cos(3t) - \cos(4t), \\ t \in [0, 2\pi]. \end{cases}$$

### Варіант 28

1. а)  $y = x\sqrt{9 - x^2}$ ; б)  $y = \frac{\ln(6x + 2)}{(x - 3)^4}$ ; в)  $y = e^{-\cos x} \arcsin 2x + tg^3 \ln x$ ;

г)  $y = (\sqrt{x})^{\arcsin x}$ ; д)  $y = \frac{(x - 8)^4 \cdot \sqrt[6]{(x + 5)^5}}{(x - 15)^8}$ ; е)  $\sin y = xy^2 + 4$ ;

ж)  $x = \arctg t, y = \ln(1 + t^2)$ .

2.  $y = \frac{x^2 - 1}{x^2}$  в точці  $x_0 = -2$ .

3. а)  $y = 2x^3 + 3x^2 - 5$ ;

б) 
$$\begin{cases} x = 16 \sin^3 t, \\ y = 13 \cos t - 5 \cos(2t) - 2 \cos(3t) - \cos(4t), \\ t \in [0, 2\pi]. \end{cases}$$

### Варіант 29

1. а)  $y = \frac{\arcsin x}{tg x}$ ; б)  $y = x^4 \cdot \cos^2 x$ ; в)  $y = \arctg(\ln x) + \sin^3(\sqrt{x^2 - 1})$ ;

г)  $y = (tg 2x)^{\cos 3x}$ ; д)  $y = \frac{(x - 3)^6 \cdot (x + 14)^5}{\sqrt{(x + 6)^7}}$ ; е)  $x^2 + y^2 = \sin y$ ;

ж)  $x = \cos^3 t, y = \sin^3 t$ .

2.  $y = \frac{4x^2 - 8x + 4}{x^2}$  в точці  $x_0 = 2$ .

3. а)  $y = -x^3 + 3x + 2$ ; б)  $\begin{cases} x = t \sin t, \\ y = t \cos t, \\ t \in [0, 5\pi]. \end{cases}$

### Варіант 30

1. а)  $y = \sqrt{x-1} \ln(2x+1)$ ; б)  $y = \frac{2 \arcsin 2x}{(x+4)^4}$ ; в)  $y = \left(\frac{x}{x+4}\right)^{2x}$ ;

г)  $y = \arctg x^2 + \sin \sqrt{x - \frac{1}{x}}$ ; д)  $y = \frac{(x+2)^8 \cdot (x+14)^3}{\sqrt{(x+3)^9}}$ ; е)  $xy^2 = ctgy$ ;

е)  $\begin{cases} x = 4 \cos^3 t, \\ y = 2 \sin t. \end{cases}$

2.  $y = \frac{x^2 + 1}{x}$  в точці  $x_0 = 4$ .

3. а)  $y = 2x^3 + 9x^2 + 12x$ ;

б)  $\begin{cases} x = \sin t \left( e^{\cos t} - 2 \cos(4t) + \sin^5 \left( \frac{1}{12} t \right) \right), \\ y = \cos t \left( e^{\cos t} - 2 \cos(4t) + \sin^5 \left( \frac{1}{12} t \right) \right), \\ t \in [0, 12\pi]. \end{cases}$

### Контрольні запитання

1. Як обчислити похідну першого порядку за допомогою GNU Octave?

2. Як обчислити похідну неявно заданої функції за допомогою GNU Octave?

3. Як обчислити похідну від функції, заданої параметрично, за допомогою GNU Octave?
4. Як обчислити похідну функції в точці за допомогою GNU Octave?
5. Як обчислити похідну другого порядку за допомогою GNU Octave?
6. Як визначити рівняння дотичної за допомогою GNU Octave?
7. Як обчислити еластичність функції?
8. Які команди використовують для побудови графіка функції?
9. Як зробити графік функції певного кольору?
10. За допомогою яких маркерів можна змінювати вид лінії графіка функції?
11. Які є можливості щодо символів маркерів?
12. За допомогою якої команди можна нанести лінії сітки на графік функції?

## 6. Диференціальне числення функції багатьох змінних

### Мета:

- + вивчення основних операцій і функцій, за допомогою яких здійснюють диференціальне числення функції багатьох змінних у середовищі GNU Octave;
- + закріплення теоретичних знань із теми «Диференціальне числення функції багатьох змінних»;
- + набуття практичних навичок у розв'язанні задач за темою «Диференціальне числення функції багатьох змінних» у середовищі GNU Octave.

### Компетентності:

- уміння будувати графік функції декількох змінних засобами середовища GNU Octave;
- навички у використанні засобів середовища GNU Octave під час визначення частинних похідних першого та другого порядків функції двох змінних, градієнта функції в точці та похідної функції в точці за напрямком вектора;
- знання алгоритму дослідження функції двох змінних на екстремум та вміння його реалізації за допомогою інструментарію GNU Octave.

Будь-які процеси відбуваються під впливом або управлінням деякої кількості факторів. Це зумовлює необхідність у використанні функцій, що залежать від декількох змінних. Тому вивчення основних понять і положень щодо функції багатьох змінних стає важливим питанням, яке потребує ретельного опрацювання та поглиблення здобутих знань шляхом використання інструментарію GNU Octave.

Відомо, що якщо кожному набору значень  $(x_1, x_2, \dots, x_n)$  із множини  $X$  за певним правилом або законом ставлять у відповідність одне певне значення величини  $z$  із множини  $Z$ , то змінну  $z$  називають *функцією багатьох змінних*  $x_1, x_2, \dots, x_n$ .

Для більшої наочності та спрощення викладення матеріалу будемо розглядати приклад функції двох змінних:  $z = f(x, y)$ .

## 6.1. Побудова графіка функції двох змінних

*Графіком функції двох змінних  $z = f(x, y)$*  є деяка поверхня в тривимірному просторі.

Для підготовки даних та побудови поверхонь у середовищі GNU Octave використовують такі команди:

`meshgrid(x-діапазон, y-діапазон)` – повертає двовимірний масив – матрицю  $[X, Y]$ , яка містить координати вузлових точок прямокутної сітки на площині  $Oxy$ ;

`surf(x, y, z)` – будує поверхню функції  $Z = f(X, Y)$  із використанням кольорової палітри за замовчуванням;

`xlabel ('X')` – дозволяє підписати вісь  $Ox$ ;

`ylabel ('Y')` – дозволяє підписати вісь  $Oy$ ;

`zlabel ('Z')` – дозволяє підписати вісь  $Oz$ ;

`title('текст')` – дозволяє підписати назву графіка.

**Приклад 6.1.** Побудуйте графік функції  $z = \sin x \cos y$ , якщо  $x \in [-3; 3]$  із кроком 0,2, а  $y \in [-5; 5]$  із кроком 0,3.

*Розв'язання.* Установімо заданий діапазон значень змінних  $x, y$ :

```
>>[X,Y]=meshgrid(-3:0.2:3,-5:0.3:5);
```

обчислімо значення функції  $z = \sin x \cos y$ :

```
>>Z=sin(X).*cos(Y);
```

далі будуймо поверхню:

```
>>surf(X,Y,Z)
```

На рис. 6.1 показано первинний вигляд поверхні, який спочатку не містить підписів осей та підпису графіка. Тому виконуймо такі команди:

```
>>xlabel('X'); % підпис осі Ox  
>>ylabel('Y'); % підпис осі Oy  
>>zlabel('Z'); % підпис осі Oz  
>>title('z=sinxcosy') % назва графіка
```

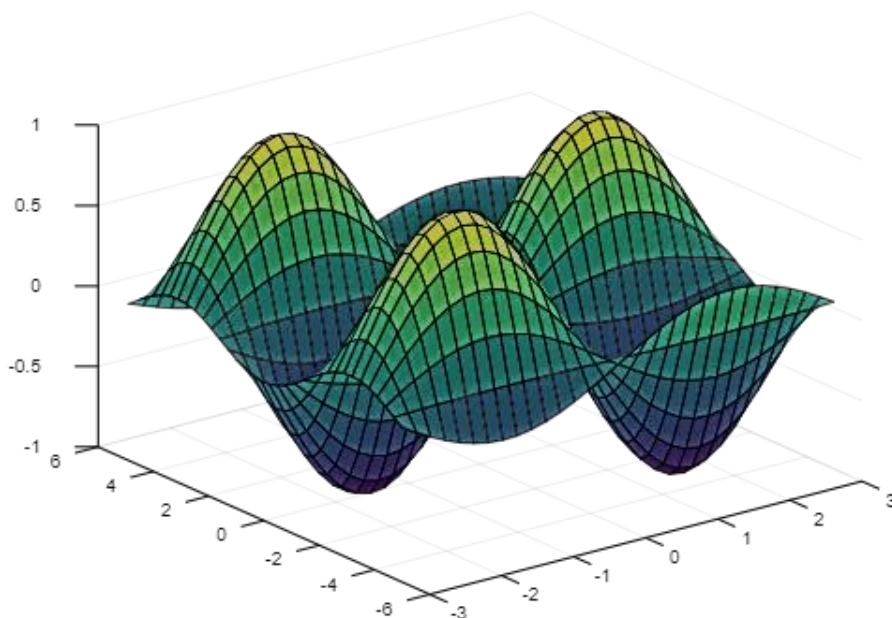


Рис. 6.1. Реалізація команди `surf(X,Y,Z)`

На рис. 6.2 наведено графік заданої поверхні після виконання команд, які надають написи.

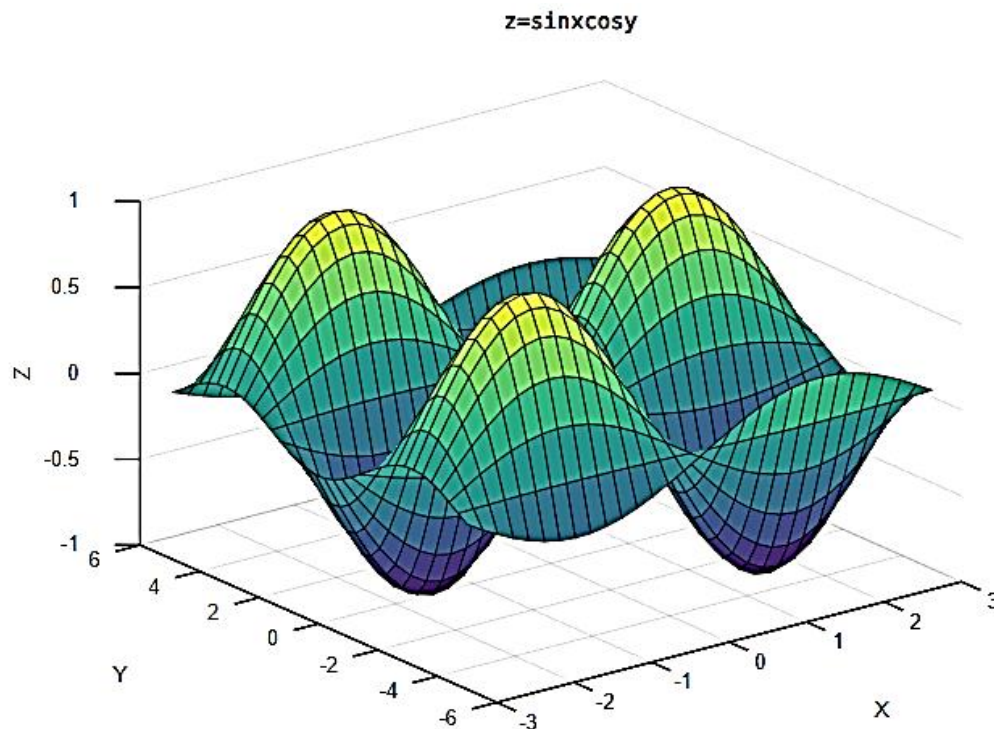


Рис. 6.2. Графік поверхні  $z = \sin x \cos y$

## 6.2. Обчислення частинних похідних першого та другого порядку

Згадаймо, що під час обчислення частинних похідних функції двох змінних одну незалежну змінну вважають сталою величиною. Для обчислення частинних похідних першого та другого порядків у середовищі GNU Octave використовують функцію `diff`.

Оскільки частинні похідні першого порядку від функції  $z = f(x, y)$  є функціями незалежних змінних  $x$  та  $y$ , то їх також можна диференціювати, тобто обчислювати частинні похідні другого порядку.

**Приклад 6.2.** Обчисліть частинні похідні першого та другого порядків від функції  $z(x, y) = e^{x^3y} + 2xy$ . Запишіть повні диференціали першого та другого порядків цієї функції.



Тепер обчислимо частинні та мішані похідні другого порядку:

```
>>zxx=diff(zx,'x') % частинна похідна 2-го порядку
за змінною x
```

```
zxx = (sym)
          3          3
      4 2  x ·y      x ·y
    9·x ·y ·e      + 6·x·y·e
```

```
>>zyy=diff(zy,'y') % частинна похідна 2-го порядку
за змінною y
```

```
zyy = (sym)
      3
    6  x ·y
   x ·e
```

```
>>zxy=diff(zx,'y') % мішана похідна xy
```

```
zxy = (sym)
          3          3
      5  x ·y      2  x ·y
    3·x ·y·e      + 3·x ·e      + 2
```

```
>>zyx=diff(zy,'x') % мішана похідна yx
```

```
zyx = (sym)
          3          3
      5  x ·y      2  x ·y
    3·x ·y·e      + 3·x ·e      + 2
```

Отже, дійсно, переконалися, що мішані похідні збігаються.

Повний диференціал другого порядку має такий вигляд:

$$d^2z = z''_{xx} \cdot dx^2 + 2z''_{xy} \cdot dx \cdot dy + z''_{yy} \cdot dy^2.$$

Отже, маємо:

```
>>d2z=sym('zxx*dx2+2*zxy*dx*dy+zyy*dy2')
```

```
d2z = (sym) 2·dx·dy·zxy + dx2·zxx + dy2·zyy
```

```
>>d2z=subs (d2z, {'zxx','zxy','zyy'}, [zxx zxy zyy])
```

```
d2z = (sym)
```

$$2 \cdot dx \cdot dy \cdot \left( 3 \cdot x^5 \cdot y \cdot e^{3 \cdot x \cdot y} + 3 \cdot x^2 \cdot y^3 \cdot e^{3 \cdot x \cdot y} + 2 \right) + dx^2 \cdot \left( 9 \cdot x^4 \cdot y^2 \cdot e^{3 \cdot x \cdot y} + 6 \cdot x \cdot y^3 \cdot e^{3 \cdot x \cdot y} \right) + dy^2 \cdot \left( 6 \cdot x^3 \cdot y \cdot e^{3 \cdot x \cdot y} \right)$$

Аналогічно можна знайти диференціали третього порядку та більш високих порядків.

### 6.3. Обчислення градієнта функції в точці та похідної за напрямком вектора

Градієнт функції  $z = f(x, y)$  – це вектор, координатами якого є частинні похідні першого порядку, тобто  $gradz = (z'_x, z'_y)$ . Для того щоб обчислити градієнт у деякій точці, потрібно підставити замість змінних координати цієї точки. Похідну від функції  $z(x, y)$  за напрямком вектора  $\bar{a} = (a_1, a_2)$  обчислюють за такою формулою:

$$\frac{\partial z}{\partial a} = \frac{\partial z}{\partial x} \cos \alpha + \frac{\partial z}{\partial y} \cos \beta = \frac{\partial z}{\partial x} \cdot \frac{a_1}{|\bar{a}|} + \frac{\partial z}{\partial y} \cdot \frac{a_2}{|\bar{a}|}.$$

Похідну від функції  $z(x, y)$  за напрямком вектора  $\bar{a} = (a_1, a_2)$  у точці  $M(x_0, y_0)$  можна обчислити, якщо підставити координати цієї точки замість змінних.

**Приклад 6.3.** Задано функцію  $z(x, y) = xe^y + ye^x$  і точки  $M_1(1, 0)$  та  $M_2(4, 1)$ .

Обчисліть:

1) градієнт функції  $z(x, y)$  у точці  $M_1(1, 0)$ ;

2) похідну функції  $z(x, y)$  у точці  $M_1(1, 0)$  за напрямком вектора  $\vec{a} = \overline{M_1M_2}$ .

**Розв'язання.**

1. Спочатку введемо вихідні дані:

```
>>syms x y
>>z=sym('x*exp(y)+y*exp(x)')
z = (sym)
      y      x
  x·e  + y·e
```

```
>> pM1=[1 0], pM2=[4 1]
pM1 =
     1     0
pM2 =
     4     1
```

Далі обчислімо градієнт функції  $gradz = (z'_x, z'_y)$  у точці  $M_1(1, 0)$ . Для цього спочатку обчислімо частинні похідні першого порядку, а потім у визначені вирази підставимо координати точки  $M_1(1, 0)$ :

```
>>zx=diff(z,'x') % частинна похідна за x
zx = (sym)
      x      y
  y·e  + e
```

```
>>zy=diff(z,'y') % частинна похідна за y
zy = (sym)
      y      x
  x·e  + e
```

```
>>zx_M1=subs(zx,{'x','y'},pM1)
zx_M1 = (sym) 1
```

```
>>zy_M1=subs (zy, {'x', 'y'}, pM1)
zy_M1 = (sym) 1 + e
```

```
>>gradz_M1=[zx_M1, zy_M1]
gradz_M1 = (sym) [1 1 + e]
```

Отже, визначено вектор градієнта функції в заданій точці.

2. Похідну функції  $z(x, y)$  у точці  $M_1(1, 0)$  за напрямком вектора  $\vec{a} = \overline{M_1M_2}$  можна обчислити як результат ділення скалярного добутку векторів  $gradz|_{M_1}$  та  $\vec{a}$  на довжину вектора  $\vec{a}$ :

```
>>vM1M2=pM2-pM1 % координати вектора M1M2
vM1M2 =
     3     1
```

```
>>len_M1M2=sqrt (vM1M2*vM1M2') % довжина вектора M1M2
len_M1M2 = 3.1623
```

```
>>scal_gradz_M1_vM1M2=gradz_M1*vM1M2' % скалярний
добуток градієнта функції z у точці M1 та вектора M1M2
scal_gradz_M1_vM1M2 = (sym) e + 4
```

```
>>dz_M1M2=scal_gradz_M1_vM1M2/len_M1M2
dz_M1M2 = (sym)
```

$$\frac{\sqrt{10} \cdot (e + 4)}{10}$$

Отже, обчислено значення похідної функції  $z(x, y)$  у точці  $M_1(1, 0)$  за напрямком вектора  $\vec{a} = \overline{M_1M_2}$ .

## 6.4. Визначення локального екстремуму функції двох змінних

Під час дослідження функції двох змінних на локальний екстремум слід перевірити виконання необхідної та достатньої умови екстремуму.

*Необхідна умова екстремуму:* якщо функція двох змінних  $z = f(x, y)$  є диференційованою в точці  $M_0(x_0; y_0)$  і має в цій точці екстремум, то обидві частинні похідні першого порядку в цій точці дорівнюють нулю:

$$\begin{cases} \left. \frac{\partial f}{\partial x} \right|_{\substack{x=x_0, \\ y=y_0}} = 0, \\ \left. \frac{\partial f}{\partial y} \right|_{\substack{x=x_0, \\ y=y_0}} = 0. \end{cases}$$

Точки, де похідні першого порядку дорівнюють нулю або не існують, називають *критичними*. Критичні точки, у яких перші похідні дорівнюють нулю, називають *стаціонарними*. Розв'язок системи цих рівнянь визначає координати точок, у яких функція може мати екстремум.

Щоб сформулювати достатню умову екстремуму, слід побудувати визначник, елементами якого є похідні другого порядку цієї функції  $z = f(x, y)$ :

$$\Delta = \begin{vmatrix} \frac{\partial^2 f}{\partial x^2} & \frac{\partial^2 f}{\partial x \partial y} \\ \frac{\partial^2 f}{\partial x \partial y} & \frac{\partial^2 f}{\partial y^2} \end{vmatrix}.$$

Матрицю, елементами якої є частинні похідні другого порядку функції кількох змінних, називають *матрицею Гессе*, а її визначник – *гесіаном*. Для функції двох змінних гесіан є визначником другого порядку.

**Достатня умова екстремуму:** якщо функція  $z = f(x, y)$  у стаціонарній точці  $M_0(x_0; y_0)$  та деякому її околі має всі частинні похідні другого порядку й гесіан у цій точці є додатним:

$$\Delta = \frac{\partial^2 f}{\partial x^2} \cdot \frac{\partial^2 f}{\partial y^2} - \left( \frac{\partial^2 f}{\partial x \partial y} \right)^2 > 0,$$

то функція  $z = f(x, y)$  має в точці  $M_0(x_0, y_0)$  локальний екстремум.

Тоді, якщо в цій точці  $\frac{\partial^2 f}{\partial x^2} > 0$ , то в стаціонарній точці  $M_0(x_0, y_0)$

функція має мінімум, якщо  $\frac{\partial^2 f}{\partial x^2} < 0$ , то максимум.

У разі, коли в стаціонарній точці  $M_0(x_0, y_0)$  визначник є від'ємним:

$$\Delta = \frac{\partial^2 f}{\partial x^2} \cdot \frac{\partial^2 f}{\partial y^2} - \left( \frac{\partial^2 f}{\partial x \partial y} \right)^2 < 0,$$

то функція локального екстремуму в цій точці не має.

Якщо в стаціонарній точці гесіан дорівнює нулю, то потрібні додаткові дослідження.

**Приклад 6.4.** Визначте локальний екстремум функції

$$z = xy(12 - x - y).$$

**Розв'язання.** Визначмо функцію та обчислимо частинні похідні першого порядку:

```
>>syms x y
>>z=sym('x*y*(12-x-y)')
z = (sym) x*y*(-x - y + 12)
>>zx=diff(z,'x')
zx = (sym) -x*y + y*(-x - y + 12)
>>zy=diff(z,'y')
zy = (sym) -x*y + x*(-x - y + 12)
```

Для визначення стаціонарних точок слід розв'язати систему рівнянь:

$$\begin{cases} z'_x = 0, \\ z'_y = 0. \end{cases}$$

Доцільно скористатися функцією `solve`:

```
>>[x0 y0]=solve(zx,zy)
```

```
x0 = (sym 4×1 matrix)
```

```
 [12]
 [ 0]
 [ 4]
 [ 0]
```

```
y0 = (sym 4×1 matrix)
```

```
 [0]
 [0]
 [4]
 [12]
```

Отже, визначено чотири стаціонарні точки:  $A_1(12, 0)$ ,  $A_2(0, 0)$ ,  $A_3(4, 4)$ ,  $A_4(0, 12)$ .

Спираючись на достатню умову, перевірмо визначені точки на екстремум:

```
>>zxx=diff(zx,'x') % обчислення другої похідної за x
```

```
zxx = (sym) -2·y
```

```
>>zyy=diff(zy,'y') % обчислення другої похідної за y
```

```
zyy = (sym) -2·x
```

```
>>zxy=diff(zx,'y') % обчислення мішаної похідної xy
```

```
zxy = (sym) -2·x - 2·y + 12
```

```
>>D=zxx*zyy-zxy^2 % гесіан
```

```
D = (sym)
```

```
2
```

```
4·x·y - (-2·x - 2·y + 12)
```

Обчислюймо гесіан у кожній стаціонарній точці:

```
>>DA1=subs(D,{'x','y'}, [12 0]) % значення гесіана  
в точці A1
```

```
DA1 = (sym) -144
```

```
>>DA2=subs(D,{'x','y'}, [0 0]) % значення гесіана  
в точці A2
```

```
DA2 = (sym) -144
```

```
>>DA3=subs(D,{'x','y'}, [4 4]) % значення гесіана  
в точці A3
```

```
DA3 = (sym) 48
```

```
>>DA4=subs(D,{'x','y'}, [0 12]) % значення гесіана  
в точці A4
```

```
DA4 = (sym) -144
```

На підставі цих значень робімо висновки:

оскільки  $\Delta_{A_1} = -144 < 0$ ,  $\Delta_{A_2} = -144 < 0$ ,  $\Delta_{A_4} = -144 < 0$ , то в цих точках функція екстремуму не має;

оскільки  $\Delta_{A_3} = 48 > 0$ , обчислімо значення  $\left. \frac{\partial^2 z}{\partial x^2} \right|_{(4,4)}$  :

```
>>zxxA3=subs(zxx,{'x','y'}, [4 4])
```

```
zxxA3 = (sym) -8
```

Отже,  $\Delta_{A_3} = 48 > 0$  та  $\left. \frac{\partial^2 z}{\partial x^2} \right|_{(4,4)} = -8 < 0$ , тобто можна зробити вис-

новок, що точка  $A_3(4, 4)$  є точкою локального максимуму.

Обчислімо значення функції в цій точці:

```
>>max_z=subs(z,{'x','y'}, [4 4]) % значення функції  
в точці екстремуму
```

```
max_z = (sym) 64
```

Побудуємо графік цієї функції (рис. 6.3):

```
>>[X,Y]=meshgrid(0:0.2:10,0:0.2:5);  
>>Z=12*X.*Y-X.*X.*Y-X.*Y.*Y;  
>>surf(X,Y,Z)  
>>xlabel('X');  
>>ylabel('Y');  
>>zlabel('Z');  
>>title('=xy(12-x-y)')
```

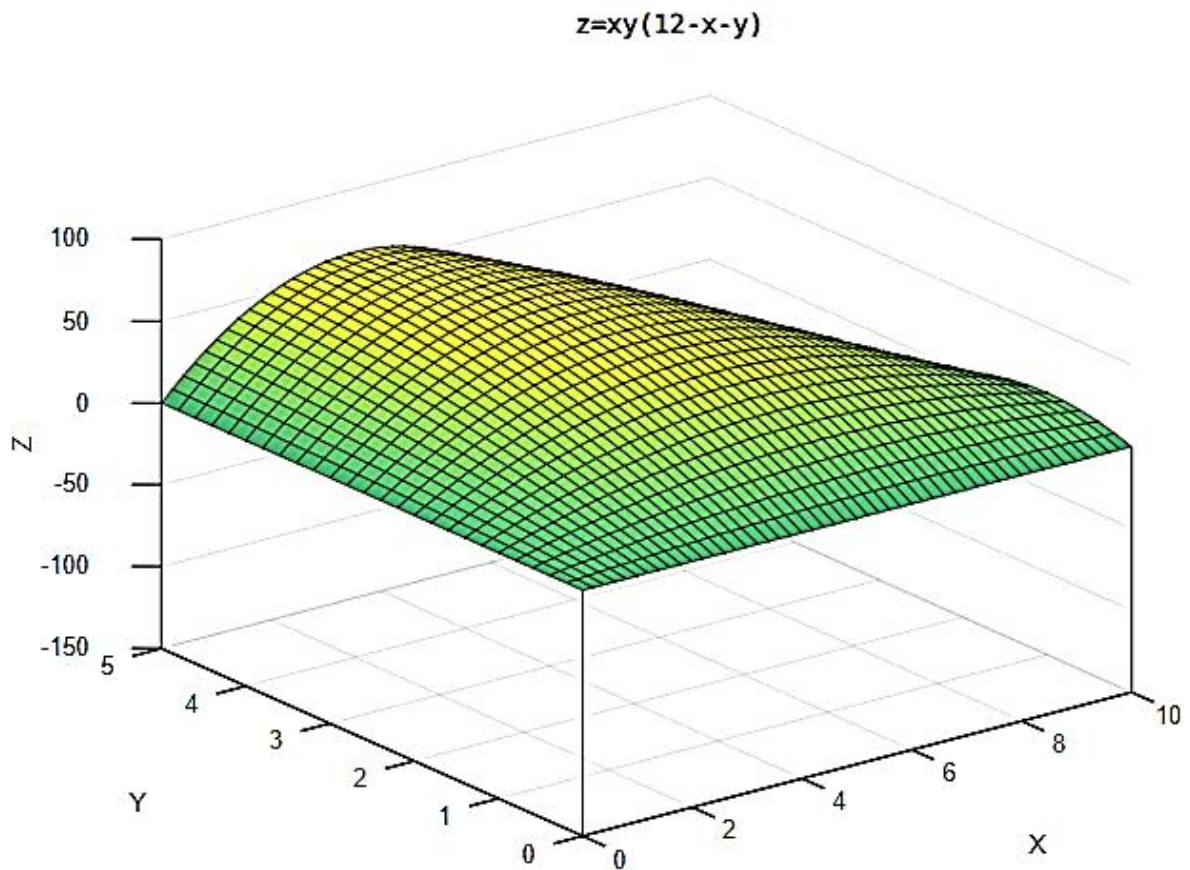


Рис. 6.3. Поверхня  $z = xy(12 - x - y)$

Отже, визначено локальний максимум заданої функції та наведено ілюстрацію поверхні, яка відображає виконані обчислення.

## 6.5. Завдання для самостійної роботи

1. Побудуйте графік функції  $z = f(x, y)$ .
2. Обчисліть градієнт функції  $z = f(x, y)$  у точці  $M$  і похідну за напрямком вектора-у  $\bar{a}$ .
3. Доведіть, що функція  $z = f(x, y)$  задовольняє задане рівняння.
4. Дослідіть функцію на наявність точок локального екстремуму.

### Варіант 1

1.  $z = \arcsin(x^2 + y^2 - 16)$ .
2.  $z = \sqrt{\frac{y}{x} + xy}$ ,  $M(1; 2)$ ,  $\bar{a} = (2; 5)$ .
3.  $z = e^{xy}$ ,  $x^2 \frac{\partial^2 z}{\partial x^2} - y^2 \frac{\partial^2 z}{\partial y^2} = 0$ .
4.  $z = e^{-\frac{y}{2}}(x^2 - y)$ .

### Варіант 2

1.  $z = \sqrt{9 - x^2 - y^2} + \sqrt{x^2 - 4}$ .
2.  $z = x + y - \sqrt{x^2 + y^2}$ ,  $M(3; 4)$ ,  $\bar{a} = (2; -4)$ .
3.  $z = \sin^2(x - ay)$ ,  $a^2 \frac{\partial^2 z}{\partial x^2} = \frac{\partial^2 z}{\partial y^2}$ .
4.  $z = xy \ln(x^2 + y^2)$ .

### Варіант 3

1.  $z = \ln(4 - y) + \sqrt{25 - x^2 - y^2}$ .
2.  $z = \sin^2(3x + 2y)$ ,  $M(2; -3)$ ,  $\bar{a} = (1; -4)$ .
3.  $z = e^{-\cos(x+ay)}$ ,  $a^2 \frac{\partial^2 z}{\partial x^2} = \frac{\partial^2 z}{\partial y^2}$ .
4.  $z = e^{-\frac{x}{2}}(y^2 - x)$ .

**Варіант 4**

1.  $z = \ln(9 - 3x - y^2 + \sqrt{x+1})$ .

2.  $z = e^{\sqrt{\cos 2x + 3y}}$ ,  $M\left(\frac{\pi}{4}; 0\right)$ ,  $\bar{a} = (3; -4)$ .

3.  $z = e^{\frac{x}{y}}$ ,  $\frac{\partial z}{\partial y} - \frac{\partial z}{\partial x} = y \frac{\partial^2 z}{\partial x \partial y}$ .

4.  $z = 8x^3 - y^3 - 12xy - 1$ .

**Варіант 5**

1.  $z = \log_2(y^2 - 2x + 4) + \frac{1}{\sqrt{2-x}}$ .

2.  $z = e^{\sin x - 2y^3}$ ,  $M(\pi; 0)$ ,  $\bar{a} = (2; 1)$ .

3.  $z = yx \ln(x + y)$ ,  $\frac{\partial^3 z}{\partial y \partial x^2} = \frac{\partial^3 z}{\partial x \partial y \partial z}$ .

4.  $z = e^{-\frac{x}{2}}(x^2 + y^2)$ .

**Варіант 6**

1.  $z = \sqrt{1 - \frac{x^2}{4} - y^2} + \sqrt{y-x}$ .

2.  $z = \operatorname{arctg} \frac{y}{x}$ ,  $M(2; 1)$ ,  $\bar{a} = (1; -2)$ .

3.  $z = y^{x^2} + x^{y^2}$ ,  $\frac{\partial^3 z}{\partial y \partial x^2} = \frac{\partial^3 z}{\partial x \partial y \partial z}$ .

4.  $z = 2x^3 + 6xy^2 - 30x - 24y + 1$ .

**Варіант 7**

1.  $z = \log_{0,3}(3x - 4y + 12) + \sqrt{x^2 - 4}$ .

2.  $z = e^{\sqrt{3y + \sin 2x}}$ ,  $M\left(\frac{\pi}{4}; 0\right)$ ,  $\bar{a} = (2; 1)$ .

$$3. z = e^x (\cos y + x \sin y), \quad \frac{\partial^2 z}{\partial x \partial y} = \frac{\partial^2 z}{\partial y \partial x}.$$

$$4. z = 2y\sqrt{x} - y^2 - 3x + 8y.$$

### Варіант 8

$$1. z = \sqrt{1-x^2} + \frac{1}{\sqrt{4-y^2}}.$$

$$2. z = e^{\sin x - 2y^3}, \quad M(\pi; 0), \quad \bar{a} = (3; 1).$$

$$3. z = \arccos \sqrt{\frac{x}{y}}, \quad \frac{\partial^2 z}{\partial x \partial y} = \frac{\partial^2 z}{\partial y \partial x}.$$

$$4. z = e^{-\frac{x}{4}}(5x^2 - y^2).$$

### Варіант 9

$$1. z = \ln(xy) + \arcsin x.$$

$$2. z = \sqrt[3]{x+y^2}, \quad M(4; 2), \quad \bar{a} = (2; -2).$$

$$3. z = \frac{x^2 y^2}{x^2 + y^2}, \quad x \frac{\partial^2 z}{\partial x^2} + y \frac{\partial^2 z}{\partial x \partial y} = \frac{\partial z}{\partial x}.$$

$$4. z = 2x^3 + y^2 + 6xy + 12x - 2.$$

### Варіант 10

$$1. z = \frac{\sqrt{y-x}}{\lg(9-x^2-y^2)}.$$

$$2. 2tg\left(x - \frac{y}{2}\right), \quad M(\pi; 0), \quad \bar{a} = (8; -4).$$

$$3. z = \frac{x^2 + xy}{2y} + \frac{1}{x} - \frac{1}{y}, \quad x^2 \frac{\partial z}{\partial x} + y^2 \frac{\partial z}{\partial y} = \frac{x^2}{y}.$$

$$4. z = x^2 - 4x\sqrt{y} - 2x + 5y + 3.$$

**Варіант 11**

1.  $z = \ln(x^2 + x - 2 - y) - \sqrt{1 - y^2}$ .
2.  $z = \ln\left(x + \frac{y}{2x}\right)$ ,  $M(1; 2)$ ,  $\bar{a} = (-4; 3)$ .
3.  $z = \frac{xy}{x - y}$ ,  $\frac{\partial^2 z}{\partial x^2} + 2\frac{\partial^2 z}{\partial x \partial y} + \frac{\partial^2 z}{\partial y^2} = \frac{2}{x - y}$ .
4.  $z = x^3 - 8y^3 - 6xy + 5$ .

**Варіант 12**

1.  $z = \sqrt{xy} - \sqrt{4 - x^2 - y^2}$ .
2.  $z = x^2 y + y e^{\frac{x}{y}}$ ,  $M(0; 1)$ ,  $\bar{a} = (4; -3)$ .
3.  $z = y \sin(x^2 - y^2)$ ,  $\frac{1}{x} \cdot \frac{\partial z}{\partial x} + \frac{1}{y} \cdot \frac{\partial z}{\partial y} = \frac{z}{y^2}$ .
4.  $z = x^3 - xy^2 + 3x^2 + y^2 - 1$ .

**Варіант 13**

1.  $z = \arcsin(x - 1) + \sqrt{y - 2x}$ .
2.  $z = e^{\operatorname{tg}(y^3 - 2x)}$ ,  $M\left(\frac{1}{2}; 1\right)$ ,  $\bar{a} = (-5; 1)$ .
3.  $z = x^y$ ,  $y \frac{\partial^2 z}{\partial x \partial y} = (1 + y \ln x) \frac{\partial z}{\partial x}$ .
4.  $z = -\frac{1}{2}x^2 + 8xy - y^3 - 13x - 12y$ .

**Варіант 14**

1.  $z = \log_2(y^2 - 4x + 8) + \sqrt{5 - x}$ .
2.  $z = \sqrt{\frac{y}{x}} + xy$ ,  $M(1; 2)$ ,  $\bar{a} = (2; -6)$ .

$$3. z = \operatorname{arctg} \frac{x+y}{1-xy}, \quad \frac{\partial^2 z}{\partial x \partial y} = 0.$$

$$4. z = x^2 + xy + y^2 - 4 \ln x - 10 \ln y.$$

### Варіант 15

$$1. z = \sqrt{1 - \frac{x^2}{9} - \frac{y^2}{4}} + \sqrt{1 - y^2}.$$

$$2. z = y \operatorname{tg}(x+1), \quad M(-1; 1), \quad \bar{a} = (-4; -4).$$

$$3. z = x^y, \quad \frac{x}{y} \cdot \frac{\partial z}{\partial x} + \frac{1}{\ln x} \cdot \frac{\partial z}{\partial y} = 2z.$$

$$4. z = xy^2 + x^3 + 6xy.$$

### Варіант 16

$$1. z = \sqrt{y - \sqrt{x}} + \sqrt{4 - x - y}.$$

$$2. z = \operatorname{tg} \frac{x^2}{y} + y, \quad M(0; 1), \quad \bar{a} = (-5; -2).$$

$$3. z = \ln(x^2 + (y-2)^2), \quad \frac{\partial^2 z}{\partial x^2} + \frac{\partial^2 z}{\partial y^2} = 0.$$

$$4. z = x^2 - 2xy + 2y^3 - y^4.$$

### Варіант 17

$$1. z = \sqrt{x - \sqrt{y}} - \sqrt{2 - x - y}.$$

$$2. z = \operatorname{tg}(x^2 y - \ln x), \quad M(1; \pi), \quad \bar{a} = (6; 8).$$

$$3. z = \ln \frac{1}{\sqrt{(x-a)^2 - (y-b)^2}}, \quad \frac{\partial^2 z}{\partial x^2} + \frac{\partial^2 z}{\partial y^2} = 0.$$

$$4. z = e^{-2x^2} (x - y^2).$$

### Варіант 18

$$1. z = \sqrt{1 - \frac{x^2}{4} - \frac{y^2}{9}} + \sqrt{y - 2x}.$$

$$2. z = \left(1 + \ln \sin(xy^2)\right)^3, M\left(\frac{\pi}{2}; 1\right), \bar{a} = (2; 3).$$

$$3. z = \cos^2(x - 3y), \frac{\partial^2 z}{\partial y^2} + 9 \frac{\partial^2 z}{\partial x^2} = 0.$$

$$4. z = e^{\frac{x}{2}}(x + y^2).$$

### Варіант 19

$$1. z = \frac{1}{\sqrt{x - y^2}} - 2\sqrt{x + y + 2}.$$

$$2. z = \sqrt{xy + \frac{x}{y}}, M(2; 1), \bar{a} = (7; 1).$$

$$3. z = \ln\left(\frac{y}{x} - 1\right), \frac{\partial^2 z}{\partial x^2} + \frac{x^2}{y^2 - 2xy} \cdot \frac{\partial^2 z}{\partial y^2} = 0.$$

$$4. z = -2x^3 + 3x\sqrt{y} + 18x - 1,5y.$$

### Варіант 20

$$1. z = \arccos y + \ln(y - x^2 + 4).$$

$$2. z = \frac{x \cos y - y \cos x}{1 + \sin x + \sin y}, M(0; 0), \bar{a} = (-2; -5).$$

$$3. z = 2 \cos^2\left(x - \frac{y}{2}\right), \frac{\partial^2 z}{\partial x \partial y} + 2 \frac{\partial^2 z}{\partial y^2} = 0.$$

$$4. z = x^3 - 5xy + 5y^2 + 7x - 15y + 1.$$

### Варіант 21

$$1. z = \ln(3 - x^2 - 2x + y) + \sqrt{2 - y}.$$

$$2. z = \left(\ln \sin(x^2 y) + 1\right)^5, M\left(1; \frac{\pi}{2}\right), \bar{a} = (7; 4).$$

$$3. z = xe^{-\frac{y}{x}}, \quad x \frac{\partial z}{\partial x \partial y} + 2 \left( \frac{\partial z}{\partial x} + \frac{\partial z}{\partial y} \right) = y \frac{\partial^2 z}{\partial y^2}.$$

$$4. z = x^3 + 6xy + 3y^2 - 18x - 18y + 3.$$

### Варіант 22

$$1. z = \arcsin \frac{x+2}{3} + \sqrt{y-x}.$$

$$2. z = e^{\operatorname{tg}(x^3-2y)}, \quad M \left( 1; \frac{1}{2} \right), \quad \bar{a} = (-1; -3).$$

$$3. z = \ln \left( \frac{1}{x} - \frac{1}{y} \right), \quad \frac{\partial^2 z}{\partial x \partial y} + \frac{\partial^2 z}{\partial x^2} = \frac{1}{x^2}.$$

$$4. z = x^3 - 7x^2 + xy - y^2 + 9x + 3y + 12.$$

### Варіант 23

$$1. z = \sqrt{x^2 + y^2 - 1} + \ln(4 - x^2 - y^2).$$

$$2. z = \frac{x \cos y - y \cos x}{1 + \sin x + \sin y}, \quad M(0; 0), \quad \bar{a} = (-1; -5).$$

$$3. z = \operatorname{arctg}(2x - y), \quad \frac{\partial^2 z}{\partial x^2} + 2 \frac{\partial^2 z}{\partial x \partial y} = 0.$$

$$4. z = e^{\frac{x}{2}}(x + y^2).$$

### Варіант 24

$$1. z = \sqrt{x+y} \ln(y^2 - x^2).$$

$$2. z = \operatorname{arctg}(x - 3y), \quad M(3; 1), \quad \bar{a} = (12; -3).$$

$$3. z = \operatorname{arctg} \frac{y}{x}, \quad x \frac{\partial z}{\partial x} + y \frac{\partial z}{\partial y} = 0.$$

$$4. z = 3x^2 - 2y\sqrt{x} + 0,5y^2 - 56x + 2.$$

### Варіант 25

1.  $z = \ln(y^2 - x) + \sqrt{2 - x - y}$ .

2.  $z = \frac{\cos(x - 2y)}{\cos(x + 2y)}, M\left(\frac{\pi}{4}; \pi\right), \bar{a} = (3; -2)$ .

3.  $z = \frac{y^2}{3x} + \arcsin(xy), x^2 \frac{\partial z}{\partial x} - xy \frac{\partial z}{\partial y} + y^2 = 0$ .

4.  $z = 3x^3 + 7xy - 3,5y^2 - 60x + 3$ .

### Варіант 26

1.  $z = \frac{1}{\sqrt{y - 2x}} + \frac{1}{\sqrt{y + 2x}}$ .

2.  $z = e^{\operatorname{tg}(y^3 - 2x)}, M\left(\frac{1}{2}; 1\right), \bar{a} = (4; -5)$ .

3.  $z = \frac{xy}{x - y}, \frac{\partial^2 z}{\partial x^2} + 2 \frac{\partial^2 z}{\partial x \partial y} + \frac{\partial^2 z}{\partial y^2} = \frac{1}{x - y}$ .

4.  $z = 3x^2 - 2x\sqrt{y} + y - 8x + 8$ .

### Варіант 27

1.  $z = \sqrt{y(x - 2)} + \ln(x + 1)$ .

2.  $z = xy + x \cdot e^{\frac{y}{x}}, M(1; 0), \bar{a} = (-3; 2)$ .

3.  $z = xe^y + ye^x, \frac{\partial^3 z}{\partial x^3} + \frac{\partial^3 z}{\partial y^3} = x \cdot \frac{\partial^3 z}{\partial x \partial y^2} + y \frac{\partial^3 z}{\partial x^2 \partial y}$ .

4.  $z = 3x + 6y - x^2 - xy - y^2 + 7$ .

### Варіант 28

1.  $z = \sqrt{x^2 - 4} + \sqrt{y^2 - 4}$ .

2.  $z = \ln\left(x + \sqrt{x^2 + y^2}\right), M(1; 0), \bar{a} = (3; -1)$ .

$$3. z = 2 \cos^2 \left( y - \frac{x}{2} \right), \quad 2 \frac{\partial^2 z}{\partial x^2} + \frac{\partial^2 z}{\partial x \partial y} = 0.$$

$$4. z = y\sqrt{x} - y^2 - x + 6y.$$

### Варіант 29

$$1. z = \arcsin \frac{x}{2} + \sqrt{xy}.$$

$$2. z = \ln \left( y + \frac{x}{2y} \right), \quad M(2; 1), \quad \bar{a} = (-5; 2).$$

$$3. z = \ln \operatorname{tg} \frac{x}{y}, \quad \frac{\partial^2 z}{\partial x \partial y} = \frac{\partial^2 z}{\partial y \partial x}.$$

$$4. z = 2 + (x - y)^2 + (y - 1)^4.$$

### Варіант 30

$$1. z = \sqrt{x^2 + y^2 - 1} + \ln(4 - x^2).$$

$$2. z = \ln \cos \frac{y}{x}, \quad M \left( 1; \frac{\pi}{4} \right), \quad \bar{a} = (1; -4).$$

$$3. z = \frac{1}{\sqrt{x^2 + y^2}}, \quad \frac{\partial^2 z}{\partial x^2} + \frac{\partial^2 z}{\partial y^2} = 0.$$

$$4. z = x\sqrt{y} - x^2 - y + 6x + 3.$$

### Контрольні запитання

1. Як побудувати поверхню в середовищі GNU Octave?
2. Як обчислити частинні похідні першого та другого порядку в середовищі GNU Octave?
3. Як визначити диференціали першого та другого порядку в середовищі GNU Octave?
4. Що називають градієнтом функції? Які властивості має градієнт?
5. Як обчислити похідну за напрямком у середовищі GNU Octave?
6. Як визначити екстремум функції кількох змінних?

7. Які необхідні умови існування екстремуму функції двох змінних?
8. Які достатні умови існування екстремуму функції двох змінних?

## 7. Інтегральне числення функції однієї змінної

### Мета:

- + вивчення основних операцій і функцій, за допомогою яких здійснюють інтегрування в середовищі GNU Octave;
- + закріплення теоретичних знань із теми «Інтегральне числення функції однієї змінної»;
- + набуття практичних навичок у розв'язанні задач за темою «Інтегральне числення функції однієї змінної» в середовищі GNU Octave.

### Компетентності:

уміння обчислювати невизначені та визначені інтеграли засобами середовища GNU Octave;

навички у використанні засобів середовища GNU Octave під час обчислення площі фігури, обмеженої лініями, та об'єму тіла, утвореного обертанням фігури, обмеженої певними лініями навколо відповідної осі;

знання алгоритму дослідження невластних інтегралів за допомогою інструментарію GNU Octave та вміння щодо його реалізації.

### 7.1. Обчислення невизначених інтегралів

За допомогою вбудованого програмного пакету Symbolic Math у середовищі GNU Octave можна аналітично обчислити невизначені інтеграли від математичних функцій.

Реалізацію цих обчислень здійснюють за допомогою функцій `int(f)` або `int(f, 'x')`, вхідним аргументом яких є символічний вираз функції  $f$ , яку слід інтегрувати, та змінна інтегрування  $x$ . Другий аргумент функції доцільно використовувати в разі інтегрування функцій, які містять не тільки змінну інтегрування, а також інші параметри, за якими не відбувається інтегрування. Результатом використання функцій `int(f)` або `int(f, 'x')` є символічний вираз однієї з первісних (слід згадати, що права частина рівності  $\int f(x)dx = F(x) + C$  описує однопараметричну сім'ю первісних).

Для того щоб обчислити невизначений інтеграл від функції  $f(x)$ , потрібно послідовно виконати такі дії:

задати всі символічні змінні, використані в описі функції, за допомогою команди `syms`;

задати функцію (або створити символічну функцію за допомогою функції `sym`, водночас немає потреби виконувати крок 1);

викликати функцію `int()`.

**Зауваження 1:** у разі послідовного обчислення декількох інтегралів не обов'язково кожен раз оголошувати змінні та параметри, якщо раніше вони вже були описаними.

**Зауваження 2:** щоб уникнути плутанини під час роботи з функцією `int()`, рекомендують викликати її у формі `int(f, 'x')`.

Найпростішим методом інтегрування є *безпосереднє інтегрування*, яке потребує знання таблиці основних інтегралів, основних властивостей невизначеного інтеграла та вміння виконувати тотожні перетворення підінтегральної функції. Цей підхід, зазвичай, не викликає труднощів, але охоплює лише вузький клас функцій.

Розгляньмо приклади інтегралів, до яких можна застосувати метод безпосереднього інтегрування, щоб переконатися в окремих формулах таблиці інтегралів.

**Приклад 7.1.** Обчисліть інтеграли:

а)  $\int x^5 dx$ ; б)  $\int \left( 2 \sin x - 4 + 3\sqrt{x} + \frac{5}{x^2 + 4} - \frac{1}{x} \right) dx$ ; в)  $\int \sqrt[3]{x} dx$ ;

г)  $\int 2^{3x-1} dx$ ; г)  $\int \frac{dx}{4x+3}$ .

**Розв'язання:**

а) маємо табличний інтеграл (згадайте відповідь із таблиці основних інтегралів):

```
>>syms x
>>f=sym('x^5')
f = (sym)
     5
     x
```

```
>>I1=int(f,'x')
```

```
I1 = (sym)
```

$$\frac{x^6}{6}$$

б) потрібно обчислити інтеграл від суми та різниці табличних функцій:

```
>>f=sym('2*sin(x)-4+3*sqrt(x)+5/(x^2+4)-1/x')
```

```
f = (sym)
```

$$3\sqrt{x} + 2\sin(x) - 4 + \frac{5}{x^2 + 4} - \frac{1}{x}$$

```
>>I2=int(f,'x')
```

```
I2 = (sym)
```

$$2\cdot x^{3/2} - 4\cdot x - \log(x) - 2\cdot \cos(x) + \frac{5\cdot \operatorname{atan}\left(\frac{x}{2}\right)}{2}$$

в) маємо табличний інтеграл:

```
>>f=sym('x^(1/3)')
```

```
f = (sym)
```

$$\sqrt[3]{x}$$

```
>>I3=int(f,'x')
```

```
I3 = (sym)
```

$$\frac{3\cdot x^{4/3}}{4}$$

г) маємо інтеграл, для перевірки відповіді якого слід згадати властивість  $\int f(x)dx = F(x) + C \Rightarrow \int f(kx+b)dx = \frac{1}{k}F(kx+b) + C$ , а в середовищі GNU Octave маємо:

```
>>f=sym('2^(3*x-1)')
f = (sym)
      3·x - 1
      2
>>I4=int(f,'x')
I4 = (sym)
      3·x - 1
      2
      _____
      3·log(2)
```

г) аналогічно до п. г):

```
>>f=sym('1/(4*x+3)')
f = (sym)
      1
      _____
      4·x + 3
>>I5=int(f,'x')
I5 = (sym)
      log(4·x + 3)
      _____
      4
```

У деяких випадках відповідь подають у символічному вигляді, який дещо відрізняється від табличного, але після певних перетворень визначеного виразу можна переконатися, що надана відповідь є тотожною до табличного результату.

**Приклад 7.2.** Обчисліть інтеграл  $\int \frac{dx}{9x^2 - 1}$ .

**Розв'язання.**

```
>>f=sym('1/(9*x^2-1)')
```

```
f = (sym)
```

$$\frac{1}{9 \cdot x^2 - 1}$$

```
>>I6=int(f,'x')
```

```
I6 = (sym)
```

$$\frac{\log(x - 1/3)}{6} - \frac{\log(x + 1/3)}{6}$$

У цьому прикладі слід згадати властивості логарифма.

**Приклад 7.3.** Обчисліть інтеграл  $\int \frac{dx}{4x^2 + 25}$ .

**Розв'язання.**

```
>>f=sym('1/(4*x^2+25)')
```

```
f = (sym)
```

$$\frac{1}{4 \cdot x^2 + 25}$$

```
>>I7=int(f,'x')
```

```
I7 = (sym)
```

$$\frac{\operatorname{atan}\left(\frac{2 \cdot x}{5}\right)}{10}$$

**Приклад 7.4.** Обчисліть інтеграл  $\int \frac{dx}{\sqrt{4x^2 + 1}}$ .

*Розв'язання.*

```
>>f=sym('1/sqrt(4*x^2+1)')
```

```
f = (sym)
```

$$\frac{1}{\sqrt{4x^2 + 1}}$$

```
>>I8=int(f,'x')
```

```
I8 = (sym)
```

$$\frac{\operatorname{asinh}(2x)}{2}$$

Якщо невизначений інтеграл не є табличним, то в багатьох випадках до мети приведе метод інтегрування заміною змінної, інтегрування частинами та ін. У середовищі GNU Octave не має значення, який вигляд має інтеграл і який саме метод потрібно використати. Відповідні алгоритми певних методів убудовано у функцію `int(f, 'x')`, і тому обчислення інтегралів відбувається за означеною раніше послідовністю дій.

Розгляньмо приклади інтегралів, у яких слід було б використовувати метод заміни змінної.

**Приклад 7.5.** Обчисліть інтеграли:

а)  $\int \frac{\cos x dx}{\sin^2 x}$ ; б)  $\int \frac{dx}{x\sqrt{4 - \ln x}}$ ; в)  $\int \frac{2 \sin x dx}{\cos^3 x}$ ; г)  $\int \frac{2x + 3}{x^2 + 3x + 5} dx$ ;

г)  $\int x e^{-x^2} dx$ ; д)  $\int \frac{\sqrt{\ln x}}{x} dx$ .

*Розв'язання:*

```
а) >>f=sym('cos(x)/(sin(x))^2')
```

```
f = (sym)
```

$$\frac{\cos(x)}{2 \sin(x)}$$

>>I9=int(f,'x')

I9 = (sym)

$$\frac{-1}{\sin(x)}$$

**6)** >>f=sym('1/(x\*sqrt(4-log(x)))')

f = (sym)

$$\frac{1}{x \cdot \sqrt{4 - \log(x)}}$$

>>I10=int(f,'x')

I10 = (sym)

$$-2 \cdot \sqrt{4 - \log(x)}$$

**B)** >>f=sym('(2\*sin(x))/(cos(x))^3')

f = (sym)

$$\frac{2 \cdot \sin(x)}{\cos^3(x)}$$

>>I11=int(f,'x')

I11 = (sym)

$$\frac{1}{2 \cos(x)}$$

г) >>f=sym(' (2\*x+3) / (x^2+3\*x+5)')

f = (sym)

$$\frac{2 \cdot x + 3}{x^2 + 3 \cdot x + 5}$$

>>I12=int(f,'x')

I12 = (sym)

$$\log(x^2 + 3 \cdot x + 5)$$

г) >>f=sym('x\*exp(-x^2)')

f = (sym)

$$x \cdot e^{-x^2}$$

>>I13=int(f,'x')

I13 = (sym)

$$\frac{-e^{-x^2}}{2}$$

д) >>f=sym('sqrt(log(x))/x')

f = (sym)

$$\frac{\sqrt{\log(x)}}{x}$$

>>I14=int(f,'x')

I14 = (sym)

$$\frac{2 \cdot \log(x)^{3/2}}{3}$$

Розгляньмо приклади інтегралів, у яких слід було б використувати метод інтегрування частинами.

**Приклад 7.6.** Обчисліть інтеграли:

а)  $\int x e^{-2x} dx$ ; б)  $\int (x^3 + 1) \ln x dx$ ; в)  $\int e^{2x} \sin 3x dx$ .

**Розв'язання:**

а) `>>f=sym('x*exp(-2*x)')`

f = (sym)

-2·x

x·e

`>>I15=int(f,'x')`

I15 = (sym)

-2·x

$\frac{(-2 \cdot x - 1) \cdot e^{-2 \cdot x}}{4}$

4

б) `>>f=sym('(x^3+1)*log(x)')`

f = (sym)

$\left(x^3 + 1\right) \cdot \log(x)$

`>>I16=int(f,'x')`

I16 = (sym)

$-\frac{x^4}{16} - x + \left(\frac{x^4}{4} + x\right) \cdot \log(x)$

в) `>>f=sym('exp(2*x)*sin(3*x)')`

f = (sym)

2·x

e<sup>2·x</sup> · sin(3·x)

`>>I17=int(f,'x')`

$$I17 = (\text{sym})$$

$$\frac{2 \cdot x}{13} \cdot \sin(3 \cdot x) - \frac{2 \cdot x}{13} \cdot \cos(3 \cdot x)$$

Розгляньмо ще один клас функцій, які підлягають інтегруванню, а саме раціональні алгебраїчні дроби.

**Приклад 7.7.** Обчисліть інтеграли:

$$\text{а) } \int \frac{(x-1)dx}{(x-2)(x+3)}; \quad \text{б) } \int \frac{(4x+1)dx}{x^3+4x}.$$

*Розв'язання:*

а) >>f=sym(' (x-1) / ((x-2) \* (x+3))')

f = (sym)

$$\frac{x - 1}{(x - 2) \cdot (x + 3)}$$

>>I18=int(f, 'x')

I18 = (sym)

$$\frac{\log(x - 2)}{5} + \frac{4 \cdot \log(x + 3)}{5}$$

б) >>f=sym(' (4\*x+1) / (x^3+4\*x)')

f = (sym)

$$\frac{4 \cdot x + 1}{x^3 + 4 \cdot x}$$

>> I19=int(f, 'x')

I19 = (sym)

$$\frac{\log(x)}{4} - \frac{\log(x^2 + 4)}{8} + 2 \cdot \operatorname{atan}\left(\frac{x}{2}\right)$$

## 7.2. Обчислення визначених інтегралів. Дослідження невластних інтегралів

За допомогою Symbolic Math у середовищі GNU Octave можна аналітично обчислювати визначені інтеграли (включно з невластними) від математичних функцій. Реалізацію цих обчислень здійснюють, як і під час обчислення невизначених інтегралів, за допомогою функції `int()`. Як і в разі обчислення невизначених інтегралів, першим вхідним аргументом функції `int` є символічний вираз, що визначає функцію, яку інтегрують, другим – змінна інтегрування. Окрім того, для визначених та невластних інтегралів передбачено третій і четвертий аргументи, які становлять межі інтегрування.

Для того щоб обчислити визначений інтеграл  $f(x)$  за межами інтегрування  $a$  та  $b$  (наприклад  $\int_a^b f(x) dx$ ), потрібно послідовно виконати такі дії:

задати всі символічні змінні, використані в описі функції, за допомогою команди `syms`;

задати функцію (або створити символічну функцію за допомогою функції `sym`, водночас не має потреби виконувати крок 1);

викликати функцію `int(f, a, b)` або `int(f, 'x', a, b)`.

**Зауваження 1:** у разі якщо одна з меж інтегрування дорівнює нескінченності, то слід використати позначення `Inf`.

**Зауваження 2:** під час обчислення інтегралів може знадобитися додати час для розрахунку. У разі виникнення напису «Add 15 seconds» слід натиснути на цей напис. Інакше буде припинено обчислення без надання аналітичної відповіді.

**Приклад 7.8.** Обчисліть інтеграли:

$$\text{а) } \int_9^{16} \frac{3^{\sqrt{x}} - 1}{2\sqrt{x}} dx; \quad \text{б) } \int_0^{2\pi} (2x - 5) \cos 2x dx.$$

*Розв'язання:*

```
а) >>f=sym('(3^(sqrt(x))-1)/(2*sqrt(x))')
```

$$f = (\text{sym})$$
$$\frac{3^{\sqrt{x}} - 1}{2 \cdot \sqrt{x}}$$

```
>>I20=int(f,'x',9,16)
```

```
I20 = (sym)
```

$$-1 + \frac{54}{\log(3)}$$

```
б) >>f=sym('(2*x-5)*cos(2*x)')
```

```
f = (sym) (2*x - 5) * cos(2*x)
```

```
>>I21=int(f,'x',0,2*pi)
```

```
I21 = (sym) 0
```

Техніка обчислення визначеного інтеграла може бути використаною і під час дослідження невластного інтеграла на збіжність.

Слід згадати, що залежно від того, яка саме умова існування визначеного інтеграла є порушеною, розглядають невластні інтеграли першого (замість скінченного відрізка  $[a, b]$  розглядають нескінченні півінтервали  $(-\infty, b]$ ,  $[a, +\infty)$ , або інтервал  $(-\infty, +\infty)$ ) та другого (замість підінтегральної функції, яка є неперервною або обмеженою на відрізьку інтегрування та має скінченну кількість точок розриву першого роду, розглядають функцію, що має на цьому відрізьку нескінченний розрив, тобто розрив другого роду) типів.

**Приклад 7.9.** Обчисліть невласні інтеграли або доведіть їх розбіжність.

$$\text{а) } \int_{-\infty}^1 x e^{3x} dx; \text{ б) } \int_{-\infty}^{+\infty} x e^{4x^2} dx.$$

**Розв'язання:**

а) маємо невласний інтеграл першого типу:

```
>>f=sym('x*exp(3*x)')
f = (sym)
      3·x
     x·e
>>int(f,'x',-Inf,1)
ans = (sym)
      3
     2·e
     ———
      9
```

Визначили скінченне числове значення, тому інтеграл  $\int_{-\infty}^1 x e^{3x} dx$

є збіжним і дорівнює  $\frac{2}{9}e^3$ ;

```
б)>>f= sym('x*exp(4*x^2)')
f = (sym)
      2
     4·x
     x·e
```

```
>>int(f,'x',-Inf,Inf)
ans = (sym) nan
```

У результаті обчислень визначено нечислове значення nan (not a number), тому інтеграл  $\int_{-\infty}^{+\infty} x e^{4x^2} dx$  є розбіжним.

### 7.3. Обчислення площі фігури, обмеженої лініями

Визначений інтеграл має широке застосування в математиці та фізиці. Розглянемо застосування визначеного інтеграла в геометрії, зокрема для обчислення площ фігур, обмежених графіками функцій, та об'ємів тіл.

Пригадаймо основні теоретичні відомості:

визначений інтеграл від неперервної функції  $y = f(x)$  на відрізку  $[a, b]$  чисельно дорівнює площі  $S$  криволінійної трапеції, обмеженої графіком функції  $y = f(x)$ , віссю  $Ox$  і прямими  $x = a$  та  $x = b$ , за умови, що функція  $y = f(x)$  на відрізку  $[a, b]$  є невід'ємною:

$$S = \int_a^b f(x) dx,$$

якщо функція  $y = f(x)$  на відрізку  $[a, b]$  є недодатною, тобто  $f(x) \leq 0$ , то визначений інтеграл від неї також буде числом недодатним, тоді для  $f(x) \leq 0$  площа криволінійної трапеції дорівнює:

$$S = -\int_a^b f(x) dx,$$

якщо функція  $y = f(x)$  кілька разів змінює знак на проміжку  $[a, b]$ , то площу можна обчислити за такою формулою:

$$S = \int_a^b |f(x)| dx,$$

якщо треба визначити площу фігури, обмеженої лініями  $y = f_1(x)$ ,  $y = f_2(x)$ , заданими на відрізку  $[a, b]$ , причому  $f_1(x) \leq f_2(x)$ , то цю площу обчислюють за такою формулою:

$$S = \int_a^b f_2(x) dx - \int_a^b f_1(x) dx = \int_a^b (f_2(x) - f_1(x)) dx.$$

**Приклад 7.10.** Обчисліть площу фігури, обмеженої лініями  $y = 5 - x^2$  та  $y = x - 1$ .

*Розв'язання.* Для обчислення площі фігури спочатку побудуємо графіки функцій  $y = 5 - x^2$  та  $y = x - 1$ . Перша лінія – це парабола, яка перетинає вісь ОХ у точках  $x = \pm 5$ , тому на інтервалі  $[-5; 5]$  із кроком 0,25 обчислимо значення заданих функцій:

```
>>x=-5:0.25:5;  
>>y1=5-x.^2;  
>>y2=x-1;
```

а далі побудуємо графіки заданих ліній:

```
>>plot(x,y1,'b','linewidth',3,x,y2,'r','linewidth',3)  
; xlabel('x'); ylabel('y'); legend('y=5-x^2','y=x-1');  
grid on
```

На рис. 7.1 показано результат побудови графіків заданих ліній, які перетинаються у двох точках.

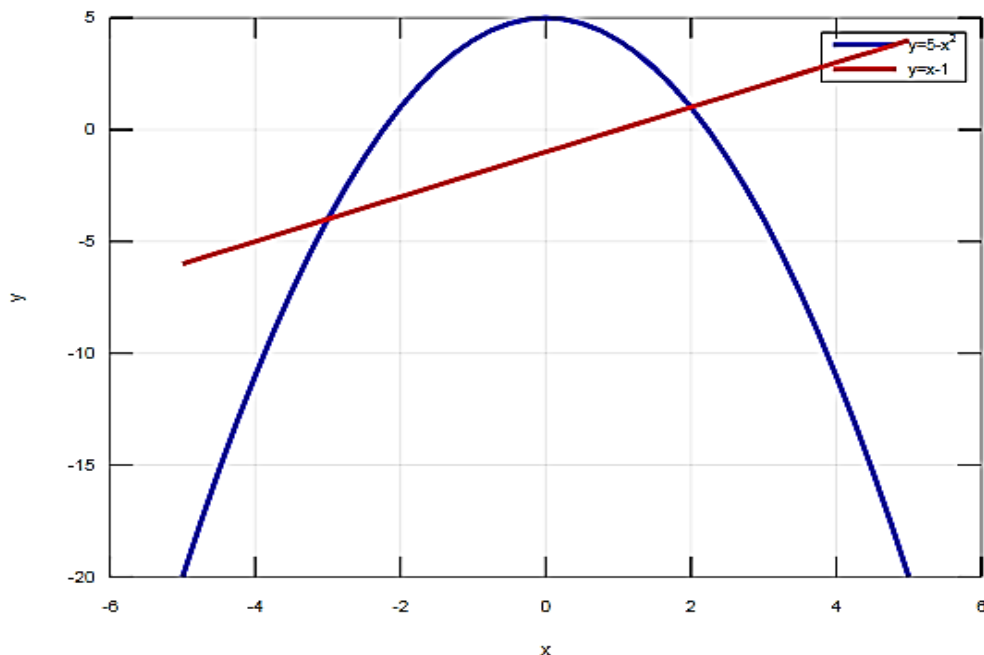


Рис. 7.1. Графіки функцій  $y = 5 - x^2$  та  $y = x - 1$

```
>>set(gca,'XTick',[-6 -5 -4 -3 -2 -1 0 1 2 3 4 5 6])  
% крок по осі OX
```

На рис. 7.2 показано результат створення сітки графіка.

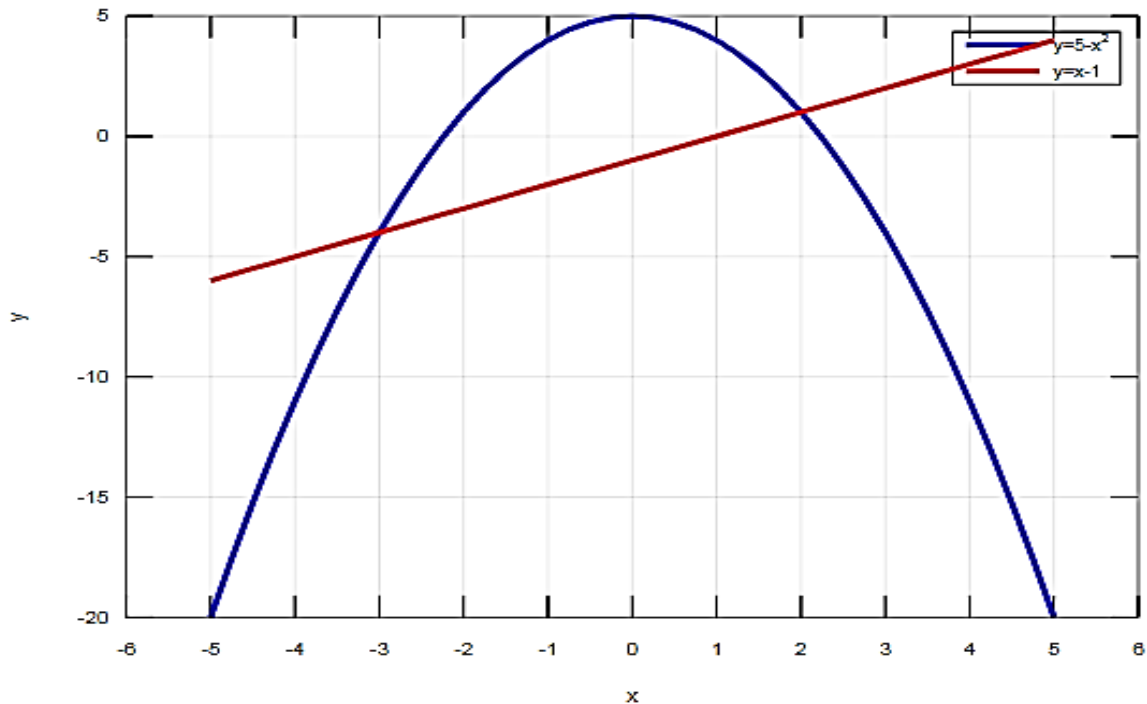


Рис. 7.2. Криволінійна трапеція

```
>>hold on % фіксуємо вікно
```

Тепер потрібно визначити межі інтегрування (абсциси точок перетину графіків функцій), розв'язавши рівняння  $y_1(x) = y_2(x)$ , еквівалентне рівнянню  $y_1(x) - y_2(x) = 0$  (використовуймо функцію `solve(y1-y2)`):

```
>>y1=sym('5-x^2')  
y1 = (sym)  
      2  
      5 - x  
>>y2=sym('x-1')  
y2 = (sym) x - 1
```

```
>>roots=solve(y1-y2)
roots = (sym 2x1 matrix)
  [-3]
  [ 2]
```

```
>>limits=double([roots(1) roots(2)])
limits =
  -3  2
```

Отже, межами інтегрування є  $x = -3$  та  $x = 2$ .  
Нанесімо ці точки на графік (рис. 7.3):

```
>>plot(limits(1),double(subs(y1,'x',limits(1))),'yo',
'linewidth',4,limits(2),double(subs(y1,'x',limits(2))),'yo',
', 'linewidth',4)
```

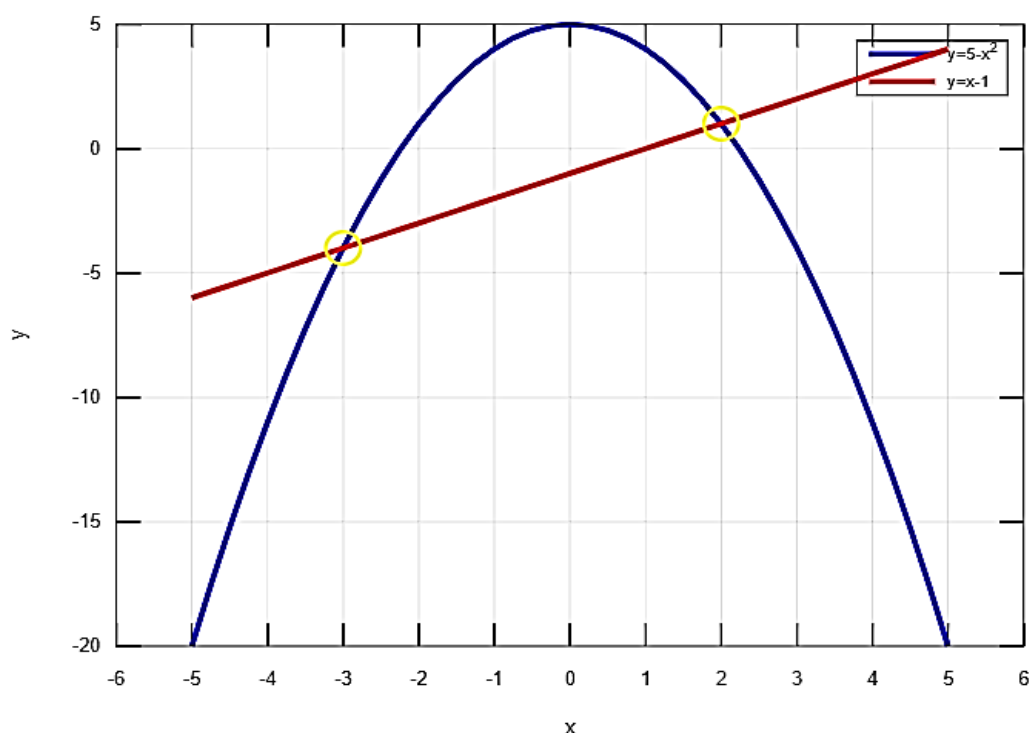


Рис. 7.3. Визначення меж інтегрування

За допомогою функції обчислення визначеного інтеграла в середовищі GNU Octave обчислюємо площу криволінійної трапеції:

```
>>S=int(y1-y2,'x',limits(1),limits(2))
S = (sym) 125/6
```

Отже, площа фігури, обмеженої лініями  $y = 5 - x^2$  та  $y = x - 1$ , дорівнює  $125/6$  кв. од.

#### 7.4. Обчислення об'єму тіла, утвореного обертанням навколо відповідної осі фігури, обмеженої лініями

Відомо, що об'єм тіла, утвореного від обертання криволінійної трапеції, обмеженої графіком функції  $y = f(x)$ , де  $x \in [a; b]$ , навколо осі  $OX$ , обчислюють за такою формулою:

$$V = \pi \int_a^b f^2(x) dx.$$

Якщо треба визначити об'єм тіла, утвореного від обертання криволінійної трапеції, обмеженої лініями  $y = f_1(x)$ ,  $y = f_2(x)$ , заданими на відрізьку  $[a, b]$ , причому  $f_1(x) \leq f_2(x)$ , то цей об'єм обчислюють за такою формулою:

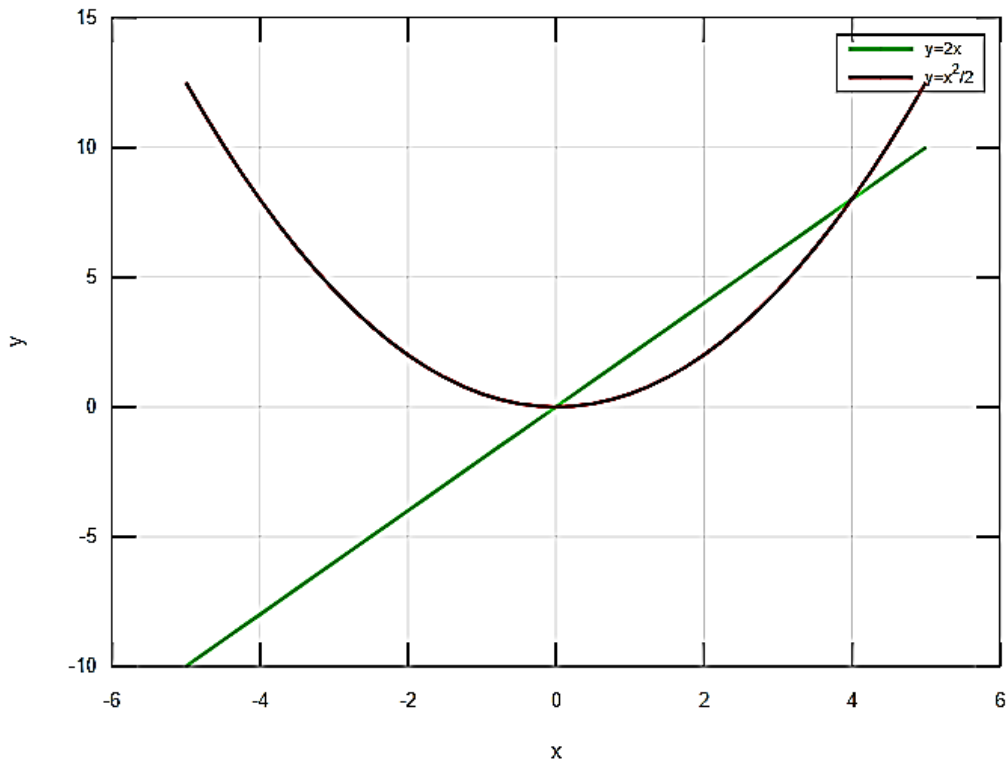
$$V = \pi \int_a^b (f_2^2(x) - f_1^2(x)) dx.$$

**Приклад 7.11.** Обчисліть об'єм тіла, утвореного обертанням навколо осі абсцис фігури, обмеженої лініями  $y = 2x$ ,  $y = \frac{x^2}{2}$  навколо осі  $OX$ .

*Розв'язання.* Побудуймо фігуру, яка утворює тіло обертання (рис. 7.4):

```
>>x=-5:0.25:5;  
>>y1=2*x;  
>>- y2=x.^2/2;
```

```
>>plot(x,y1,'g','linewidth',2,x,y2,'r','linewidth',2);
xlabel('x'); ylabel('y'); legend('y=2x','y=x^2/2'); grid
on
```



**Рис. 7.4. Лінії, що утворюють фігуру**

```
>>hold on % фіксуємо вікно
```

Визначаймо межі інтегрування, розв'язавши рівняння  $y_1(x) = y_2(x)$ , еквівалентне рівнянню  $y_1(x) - y_2(x) = 0$ :

```
>>y1=sym('2*x')
y1 = (sym) 2*x
>>y2=sym('x^2/2')
y2 = (sym)
      2
      x
      —
      2
>>roots=solve(y1-y2)
```

```

roots = (sym 2×1 matrix)
    [0]
    [ ]
    [4]
>>limits=double([roots(1) roots(2)])
limits =
    0    4
    1

```

Отже, межами інтегрування є  $x = 0$  та  $x = 4$ .

Нанесімо ці точки на графік (рис. 7.5):

```

>>plot(limits(1),double(subs(y1,'x',limits(1))),'yo',
'linewidth',4,limits(2),double(subs(y1,'x',limits(2))),'yo',
'linewidth',4)

```

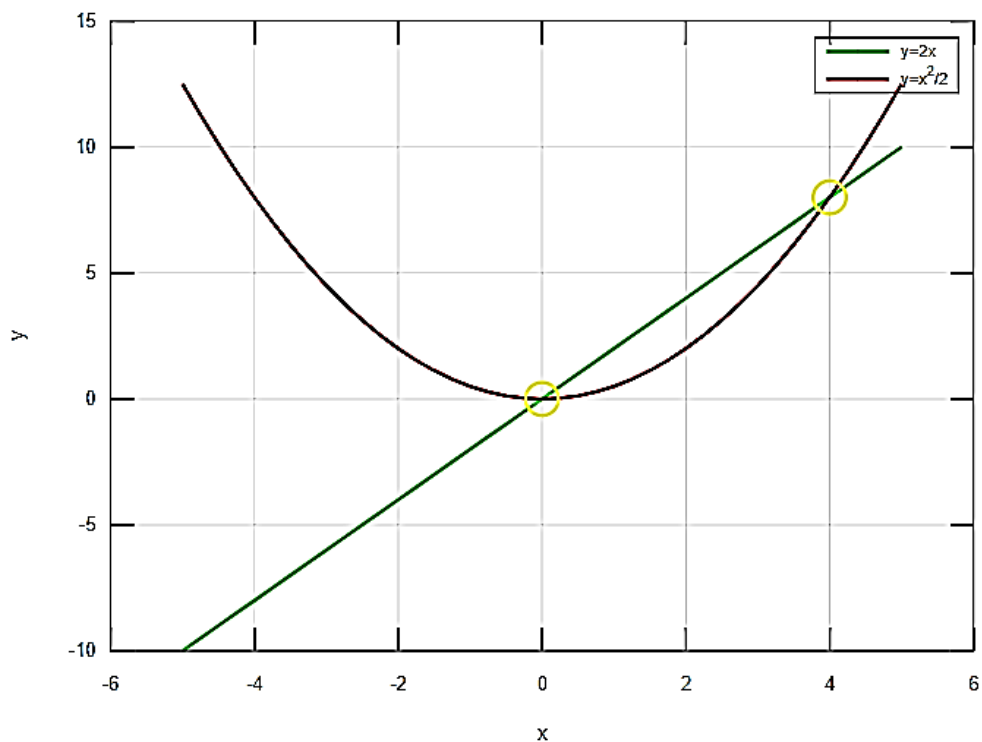


Рис. 7.5. Визначення меж інтегрування

Далі обчислюємо об'єм тіла, утвореного обертанням навколо осі абсцис (осі  $OX$ ) фігури, обмеженої лініями  $y = 2x$ ,  $x = \frac{x^2}{2}$ :

```

>>V=pi*int(y1^2-y2^2,'x',limits(1),limits(2))

```

$$V = (\text{sym})$$

$$512 \cdot \pi$$

$$\frac{\quad}{15}$$

## 7.5. Завдання для самостійної роботи

1. Обчисліть невизначені інтеграли.
2. Обчисліть визначені інтеграли.
3. Обчисліть площу фігури, обмеженої заданими лініями.
4. Обчисліть об'єм тіла, утвореного обертанням навколо осі абсцис фігури, обмеженої заданими лініями.
5. Обчисліть невластний інтеграл або доведіть його розбіжність.

### Варіант 1

$$\begin{aligned} & 1. \int \cos 7x dx; \quad \int (3x-5)^6 dx; \quad \int \sqrt{2x+3} dx; \quad \int e^{-2x} dx; \quad \int \frac{dx}{9x^2+4}; \\ & \int \frac{dx}{\sqrt{9-4x^2}}; \quad \int \frac{dx}{x(5+\ln x)}; \quad \int \frac{\sin x dx}{2+7 \cos x}; \quad \int \frac{dx}{\cos^2 x(3-2 \operatorname{tg} x)}; \quad \int \frac{x^2 dx}{5-x^3}; \\ & \int \frac{x dx}{\sqrt{4x^2+5}}; \quad \int \frac{e^x dx}{\sqrt{e^x+2}}; \quad \int \frac{2x+7}{x^2+7x-3} dx; \quad \int \frac{x^3 dx}{9+x^8}; \quad \int \frac{7 \cos x dx}{2+4 \sin x}; \quad \int \frac{x^3 dx}{\sqrt{9+x^8}}; \\ & \int \frac{dx}{x(1+\ln x)}; \quad \int e^{\sin x} \cos x dx; \quad \int \frac{\sqrt{5+\operatorname{tg} x} dx}{\cos^2 x}; \quad \int \frac{dx}{\sin^2 x \sqrt{4+\operatorname{ctg}^2 x}}; \quad \int x e^{-5x^2} dx; \\ & \int (x+2) \cos x dx; \quad \int x^2 e^{-x} dx; \quad \int x \ln x dx; \quad \int e^{2x} \sin 2x dx. \end{aligned}$$

$$2. \text{ а) } \int_0^{\frac{\pi}{2}} \frac{dx}{5-3 \cos x}; \quad \text{ б) } \int_{-1}^1 \frac{x dx}{\sqrt{5-4x}}; \quad \text{ в) } \int_1^3 \ln x dx.$$

$$3. y = 2\sqrt{x}, \quad 6-y=0, \quad x=0.$$

$$4. xy = 3, \quad x+y = 4.$$

$$5. \int_{-\infty}^{\infty} \frac{dx}{x^2+4x+5}.$$

## Вариант 2

$$\begin{aligned} 1. & \int (2x-5)^7 dx; \int \sqrt[5]{2x+1} dx; \int e^{-7x} dx; \int \frac{dx}{9x^2+16}; \int \frac{dx}{\sqrt{9x^2+16}}; \\ & \int \frac{dx}{x \ln^2 x}; \int \frac{dx}{\sqrt{1-x^2} \arcsin^3 x}; \int \frac{14x+6}{7x^2+6x-1} dx; \int \frac{xdx}{\sqrt{9+4x^2}}; \int e^{3x} (5+e^{3x})^3 dx; \\ & \int \frac{xdx}{4-2x^2}; \int x^2 \sqrt{3+8x^3} dx; \int \frac{\cos x dx}{\sqrt{4-9\sin^2 x}}; \int \frac{\sin x}{\sqrt{5+\cos x}} dx; \int \frac{\operatorname{arctg}^5 x dx}{1+x^2}; \\ & \int \frac{dx}{x(9+\ln^2 x)}; \int \frac{dx}{x\sqrt{9-\ln^2 x}}; \int \arcsin x dx; \int e^{2x} \cos 3x dx; \int \frac{5x-2}{x^2+4x+5} dx; \\ & \int \frac{(2x-3)dx}{x(x+1)(x-2)}; \int \frac{(3x^2+1)dx}{(x-1)(x^2-4x+5)}; \int \frac{dx}{x^4-16}; \int \frac{\sqrt{x} dx}{7-3\sqrt{x}}; \int \frac{dx}{3-5\sin x}. \end{aligned}$$

$$2. \text{ а) } \int_0^{\frac{7}{3}} \frac{x+1}{\sqrt[3]{3x+1}} dx; \quad \text{ б) } \int_{-\pi}^{\frac{\pi}{2}} \sin^2 2x dx; \quad \text{ в) } \int_2^3 \frac{dx}{2x^2+3x-2};$$

$$3. y=0, y=4(x-2), y=(x-1)^2.$$

$$4. y=0, y=2-x, y=\sqrt{x}.$$

$$5. \int_{-\infty}^5 \frac{dx}{x^2-8x+17}.$$

## Вариант 3

$$\begin{aligned} 1. & \int \cos(4x-1) dx; \int (7x+1)^9 dx; \int e^{-3x+1} dx; \int \frac{dx}{6x+7}; \int \frac{dx}{4x^2-25}; \\ & \int \frac{dx}{4x^2+25}; \int \frac{dx}{\sqrt{4x^2+25}}; \int \frac{x^8 dx}{7+3x^9}; \int \frac{dx}{x(\ln x+8)}; \int \frac{(2x+6) dx}{x^2+6x-9}; \int \frac{e^{5x} dx}{e^{5x}+5}; \\ & \int \frac{dx}{x \ln^3 x}; \int \frac{\sin x dx}{\sqrt{8+3\cos x}}; \int e^{2x} \sqrt{7+3e^{2x}} dx; \int \frac{e^{18x} dx}{\cos^2 x}; \int \frac{dx}{x(4+\ln^2 x)}; \\ & \int \frac{dx}{(1+x^2)\sqrt{4+\operatorname{arctg}^2 x}}; \int \frac{e^{\sqrt{x}} dx}{\sqrt{x}}; \int x e^{-5x} dx; \int \frac{\ln x}{\sqrt{x}} dx; \int \frac{(5x-2) dx}{x^2+6x+7}; \end{aligned}$$

$$\int \frac{3x-5}{\sqrt{x^2+4x+5}} dx; \int \frac{(4x+3)dx}{x(x^2+2x+5)}; \int \sqrt{16+x^2} dx; \int \frac{dx}{5+3\cos x}.$$

$$2. \text{ а) } \int_0^1 \frac{x^3 dx}{x^2+1}; \quad \text{б) } \int_{\frac{\pi}{6}}^{\frac{\pi}{2}} \frac{\cos x}{\sin^3 x} dx; \quad \text{в) } \int_0^{\frac{\pi}{2}} x \cos x dx.$$

$$3. y = \ln x, \quad x = e, \quad x = e^2, \quad y = 0.$$

$$4. y = x^2, \quad x = 2, \quad y = 0.$$

$$5. \int_1^{\infty} \frac{\ln x}{x^2} dx.$$

#### Вариант 4

$$1. \int \sin(7x+1) dx; \int (5x-7)^{10} dx; \int e^{3x} dx; \int \frac{dx}{(4x+1)^5}; \int \frac{dx}{\sqrt{16-9x^2}};$$

$$\int \frac{dx}{16x^2+9}; \int \frac{dx}{\sqrt{9x^2+16}}; \int \frac{dx}{\sin^2 x(1+\operatorname{ctg} x)^2}; \int \frac{\ln^3 x dx}{x}; \int \frac{e^{5x} dx}{e^{10x}+4};$$

$$\int \frac{x^2 dx}{\sqrt{9+8x^3}}; \int \frac{x dx}{(9+x^2)^2}; \int e^x \cos(e^x) dx; \int e^{\sin x} \cos x dx; \int x^3 e^{-x^4} dx;$$

$$\int \frac{\cos x dx}{4+\sin^2 x}; \int \frac{\operatorname{arctg}^5 x dx}{1+x^2}; \int \frac{dx}{x\sqrt{9\ln^2 x+16}}; \int x \cdot \operatorname{arctg} x dx; \int \frac{(3x+5) dx}{x^2-2x+10};$$

$$\int \frac{(3x-4) dx}{\sqrt{3-2x-x^2}}; \int \frac{(2x^2+x-1) dx}{(x-1)(x+1)(x-2)}; \int \frac{x^2 dx}{\sqrt{81+x^2}}; \int \frac{\sin^2 x dx}{\cos^3 x}; \int \frac{dx}{4+5\cos x}.$$

$$2. \text{ а) } \int_0^1 \frac{4\operatorname{arctg} x - x}{1+x^2} dx; \quad \text{б) } \int_1^4 \frac{1+\sqrt{x}}{x^2} dx; \quad \text{в) } \int_1^2 x \ln x dx.$$

$$3. y = \sqrt{4-x^2}, \quad y = 0, \quad x = 0, \quad x = 1.$$

$$4. y = 5\cos x, \quad y = \cos x, \quad 0 \leq x \leq \frac{\pi}{2}.$$

$$5. \int_1^e \frac{dx}{x \ln^5 x}.$$

**Варіант 5**

$$1. \int (7-9x)^{12} dx; \int \frac{dx}{6-5x}; \int \frac{dx}{4x^2+9}; \int \frac{dx}{\sqrt{16-25x^2}}; \int \frac{dx}{x(2+3\ln x)^2};$$

$$\int \frac{dx}{(1+x^2)\operatorname{arctg}^5 x}; \int \frac{(4x+3)dx}{2x^2+3x-7}; \int \cos 3x(5+7\sin 3x)^5 dx;$$

$$\int e^{4x}\sqrt{3+e^{4x}} dx; \int \frac{(1+2\operatorname{tg} x)^2 dx}{\cos^2 x}; \int \frac{dx}{x(12+3\ln^2 x)}; \int \frac{e^x dx}{\sqrt{16-e^{2x}}};$$

$$\int (x+3)\cos 2x dx; \int e^{2x}\sin 2x dx; \int \frac{(5x+2)dx}{x^2-6x+10}; \int \frac{(3x+1)dx}{\sqrt{x^2-6x+10}};$$

$$\int \frac{(x^2+x-1)dx}{x(x+2)(x-3)}; \int \frac{x^2 dx}{\sqrt{4+x^2}}; \int \sqrt{4+x^2} dx; \int \frac{x^2 dx}{\sqrt{81-x^2}}; \int \frac{dx}{\sqrt{x}(\sqrt{x}-1)};$$

$$\int \sin^3 x dx; \int \cos^4 x dx; \int \frac{dx}{\sin^2 x \cos^2 x}; \int \frac{dx}{4-3\cos x}.$$

$$2. \text{ а) } \int_{-1}^{15} \frac{dx}{\sqrt{x+10}-\sqrt{x+1}}; \text{ б) } \int_0^{\frac{\pi}{2}} \sin 4x \sin 5x dx; \text{ в) } \int_1^2 \ln(x+1) dx.$$

$$3. y = x^2 - 2x + 3, \quad y - 3x + 1 = 0.$$

$$4. y + x = 2, \quad x^2 = y.$$

$$5. \int_{-1}^2 \frac{dx}{\sqrt{3-x}}.$$

**Варіант 6**

$$1. \int \sqrt[3]{3+5x} dx; \int e^{-5x} dx; \int \frac{dx}{3-2x}; \int \frac{dx}{3x^2-2}; \int \frac{dx}{\sqrt{16x^2-1}};$$

$$\int \frac{dx}{x(7+3\ln x)^2}; \int \frac{\operatorname{arctg} 3x dx}{1+9x^2}; \int \frac{\sin 3x dx}{3\cos 3x+4}; \int \frac{x^3 dx}{4-x^8}; \int \frac{e^{3x} dx}{e^{3x}-4};$$

$$\int \cos 2x(5+7\sin 2x)^4 dx; \int \frac{dx}{x \ln^3 x}; \int x^2 \cdot 4^{x^3} dx; \int x^2 \sqrt{5+4x^3} dx; \int \frac{x^8 dx}{\sqrt{5-x^9}};$$

$$\int e^{\cos 3x} \sin 3x dx; \quad \int \frac{(1+3\operatorname{ctg} x)^4 dx}{\sin^2 x}; \quad \int \frac{dx}{\sin^2 x \sqrt{1-\operatorname{ctg}^2 x}}; \quad \int x e^{-2x} dx;$$

$$\int e^{2x} \cos x dx; \quad \int \frac{\sin^2 x}{\cos^5 x} dx; \quad \int \frac{(5x+4) dx}{x^2+4x+13}; \quad \int \frac{(x^2+2) dx}{x(x+3)(x-1)}; \quad \int \frac{x^2 dx}{\sqrt{100+x^2}};$$

$$\int \frac{dx}{3-7\sin x}.$$

$$2. \text{ а) } \int_{\frac{\pi}{6}}^{\frac{\pi}{4}} (\operatorname{tg} x + \operatorname{ctg} x)^{-1} dx; \quad \text{ б) } \int_1^2 \frac{\sqrt{x^2-1}}{x} dx; \quad \text{ в) } \int_0^{\frac{\pi}{2}} x \sin x dx.$$

$$3. y = x^2 - x, \quad y = 3x.$$

$$4. y = 0, \quad y = 2x^2 + 1, \quad x = -1, \quad x = 1.$$

$$5. \int_{-\infty}^{\infty} x e^x dx.$$

### Варіант 7

$$1. \int (2x-1)^5 dx; \quad \int \frac{dx}{3x+4}; \quad \int \frac{dx}{9x^2+1}; \quad \int \frac{dx}{\sqrt{9x^2-1}}; \quad \int \frac{x^5 dx}{4+5x^6};$$

$$\int \frac{(6x^2+8) dx}{x^3+4x-2}; \quad \int \frac{dx}{x \ln^4 x}; \quad \int \frac{\sqrt{2+3\operatorname{tg} x} dx}{\cos^2 x}; \quad \int \frac{x^4 dx}{\sqrt{(2+x^5)^3}}; \quad \int \frac{e^{2x} dx}{e^{2x}-4};$$

$$\int \ln(x^2+3) dx; \quad \int \frac{(2x+3) dx}{x^2+8x+17}; \quad \int \frac{(4x-3) dx}{\sqrt{x^2+8x+17}}; \quad \int \frac{(3x^2+x+2) dx}{x(x+1)(x-1)};$$

$$\int \frac{3x dx}{(x+1)^2(x+2)}; \quad \int \frac{(5x-6) dx}{(x^2+6x+18)(x-1)}; \quad \int \frac{x^2 dx}{x^4-16}; \quad \int \frac{x^2 dx}{\sqrt{4-x^2}};$$

$$\int \sqrt{16+x^2} dx; \quad \int \frac{x^2 dx}{\sqrt{16+x^2}}; \quad \int \frac{\sqrt{x} dx}{5-7\sqrt{x}}; \quad \int \operatorname{tg}^4 x dx; \quad \int \sin^4 x \cos^2 x dx; \quad \int \cos^7 x dx;$$

$$\int \frac{dx}{5+3\cos x}.$$

2. а)  $\int_{-1}^0 \frac{\operatorname{tg}(x+1)}{\cos^2(x+1)} dx$ ;      б)  $\int_2^9 \sqrt[3]{x-1} dx$ ;      в)  $\int_0^{\frac{\pi}{2}} \frac{dx}{1+2\sin x}$ .

3.  $y = \ln x$ ,  $y = 0$ ,  $x = 2$ .

4.  $y = x^3$ ,  $y = \sqrt{x}$ .

5.  $\int_0^{\infty} \frac{dx}{\sqrt{2} x \sqrt{x^2 - 1}}$ .

### Варіант 8

1.  $\int (6-7x)^7 dx$ ;     $\int \frac{dx}{4x^2+49}$ ;     $\int \frac{dx}{\sqrt{4x^2-49}}$ ;     $\int \frac{dx}{x(5+6\ln x)^2}$ ;

$\int \frac{\arcsin^5 x dx}{\sqrt{1-x^2}}$ ;     $\int e^{\sin 2x} \cos 2x dx$ ;     $\int \frac{e^{5x} dx}{\sqrt{1+e^{5x}}}$ ;     $\int \frac{x^2 dx}{\sqrt{1+5x^3}}$ ;     $\int \frac{(2+5\operatorname{tg} x)^4 dx}{\cos^2 x}$ ;

$\int x^3 e^{-x^4} dx$ ;     $\int \frac{dx}{\cos^2 x \sqrt{9-\operatorname{tg}^2 x}}$ ;     $\int x^5 \sqrt{8-4x^6} dx$ ;     $\int \frac{e^x dx}{\sqrt{e^{2x}-4}}$ ;     $\int e^{3x} \sin x dx$ ;

$\int \frac{(2x+3) dx}{x^2-2x+8}$ ;     $\int \frac{(2x-3) dx}{\sqrt{x^2+6x+13}}$ ;     $\int \frac{(x^3+x-1) dx}{(x+1)(x+2)}$ ;     $\int \frac{(2x-3) dx}{x^2(x+1)}$ ;     $\int \frac{x^2 dx}{\sqrt{81-x^2}}$ ;

$\int \frac{x^2 dx}{\sqrt{81+x^2}}$ ;     $\int \frac{(1+\sqrt{x}) dx}{4+\sqrt{x}}$ ;     $\int \sin^5 x dx$ ;     $\int \frac{\sin^4 x}{\cos^2 x} dx$ ;     $\int \frac{\sin x}{\cos^2 x} dx$ ;     $\int \frac{dx}{3+5\cos x}$ .

2. а)  $\int_1^3 \frac{1-\sqrt{x}}{\sqrt{x}(x+1)} dx$ ;    б)  $\int_0^1 \frac{dx}{e^x+e^{-x}}$ ;    в)  $\int_1^2 \ln(x+2) dx$ .

3.  $y = (x-4)^2$ ,  $y = 16-x^2$ ,  $y = 0$ .

4.  $y = x^3$ ,  $y = x$ .

5.  $\int_2^{\infty} \frac{\ln x}{x} dx$ .

### Варіант 9

1.  $\int \sqrt{4x+1} dx$ ;     $\int \frac{dx}{\cos^2 2x}$ ;     $\int \frac{dx}{(3x-7)^2}$ ;     $\int \frac{dx}{(1+x^2) \operatorname{arcctg}^2 x}$ ;

$$\int \frac{dx}{\cos^2 x(3+5tg x)}; \int \frac{(12x-16)dx}{3x^2-8x+1}; \int \frac{\ln^4 x dx}{x}; \int \frac{x^3 dx}{x^8+4}; \int \frac{xdx}{\sqrt{16+25x^2}};$$

$$\int \frac{e^{-2x} dx}{1-e^{-4x}}; \int x^2 \sqrt{3+x^3} dx; \int x^2 e^{-4x^3} dx; \int \frac{dx}{\cos^2 x \sqrt{1-tg^2 x}}; \int \frac{x^3 dx}{2-9x^4};$$

$$\int \frac{xdx}{4-x^4}; \int \frac{\sqrt{5-ctg x} dx}{\sin^2 x}; \int \frac{\arcsin^3 x dx}{\sqrt{1-x^2}}; \int \frac{dx}{x(25+\ln^2 x)}; \int \frac{dx}{x\sqrt{4-\ln^2 x}};$$

$$\int \frac{\arcsin x}{\sqrt{x+1}} dx; \int \frac{(4x+3)dx}{x^2-6x+10}; \int \frac{(2x-1)dx}{\sqrt{-x^2+2x+4}}; \int \frac{(4x^2+5)dx}{x^2(x-2)};$$

$$\int \frac{(7x+2)dx}{x(x^2+6x+18)}; \int \frac{(\sqrt{x}-1)dx}{2x+\sqrt{x}}.$$

$$2. \text{ a) } \int_1^e \frac{\sqrt{1+\ln x}}{x} dx; \quad \text{б) } \int_0^4 \frac{dx}{1+\sqrt{2x+1}}; \quad \text{в) } \int_0^1 \arctg x dx.$$

$$3. y = 2x - x^2, \quad y + x = 0.$$

$$4. y = x^3, \quad y = x^2.$$

$$5. \int_1^{\infty} \frac{dx}{x^2+6x+10}.$$

### Варіант 10

$$1. \int \frac{dx}{6x^2+9}; \int \frac{dx}{25x^2-4}; \int \frac{dx}{\sqrt{49x^2-4}}; \int \frac{dx}{\cos^2 x(4-3tg x)}; \int \frac{dx}{x \ln^5 x};$$

$$\int \frac{e^x dx}{\sqrt{e^x+3}}; \int \frac{e^{tg x} dx}{\cos^2 x}; \int \frac{x^3 dx}{\sqrt{2+x^4}}; \int \frac{dx}{\sin^2 x \sqrt{1-ctg x}}; \int x \arctg x dx;$$

$$\int \ln(3x+1) dx; \int \frac{(2x-1)dx}{x^2-3x+2}; \int \frac{(5x-1)}{\sqrt{x^2-2x+17}} dx; \int \frac{(x^2+x-1)dx}{(x-1)(x+1)(x-2)};$$

$$\int \frac{x^2 dx}{(x-1)^2(x+2)}; \int \frac{(x^3+1)dx}{x(x^2+4x+20)}; \int \frac{x^3 dx}{x^3+8}; \int \sqrt{64-x^2} dx; \int \frac{x^2 dx}{\sqrt{64-x^2}};$$

$$\int \frac{x^2 dx}{\sqrt{100+x^2}}; \int \frac{(\sqrt{x}+1)dx}{7+2\sqrt{x}}; \int \operatorname{tg}^5 x dx; \int \frac{\sin^2 x}{\cos^3 x} dx; \int \cos^4 x dx; \int \frac{dx}{7+9\cos x}.$$

$$2. \text{ a) } \int_4^9 \frac{\sqrt{x}}{\sqrt{x}-1} dx; \quad \text{б) } \int_0^1 \frac{dx}{x^2+4x+5}; \quad \text{в) } \int_0^1 x \ln(x+1) dx.$$

$$3. y+x^2=0, \quad x+y+2=0.$$

$$4. y=e^{1-x}, \quad y=0, \quad x=0, \quad x=1.$$

$$5. \int_1^{\infty} \frac{dx}{(1+x)\sqrt{x}}.$$

### Варіант 11

$$1. \int \frac{dx}{2x^2-6}; \quad \int \frac{dx}{\sqrt{4x^2-1}}; \quad \int \frac{\arcsin^7 x dx}{\sqrt{1-x^2}}; \quad \int \frac{dx}{(1+x^2)\operatorname{arcctg}^2 x};$$

$$\int \frac{\cos 2x dx}{1-\sin 2x}; \quad \int \frac{(5+3\operatorname{tg} x)^{10} dx}{\cos^2 x}; \quad \int e^{-2x} \sqrt{2+e^{-2x}} dx; \quad \int \frac{\sqrt{\ln x+2} dx}{x};$$

$$\int e^{\sin 3x} \cos 3x dx; \quad \int \frac{dx}{\sin^2 x \sqrt{1-\operatorname{ctg}^2 x}}; \quad \int \frac{e^x dx}{\sqrt{e^{2x}+4}}; \quad \int \frac{2^x dx}{2^{2x}-4}; \quad \int \frac{e^x dx}{e^{2x}+4};$$

$$\int e^{-x} \cos 2x dx; \quad \int \frac{(3x+4) dx}{x^2+5x-6}; \quad \int \frac{(5x-2) dx}{\sqrt{x^2+2x+17}}; \quad \int \frac{(x^2+4) dx}{x(x+2)(x-3)};$$

$$\int \frac{(3x^2+x-1) dx}{x^2(x+4)}; \quad \int \frac{x^2 dx}{\sqrt{1-x^2}}; \quad \int \frac{x^2 dx}{\sqrt{4+x^2}}; \quad \int \frac{dx}{\sqrt{x}(\sqrt{x}-4)}; \quad \int \operatorname{tg}^3 x dx;$$

$$\int \sin 3x \sin 2x dx; \quad \int \sin^2 3x dx; \quad \int \frac{dx}{1-\sin x}.$$

$$2. \text{ a) } \int_1^{e^2} \frac{dx}{x\sqrt{1+\ln x}}; \quad \text{б) } \int_3^8 \frac{x dx}{\sqrt{x+1}}; \quad \text{в) } \int_0^1 x e^{2x} dx.$$

$$3. y=2x-x^2+3, \quad y=x^2-4x+3.$$

$$4. y=2x-x^2, \quad y=x.$$

$$5. \int_1^{\infty} x e^{-x^2} dx.$$

**Варіант 12**

$$\begin{aligned}
& 1. \int \frac{dx}{\sqrt{16x^2 - 9}}; \quad \int \frac{dx}{(7 + \ln x)x}; \quad \int \frac{\sin x dx}{15 + 7 \cos x}; \quad \int \frac{(4 + \operatorname{ctg} x) dx}{\sin^2 x}; \\
& \int \frac{xdx}{\sqrt{8x^2 + 5}}; \quad \int \frac{e^x dx}{e^{2x} + 4}; \quad \int \frac{\sqrt{3 + \operatorname{tg} x} dx}{\cos^2 x}; \quad \int \frac{dx}{\sin^2 x(4 + \operatorname{ctg}^2 x)}; \quad \int \frac{dx}{x(2 - \ln^2 x)}; \\
& \int \frac{dx}{\cos^2 x \sqrt{1 - \operatorname{tg}^2 x}}; \quad \int \frac{(5x + 1) dx}{x^2 - 2x + 10}; \quad \int \frac{(6x - 5) dx}{x^2 + 2x - 15}; \quad \int \frac{3x + 2}{\sqrt{x^2 - 2x + 10}} dx; \\
& \int \frac{4x - 1}{\sqrt{9 - 2x - x^2}} dx; \quad \int \frac{(2x^2 + x - 1) dx}{x(x + 1)(x - 3)}; \quad \int \frac{x^2 dx}{(x + 2)(x + 1)^2}; \quad \int \frac{x^3 dx}{(x - 1)(x + 1)}; \\
& \int \frac{x^2 dx}{\sqrt{49 - x^2}}; \quad \int \sqrt{16 + x^2} dx; \quad \int \frac{x^2 dx}{\sqrt{16 + x^2}}; \quad \int \frac{(\sqrt{x} - 1) dx}{2\sqrt{x} + x}; \quad \int \sin^4 x dx; \\
& \int \cos^2 x \sin^3 x dx; \quad \int \frac{\cos^4 x}{\sin^2 x} dx; \quad \int \frac{dx}{3 - 2 \sin x}.
\end{aligned}$$

$$2. \text{ а) } \int_1^e \frac{dx}{x(1 - \ln^2 x)}; \quad \text{ б) } \int_0^1 \frac{\sqrt{x}}{1 + x} dx; \quad \text{ в) } \int_0^{\frac{\pi}{2}} x \cos x dx.$$

$$3. y = (x + 1)^2, \quad y^2 = x + 1.$$

$$4. y = 2x - x^2, \quad y = 2x, \quad y = 1.$$

$$5. \int_{\sqrt{3}}^{\infty} \frac{xdx}{x^4 + 9}.$$

**Варіант 13**

$$\begin{aligned}
& 1. \int \sqrt[5]{(2x - 1)^2} dx; \quad \int \frac{dx}{6x^2 + 9}; \quad \int \frac{dx}{\sqrt{9x^2 - 4}}; \quad \int \frac{dx}{\sin^2 x(4 - 3 \operatorname{ctg} x)}; \\
& \int \frac{(2x - 3) dx}{x^2 - 3x + 5}; \quad \int \frac{dx}{x \ln^9 x}; \quad \int \frac{6 \sin x dx}{15 - \cos x}; \quad \int \frac{e^{\operatorname{ctg} x}}{\sin^2 x} dx; \quad \int \frac{x^3 dx}{\sqrt[3]{x^4 + 2}}; \quad \int \frac{\sqrt{1 + 3 \operatorname{ctg} x}}{\sin^2 x} dx;
\end{aligned}$$

$$\int \frac{e^{2x} dx}{e^{4x} + 4}; \quad \int \frac{e^{2x} dx}{\sqrt{e^{4x} + 9}}; \quad \int (3x-2) \sin 3x dx; \quad \int x \operatorname{arctg} x dx; \quad \int \frac{(5x-4) dx}{x^2 - 6x + 10};$$

$$\int \frac{(x+5) dx}{\sqrt{2-3x-x^2}}; \quad \int \frac{(x^2+3) dx}{(x+2)^2 (x+1)}; \quad \int \frac{(6x-7) dx}{x(x^2+4x+20)}; \quad \int \sqrt{81-x^2} dx;$$

$$\int \frac{x^2 dx}{\sqrt{1-x^2}}; \quad \int \frac{x^2 dx}{\sqrt{1+x^2}}; \quad \int \frac{\sqrt{x} dx}{2\sqrt{x+3}}; \quad \int \operatorname{ctg}^5 x dx; \quad \int \sin^4 x dx; \quad \int \frac{dx}{7+9\cos x}.$$

2. а)  $\int_{e+1}^{e^2+1} \frac{1+\ln(x-1)}{x-1} dx$ ; б)  $\int_0^8 (\sqrt{2x} + \sqrt[3]{x}) dx$ ; в)  $\int_1^3 (x+1)e^x dx$ .

3.  $y = 4 - x^2$ ,  $y = x^2 - 2x$ .

4.  $y = 3\sin x$ ,  $y = \sin x$ ,  $0 \leq x \leq \pi$ .

5.  $\int_0^3 \frac{dx}{\sqrt{3+2x-x^2}}$ .

#### Варіант 14

1.  $\int \frac{dx}{2x^2-18}$ ;  $\int \frac{dx}{\sqrt{9x^2-49}}$ ;  $\int \frac{dx}{x(4-\ln x)}$ ;  $\int \frac{\cos 2x dx}{5+3\sin 2x}$ ;

$\int \frac{(2+5\operatorname{ctg} x) dx}{\sin^2 x}$ ;  $\int \frac{x dx}{\sqrt{16x^2+1}}$ ;  $\int \frac{e^x dx}{\sqrt{e^x-3}}$ ;  $\int \frac{6\sin 2x dx}{(8-5\cos 2x)^2}$ ;

$\int \frac{dx}{\cos^2 x(9+\operatorname{tg}^2 x)}$ ;  $\int \frac{\sqrt{4-\operatorname{tg} x} dx}{\cos^2 x}$ ;  $\int \frac{dx}{x(1-\ln x)^3}$ ;  $\int \operatorname{arcsin} x dx$ ;

$\int \frac{3x-7}{\sqrt{x^2-2x-8}} dx$ ;  $\int \frac{(2x+5) dx}{x(x-2)(x+4)}$ ;  $\int \frac{(3x-2) dx}{x^2(x-1)}$ ;  $\int \frac{x dx}{x^3+8}$ ;  $\int \sqrt{4-x^2} dx$ ;

$\int \frac{x^2 dx}{\sqrt{1-x^2}}$ ;  $\int \sqrt{4+x^2} dx$ ;  $\int \frac{x^2 dx}{\sqrt{1+x^2}}$ ;  $\int \frac{(\sqrt{x+1}) dx}{5-6\sqrt{x}}$ ;  $\int \operatorname{tg}^6 x dx$ ;  $\int \cos^2 x \sin^3 x dx$ ;

$\int \frac{\cos^4 x}{\sin^2 x} dx$ ;  $\int \frac{dx}{3+\sin x}$ .

$$2. \text{ a) } \int_{\pi}^{2\pi} \frac{1 - \cos x}{(x - \sin x)^2} dx; \quad \text{б) } \int_{\ln 3}^{\ln 8} \frac{dx}{\sqrt{e^x + 1}}; \quad \text{в) } \int_1^e (x+1) \ln x dx.$$

$$3. y = \frac{5}{x}, \quad y + x = 6.$$

$$4. y = \cos x, \quad y = 2 \cos x, \quad y = 0, \quad 0 \leq x \leq \frac{\pi}{2}.$$

$$5. \int_{-\infty}^{-3} \frac{xdx}{(x^2 + 1)^2}.$$

### Варіант 15

$$1. \int \frac{dx}{25x^2 - 4}; \quad \int \frac{dx}{\sqrt{25x^2 + 4}}; \quad \int \frac{dx}{\sqrt{1-x^2} \arcsin^3 x}; \quad \int \frac{(3+4\operatorname{ctg} x)^2 dx}{\sin^2 x};$$

$$\int \frac{dx}{(x+1)\ln(x+1)}; \quad \int \frac{xdx}{\sqrt{9x^2 + 4}}; \quad \int e^{4x} (7 + e^{4x})^3 dx; \quad \int x^2 \sqrt{8-5x^3} dx;$$

$$\int \frac{\sin x}{\sqrt{9-4\cos^2 x}} dx; \quad \int \cos 2x \sqrt{(5-\sin 2x)^5} dx; \quad \int \frac{\operatorname{arctg}^3 x dx}{1+x^2}; \quad \int \frac{dx}{x\sqrt{49+\ln^2 x}};$$

$$\int \frac{\arcsin x dx}{\sqrt{x+1}}; \quad \int \frac{(3x-2) dx}{x^2+5x+4}; \quad \int \frac{\sin x dx}{\sqrt{7+2\cos x}}; \quad \int \frac{6x-7}{\sqrt{x^2+4x+5}} dx;$$

$$\int \frac{(x^2-3x+1) dx}{x(x+1)(x-3)}; \quad \int \frac{x^2 dx}{\sqrt{121-x^2}}; \quad \int \frac{dx}{(\sqrt{x}-9)\sqrt{x}}; \quad \int \frac{(x^2+5x-1) dx}{x(x^2+2x+17)};$$

$$\int \frac{(2-x^2) dx}{x^3+64}; \quad \int \operatorname{tg}^5 x dx; \quad \int \cos x \sin^7 x dx; \quad \int \sin 2x \cos 5x dx; \quad \int \frac{dx}{3-5\cos x}.$$

$$2. \text{ a) } \int_0^{\sqrt{3}} \frac{\operatorname{arctg} x + x}{1+x^2} dx; \quad \text{б) } \int_0^1 \frac{xdx}{\sqrt{x+1}}; \quad \text{в) } \int_0^{\frac{\pi}{2}} (x+1) \cos x dx.$$

$$3. y = \frac{x^2}{2} - x + 2, \quad y = x, \quad x = 0.$$

$$4. x^2 = 8y, \quad 2y - 3x + 8 = 0.$$

$$5. \int_1^2 \frac{xdx}{\sqrt{x-1}}.$$

**Варіант 16**

$$\begin{aligned}
& 1. \int \frac{dx}{1+25x^2}; \quad \int \frac{dx}{\sqrt{25x^2+1}}; \quad \int \frac{dx}{\cos^2 x(1+\operatorname{tg} x)^2}; \quad \int \frac{\arcsin^3 x dx}{\sqrt{1-x^2}}; \\
& \int \frac{\sin 2x dx}{\cos 2x}; \quad \int \frac{\ln^7 x dx}{x}; \quad \int \frac{e^x dx}{e^{2x}+81}; \quad \int \frac{\operatorname{arctg}^7 x dx}{(1+x^2)}; \quad \int 5^{\sin x} \cos x dx; \quad \int \frac{dx}{(4-\ln^2 x)x}; \\
& \int \frac{3x-4}{x^2-2x+5} dx; \quad \int \frac{3x+4}{\sqrt{x^2-2x+5}} dx; \quad \int \frac{(2x-5) dx}{(x-2)(x+1)(x+3)}; \quad \int \frac{(x^2+5) dx}{x^2(x-1)}; \\
& \int \sqrt{100-x^2} dx; \quad \int \frac{x^2 dx}{\sqrt{1-x^2}}; \quad \int \sqrt{100+x^2} dx; \quad \int \frac{x^2 dx}{\sqrt{1+x^2}}; \quad \int \frac{(2-\sqrt{x}) dx}{2\sqrt{x-x}}; \\
& \int \frac{(2x+8) dx}{x^2+8x-1}; \quad \int \frac{\cos x dx}{6-5\sin x}; \quad \int \cos^7 x dx; \quad \int \frac{\sin^3 x}{\cos^4 x} dx; \quad \int \sin^4 x \cos^2 x dx; \\
& \int \frac{dx}{4+5\cos x}.
\end{aligned}$$

$$2. \text{ а) } \int_2^9 \frac{x dx}{\sqrt[3]{x-1}}; \quad \text{ б) } \int_0^{\frac{\pi}{2}} \frac{dx}{3+2\cos x}; \quad \text{ в) } \int_0^1 x \ln(x+1) dx.$$

$$3. y = x^2, \quad y = 2x - x^2.$$

$$4. y = \sin 2x, \quad y = 0, \quad 0 \leq x \leq \frac{\pi}{2}.$$

$$5. \int_{-1}^{\infty} \frac{dx}{x^2+x+1}.$$

**Варіант 17**

$$\begin{aligned}
& 1. \int 2^{-2x} dx; \quad \int \sqrt[3]{(2-3x)^5} dx; \quad \int \frac{dx}{6x^2-12}; \quad \int \frac{dx}{\sqrt{9-25x^2}}; \quad \int \frac{dx}{x(7-2\ln x)}; \\
& \int \frac{dx}{(1+x^2)\operatorname{arctg}^3 x}; \quad \int e^{4x} \sqrt{7-e^{4x}} dx; \quad \int x^2 \sqrt{7+3x^3} dx; \quad \int \frac{dx}{\sin^2 x \sqrt{1-\operatorname{ctg}^2 x}};
\end{aligned}$$

$$\int \frac{(1+5tg x)^6 dx}{\cos^2 x}; \quad \int \frac{dx}{3+7\cos x}; \quad \int \frac{e^{2x} dx}{\sqrt{e^{4x}-25}}; \quad \int \frac{7x-2}{x^2+4x+29} dx;$$

$$\int \frac{(3x-2)dx}{\sqrt{x^2-8x+15}}; \quad \int \frac{(5x-3)dx}{x(x-1)(x-2)}; \quad \int \frac{x^5 dx}{(x-3)(x-1)}; \quad \int \frac{(x+3)dx}{x^2(x^2-4x-5)};$$

$$\int \frac{dx}{x^3-8}; \quad \int \frac{2x^2 dx}{x^4-81}; \quad \int \sqrt{4-x^2} dx; \quad \int \frac{x^2 dx}{\sqrt{9+x^2}}; \quad \int \sqrt{4+x^2} dx; \quad \int \frac{x^2 dx}{\sqrt{9-x^2}};$$

$$\int \frac{3\sqrt{x} dx}{7-\sqrt{x}}; \quad \int \sin^3 x \cos^4 x dx.$$

$$2. \text{ a) } \int_{-\frac{\pi}{2}}^{\frac{\pi}{4}} \sin^2 4x dx; \quad \text{ б) } \int_0^1 \frac{xdx}{\sqrt{9+16x}}; \quad \text{ в) } \int_0^1 xe^{2x} dx.$$

$$3. y = x^2 - x, y = 3x.$$

$$4. x^2 = 4y, x + y = 3, x = 0.$$

$$5. \int_0^1 x \ln x dx.$$

### Варіант 18

$$1. \int \frac{dx}{4x^2+1}; \quad \int \frac{dx}{\sqrt{4x^2-1}}; \quad \int \frac{x^6 dx}{4+7x^7}; \quad \int \frac{dx}{\sin^2 x(6+3ctg x)}; \quad \int \frac{\cos 2x dx}{3+5\sin 2x};$$

$$\int \frac{(2x+7)dx}{x^2+7x-8}; \quad \int e^x \sqrt{8+5e^x} dx; \quad \int \frac{dx}{1+\sin x}; \quad \int \frac{xdx}{x^4+1}; \quad \int \frac{e^{tg x} dx}{\cos^2 x}; \quad \int \frac{x^3 dx}{\sqrt{9+x^4}};$$

$$\int \frac{dx}{\sin^2 x \sqrt{1+ctg x}}; \quad \int \frac{dx}{\cos^2 x \sqrt{1-tg^2 x}}; \quad \int (2x-1)\sin 4x dx; \quad \int x^2 \ln x dx;$$

$$\int \ln^2 x dx; \quad \int \frac{\sin^2 x}{\cos^3 x} dx; \quad \int \frac{(2x+9)dx}{\sqrt{x^2-6x+10}}; \quad \int \frac{(4x+5)dx}{x^2+8x+17}; \quad \int \frac{(x^2+5)dx}{x(x+1)(x+3)};$$

$$\int \frac{x^2 dx}{(x-2)^2(x-1)}; \quad \int \frac{x^2 dx}{\sqrt{1+x^2}}; \quad \int \sqrt{9+x^2} dx; \quad \int \frac{dx}{\sqrt{x}(\sqrt{x}-2)}; \quad \int \frac{dx}{\sin^4 x \cos^4 x}.$$

2. а)  $\int_0^{\sqrt{3}} \frac{x + \operatorname{arctg}^2 x}{1+x^2} dx$ ; б)  $\int_0^5 \frac{dx}{2x + \sqrt{3x+1}}$ ; в)  $\int_0^{\frac{\pi}{2}} x \sin 2x dx$ .

3.  $y = x^2$ ,  $y = \frac{x^2}{2}$ ,  $y = 2x$ .

4.  $y = x^2$ ,  $y = 1$ ,  $x = 2$ .

5.  $\int_2^{\infty} \frac{dx}{x\sqrt{x-1}}$ .

### Варіант 19

1.  $\int \frac{dx}{6x^2 + 5}$ ;  $\int \frac{dx}{\sqrt{4x^2 - 81}}$ ;  $\int \frac{dx}{\sqrt{1-x^2} \arcsin x}$ ;  $\int \frac{e^x dx}{(e^x + 3)^2}$ ;  $\int \frac{dx}{x \ln^2 x}$ ;

$\int \frac{7x-2}{7x^2-4x+1} dx$ ;  $\int \frac{(1+2\operatorname{tg} x)^4 dx}{\cos^2 x}$ ;  $\int \frac{dx}{x(2+5\ln x)^3}$ ;  $\int \frac{2^x dx}{\sqrt{1+2^{2x}}}$ ;

$\int \frac{(5x-1)dx}{x^2+4x+29}$ ;  $\int \frac{2x+5}{\sqrt{x^2-8x+15}} dx$ ;  $\int \frac{3x-1}{\sqrt{15+8x-x^2}} dx$ ;  $\int \frac{(4x-7)dx}{x^2+8x+15}$ ;

$\int \frac{(x^2+2)dx}{x(x-1)(x-4)}$ ;  $\int \frac{(x^4+2)dx}{(x+3)(x+1)}$ ;  $\int \frac{(2x+1)dx}{x^2(x^2-4x+5)}$ ;  $\int \frac{x^3 dx}{x^3-1}$ ;  $\int \frac{dx}{x^4-16}$ ;

$\int \sqrt{16-x^2} dx$ ;  $\int \frac{x^2 dx}{\sqrt{16+x^2}}$ ;  $\int \sqrt{16+x^2} dx$ ;  $\int \frac{x^2 dx}{\sqrt{16-x^2}}$ ;  $\int \frac{(2\sqrt{x}-1)dx}{\sqrt{x-x}}$ ;

$\int \frac{\cos^2 x}{\sin^3 x} dx$ ;  $\int \frac{dx}{3-7\cos x}$ .

2. а)  $\int_0^1 x\sqrt{1+2x^2} dx$ ; б)  $\int_0^{\frac{\pi}{2}} \cos^3 x \sin 2x dx$ ; в)  $\int_0^{\pi} x^2 \sin x dx$ .

3.  $y^2 = 2x+1$ ,  $x-y-1=0$ .

4.  $y = 2\sqrt{x-1}$ ,  $y = 4\sqrt{x-1}$ ,  $x = 2$ .

5.  $\int_0^3 \frac{dx}{(x-1)^2}$ .

**Варіант 20**

$$\begin{aligned}
& 1. \int \frac{dx}{\sqrt{1-49x^2}}; \quad \int \frac{dx}{1+3x^2}; \quad \int \frac{(1+\operatorname{tg} x)^3 dx}{\cos^2 x}; \quad \int \frac{dx}{\sqrt{1-x^2} \arcsin^4 x}; \\
& \int \frac{dx}{(x+3)\ln(x+3)}; \quad \int \frac{e^{3x} dx}{e^{3x}+1}; \quad \int \frac{x^2 dx}{\sqrt{3-5x^3}}; \quad \int e^{2x} \sin(e^{2x}) dx; \quad \int \frac{\sin 2x dx}{\sqrt{2-5\cos 2x}}; \\
& \int \frac{\operatorname{arctg}^6 x dx}{1+x^2}; \quad \int \frac{dx}{x(81-\ln^2 x)}; \quad \int e^{6x} \sin 3x dx; \quad \int \frac{2x-5}{x^2-2x+26} dx; \\
& \int \frac{(4x+3) dx}{\sqrt{x^2-2x+26}}; \quad \int \frac{(x^2+x-1) dx}{x(x-1)(x+2)}; \quad \int \frac{(x^3+x-12) dx}{x(x+2)}; \quad \int \frac{x dx}{(x+1)^2(x^2+1)}; \\
& \int \frac{x dx}{x^3+64}; \quad \int \sqrt{144-x^2} dx; \quad \int \frac{x^2 dx}{\sqrt{1-x^2}}; \quad \int \frac{x^2 dx}{\sqrt{1+x^2}}; \quad \int \frac{\sqrt{x} dx}{2\sqrt{x}-3}; \quad \int \sin^4 x dx; \\
& \int \frac{\sin^3 x}{\cos^4 x} dx; \quad \int \frac{dx}{4-5\cos x}.
\end{aligned}$$

$$2. \text{ а) } \int_{-2}^{-1} \frac{dx}{(11+5x)^3}; \quad \text{ б) } \int_3^8 \frac{x dx}{\sqrt{1+x}}; \quad \text{ в) } \int_0^1 x e^{-2x} dx.$$

$$3. y = e^{2x}, \quad y = e^{-2x}, \quad x = 1.$$

$$4. y + x^2 = 1, \quad y - x - 1 = 0.$$

$$5. \int_1^{\infty} \frac{dx}{x^2(1+x)}.$$

**Варіант 21**

$$\begin{aligned}
& 1. \int \sqrt[3]{(4x-5)^2} dx; \quad \int \frac{dx}{4x^2+1}; \quad \int \frac{dx}{9x^2-4}; \quad \int \frac{dx}{\sqrt{9x^2-4}}; \\
& \int \frac{dx}{\sin^2 x(2-5\operatorname{ctg} x)}; \quad \int \frac{\cos x dx}{4\sin x+7}; \quad \int \frac{(2x+6) dx}{x^2+6x-7}; \quad \int \frac{e^{\operatorname{ctg} x} dx}{\sin^2 x}; \quad \int \frac{dx}{x^5 \sqrt{\ln x}}; \\
& \int \frac{x^3 dx}{\sqrt[3]{x^4+4}}; \quad \int \frac{\sqrt{1+3\operatorname{ctg} x} dx}{\sin^2 x}; \quad \int \frac{e^x dx}{\sqrt{e^{2x}+4}}; \quad \int x^6 \ln x dx; \quad \int e^x \cos 3x dx;
\end{aligned}$$

$$\int \frac{(2x-5)dx}{x^2-3x-7}; \quad \int \frac{2x+3}{\sqrt{x^2-3x-7}}dx; \quad \int \frac{(x^2+5)dx}{x(x+1)(x-2)}; \quad \int \frac{x^2 dx}{(x-1)^2(x+2)};$$

$$\int \frac{(5x+7)dx}{x(x^2+4x+20)}; \quad \int \frac{x^2 dx}{\sqrt{9-x^2}}; \quad \int \frac{x^2 dx}{\sqrt{9+x^2}}; \quad \int \frac{\sqrt{x} dx}{3+4\sqrt{x}}; \quad \int \frac{dx}{\sin^4 x \cos^4 x};$$

$$\int \frac{\cos^3 x}{\sin^2 x} dx; \quad \int \frac{dx}{8+7\cos x}.$$

$$2. \text{ a) } \int_1^e \frac{dx}{x\sqrt{\ln^2 x - 1}}; \quad \text{б) } \int_4^9 \frac{\sqrt{x} dx}{\sqrt{x} - 1}; \quad \text{в) } \int_0^{\pi} x \sin \frac{x}{2} dx.$$

$$3. y = e^x, y = e^{-x}, x = 1.$$

$$4. y = x^3, y = 4x.$$

$$5. \int_{-\infty}^{\infty} \frac{dx}{x^2 + 2x + 2}.$$

### Варіант 22

$$1. \int \frac{dx}{4x^2 + 121}; \quad \int \frac{dx}{\sqrt{121 - 4x^2}}; \quad \int \frac{dx}{x(10 + \ln x)}; \quad \int \frac{\cos 7x dx}{3 + 5 \sin 7x};$$

$$\int \frac{2x+1}{1-x-x^2} dx; \quad \int \frac{\sqrt{2 - \operatorname{tg} x} dx}{\cos^2 x}; \quad \int e^{\sin 3x} \cos 3x dx; \quad \int \frac{dx}{x(10 + \ln x)^2}; \quad \int \frac{e^{3x} dx}{100 + e^{6x}};$$

$$\int x e^{-3x^2} dx; \quad \int \frac{\sin x dx}{\cos^2 x + 16}; \quad \int \frac{\cos x dx}{16 - \sin^2 x}; \quad \int \frac{\cos x dx}{\sqrt{16 + \sin^2 x}}; \quad \int \operatorname{arctg} \frac{x}{2} dx;$$

$$\int x^5 \ln x dx; \quad \int \frac{(4x+5)dx}{x^2 - 2x - 8}; \quad \int \frac{4x-3}{\sqrt{x^2 - 2x - 8}} dx; \quad \int \frac{3x+5}{\sqrt{8+2x-x^2}} dx;$$

$$\int \frac{\sqrt{x+1} dx}{5+2\sqrt{x+1}}; \quad \int \frac{(x-7)dx}{x^2 - 2x + 17}; \quad \int \frac{(3x^2+5)dx}{x(x+4)(x-2)}; \quad \int \frac{(3x+2)dx}{(x-2)x^2}; \quad \int \frac{x^2 dx}{\sqrt{100-x^2}};$$

$$\int \sqrt{49+x^2} dx; \quad \int \frac{x^2 dx}{\sqrt{49+x^2}}.$$

$$2. \text{ a) } \int_0^{\frac{1}{2}} \frac{3-2x}{x^2-1} dx; \quad \text{б) } \int_1^9 x^3 \sqrt{1-x} dx; \quad \text{в) } \int_1^e x \ln x dx.$$

$$3. y^2 = 4x, \quad x^2 = \frac{1}{2}y, \quad x=0.$$

$$4. y = \frac{1}{2}x^2 - 2x, \quad y=0.$$

$$5. \int_2^6 \frac{dx}{\sqrt[3]{(5-x)^2}}.$$

### Варіант 23

$$1. \int \frac{dx}{16x^2-121}; \quad \int \frac{dx}{\sqrt{121-16x^2}}; \quad \int \frac{x^7 dx}{4+5x^8}; \quad \int \frac{dx}{\cos^2 x(4-7\operatorname{tg} x)};$$

$$\int \frac{e^{\operatorname{ctg} x} dx}{\sin^2 x}; \quad \int \frac{(x+2)dx}{x^2+4x-9}; \quad \int \sin x(8-3\cos x)^4 dx; \quad \int \frac{dx}{x \ln^7 x}; \quad \int e^x \sqrt{1-2e^x} dx;$$

$$\int \frac{e^x dx}{e^{2x}-1}; \quad \int \frac{2^x dx}{1+2^{2x}}; \quad \int \frac{dx}{\sin^2 x \sqrt{1+2\operatorname{ctg} x}}; \quad \int \frac{\cos 2x dx}{\sqrt{\sin^2 2x+4}}; \quad \int \frac{e^x \operatorname{arctg} e^x dx}{1+e^{2x}};$$

$$\int \frac{(7x-2)dx}{x^2-3x+2}; \quad \int \frac{(7x+1)dx}{\sqrt{x^2-3x+2}}; \quad \int \frac{(x^2+4)dx}{(x+2)^2(x+1)}; \quad \int \frac{(x^2+x-1)dx}{x(x-1)(x+3)};$$

$$\int \sqrt{81-x^2} dx; \quad \int \frac{x^2 dx}{\sqrt{81-x^2}}; \quad \int \frac{x^2 dx}{\sqrt{x^2+1}}; \quad \int \frac{\sqrt{x+1} dx}{5+2\sqrt{x+1}}; \quad \int \frac{dx}{\sin^4 x \cos^4 x};$$

$$\int \operatorname{ctg}^5 x dx; \quad \int \frac{dx}{7+9\cos x}.$$

$$2. \text{ a) } \int_0^{\ln 3} \frac{e^{3x} dx}{1+e^{3x}}; \quad \text{б) } \int_3^8 \frac{x dx}{\sqrt{1+x}}; \quad \text{в) } \int_0^{\ln 2} x e^x dx.$$

$$3. y = (x-1)^2, \quad y^2 = x-1.$$

$$4. y = x^3, \quad y = \sqrt{x}.$$

$$5. \int_0^{\frac{1}{2}} \frac{dx}{\sqrt{x^2+x}}.$$

**Варіант 24**

$$\begin{aligned}
& 1. \int \frac{dx}{9x^2 + 100}; \int \frac{dx}{\sqrt{9x^2 + 100}}; \int \frac{\arcsin^3 x dx}{\sqrt{1-x^2}}; \int \frac{dx}{\sin^2 x (7 - 8 \operatorname{ctg} x)}; \\
& \int \frac{\ln^5 dx}{x}; \int \frac{(5x+4) dx}{5x^2 + 8x - 1}; \int \frac{xdx}{x^4 + 100}; \int \frac{xdx}{\sqrt{x^4 + 100}}; \int e^{3x} (3 + 5e^{3x})^4 dx; \\
& \int \frac{e^{-x} dx}{e^{-2x} + 4}; \int x^2 \sqrt{6 - 7x^3} dx; \int \frac{\sin x dx}{\sqrt{100 - 9 \cos^2 x}}; \int \frac{dx}{x(4 - \ln^2 x)}; \int \frac{x^2 dx}{5 - 9x^3}; \\
& \int \frac{\cos 3x dx}{4 - 5 \sin 3x}; \int \frac{\sin 3x dx}{\sqrt{9 \cos^2 3x + 4}}; \int \frac{\ln x dx}{x^2}; \int \frac{\arcsin x dx}{\sqrt{1+x}}; \int e^{-5x} \cos 3x dx; \\
& \int \frac{(2x-3) dx}{x^2 + 5x + 4}; \int \frac{7x-1}{\sqrt{x^2 + 4x + 5}} dx; \int \frac{(2x^2 + 1) dx}{(x-1)(x^2 - 4x + 5)}; \int \frac{(x^2 - 3x + 1) dx}{x(x-2)(x+3)}; \\
& \int \frac{(1-x^2) dx}{x^3 + 8}; \int \frac{x^2 dx}{\sqrt{49 - x^2}}; \int \frac{\sqrt{x+1} dx}{9 + 5\sqrt{x+1}}; \int \operatorname{tg}^4 x dx; \int \sin^7 x \cos x dx; \\
& \int \frac{\sin^2 x dx}{\cos^4 x}; \int \frac{dx}{7 - 5 \cos x}.
\end{aligned}$$

$$2. \text{ а) } \int_4^5 x \sqrt{x^2 - 16} dx; \quad \text{ б) } \int_0^1 \frac{xdx}{1 + \sqrt{x}}; \quad \text{ в) } \int_0^{\frac{\pi}{2}} (x+3) \sin x dx.$$

$$3. y = 5 \cos x, \quad y = 2 \cos x, \quad 0 \leq x \leq \frac{\pi}{2}.$$

$$4. y = \sin 2x, \quad y = 0, \quad 0 \leq x \leq \frac{\pi}{2}.$$

$$5. \int_{-\infty}^{\infty} \frac{dx}{x^2 - 6x + 10}.$$

**Варіант 25**

$$1. \int \frac{dx}{49x^2 - 100}; \int \frac{dx}{\sqrt{49x^2 + 100}}; \int \frac{dx}{x^3 \sqrt{2 + \ln x}}; \int \frac{\sin x dx}{\cos x - 1}; \int \frac{x^2 dx}{4x^6 + 1};$$

$$\int \frac{\cos x dx}{\sqrt{3+5\sin x}}; \int e^{2x} \sqrt{3-7e^{2x}} dx; \int \frac{\ln^5(x+1) dx}{x+1}; \int x \cdot 5^{-x^2} dx; \int \frac{e^{tg 2x} dx}{\cos^2 2x};$$

$$\int \frac{e^{3\sqrt{x}} dx}{\sqrt{x}}; \int 5^{\cos 2x} \sin 2x dx; \int \frac{\arcsin^2 2x dx}{\sqrt{1-4x^2}}; \int \frac{\cos 2x}{\sqrt{(4-\sin^2 2x)}} dx;$$

$$\int \frac{dx}{(1+4x^2)(9+\arctg^2 2x)}; \int e^{-x} \cos 5x dx; \int \frac{(4x-7) dx}{x^2+4x-5}; \int \frac{(6x-1) dx}{x^2+4x+5};$$

$$\int \frac{3x-7}{\sqrt{x^2+4x-5}} dx; \int \frac{(3x^2-5) dx}{(x-1)(x+4)(x+5)}; \int \frac{x^3 dx}{x^3-27}; \int \frac{x^2 dx}{\sqrt{49-x^2}};$$

$$\int \frac{\sqrt{x+1} dx}{5-6\sqrt{x+1}}; \int \frac{\cos^6 x dx}{\sin^2 x}; \int \frac{dx}{3+8\cos x}.$$

$$2. \text{ a) } \int_{-2}^1 x^2 \sqrt{1-x^3} dx; \quad \text{б) } \int_0^{\frac{\pi}{4}} tg^3 x dx; \quad \text{в) } \int_{-\pi}^{2\pi} x \sin 2x dx.$$

$$3. y = (x-2)^2, \quad y = 4x-8.$$

$$4. xy = 4, \quad x = 1, \quad x = 4, \quad y = 0.$$

$$5. \int_8^{\infty} \frac{dx}{x \ln 2x}.$$

### Варіант 26

$$1. \int \frac{dx}{2x^2+16}; \int \frac{dx}{\sqrt{2x^2-16}}; \int \frac{11x^5 dx}{13+10x^6}; \int \frac{2\cos x dx}{3+4\sin^2 x}; \int \frac{dx}{x(11\ln^2 x-16)};$$

$$\int \frac{5dx}{(2+tg^2 x)\cos^2 x}; \int \frac{\sqrt{\arctg x} dx}{1+x^2}; \int \frac{(7-8x) dx}{-4x^2+7x-10}; \int \frac{e^x dx}{\sqrt{3+e^x}}; \int x^2 e^{x^3} dx;$$

$$\int 8^{x^4} x^3 dx; \int \frac{x^3 dx}{\sqrt[5]{x^4+1}}; \int \frac{e^{2x} dx}{\sqrt[3]{e^{2x}+5}}; \int (2x-3)\sin 3x dx; \int 2^x \sin x dx;$$

$$\int \frac{3-5x}{x^2-2x+8} dx; \int \frac{3x+1}{\sqrt{x^2-2x+8}} dx; \int \frac{(x^2+x-1) dx}{x(x+2)(x-3)}; \int \frac{(x^2+5x-1) dx}{x(x^2+2x+1)};$$

$$\int \frac{(1-x^2)dx}{1+x^3}; \int \sqrt{9-x^2} dx; \int \frac{x^2 dx}{\sqrt{x^2+1}}; \int \frac{2+\sqrt{x} dx}{3-2\sqrt{x}}; \int \frac{\cos^2 x dx}{\sin^3 x}; \int \frac{dx}{1+2\cos x};$$

$$2. \text{ a) } \int_e^{e^2+1} \frac{1+\ln(x-1)}{x-1} dx; \quad \text{б) } \int_{-1}^0 \frac{dx}{1+\sqrt[3]{x+1}}; \quad \text{в) } \int_0^{2\pi} (2x-5)\cos 2x dx.$$

$$3. y = -x^2 - 2x + 3, y = 0, x = 0, x = 2.$$

$$4. y = \frac{3}{x}, y = 5 - 3x.$$

$$5. \int_e^{\infty} \frac{dx}{x \ln^2 x}.$$

### Варіант 27

$$1. \int \frac{dx}{(4-7x)^5}; \int \frac{dx}{\sqrt{20-9x^2}}; \int \frac{dx}{9x^2+20}; \int \frac{\arccos^5 x dx}{\sqrt{1-x^2}}; \int \frac{2x-3}{x^2+3x-10} dx;$$

$$\int \frac{\sin 4x dx}{(\cos 4x - 5)^3}; \int \frac{x^2 dx}{\sqrt{9x^3+2}}; \int \frac{e^{2x} dx}{(e^{2x}+5)^4}; \int \frac{e^x dx}{\sqrt{e^{2x}+5}}; \int \frac{\sqrt[3]{(6+\ln x)} dx}{x};$$

$$\int \frac{\cos 5x dx}{\sqrt[3]{\sin 5x - 3}}; \int \frac{x^3 dx}{x^8 - 25}; \int \frac{x^3 dx}{\sqrt{25 - x^8}}; \int \frac{(2\operatorname{tg} x + 5)^2 dx}{\cos^2 x}; \int \frac{4^{\ln 2x}}{x} dx;$$

$$\int \frac{2\operatorname{ctg} x + 1}{\sin^2 x} dx; \int \frac{\sqrt[4]{\operatorname{arctg}^3 x}}{1+x^2} dx; \int \frac{7e^{\operatorname{tg} x}}{\cos^2 x} dx; \int x \cdot 8^{x^2} dx; \int x \sqrt{2-x^2} dx;$$

$$\int \frac{3x+1}{x(x-2)(x-1)} dx; \int \frac{xdx}{\sqrt{x^2+49}}; \int \frac{24}{\sqrt{x} + \sqrt[3]{x}} dx; \int \frac{\sin^2 3x}{\cos 3x} dx; \int \cos^4 2x dx.$$

$$2. \text{ a) } \int_{\pi}^{2\pi} \frac{x + \cos x}{(x^2 + 2\sin x)^3} dx; \quad \text{б) } \int_0^5 \frac{xdx}{\sqrt{1+3x}}; \quad \text{в) } \int_1^9 x \ln^2 x dx.$$

$$3. y = 3x - x^2, 5x - y - 8 = 0.$$

$$4. y = \sqrt{4-x^2}, y = 0, x = 0, x = 1.$$

$$5. \int_1^{\infty} \frac{dx}{x^2+x}.$$

### Варіант 28

$$\begin{aligned}
 & 1. \int \frac{dx}{\sqrt{18-9x^2}}; \int \frac{dx}{9x^2+18}; \int \frac{x^2 dx}{(9x^3+2)^4}; \int \frac{\sqrt{\arcsin x} dx}{\sqrt{1-x^2}}; \int \frac{(6x-4) dx}{3x^2-4x+1}; \\
 & \int \sin x \sqrt[4]{(1-3\cos x)} dx; \int x e^{-x^2} dx; \int \frac{(3\operatorname{tg} x - 8)^3 dx}{\cos^2 x}; \int \frac{e^x dx}{\sqrt{8-e^{2x}}}; \int \frac{x^2 dx}{8+x^6}; \\
 & \int \frac{dx}{x(5+6\ln x)^2}; \int \frac{\cos x dx}{\sqrt[3]{2\sin x+3}}; \int \frac{x^2 dx}{\sqrt[3]{7+5x^3}}; \int \sin 2x \cdot 12^{\cos 2x} dx; \int \frac{\operatorname{ctg}(\ln x)}{x} dx; \\
 & \int \frac{\sqrt{\operatorname{tg}^3 x}}{\cos^2 x} dx; \int \frac{e^x dx}{\sqrt{e^{2x}-16}}; \int x^2 \arccos x dx; \int \operatorname{arcctg}(1-2x) dx; \int \frac{x}{x^2+x-2} dx; \\
 & \int \frac{7+4x}{\sqrt{x^2+6x-8}} dx; \int \frac{(16x-27) dx}{(x-2)^2(x+3)}; \int \frac{\sqrt{x+2}}{\sqrt{x-2}} dx; \int \frac{\sin^2 x}{\cos^4 x} dx; \int \sin^2 9x dx.
 \end{aligned}$$

$$2. \text{ а) } \int_0^{\frac{\pi}{4}} \frac{2\cos x + 3\sin x}{(2\sin x - 3\cos x)^3} dx; \quad \text{ б) } \int_3^8 \frac{x dx}{\sqrt{x+1}}; \quad \text{ в) } \int_0^{\frac{\ln 2}{3}} (5x-2)e^{3x} dx.$$

$$3. y^2 = 16x, \quad y = x.$$

$$4. y = \cos x, \quad y = 0, \quad -\frac{\pi}{4} \leq x \leq \frac{\pi}{2}.$$

$$5. \int_1^{\infty} \frac{x^2 dx}{1+x^6}.$$

### Варіант 29

$$\begin{aligned}
 & 1. \int \frac{dx}{(9x-5)^8}; \int \frac{dx}{\sqrt{18-15x^2}}; \int \frac{dx}{15x^2-18}; \int \frac{(8x-9) dx}{4x^2-9x+2}; \\
 & \int \frac{\sin 5x dx}{\sqrt[3]{\cos 5x-3}}; \int \frac{dx}{\arcsin^5 x \sqrt{1-x^2}}; \int \frac{x^2 dx}{\sqrt[5]{9x^3-4}}; \int \frac{e^{4x} dx}{e^{8x}+8}; \int \frac{(3-2\operatorname{tg} x)^2 dx}{\cos^2 x}; \\
 & \int \frac{dx}{x(5-6\ln x)^2}; \int \frac{(\operatorname{arcctg} x)^3}{1+x^2} dx; \int \frac{e^x dx}{\sqrt{10-e^{2x}}}; \int \frac{e^{\operatorname{ctg} x}}{\sin^2 x} dx; \int \frac{\sqrt[3]{\operatorname{arctg} x+1} dx}{1+x^2};
 \end{aligned}$$

$$\int \frac{1}{x \ln^3 x} dx; \quad \int \frac{x}{x^2 + 3x + 2} dx; \quad \int \frac{3x - 7}{\sqrt{x^2 - 4x - 1}} dx; \quad \int \frac{(x^2 - x - 6) dx}{(x - 1)(x^2 + 6x + 5)};$$

$$\int \frac{x^2 dx}{(x - 1)(x + 2)^2}; \quad \int \frac{x^2 dx}{\sqrt{x^2 - 81}}; \quad \int \frac{\sqrt{x} dx}{2x - 1}; \quad \int \sin^4 4x \cos^3 4x dx; \quad \int \operatorname{ctg}^{-4} 2x dx;$$

$$\int \cos 4x \cos 5x dx; \quad \int \sin^2 7x dx.$$

$$2. \text{ а) } \int_{\frac{\pi}{4}}^{\frac{\pi}{2}} \frac{x \cos x + \sin x}{(x \sin x)^2} dx; \quad \text{ б) } \int_4^9 \frac{\sqrt{x} dx}{\sqrt{x} - 1}; \quad \text{ в) } \int_0^{\frac{\pi}{2}} (4 - 16x) \sin 4x dx.$$

$$3. y = \frac{1}{2} x^2, \quad 4x - 2y + 5 = 0.$$

$$4. y = \frac{4}{x}, \quad y = 0, \quad x = 3, \quad x = 12.$$

$$5. \int_{-3}^2 \frac{dx}{(x + 2)^2}.$$

### Варіант 30

$$1. \int \frac{dx}{\sqrt{15 - 9x^2}}; \quad \int \frac{dx}{9x^2 + 15}; \quad \int \frac{(8x - 7) dx}{4x^2 - 7x + 8}; \quad \int \frac{\arcsin^4 x dx}{\sqrt{1 - x^2}}; \quad \int \frac{2^{\sqrt[3]{x^2}} dx}{\sqrt[3]{x}};$$

$$\int \frac{\sqrt[4]{2 + \operatorname{tg} x}}{\cos^2 x} dx; \quad \int \frac{\sin 2x}{\cos^3 2x} dx; \quad \int \frac{x^4 dx}{\sqrt{x^5 - 1}}; \quad \int \frac{(\sqrt{x} + 1)^2}{2\sqrt{x}} dx; \quad \int \frac{5e^{2\operatorname{tg} x}}{\cos^2 x} dx;$$

$$\int \frac{\operatorname{arctg}^6 x}{1 + x^2} dx; \quad \int x^2 \sqrt[3]{5 + x^3} dx; \quad \int \frac{\sqrt[3]{\operatorname{ctg} x}}{\sin^2 x} dx; \quad \int \frac{\sqrt[4]{\ln x}}{x} dx; \quad \int \frac{dx}{2x(5 - 6\ln x)^3};$$

$$\int \frac{\arcsin 3x dx}{\sqrt{1 - 9x^2}}; \quad \int \frac{(x + 2) dx}{x^2 + 3x - 4}; \quad \int \frac{x + 2}{\sqrt{4 + 2x - x^2}} dx; \quad \int \frac{3x + 2}{x(x + 1)^3} dx; \quad \int \frac{(4x + 1) dx}{x^3 + 4x};$$

$$\int \frac{x + 8}{x(x - 4)(x + 1)} dx; \quad \int \frac{dx}{x^2 \sqrt{1 - x^2}}; \quad \int \frac{\sqrt{x}}{x + 1} dx; \quad \int \operatorname{ctg}^3 2x dx; \quad \int \cos^3 2x \sin^5 2x dx.$$

$$2. \text{ а) } \int_0^1 \frac{(x^2 + 1) dx}{(x^3 + 3x^2 + 1)^2}; \quad \text{б) } \int_{-1}^1 \frac{x dx}{\sqrt{5 - 4x}}; \quad \text{в) } \int_{\frac{1}{2}}^1 \operatorname{arctg}(4x - 1) dx.$$

$$3. y = -4x^3, \quad y = -x.$$

$$4. y = x^2, \quad x = y^2.$$

$$5. \int_0^{\infty} x e^{-3x} dx.$$

## Контрольні запитання

1. Яку функцію GNU Octave використовують для обчислення інтегралів?
2. Що є аргументами функції інтегрування в GNU Octave у разі обчислення невизначеного та визначеного інтегралів?
3. Як у середовищі GNU Octave дослідити невластні інтеграли на збіжність?
4. За яким алгоритмом обчислюють площу фігури, обмежену заданими лініями?
5. Як зафіксувати вікно в середовищі GNU Octave?
6. Як у середовищі GNU Octave визначити межі інтегрування в процесі обчислення площі криволінійної трапеції або об'єму тіла обертання та як нанести їх на графік?
7. За яким алгоритмом обчислюють об'єм тіла, утвореного шляхом обертання фігури навколо осі  $OX$  ?

## 8. Диференціальні рівняння

### Мета:

- ✚ вивчення основних операцій і функцій, за допомогою яких розв'язують диференціальні рівняння в середовищі GNU Octave;
- ✚ закріплення теоретичних знань теми «Диференціальні рівняння»;
- ✚ набуття практичних навичок у розв'язанні задач за темою «Диференціальні рівняння» в середовищі GNU Octave.

### Компетентності:

уміння використовувати інструментарій GNU Octave під час розв'язання диференціальних рівнянь першого та другого порядку.

## 8.1. Розв'язання диференціальних рівнянь першого порядку

Слід пригадати, що *диференціальним рівнянням першого порядку* називають рівняння, яке пов'язує незалежну змінну  $x$ , невідому функцію  $y = y(x)$  і її похідну  $y' = y'(x)$ . Функцію  $y = \varphi(x)$ , підставлення якої замість  $y(x)$  у це диференціальне рівняння перетворює його на тотожність, називають *розв'язком*, або *інтегралом*, рівняння, а графік функції  $y = \varphi(x)$  називають *інтегральною кривою*.

Кожне диференціальне рівняння має безліч розв'язків, які відрізняються один від одного сталою величиною. Для обчислення частинного розв'язку потрібно визначити додаткові початкові чи граничні умови. Кількість таких умов має збігатися з порядком диференціального рівняння чи системи. Обчислення частинного розв'язку за заданою початковою умовою називають задачею Коші.

Для розв'язання диференціальних рівнянь або їхньої системи в середовищі GNU Octave використовують функцію `dsolve`, яка належить Symbolic Math.

Синтаксис застосування цієї функції такий:

```
>>dsolve('eq1','eq2',...,'cond1','cond2',...,'v'),
```

де символічні вирази `'eq1','eq2',...`, `'cond1','cond2',...`, та `'v'` визначають, відповідно, умови диференціальних рівнянь, початкові або граничні умови та змінну, від якої залежить функція розв'язку.

Кількість рівнянь, початкових і граничних умов можуть бути згрупованими разом, відокремленими комами в окремий вхідний параметр.

**Зауваження:** якщо потрібно розв'язати диференціальне рівняння першого порядку, то замість виразу  $y'(x)$  слід використовувати позначення `diff(y,x)`, а знак рівності замінити на знак подвійної рівності: `" = " → " == "`.

Є три різні типи відображення розв'язку диференціального рівняння:

для одного рівняння й однієї змінної розв'язок подано у вигляді символного вектора;

для декількох рівнянь та однакової кількості змінних результати сортовано в лексикографічному порядку;

для декількох рівнянь і єдиної змінної повернуто структуру, що містить розв'язок.

Якщо у явному вигляді розв'язок не обчислено, то в середовищі GNU Octave подано неявний розв'язок. Коли неявний розв'язок видано, з'являється попередження. Якщо ні явний, ні неявний розв'язок не може бути обчислено, то також з'являється попередження і як результат подано порожню символну змінну.

**Приклад 8.1.** Розв'яжіть диференціальне рівняння  $xy' = 5y + x$ .

*Розв'язання.*

Спочатку слід позначити символну змінну функції розв'язку:

```
>>syms y(x)
```

Далі в окрему змінну (наприклад, DE) уводьмо символний вираз рівняння (замість виразу  $y'(x)$  використовують позначення  $\text{diff}(y, x)$ ):

```
>>DE=x*diff(y,x)-5*y-x==0
```

```
DE = (sym)
```

```
 d
```

```
 x·—(y(x)) - x - 5·y(x) = 0
```

```
 dx
```

Оскільки диференціальне рівняння не має початкових умов, то функція `dsolve` має лише один параметр – умову рівняння:

```
>>sol=dsolve(DE)
```

```
sol = (sym)
```

$$x \cdot \left( C_1 \cdot x^4 - \frac{1}{4} \right)$$

Отже, визначено загальний розв'язок заданого диференціального рівняння першого порядку.

**Приклад 8.2.** Розв'яжіть диференціальне рівняння  $y' - 4y = 0$ .

*Розв'язання.* Виконуймо дії, аналогічні діям прикладу 8.1:

```
>>syms y(x)
>>DE=diff(y,x)-4*y==0
DE = (sym)
      d
-4·y(x) + —(y(x)) = 0
      dx
>>sol=dsolve(DE)
sol = (sym)
      4·x
y(x) = C1·e
```

**Приклад 8.3.** Розв'яжіть задачу Коші  $xy' + y = y^2$ ;  $y(1) = 0,5$ .

*Розв'язання.* Спочатку потрібно визначити загальний розв'язок диференціального рівняння першого порядку  $xy' + y = y^2$ , а потім підставити початкові умови:

```
>>syms y(x)
>>DE=x*diff(y,x)+y-y^2==0
DE = (sym)
      d          2
x·—(y(x)) - y(x) + y(x) = 0
      dx
>>sol=dsolve(DE)
sol = (sym)
      -C1
```

$$y(x) = \frac{1}{-C_1 + x}$$

Визначено загальний розв'язок заданого диференціального рівняння першого порядку.

Далі слід використати початкову умову:

```
>>sol = dsolve (DE,y(1)== 0.5) % підставляймо
початкову умову
```

```
sol = (sym)
      1
y(x) = ——
      x + 1
```

Отже, обчислено частинний розв'язок заданого диференціального рівняння першого порядку.

**Приклад 8.4.** Розв'яжіть диференціальне рівняння  $y' = y$ .

*Розв'язання.* У цьому прикладі диференційне рівняння першого порядку задано інакше, права частина не дорівнює нулю.

Тоді функцію рівняння можна записати так:

```
>>syms y(x)
>>DE=diff(y,x)==y
DE = (sym)
      d
      —(y(x)) = y(x)
      dx
>> sol=dsolve(DE)
sol = (sym)
      x
y(x) = C1·e
```

Визначено загальний розв'язок диференціального рівняння першого порядку.

**Зауваження:** якщо рівняння задано в диференціалах, наприклад  $dy - xdx = 0$ , то його слід перетворити та записати через похідну, поділивши обидві частини рівняння на  $dx$ :  $\frac{dy}{dx} - x = 0 \Rightarrow y' - x = 0$ .

**Приклад 8.5.** Розв'яжіть диференціальне рівняння

$$e^y(1+x^2)dy - 2x(1+e^y)dx = 0.$$

*Розв'язання.* Спочатку поділімо обидві частини рівняння на  $dx$ :

$$e^y(1+x^2)\frac{dy}{dx} - 2x(1+e^y) = 0,$$

$$e^y(1+x^2) \cdot y' - 2x(1+e^y) = 0.$$

Далі розв'язуємо рівняння в GNU Octave:

```
>>syms y(x)
>>DE=exp(y)*(1+x^2)*diff(y,x)-2*x*(1+exp(y))==0
DE = (sym)
```

$$- 2 \cdot x \cdot \left( e^{y(x)} + 1 \right) + \left( x^2 + 1 \right) \cdot e^{y(x)} \cdot \frac{d}{dx}(y(x)) = 0$$

```
>>sol=dsolve(DE)
sol = (sym)
```

$$\log\left(C_1 \cdot x^2 + C_1 - 1\right)$$

Визначено загальний розв'язок диференціального рівняння першого порядку.

**Приклад 8.6.** Розв'яжіть лінійне диференціальне рівняння першого порядку  $y' + 2xy = xe^{-x^2}$ .

**Розв'язання:**

```
>>syms y(x)
>>DE=diff(y,x)+2*x*y==x*exp(-x^2)
DE = (sym)
```

$$2 \cdot x \cdot y(x) + \frac{d}{dx}(y(x)) = x \cdot e^{-x^2}$$

```
>>sol=dsolve(DE)
```

```
sol = (sym)
```

$$\left( C_1 + \frac{x^2}{2} \right) \cdot e^{-x^2}$$

Визначено загальний розв'язок лінійного диференціального рівняння першого порядку.

**Приклад 8.7.** Розв'яжіть задачу Коші:

$$x \ln y \cdot y' = x^3 y, \quad y(0) = e.$$

**Розв'язання:**

```
>>syms y(x)
>>DE=x*log(y)*diff(y,x)==x^3*y
DE = (sym)
```

$$x \cdot \log(y(x)) \cdot \frac{d}{dx}(y(x)) = x^3 \cdot y(x)$$

```
>>sol=dsolve(DE)
```

```
Waiting.....
```

```

sol =
{
  [1,1] =
    <class sym>
  [1,2] =
    <class sym>
}

```

Такий вигляд відповіді означає, що GNU Octave видає розв'язок у форматі подання класів.

Для того щоб визначити звичайний вигляд, потрібно позначити розв'язок ідентифікатором: перший розв'язок позначмо `sol{1}`, а другий – `sol{2}`:

```

>>sol{1}
ans = (sym)

```

$$\frac{-\sqrt{6} \cdot \sqrt[3]{C_1 + x}}{3}$$

$$y(x) = e$$

```

>>sol{2}
ans = (sym)

```

$$\frac{\sqrt{6} \cdot \sqrt[3]{C_1 + x}}{3}$$

$$y(x) = e$$

Підставмо початкову умову й визначмо частинний розв'язок:

```

>>sol=dsolve(DE, y(0)==exp(1))

```

sol = (sym)

$$\frac{\sqrt{6} \sqrt{x^3 + 3}}{3}$$

$y(x) = e$

## 8.2. Розв'язання диференціальних рівнянь другого порядку

Під час розв'язання диференціальних рівнянь другого порядку виконують аналогічні дії до виконання завдань із диференціальними рівняннями першого порядку.

**Приклад 8.8.** Розв'яжіть диференціальне рівняння другого порядку  $xy'' = y'$ .

*Розв'язання.* Якщо згадати, що замість виразу  $y'(x)$  використовують позначення  $Dy = \text{diff}(y, x)$ , то аналогічно замість виразу  $y''(x)$  слід використовувати позначення  $\text{diff}(Dy, x)$ :

```
>>syms y(x)
>>Dy=diff(y,x)
Dy(x) = (symfun)
      d
      —(y(x))
      dx
>>DE=x*diff(Dy,x)==Dy
DE = (sym)
      2
      d      d
      x·—(y(x)) = —(y(x))
          2      dx
      dx
```

```
>>sol=dsolve(DE)
sol = (sym)
          2
y(x) = C1 + C2·x
```

Визначено загальний розв'язок диференціального рівняння другого порядку.

**Приклад 8.9.** Обчисліть загальний розв'язок однорідного диференціального рівняння другого порядку  $y'' + y' - 2y = 0$ .

*Розв'язання:*

```
>>syms y(x)
>>Dy=diff(y,x)
Dy(x) = (symfun)
      d
      —(y(x))
      dx
>>DE=diff(Dy,x)+Dy-2*y==0
DE = (sym)
          2          2
          d          d
-2·y(x) + —(y(x)) + —(y(x)) = 0
          dx          dx
>>sol=dsolve(DE)
sol = (sym)
          -2·x          x
y(x) = C1·e      + C2·e
```

Обчислено загальний розв'язок однорідного диференціального рівняння другого порядку.

**Приклад 8.10.** Обчисліть загальний розв'язок однорідного диференціального рівняння другого порядку  $y'' - 2y' + y = 0$ .

**Розв'язання:**

```
>>syms y(x)
>>Dy=diff(y,x)
Dy(x) = (symfun)
      d
      —(y(x))
      dx
>>DE=diff(Dy,x)-2*Dy+y==0
DE = (sym)
      2
      d      d
      —      —
      dx      dx
      y(x) - 2·—(y(x)) + —(y(x)) = 0
>>sol=dsolve(DE)
sol = (sym)
      x
      y(x) = (C1 + C2·x)·e
```

Обчислено загальний розв'язок однорідного диференціального рівняння другого порядку.

**Приклад 8.11.** Обчисліть частинний розв'язок диференціального рівняння другого порядку  $y'' = xe^{-x}$ , який задовольняє початкові умови  $y(0) = 1, y'(0) = 0$ .

**Розв'язання:**

```
>>syms y(x)
>>Dy=diff(y,x)
Dy(x) = (symfun)
      d
      —(y(x))
      dx
>>DE=diff(Dy,x)==x*exp(-x)
```

```

DE = (sym)
      2
      d      -x
      —— (y(x)) = x·e
      2
      dx

>> sol=dsolve(DE, y(0)==1, Dy(0)==0)
sol = (sym)
      -x
      y(x) = x + (x + 2)·e  - 1

```

Обчислено частинний розв'язок диференціального рівняння другого порядку.

### 8.3. Розв'язання прикладних задач із використанням диференціальних рівнянь

Дослідження в економіці та вирішення широкого кола завдань досить часто мають за основу опис диференціальних рівнянь. Диференціальне рівняння, обчислене в ході дослідження реального явища чи процесу, називають *диференціальною моделлю*, яка є важливою складовою математичного моделювання. Потрібно вміти не лише будувати математичні моделі, але й створювати алгоритм формування цих моделей та реалізовувати такі алгоритми в програмному середовищі.

Розгляньмо деякі економічні задачі, що приводять до розв'язання диференціальних рівнянь.

**Приклад 8.12.** Досліджують функцію  $y(x)$  залежності між собівартістю одиниці продукції  $y$  (тис. грн) та обсягом виготовленої продукції  $x$  (млн од.).

Визначте цю залежність, якщо еластичність собівартості

$E(y) = \frac{x}{x - 70}$ , а собівартість одиниці продукції становить 60 грн.

*Розв'язання.* Спочатку слід пригадати формулу еластичності:

$E(y) = \frac{x}{y} \cdot y'$ , де  $y = y(x)$ . Далі складемо диференціальне рівняння

першого порядку  $\frac{x}{x-70} = \frac{x}{y} \cdot y'$  та обчислимо його частинний розв'язок,

за умови, що  $y(1) = 60$ .

Отже, маємо:

```
>>syms y(x)
```

```
>>DE=x/(x-70)==(x/y(x))*diff(y(x))
```

```
DE = (sym)
```

$$\frac{x}{x-70} = \frac{x \cdot \frac{d}{dx}(y(x))}{y(x)}$$

```
>>sol=dsolve(DE,y(1)==60)
```

```
sol = (sym)
```

$$\frac{1400}{23} - \frac{20 \cdot x}{23}$$

Обчислено частинний розв'язок диференціального рівняння першого порядку, тобто залежність між собівартістю одиниці продукції  $y$  (тис. грн) та обсягом виготовленої продукції  $x$  (млн од.) має такий вигляд:

$$y(x) = \frac{1400 - 20x}{23}.$$

**Приклад 8.13.** Визначте виробничу функцію  $y = y(x)$ , якщо відомо, що  $y(1) = 10$ , а залежність еластичності виробничої функції від кількості

вкладених коштів  $x$  визначено функцією  $E(y) = \frac{x^2 + y^2}{y^2}$ , де  $y$  – обсяг виробництва (в одиницях вартості).

*Розв'язання.* Складаймо таке диференціальне рівняння першого порядку:

$$\frac{x^2 + y^2}{y^2} = \frac{x}{y} \cdot y'.$$

Маємо однорідне рівняння. Обчислімо його частинний розв'язок, за умови, що  $y(1) = 10$ :

```
>>syms y(x)
>>DE=(x^2+y^2)/(y^2)==(x/y(x))*diff(y(x))
DE = (sym)
```

$$\frac{x^2 + y^2(x)}{y^2(x)} = \frac{x \cdot \frac{d}{dx}(y(x))}{y(x)}$$

```
>>sol=dsolve(DE,y(1)==10)
```

```
sol = (sym)
```

$$x \cdot \sqrt{2 \cdot \log(x) + 100}$$

Отже, виробнича функція від кількості вкладених коштів  $x$  має такий вигляд:  $y = x\sqrt{2\ln x + 100}$ .

**Приклад 8.14.** Нехай попит і пропозиція на товар є функціями часу, які визначають такими співвідношеннями:  $x(t) = 3p'' - p' + p + 14$

та  $y(t) = 4p'' + p' + 2p + 4$ , де  $p$  – ціна товару,  $p'$  – тенденція (швидкість) формування ціни,  $p''$  – темп зміни ціни.

Визначте залежність рівноважної ціни від часу  $p(t)$ , ураховуючи початкові умови:  $p(0) = 15$ ,  $p'(0) = 5$ . Дослідіть стійкість рівноважної ціни.

*Розв'язання.* У точці ринкової рівноваги попит і пропозиція є однаковими:  $x(t) = y(t)$ , тоді

$$3p'' - p' + p + 14 = 4p'' + p' + 2p + 4.$$

Отже, маємо диференціальне рівняння другого порядку. Обчислимо його частинний розв'язок, за умови, що  $p(0) = 15$ ,  $p'(0) = 5$ . Слід звернути увагу, що це рівняння можна спростити (привести подібні доданки), тобто рівняння набуває такого вигляду:  $p'' + 2p' + p = 10$ , після чого його можна розв'язувати далі:

```
>>syms p(t)
>> Dp=diff(p,t)
Dp(t) = (symfun)
      d
      —(p(t))
      dt

>>DE=diff(Dp)+2*Dp+p(t)==10
DE = (sym)
                2
                d
                d
p(t) + 2·—(p(t)) + —(p(t)) = 10
                dt                2                e

>>sol=dsolve(DE,p(0)==15,Dp(0)==5)
```

$$\text{sol} = (\text{sym}) \\ (10 \cdot t + 5) \cdot e^{-t} + 10$$

Отже, функція рівноважної ціни від часу має такий вигляд:  
 $p(t) = (10t + 5)e^{-t} + 10$ .

Щоб дослідити стійкість визначеної функції рівноважної ціни, слід обчислити границю цієї функції на нескінченності:

$$\gg \text{limit}(\text{sol}, \text{inf}) \\ \text{ans} = (\text{sym}) 10$$

Отже, обчислено стале значення границі, тому рівноважна ціна є стійкою.

#### 8.4. Завдання для самостійної роботи

Розв'яжіть диференціальні рівняння.

##### Варіант 1

1.  $e^y(1+x^2)dy - 2x(1+e^y)dx = 0$ .
2.  $x \ln y \cdot y' = x^3 y$ ;  $y(0) = e$ .
3.  $\left(x - y \cos \frac{y}{x}\right) dx + x \cos \frac{y}{x} dy = 0$ .
4.  $(\sqrt{xy} - x)y' = 0$ ;  $y(1) = 1$ .
5.  $y' + y = 3x$ .
6.  $y' - 3y = e^{-2x}$ ;  $y(0) = 0$ .
7.  $2(y' + xy) = (x-1)e^x y^2$ ;  $y(0) = 2$ .
8.  $y'^2 + yy'' = 0$ .
9.  $y'' + 3y' = 3xe^{-3x}$ .
10.  $y'' - 6y' + 9y = x^2 - x + 3$ ;  $y(0) = \frac{4}{3}$ ;  $y'(0) = \frac{1}{27}$ .

### Варіант 2

1.  $2xy^2 dx - y dy = yx^2 dy - 6x dx$ .
2.  $x^3 y' + y = 7; \quad y(1) = 5$ .
3.  $x(x + 2y) dy + (x^2 - y^2) dx = 0$ .
4.  $y' = e^{-\frac{y}{x}} + \frac{y}{x}; \quad y(1) = 0$ .
5.  $y' + y = \ln(e^x + 1)$ .
6.  $y' - \frac{1}{x} y = x^2; \quad y(1) = 0,5$ .
7.  $2(xy' + y) = y^2 \ln x; \quad y(1) = 2$ .
8.  $y'' = \sin^2 x \cos x$ .
9.  $y'' + 16y = -24 \sin 4x$ .
10.  $y'' - 4y' + 4y = e^{2x}; \quad y(0) = 2; \quad y'(0) = 8$ .

### Варіант 3

1.  $ye^{2x} dx + (1 + e^{2x}) dy = 0$ .
2.  $(2xy + y) y' = 3 - y^2; \quad y(0) = 2$ .
3.  $xy' = 2\sqrt{3x^2 + y^2} + y$ .
4.  $y' = e^{\frac{y}{x}} + \frac{y}{x}; \quad y(1) = 1$ .
5.  $y' + \frac{x}{x^2 + 1} y = (x^2 + 1)^{\frac{3}{2}}$ .
6.  $y' + \frac{1}{x} y = e^{x^2}; \quad y(1) = \frac{e}{2}$ .
7.  $y' - xy + y^3 e^{-x^2} = 0; \quad y(0) = \frac{1}{2}$ .

8.  $2yy'' = y^2 + (y')^2$ .
9.  $y'' - 8y' + 12y = -65\cos 4x$ .
10.  $y'' - y = 8e^x$ ;  $y(0) = 2$ ;  $y'(0) = 4$ .

#### Варіант 4

1.  $3e^x \operatorname{tg} y dx + (1 + e^x) \frac{dy}{\cos^2 y} = 0$ .
2.  $xy' + y = y^2$ ;  $y(1) = 0,5$ .
3.  $x \cos \frac{y}{x} (y dx + x dy) = y \sin \frac{y}{x} (x dy - y dx)$ .
4.  $x dy = \left( y + \sqrt{x^2 + y^2} \right) dx$ ;  $y(1) = 0$ .
5.  $y' - y \operatorname{tg} x = \sin^2 x$ .
6.  $y' + \frac{1}{x} y = \frac{1}{x^2 + 1}$ ;  $y(1) = \ln \sqrt{2}$ .
7.  $y' + xy = x^3 y^3$ ;  $y(0) = 1$ .
8.  $y'' = \frac{2}{x}$ .
9.  $y'' - 2y' + y = x^3$ .
10.  $y'' - 5y' + 6y = (12x - 7)e^{-x}$ ;  $y(0) = 0$ ;  $y'(0) = 0$ .

#### Варіант 5

1.  $\sqrt{x} dy = (\sqrt{1-x} + \sqrt{x}) dx$ .
2.  $(2 - e^x) \sin yy' = e^x \cos^3 y$ ;  $y(0) = \frac{\pi}{4}$ .
3.  $x dy = \left( y + \sqrt{y^2 - 4x^2} \right) dx$ .
4.  $y' = \frac{y}{x} \ln \frac{y}{x}$ ;  $y(e) = 1$ .

$$5. y' + \frac{y}{\cos^2 x} = \frac{1}{1 - \sin^2 x}.$$

$$6. y' + \frac{1}{x}y = \frac{1}{\sqrt{1-x^2}}; y(1) = 2.$$

$$7. (1-x^2)y' - xy - 2xy^2 = 0; y(0) = 1.$$

$$8. y'' + \frac{y'}{x} = x.$$

$$9. y'' - 10y' + 25y = e^{5x}.$$

$$10. y'' - 2y' + y = 4(\sin x + \cos x); y(0) = 1; y'(0) = 0.$$

### Варіант 6

$$1. y^2 e^x dx - (e^x + 2) dy = 0.$$

$$2. xy' \ln y - y = 0; y(1) = e^2.$$

$$3. y' = -\frac{x+y}{x}.$$

$$4. 3xy' = x + 4y; y(1) = 1.$$

$$5. y' + \frac{y}{x+1} = \sin 2x.$$

$$6. y' - \frac{1}{x}y = \ln x; y(1) = 5.$$

$$7. xy' = x^5 y^2 - 2y; y(1) = 1.$$

$$8. xy'' \ln x = y'.$$

$$9. y'' + y' + y = (x + x^2)e^x.$$

$$10. y'' - 3y' = 3(2 - x^2) y(0) = 0; y'(0) = 1.$$

### Варіант 7

1.  $y \sin x dx + (\cos x - 1) dy = 0; y\left(\frac{\pi}{2}\right) = 1.$
2.  $x \cos 2y dx - x^2 \sin 2y dy = 0.$
3.  $xy' - y = x \operatorname{tg} \frac{y}{x}.$
4.  $(y^2 - 2xy) dx + x^2 dy = 0; y(1) = 2.$
5.  $y' + \frac{y}{3+x} = \ln 5x.$
6.  $y' - \frac{1}{x} y = x \sin x; y(\pi) = 0.$
7.  $yy' + \frac{1}{2} y^2 = 1; y(0) = 1.$
8.  $y'' + y' \operatorname{tg} x = \sin 2x.$
9.  $y'' - y' + 4y = -4 \sin 2x.$
10.  $y'' - 4y' + 5y = 2x^2 e^x; y(0) = 2; y'(0) = 1.$

### Варіант 8

1.  $6x dx - 2x^2 y dy = 6y dy - 3xy^2 dx.$
2.  $y' = (2y - 3) \operatorname{tg} x; y(2\pi) = 6.$
3.  $xy' - y = (x + y) \ln \frac{x + y}{x}.$
4.  $2x^3 y' = y(2x^2 - y^2); y(1) = 1.$
5.  $y' \operatorname{ctg} x - y = 2 \cos^2 x \cdot \operatorname{ctg} x.$
6.  $y' - \frac{1}{x} y = x^3 + 2; y(1) = \frac{1}{3}.$
7.  $y' + 4x^3 y = 4(x^3 + 1)e^{-4x} y^2; y(0) = 1.$
8.  $y'' = x \ln x.$

9.  $y'' + 2y' + 5y = 4\sin x + 22\cos x$ .

10.  $y'' + 6y' + 9y = 9xe^{-3x}$ ;  $y(0) = 2$ ;  $y'(0) = 1$ .

### Варіант 9

1.  $xy^2 dx - ydy = yx^2 dy - xdx$ .

2.  $y' = 2^{x-y}$ ;  $y(1) = 1$ .

3.  $(x^2 + xy)y' = x\sqrt{x^2 - y^2} + xy + y^2$ .

4.  $xy'(\ln y - \ln x) = y$ ;  $y(e) = 1$ .

5.  $y' - \frac{2y}{x} = x^2 e^x$ .

6.  $y' - \frac{1}{x}y = x \operatorname{tg} x$ ;  $y(\pi) = 1$ .

7.  $y' - y \operatorname{tg} x = -\frac{2}{3}y^4 \sin x$ ;  $y(0) = 1$ .

8.  $y'' \sin 2x = \sin 4x$ .

9.  $y'' + 5y' - 14y = e^{2x}(2x^2 - 3x + 1)$ .

10.  $y'' - y' = 2x$ ;  $y(0) = 0$ ;  $y'(0) = 2$ .

### Варіант 10

1.  $(e^x + 5)dy - y^2 e^x dx = 0$ .

2.  $y' = xy + e^x y$ ;  $y(0) = 3$ .

3.  $xy' = y \ln \frac{y}{x}$ .

4.  $2y' = \frac{y^2}{x^2} + 8\frac{y}{x} + 8$ ;  $y(1) = 1$ .

5.  $y' - y \operatorname{tg} x = \sin 2x$ .

6.  $y' - \frac{1}{x}y = 2x^2 \sqrt{x^2 + 5}$ ;  $y(2) = 36$ .

$$7. y' = y \operatorname{ctg} x + \frac{y^3}{\sin x}; \quad y\left(\frac{\pi}{2}\right) = 1.$$

$$8. yy'' = (y')^2 + 1.$$

$$9. y'' - 2y' + y = 16e^x.$$

$$10. y'' + 4y' - 12y = 8\sin 2x; \quad y(0) = 0; \quad y'(0) = 0.$$

### Варіант 11

$$1. y(2 + e^x) dy = e^x dx.$$

$$2. y' \cos x = y \sin x; \quad y(\pi) = 3.$$

$$3. xy' = 3\sqrt{x^2 + y^2} + y.$$

$$4. (xy' - y) \operatorname{arctg} \frac{y}{x} = x; \quad y(1) = 0.$$

$$5. y' + y \operatorname{tg} x = \cos^3 x.$$

$$6. y' - \frac{1}{x}y = e^{x^3} x^3; \quad y(1) = \frac{e}{2}.$$

$$7. 2xy' - 3y = -(5x^2 + 3)y^3; \quad y(1) = 1.$$

$$8. y'' \operatorname{tg} 5x = 5y'.$$

$$9. y'' - y' - y = (3x + 7)e^{2x}.$$

$$10. y'' + 5y' + 6y = 12\cos 2x; \quad y(0) = 1; \quad y'(0) = 3.$$

### Варіант 12

$$1. \cos^2 x(1 + \operatorname{tg} x)y' = y; \quad y(0) = 3.$$

$$2. 3yx^2(1 + \ln y) dx = dy.$$

$$3. xy' = \sqrt{2x^2 + y^2} + y.$$

$$4. y(\ln y - \ln x) dx - x dy = 0; \quad y(e) = 1.$$

$$5. y' - y \operatorname{ctg} x = 3\sin^4 x.$$

6.  $y' - \frac{1}{x}y = x^2e^x; \quad y(1) = 2.$
7.  $4xy' + 3y = -x^4y^5e^x; \quad y(1) = 2.$
8.  $xy'' \ln x = y' + 1.$
9.  $y'' - 3y' - 10y = \sin x + 3\cos x.$
10.  $y'' - 4y' = 6x^2 + 1; \quad y(0) = 2; \quad y'(0) = 3.$

### Варіант 13

1.  $x\sqrt{x^2 + 1} dx - \sqrt{y} dy = 0.$
2.  $y' \operatorname{ctg} x + y = 2; \quad y(\pi) = 0.$
3.  $(2x - y)y' = x + 2y.$
4.  $xy' = y\left(1 + \ln \frac{x}{y}\right); \quad y(1) = \frac{1}{\sqrt{e}}.$
5.  $y' + y \operatorname{ctg} x = 2\sin 3x.$
6.  $y' - \frac{1}{x}y = x \ln x; \quad y(2) = 2.$
7.  $(y' + y^2)(x + 1) = -y; \quad y(0) = 1.$
8.  $xy'' + y' + x = 0.$
9.  $y'' + 4y' + 4y = 8e^{-2x}.$
10.  $y'' + 3y' = 3(2 - x^2); \quad y(0) = 1; \quad y'(0) = 1.$

### Варіант 14

1.  $(1 - x^2)dy - (2xy^2 + xy)dx = 0.$
2.  $xy' = \frac{x-1}{y}e^{2x} + y'; \quad y(1) = e.$

3.  $3x^2 y' = y^2 + 10xy + 10x^2$ .
4.  $y^2 + x^2 y' = xyy'$ ;  $y(3) = 4$ .
5.  $y' + y \operatorname{ctg} x = \frac{\cos^2 x}{\sin^3 x}$ .
6.  $y' - \frac{1}{x} y = e^x x$ ;  $y(1) = 2$ .
7.  $2 \sin xy' + y \cos x = y^3 (\cos x - \sin x)$ ;  $y(\pi/2) = 1$ .
8.  $y'' = 4^x + \frac{1}{e^x}$ .
9.  $y'' + 121y = 11 \sin x$ .
10.  $y'' + 2y' + y = -2 \sin x$ ;  $y\left(\frac{\pi}{2}\right) = 0$ ;  $y'\left(\frac{\pi}{2}\right) = 0$ .

### Варіант 15

1.  $2x^2 y dy = (3 + y^2) dx$ .
2.  $y' + e^x = yy'$ ;  $y(0) = 2$ .
3.  $(3x^2 - 2xy) y' = x^2 + 3xy - y^2$ .
4.  $y dx + (2\sqrt{xy} - x) dy = 0$ ;  $y(1) = 1$ .
5.  $y' + \operatorname{tg} xy = \frac{1}{4} \cos x \sin 2x$ .
6.  $y' - \frac{2}{x+1} y = (x+1)^3$ ;  $y(0) = 0$ .
7.  $xy' + y = \frac{1}{2} xy^3$ ;  $y(1) = 2$ .
8.  $(1 + \cos 2x) y'' = -2 \sin 2x \cdot y'$ .
9.  $y'' - 6y' + 9y = 3x - 1$ .
10.  $y'' - 10y' + 25y = 10e^{5x}$ ;  $y(0) = 5$ ;  $y'(0) = 1$ .

### Варіант 16

1.  $\sqrt{y^2 + 1} dx = xy dy$ .
2.  $y' - \frac{4xy}{x^2 - 1} = 0; \quad y(\sqrt{2}) = 1$ .
3.  $xy' \sin \frac{y}{x} + x = y \sin \frac{y}{x}$ .
4.  $y' = 4 + \frac{y}{x} + \left(\frac{y}{x}\right)^2; \quad y(1) = 2$ .
5.  $y' - \operatorname{ctg} xy = \sin^3 x$ .
6.  $y' + \frac{1-2x}{x^2} y = 1; \quad y(1) = 0$ .
7.  $3(xy' + y) = y^2 \ln x; \quad y(1) = 3$ .
8.  $xy'' + y' = 0$ .
9.  $y'' + y' - 2y = x^2 e^{4x}$ .
10.  $y'' + 9y = \cos 3x; \quad y\left(\frac{\pi}{2}\right) = 0; \quad y'\left(\frac{\pi}{2}\right) = 0$ .

### Варіант 17

1.  $y^2 dy + \operatorname{ctg} x dx = y^3 \operatorname{ctg} x dx$ .
2.  $(y' + 1)e^{2y} = 4; \quad y(1) = 0$ .
3.  $(xy' - y) \operatorname{ctg} \frac{y}{x} = x$ .
4.  $(x^2 + 6xy + y^2) dx = 4xy dy; \quad y(1) = 0$ .
5.  $y' - \operatorname{ctg} xy = \frac{\cos^2 x}{\sin x}$ .
6.  $y' + y \cos x = \cos x; \quad y(0) = 3$ .
7.  $y' - \frac{2xy}{1+x^2} = 4 \frac{\sqrt{y}}{\sqrt{1+x^2}} \operatorname{arctg} x; \quad y(0) = 1$ .

8.  $y'' = 2(y' - 1)\operatorname{tg} x$ .

9.  $y'' + 2y' + y = (18x + 21)e^{-x}$ .

10.  $y'' - 13y' + 12y = 18x^2 - 39$ ;  $y(0) = 2$ ;  $y'(0) = 3$ .

### Варіант 18

1.  $x(y^2 + 1)dx - ye^{x^2}dy = 0$ .

2.  $xy' - y^2 = y$ ;  $y(2) = 1$ .

3.  $\frac{xy' + y}{x + yy'} = 2$ .

4.  $3x \sin \frac{3y}{x} dy + \left( x - 3y \sin \frac{3y}{x} \right) dx = 0$ ;  $y(1) = 1$ .

5.  $y' + \frac{4xy}{x^2 + 1} = \frac{1}{x^2 + 1}$ ;  $y(0) = 1$ .

6.  $y'x \ln x - y = x^2 \ln^3 x$

7.  $(y' + xy)e^{-x} = (x - 1)y^2$ ;  $y(0) = 1$ .

8.  $y'' = \ln x + 1$ .

9.  $y'' + 2y' + y = -2 \sin x$ .

10.  $y'' + 4y' + 4y = e^{-2x}(12x + 16)$ ;  $y(0) = 0$ ;  $y'(0) = 2$ .

### Варіант 19

1.  $x dy = x^2 e^{-y} dx + 2 dy$ .

2.  $y' = 2\sqrt{y} \ln x$ ;  $y(e) = 1$ .

3.  $(2x + y)dx + (x + 2y)dy = 0$ .
4.  $(x^2 + xy)y' = x\sqrt{x^2 - y^2} + xy + y^2; \quad y(1) = 1$ .
5.  $y'x \ln x + y = x^3$ .
6.  $y' + \frac{y}{x+1} + x^2 = 0; \quad y(0) = 2$ .
7.  $\frac{2y' + y \cos x}{4 + \sin x} = y^{-1} \cos x; \quad y(0) = 1$ .
8.  $y'' \operatorname{tg} x = 2y'$ .
9.  $y'' + 2y' + 5y = -17 \sin 2x$ .
10.  $y'' - 6y' + 9y = 4xe^x; \quad y(1) = 3; \quad y'(1) = 0$ .

### Варіант 20

1.  $dy - 3xdy - \sqrt{y}dx = 0$ .
2.  $(x^2 - 1)y' + 2xy^2 = 0; \quad y(0) = 1$ .
3.  $x^2y' = y^2 + 6xy + 6x^2$ .
4.  $xy' - y = xe^{\frac{y}{x}}; \quad y(e) = 1$ .
5.  $y' + x^2y = 3x^2$ .
6.  $y' - \frac{1}{x}y = \frac{x}{x-3}; \quad y(4) = 2$ .
7.  $3y' + 2xy = 2xy^{-2}e^{-2x^2}; \quad y(1) = 1$ .
8.  $yy'' + (y')^2 = 2$ .

9.  $y'' + y' - 2y = 8\sin 2x$ .

10.  $y'' - 13y' + 12y = x - 1$ ;  $y(0) = 3$ ;  $y'(0) = 2$ .

### Варіант 21

1.  $2xdy + ydx + xy(ydy + dx) = 0$ .

2.  $(1 + x^2)y' + xy = 0$ ;  $y(0) = 2$ .

3.  $2xy'(x^2 + y^2) = y(2x^2 + y^2)$ .

4.  $xy' \sin \frac{y}{x} = y \sin \frac{y}{x} - x$ ;  $y(1) = \frac{\pi}{4}$ .

5.  $y' \cos x - y \sin x = \cos^5 x$ .

6.  $y' - \frac{1}{x}y = x \sin^3 x$ ;  $y(\pi/2) = 1$ .

7.  $y' + y = e^{\frac{x}{2}} \sqrt{y}$ ;  $y(0) = \frac{9}{4}$ .

8.  $xy'' + y' = 1$ .

9.  $y'' + 2y' + 5y = -\cos x$ .

10.  $y'' - 3y' + 2y = -4e^x$ ;  $y(0) = 1$ ;  $y'(0) = 1$ .

### Варіант 22

1.  $(\sqrt{xy} - \sqrt{x})dy = ydx$ .

2.  $(x+1)y' - x = 0$ ;  $y(0) = 0$ .

3.  $y'x = 2y \ln \frac{2y}{x}$ .

4.  $xy' = y + x \sin \frac{y}{x}$ ;  $y(1) = \frac{\pi}{4}$ .

5.  $y' \sin x - y \cos x = \sin^4 x$ .

$$6. y' - \frac{1}{x}y = x \frac{\sin^3 x}{\cos x}; \quad y(\pi) = \frac{\pi}{2}.$$

$$7. y'(x-1) - y = y^2; \quad y(2) = 1.$$

$$8. xy'' \ln x + y' = 2.$$

$$9. y'' - 4y' + 4y = 2e^{2x} + \frac{x}{2}.$$

$$10. y'' - 25y = 25(\sin 5x + \cos 5x); \quad y\left(\frac{\pi}{10}\right) = 0; \quad y'\left(\frac{\pi}{10}\right) = 0.$$

### Варіант 23

$$1. x(dy - 2ydx) + xy^2 dx = 0.$$

$$2. 3y' - x^2 y' + x = 0; \quad y(5) = 0.$$

$$3. xy' - y = \frac{x}{\operatorname{arctg} \frac{2y}{x}}.$$

$$4. xy' \sin \frac{3y}{x} + x = y \sin \frac{3y}{x}; \quad y(1) = \frac{\pi}{6}.$$

$$5. y' \cos x + y \sin x = \cos^4 x.$$

$$6. y' - \frac{1}{x}y = x \frac{\sin x}{\cos^3 x}; \quad y(\pi) = \frac{\pi}{2}.$$

$$7. xy' + y = y^2 \ln 3x; \quad y(1) = 1.$$

$$8. y'' y^3 + 25 = 0.$$

$$9. y'' + y' - 2y = 4 \sin x.$$

$$10. y'' + 6y' + 9y = e^x (16x + 24); \quad y(0) = 3; \quad y'(0) = 2.$$

### Варіант 24

$$1. x\sqrt{3+y^2} dx + y\sqrt{2+x^2} dy = 0.$$

$$2. (2x^2 y - 3y)y' = 6x - 2xy; \quad y(1) = 0.$$

3.  $xy + y^2 = (2x^2 + xy)y'$ .
4.  $(x^2 + 2xy - 2y^2)dy + xydx = (x^2 + y^2)dx; y(1) = 1$ .
5.  $y' \sin x + y \cos x = \operatorname{tg}^2 x$ .
6.  $y' - \frac{1}{x}y = x \sin^2 x \cos^2 x; y(\pi) = 1$ .
7.  $y' + 2xy = 2x^3 y^3; y(0) = 1$ .
8.  $y''(e^x + 1) + y' = 0$ .
9.  $y'' + 2y' + 5y = -\sin 2x$ .
10.  $y'' + 4y = x; y(0) = 1; y'(0) = \frac{\pi}{2}$ .

#### Варіант 25

1.  $y(1 + e^x)dy = e^x dx$ .
2.  $y' \cos x = y \ln y; y(0) = e$ .
3.  $\frac{xy' - y}{x + y} = \ln \frac{x + y}{x}$ .
4.  $xy' = y + x \cos \frac{y}{x}; y(1) = \frac{\pi}{2}$ .
5.  $y' \sin x + y \cos x = \sin^2 2x$ .
6.  $y' - \frac{1}{x}y = \frac{x}{(x - 2)^2}; y(1) = 0$ .
7.  $xy' - y = -y^2(\ln x + 2) \ln x; y(1) = 1$ .
8.  $xy' - y' = -y^2(\ln x + 2) \ln x$ .
9.  $x^2 y'' + xy' = 1$ .
10.  $y'' - 4y' + 5y = \sin x + 2 \cos x; y(0) = 0; y'(0) = 0$ .

**Варіант 26**

1.  $e^y(1+x^2)dy - 2x(1+e^y)dx = 0$ .
2.  $x^3y' + y = 7$ ;  $y(1) = 6$ .
3.  $xy' = 2\sqrt{3x^2 + y^2} + y$ .
4.  $xdy = \left(y + \sqrt{x^2 + y^2}\right)dx$ ;  $y(1) = 0$ .
5.  $y' + \frac{y}{\cos^2 x} = \frac{1}{1 - \sin^2 x}$ .
6.  $y' - \frac{1}{x}y = \ln x$ ;  $y(1) = 5$ .
7.  $y' + 4x^3y = 4(x^3 + 1)e^{-4x}y^2$ ;  $y(0) = 1$ .
8.  $y''(e^x + 1) + y' = 0$ .
9.  $y'' + 100y = 20\sin 10x - 30\cos 10x$ .
10.  $y'' + 11y' = 11xe^{-11x}$ ;  $y(0) = 0$ ;  $y'(0) = 11$ .

**Варіант 27**

1.  $2xy^2dx - ydy = yx^2dy - 6xdx$ .
2.  $(2xy + y)y' = 3 - y^2$ ;  $y(0) = 2$ .
3.  $x\cos\frac{y}{x}(ydx + xdy) = y\sin\frac{y}{x}(xdy - ydx)$ .
4.  $y' = \frac{y}{x}\ln\frac{y}{x}$ ;  $y(e) = 1$ .
5.  $y' + \frac{y}{x+1} = \sin 2x$ .
6.  $y' + \frac{y}{x+1} + x^2 = 0$ ;  $y(0) = 2$ .
7.  $y' - y\operatorname{tg} x = -\frac{2}{3}y^4\sin x$ ;  $y(0) = 1$ .

8.  $xy'' + y' - x^2 = 0$ .

9.  $y'' + 2y' - 3y = (8x + 6)e^x$ .

10.  $y'' - 13y' + 12y = x - 1$ ;  $y(1) = 3$ ;  $y'(1) = 2$ .

### Варіант 28

1.  $ye^{2x}dx + (1 + e^{2x})dy = 0$ .

2.  $xy' + y = y^2$ ;  $y(1) = 0,5$ .

3.  $(xy' - y) \operatorname{ctg} \frac{y}{x} = x$ .

4.  $2y' = \frac{y^2}{x^2} + 8\frac{y}{x} + 8$ ;  $y(1) = 1$ .

5.  $y' - \operatorname{ctg} xy = \frac{\cos^2 x}{\sin x}$ .

6.  $y' - \frac{1}{x}y = e^x x$ ;  $y(1) = 2$ .

7.  $2xy' - 3y = -(5x^2 + 3)y^3$ ;  $y(1) = 1$ .

8.  $y'' + (y')^2 = 2e^{-y}$ .

9.  $y'' + 2y' + 5y = 4\sin x + 22\cos x$ .

10.  $y'' + y' = e^x$ ;  $y(0) = 1$ ;  $y'(0) = 1$ .

### Варіант 29

1.  $3e^x \operatorname{tg} y dx + (1 + e^x) \frac{dy}{\cos^2 x} = 0$ .

2.  $(1 - e^x) \sin yy' = e^x \cos^3 y$ ;  $y(0) = \frac{\pi}{4}$ .

3.  $4x - 3y + y'(2x - 3y) = 0$ .

4.  $(y^2 - 2xy)dx + x^2 dy = 0$ ;  $y(1) = 2$ .

5.  $y' + \frac{y}{x-1} = \frac{\arcsin x}{\sqrt{1-x^2}}$ .
6.  $y' - \frac{1}{x}y = x \operatorname{tg} x; y(\pi) = \pi$ .
7.  $2xy' - 3y = -(5x^2 + 3)y^3; y(1) = 1$ .
8.  $xy'' = (y')^2$ .
9.  $y'' - 6y' + 9y = x^2 - x + 3; y(0) = \frac{4}{3}; y'(0) = \frac{1}{27}$ .
10.  $y'' - y' + 4y = 3e^{2x} - 4\sin 2x$ .

### Варіант 30

1.  $\sqrt{x} dy = (\sqrt{1-x} + \sqrt{x}) dx$ .
2.  $xy' \ln y - y = 0; y(1) = e^2$ .
3.  $xy' - y = x \operatorname{tg} \frac{y}{x}$ .
4.  $2x^3 y' = y(2x^2 - y^2); y(1) = 1$ .
5.  $y' + \frac{y}{x+2} = \frac{\operatorname{arctg} x}{1+x^2}$ .
6.  $y' - \frac{1}{x}y = 2x^2 \sqrt{x^2 + 5}; y(2) = 36$ .
7.  $x dy = (x^5 y^2 - 2y) dx; y(1) = 1$ .
8.  $y'' - 2y(y')^2 = 0$ .
9.  $y'' + y' - 2y = 4\sin x$ .
10.  $y'' + 6y' + 9y = 9xe^{-3x}; y(0) = 2; y'(0) = 1$ .

## Контрольні запитання

1. Які є типи відображення розв'язку диференціального рівняння в середовищі GNU Octave?
2. Які особливості введення в середовищі GNU Octave умови диференціального рівняння?
3. Яку функцію в середовищі GNU Octave використовують для розв'язання диференціальних рівнянь? Що є її аргументами?
4. Як визначити частинний розв'язок диференціального рівняння в середовищі GNU Octave?
5. Опишіть етапи розв'язання диференціального рівняння другого порядку.

## 9. Ряди

### Мета:

- ✚ вивчення основних операцій і функцій, за допомогою яких розв'язують задачі за темою «Ряди» в середовищі GNU Octave;
- ✚ закріплення теоретичних знань теми «Ряди»;
- ✚ набуття практичних навичок у розв'язанні задач за темою «Ряди» в середовищі GNU Octave.

### Компетентності:

- уміння використовувати інструментарій GNU Octave під час дослідження числових рядів на збіжність;
- знання визначення області збіжності степеневих рядів у середовищі GNU Octave;
- навички в розвиненні функції в ряд Тейлора.

### 9.1. Дослідження числових рядів на збіжність

Пригадаймо основні ознаки збіжності числових рядів  $\sum_n u_n$ .

*Необхідна ознака збіжності числового ряду:* якщо ряд  $\sum_n u_n$  збігається, то  $\lim_{n \rightarrow \infty} u_n = 0$ .

*Ознака порівняння (гранична форма):* якщо  $\lim_{n \rightarrow \infty} \frac{u_n}{v_n} = q$

та  $q \neq 0, q \neq \infty$ , то обидва ряди  $\sum_n u_n$  і  $\sum_n v_n$  одночасно збігаються або розбігаються. Ряд  $\sum_n v_n$  вважають еталонним.

*Ознака д'Аламбера:* якщо є скінченна границя  $q = \lim_{n \rightarrow \infty} \frac{u_{n+1}}{u_n}$ , то ряд

$\sum_n u_n$  збігається, якщо  $q < 1$ , розбігається, якщо  $q > 1$ , і за  $q = 1$  ознака відповіді на питання про збіжність не дає.

*Ознака Коші (радикальна):* якщо є скінченна границя  $q = \lim_{n \rightarrow \infty} \sqrt[n]{u_n}$ ,

то ряд  $\sum_n u_n$  збігається, якщо  $q < 1$ , розбігається, якщо  $q > 1$ , і за  $q = 1$  ознака відповіді на питання про збіжність не дає.

*Ознака Коші (інтегральна):* якщо  $f(x)$  – невід'ємна незростаюча функція, неперервна на проміжку  $[1, +\infty)$ , причому  $f(1) = u_1, f(2) = u_2, \dots,$

$f(n) = u_n, \dots$ , то в разі збіжності невласного інтеграла  $\int_1^{\infty} f(x) dx$  ряд  $\sum_{n=1}^{\infty} u_n$  є збіжним, у разі розбіжності невласного інтеграла  $\int_1^{\infty} f(x) dx$  ряд  $\sum_{n=1}^{\infty} u_n$  є розбіжним.

*Ознака Лейбніца (для знакопереміжних рядів):* якщо послідовність  $|u_n|, n = 1, 2, \dots$  монотонно спадає і водночас  $\lim_{n \rightarrow \infty} u_n = 0$ , то знакопереміжний ряд  $\sum_n (-1)^n u_n$  умовно збігається.

Якщо збігається й ряд  $\sum_n |u_n|$ , тоді  $\sum_n (-1)^n u_n$  є абсолютно збіжним рядом.

Отже, дослідження числових рядів на збіжність передбачає обчислення різноманітних границь. Тому основною функцією GNU Octave під час такого дослідження є функція `limit()`. У разі застосування інтегральної ознаки Коші слід використати функцію `int()`.

Обчислення суми ряду виконують за допомогою функції `symsum(un, n, a, b)`, де `un` – символічний вираз загального члена ряду,

$n$  – символна змінна загального члена ряду,  $a$  – початкове значення  $n$ ,  
 $b$  – кінцеве значення  $n$ .

**Зауваження:** формат визначеної відповіді суми ряду може бути поданим у вигляді гіпергеометричних функцій ( $\Gamma$ ), символного запису (якщо в GNU Octave не обчислено суму) або числа.

**Приклад 9.1.** Дослідіть ряди за допомогою *необхідної ознаки збіжності*:

$$\text{а) } \sum_{n=2} \left( \frac{2n+1}{2n-3} \right)^n ; \text{ б) } \sum_{n=1}^{\infty} \frac{n\sqrt{4n^2+1}}{5n^2-3} ; \text{ в) } \sum_{n=1} \frac{8}{3n-2}.$$

**Розв'язання.** Слід пригадати, що застосування функції `limit()` передбачає введення функції, границю якої обчислюють. Функцію в середовищі GNU Octave вводять у вигляді символного виразу, для чого потрібно встановити символні змінні:

а) визначмо символний вираз для загального члена ряду:

```
>>syms n
>>un=( (2*n+1) / (2*n-3) ) ^n
un = (sym)
```

$$\left( \frac{2 \cdot n + 1}{2 \cdot n - 3} \right)^n$$

Перевірмо необхідну умову збіжності:

```
>>limit(un, 'n', Inf)
ans = (sym)
```

$$2$$
$$e$$

Необхідну умову збіжності не виконано, тому ряд є розбіжним;

б) виконуймо дії, аналогічні діям із п. а):

```
>>syms n
>>un=(n*sqrt(4*n^2+1))/(5*n^2-3)
un = (sym)
```

$$\frac{n \cdot \sqrt{4 \cdot n^2 + 1}}{5 \cdot n^2 - 3}$$

Перевірмо необхідну умову збіжності:

```
>>limit(un, 'n', Inf)
ans = (sym) 2/5
```

Необхідну умову збіжності не виконано, тому ряд є розбіжним;

```
в) >>syms n
>>un=8/(3*n-2)
un = (sym)
```

$$\frac{8}{3 \cdot n - 2}$$

```
>>limit(un, 'n', Inf)
ans = (sym) 0
```

Необхідну умову виконано, тому слід продовжити дослідження та застосувати відповідну достатню ознаку збіжності (у цьому прикладі доцільно застосувати ознаку порівняння).

**Приклад 9.2.** Дослідіть ряди на збіжність за допомогою *ознаки порівняння* та в разі збіжності обчисліть їхню суму:

а)  $\sum_{n=1}^{\infty} \frac{8}{3n-2}$ ; б)  $\sum_{n=1}^{\infty} \frac{1}{(3n-2)(3n+4)}$ .

Розв'язання.

а) як еталонний виберімо гармонійний ряд  $\sum_{n=1}^{\infty} \frac{1}{n}$ , загальний член

якого  $v_n = \frac{1}{n}$ , цей ряд є розбіжним:

```
>>syms n
>>un=8/(3*n-2);
```

Визначмо  $v_n$ :

```
>>vn=1/n
vn = (sym)
  1
  -
  n
```

Згідно з формулюванням *ознаки порівняння*, якщо  $\lim_{n \rightarrow \infty} \frac{u_n}{v_n} = q$

та  $q \neq 0, q \neq \infty$ , то обидва ряди одночасно збігаються або розбігаються.

Обчислімо цю границю:

```
>>q=limit(un/vn, 'n', Inf)
q = (sym) 8/3
```

Отже, оскільки ряд  $\sum_{n=1}^{\infty} \frac{1}{n}$  є розбіжним і  $q = \frac{8}{3}, q \neq 0, q \neq \infty$ , то й ряд

$\sum_{n=1}^{\infty} \frac{8}{3n-2}$  також є розбіжним;

б) як еталонний виберімо узагальнений гармонійний ряд  $\sum_{n=1}^{\infty} \frac{1}{n^2}$ ,

загальний член якого  $v_n = \frac{1}{n^2}$ , цей ряд є збіжним:

```
>>syms n
>>un=1/((3*n-2)*(3*n+4))
```

$$un = \text{(sym)} \frac{1}{(3 \cdot n - 2) \cdot (3 \cdot n + 4)}$$

$$\gg vn = 1/n^2$$

$$vn = \text{(sym)}$$

$$\frac{1}{n^2}$$

$$\gg q = \text{limit}(un/vn, 'n', \text{Inf})$$

$$q = \text{(sym)} \ 1/9$$

Отже, оскільки ряд  $\sum_{n=1}^{\infty} \frac{1}{n^2}$  є збіжним і  $q = \frac{1}{9}$ ,  $q \neq 0$ ,  $q \neq \infty$ , то й ряд

$\sum_{n=1}^{\infty} \frac{1}{(3n-2)(3n+4)}$  також є збіжним.

Обчислімо суму ряду:

$$\gg \text{symsum}(un, n, 1, \text{inf})$$

$$\text{ans} = \text{(sym)}$$

$$\frac{5 \cdot \Gamma(10/3)}{56 \cdot \Gamma(7/3)}$$

Визначили відповідь у вигляді гіпергеометричних функцій.

Спробуймо обчислити часткову суму ряду, наприклад, для перших десяти членів ряду:

$$\gg \text{symsum}(un, n, 1, 10)$$

$$\text{ans} = \text{(sym)}$$

$$\frac{835}{4216}$$

Отже, визначили відповідь у вигляді звичайного дробу.

**Приклад 9.3.** Дослідіть ряди на збіжність за допомогою ознаки Д'Аламбера:

$$\text{а) } \sum_{n=1}^{\infty} \frac{\sqrt{n}5^n}{(2n+1)!}; \quad \text{б) } \sum_{n=1}^{\infty} \frac{5^n n^2}{2^n}.$$

*Розв'язання.* Обчислімо  $q = \lim_{n \rightarrow \infty} \frac{u_{n+1}}{u_n}$ , використовуючи функцію `subs`

для визначення  $u_{n+1}$ :

```
а) >>syms n
>>un=sqrt(n)*5^n/sym('(2*n+1)!')
un = (sym)
      n
      5 *√n
      -----
      (2·n + 1)!
```

```
>>q=limit(subs(un,'n',n+1)/un,'n',Inf)
q = (sym) 0
```

Визначили, що  $q < 1$ , отже, ряд  $\sum_{n=1}^{\infty} \frac{\sqrt{n}5^n}{(2n+1)!}$  є збіжним.

Обчислімо суму ряду:

```
>>symsum(un,n,1,inf)
ans = (sym)
      ∞
      -----
      \
      \      n
      \      5 *√n
      / -----
      /      (2·n + 1) !
      /
      -----
n = 1
```

Визначили відповідь у вигляді символьного виразу, тобто в середовищі GNU Octave суму ряду не обчислено.

Спробуймо обчислити часткову суму ряду, наприклад, для перших десяти членів ряду:

```
>>symsum(un,n,1,10)
ans = (sym)
```

$$\frac{15625 \cdot \sqrt{10}}{81745507474735104} + \frac{625 \cdot \sqrt{7}}{10461394944} + \frac{625 \cdot \sqrt{6}}{249080832} + \frac{125 \cdot \sqrt{5}}{1596672} + \frac{25 \cdot \sqrt{3}}{1008} + \frac{296406193205 \cdot \sqrt{2}}{1422749712384} - \frac{271439849656585}{324386934423552}$$

Визначили відповідь у вигляді суми дробів;

```
б) >>syms n
>>un=(n^2)*5^n/(2^n)
un = (sym)
      -n  n  2
      2  ·5 ·n
```

```
>>q=limit(subs(un,'n',n+1)/un,'n',Inf)
q = (sym) 5/2
```

Визначили, що  $q > 1$ , отже, ряд  $\sum_{n=1}^{\infty} \frac{5^n n^2}{2^n}$  є розбіжним.

**Приклад 9.4.** Дослідіть ряд на збіжність за допомогою *радикальної*

ознаки Коші:  $\sum_{n=1}^{\infty} \left( \frac{2n+3}{5n-1} \right)^n$ .

*Розв'язання:*

Обчислімо  $q = \lim_{n \rightarrow \infty} \sqrt[n]{u_n}$ :

```
>>syms n
>>un=((2*n+3)/(5*n-1))^n
```

```
un = (sym)
```

$$\left( \frac{2 \cdot n + 3}{5 \cdot n - 1} \right)^n$$

```
>>q=limit(un^(1/n), 'n', Inf)
```

```
q = (sym) 2/5
```

Визначили, що  $q < 1$ , отже, ряд  $\sum_{n=1}^{\infty} \left( \frac{2n+3}{5n-1} \right)^n$  є збіжним.

**Приклад 9.5.** Дослідіть ряд на збіжність за допомогою *інтегральної*

*ознаки Коші*: а)  $\sum_{n=4}^{\infty} \frac{1}{(3n-6)\ln(n-2)}$ ; б)  $\sum_{n=1}^{\infty} \frac{e^{-n}}{2}$ .

*Розв'язання.* За інтегральною ознакою Коші слід дослідити на збіжність відповідний невластний інтеграл:

а) обчислюймо невластний інтеграл, який відповідає ряду

$$\sum_{n=4}^{\infty} \frac{1}{(3n-6)\ln(n-2)}:$$

```
>>syms x
```

```
>> f=1/((3*x-6)*log(x-2))
```

```
f = (sym)
```

$$1$$

---

$$(3 \cdot x - 6) \cdot \log(x - 2)$$

```
>>int(f,0,Inf)
```

```
ans = (sym) nan
```

Маємо відповідь у вигляді значення, яке не є числовим, тобто невластний інтеграл є розбіжним. Тому ряд  $\sum_{n=4}^{\infty} \frac{1}{(3n-6)\ln(n-2)}$  також є розбіжним;

б) обчислюймо невластний інтеграл, який відповідає ряду  $\sum_{n=1}^{\infty} \frac{e^{-n}}{2}$ :

```
>>syms x
>> f=exp(-x)/2
f = (sym)
      -x
      e
      —
      2
>>int(f,0,Inf)
ans = (sym) 1/2
```

Маємо скінчене значення невластного інтеграла. Отже, невластний інтеграл є збіжним, тому вихідний ряд також є збіжним.

**Приклад 9.6.** З'ясуйте, чи є цей ряд абсолютно збіжним, умовно збіжним або розбіжним:  $\sum_{n=1}^{\infty} (-1)^{n+1} \frac{3^n}{(2n+1)^n}$ .

*Розв'язання.* Цей ряд є знакозмінним  $\sum_{n=1}^{\infty} (-1)^n u_n$ , тому для з'ясування питання про збіжність слід скористатися ознакою Лейбніца.

Перевіримо виконання двох умов: 1)  $\lim_{n \rightarrow \infty} u_n = 0$  (необхідна ознака збіжності ряду); 2) починаючи з деякого номера  $n$ , члени ряду мають утворювати монотонно спадну послідовність:

```
>>syms n
>>un=3^n/((2*n+1)^n)
un = (sym)
      n          -n
      3 ·(2·n + 1)
>>limit(un,'n',Inf)
ans = (sym) 0
```

Отже, першу умову ознаки Лейбніца виконано.

Перевірмо виконання другої умови, за допомогою функції `subs` визначмо 10 перших членів ряду:

```
>>subs(un,'n',[1:10]')
ans = (sym 10×1 matrix)
[      1
 9/25
 27
 ———
343
 1/81
 243
 ———
161051
 729
 ———
4826809
 1/78125
 6561
 ———
6975757441
 19683
 ———
322687697779
 1/282475249 ]
```

Бачмо, що виконано другу умову ознаки Лейбніца, тобто, починаючи з першого члена, послідовність є монотонно спадною. Обидві умови виконано, тому ряд є умовно збіжним.

З'ясуємо питання про абсолютну збіжність, тобто дослідимо на збіжність ряд, складений із модулів членів заданого знакопереміжного ряду:

$$\sum_{n=1}^{\infty} \frac{3^n}{(2n+1)^n}.$$

Застосуємо радикальну ознаку Коші:

```
>>syms n
>>un=3^n/((2*n+1)^n);
>>q=limit(un^(1/n),'n',Inf)
q = (sym) 0
```

Визначили, що  $q < 1$ , отже, ряд  $\sum_{n=1}^{\infty} \frac{3^n}{(2n+1)^n}$  є збіжним, тому вихідний знакопереміжний ряд є абсолютно збіжним.

## 9.2. Степеневий ряд та його збіжність

Відомо, що степеневий ряд  $\sum_n c_n (x - x_0)^n$  абсолютно збігається за умови, що  $x_0 - R < x < x_0 + R$  – інтервал збіжності ряду, де  $R$  – радіус збіжності ряду.

$R$  може бути обчислено за такими формулами:

$$R = \lim_{n \rightarrow \infty} \frac{c_n}{c_{n+1}} \quad \text{або} \quad R = \lim_{n \rightarrow \infty} \frac{1}{\sqrt[n]{c_n}}.$$

Поняття *інтервалу збіжності* та поняття *області збіжності* степеневого ряду є близькими, але не тотожними, тому що до області збіжності може належати не тільки інтервал збіжності, а й обидва його кінця або ж один із його кінців.

Щоб визначити *область збіжності* степеневого ряду, слід у точках кінців інтервалу збіжності  $x = x_0 + R$  та  $x = x_0 - R$  визначити числові ряди  $\sum_n c_n R^n$  або  $\sum_n (-1)^n c_n R^n$  і дослідити їх на збіжність за ознаками збіжності числових рядів або за допомогою ознаки збіжності знакопереміжного ряду.

**Приклад 9.7.** Визначте області збіжності степеневих рядів:

а)  $\sum_{n=1}^{\infty} \frac{2^n x^n}{(2n+1)!}$ ; б)  $\sum_{n=1}^{\infty} \frac{3^n x^n}{4n-3}$ ; в)  $\sum_{n=1}^{\infty} \frac{(x-2)^n}{\sqrt{n}}$ .

**Розв'язання:**

а) визначмо  $c_n$  та обчислимо радіус збіжності:

```
>>syms n
>>cn=2^n/(2*n+1)
cn = (sym)
      n
      2
      -----
      (2·n + 1)!
```

```
>>R=limit(cn/subs(cn,'n',n+1),'n',Inf)
R = (sym) ∞
```

Отже, ряд збігається для  $x \in R$ ;

б) визначмо  $c_n$  та обчислимо радіус збіжності:

```
>>syms n
>>cn=3^n/(4*n-3)
cn = (sym)
      n
      3
      -----
      4·n - 3
```

```
>>R=limit(cn/subs(cn,'n',n+1),'n',Inf)
R = (sym) 1/3
```

Отже, за  $-1/3 < x < 1/3$  ряд збігається абсолютно.

З'ясуємо питання про збіжність ряду на кінцях визначеного інтервалу  $x = \pm 1/3$ .

Спочатку підставмо  $x=1/3$  до ряду й обчислімо числовий ряд  $\sum_{n=1} \frac{1}{4n-3}$ , тоді:

```
>>un=1/(4*n-3)
un = (sym)
      1
      —
  4·n - 3
```

Для дослідження збіжності цього ряду скористаймося ознакою порівняння.

Для порівняння візьмемо ряд  $\sum_{n=1} \frac{1}{n}$ ,  $\left(v_n = \frac{1}{n}\right)$ , який є розбіжним, та обчислімо відповідну границю:

```
>>vn=1/n
vn = (sym)
      1
      —
      N

>>q=limit(un/vn, 'n', Inf)
q = (sym) 1/4
```

Оскільки ряд  $\sum_{n=1} \frac{1}{n}$  є розбіжним, то й ряд  $\sum_{n=1} \frac{1}{4n-3}$  також є розбіжним.

Тепер підставмо  $x=-1/3$  до ряду й обчислімо числовий знакопереміжний ряд  $\sum_{n=1} \frac{(-1)^n}{4n-3}$ , який будемо досліджувати за допомогою ознаки Лейбніца:

```
>>subs(un, 'n', [1:10]')
```

```
ans = (sym 10x1 matrix)
[ 1
 1/5
 1/9
 1/13
 1/17
 1/21
 1/25
 1/29
 1/33
 1/37]
```

Отже, виконано умову про монотонне спадання.

Перевірмо умову  $\lim_{n \rightarrow \infty} u_n = 0$ :

```
>>limit(Un, 'n', Inf)
ans = (sym) 0
```

Другу умову також виконано, тому ряд  $\sum_{n=1}^{\infty} \frac{(-1)^n}{4n-3}$  збігається умовно.

Отже, областю збіжності вихідного ряду  $\sum_{n=1}^{\infty} \frac{3^n x^n}{4n-3} \in [-1/3; 1/3)$ ;

в) позначмо  $x-2 = z$ , тоді  $u_n = \frac{z^n}{\sqrt{n}}$ ,  $c_n = \frac{1}{\sqrt{n}}$ .

Обчислімо радіус збіжності ряду  $R$ :

```
>>syms n
>>cn=1/sqrt(n)
```

$$cn = (\text{sym})$$

$$\frac{1}{\sqrt{n}}$$

```
>>R=limit(cn/subs(cn,'n',n+1),'n',Inf)
R = (sym) 1
```

Отже, для  $-1 < z < 1$  ряд  $\sum_{n=1}^{\infty} \frac{z^n}{\sqrt{n}}$  збігається абсолютно.

З'ясуємо питання про збіжність ряду на кінцях визначеного інтервалу  $z = \pm 1$ .

Підставмо  $z = 1$  до ряду  $\sum_{n=1}^{\infty} \frac{z^n}{\sqrt{n}}$  та обчислимо числовий ряд  $\sum_{n=1}^{\infty} \frac{1}{\sqrt{n}}$ , який є розбіжним як узагальнений ряд Діріхле.

Підставмо  $z = -1$  до ряду  $\sum_{n=1}^{\infty} \frac{z^n}{\sqrt{n}}$  та обчислимо числовий знакочередуваний ряд  $\sum_{n=1}^{\infty} \frac{(-1)^n}{\sqrt{n}}$ , який будемо досліджувати за допомогою ознаки Лейбніца:

```
>>syms n
>>un=1/sqrt(n)
un = (sym)
  1
  —
  √n

>>subs(un,'n',[1:10]')

ans = (sym 10×1 matrix)
  [ 1 ]
  [ √2 ]
  [ — ]
  [ 2 ]
```

$$\left[ \begin{array}{c} \sqrt{3} \\ \hline 3 \\ 1/2 \\ \sqrt{5} \\ \hline 5 \\ \sqrt{6} \\ \hline 6 \\ \sqrt{7} \\ \hline 7 \\ \sqrt{2} \\ \hline 4 \\ 1/3 \\ \sqrt{10} \\ \hline 10 \end{array} \right]$$

Отже, виконано умову про монотонне спадання.

Перевірмо умову  $\lim_{n \rightarrow \infty} u_n = 0$ :

```
>>limit(Un, 'n', Inf)
ans = (sym) 0
```

Другу умову також виконано, тому ряд  $\sum_{n=1}^{\infty} \frac{(-1)^n}{\sqrt{n}}$  збігається умовно.

Отже, областю збіжності ряду  $\sum_{n=1}^{\infty} \frac{z^n}{\sqrt{n}}$  є  $[-1; 1)$ .

Повертаючись до змінної  $x$  ( $z = x - 2$ ), визначмо  $-1 \leq x - 2 < 1$ , тобто  $1 \leq x < 3$ .

### 9.3. Степеневі ряди Тейлора та Маклорена

Слід пригадати: якщо функція  $f(x)$  розвинеться в степеневий ряд, то цей ряд має такий вигляд:

$$f(x) = f(a) + \frac{f'(a)}{1!}(x-a) + \frac{f''(a)}{2!}(x-a)^2 + \dots + \frac{f^{(n)}(a)}{n!}(x-a)^n + \dots,$$

Його називають *рядом Тейлора* для функції  $f(x)$  в околі точки  $x = a$ .  
Окремим випадком ряду Тейлора за  $a = 0$  є *ряд Маклорена*:

$$f(x) = f(0) + \frac{f'(0)}{1!}x + \frac{f''(0)}{2!}x^2 + \dots + \frac{f^n(0)}{n!}x^n + \dots$$

У середовищі GNU Octave розвинення аналітичної функції в ряд Маклорена можна здійснити за допомогою функції `taylor(f)`, яка повертає шість членів ряду Тейлора в точці  $x = 0$  для функції  $f(x)$ .

**Приклад 9.8.** Розвиньте в ряд Маклорена функції: а)  $f(x) = \ln(1+x)$ ;  
б)  $f(x) = e^{3x}$ .

*Розв'язання:*

а) спочатку слід увести символічний вираз функції:

```
>>syms x
>>f=log(1+x)
f = (sym) log(x + 1)
```

Далі розвиньмо функцію:

```
>>taylor(f)
```

```
ans = (sym)
```

$$\frac{x^5}{5} - \frac{x^4}{4} + \frac{x^3}{3} - \frac{x^2}{2} + x$$

Отже, визначено п'ять членів ряду, оскільки перший член дорівнює нулю;

```
б) >>syms x
>>f=exp(3*x)
f = (sym)
  3·x
  e
```

Далі розвинемо функцію:

```
>>taylor(f)
ans = (sym)
      5      4      3      2
  81·x  27·x  9·x  9·x
  ---- + ---- + ---- + ---- + 3·x + 1
   40    8    2    2
```

Визначено шість членів ряду Маклорена функції  $f(x) = e^{3x}$ .

## 9.4. Завдання для самостійної роботи

1. Дослідіть на збіжність числові ряди.
2. З'ясуйте, чи є цей ряд абсолютно збіжним, умовно збіжним або розбіжним.
3. Обчисліть області збіжності степеневих рядів.

### Варіант 1

1. а)  $\sum_{n=1}^{\infty} \frac{4^n}{(n+1)!}$ ; б)  $\sum_{n=1}^{\infty} \frac{4n^3+1}{n^3+n}$ .

2.  $\sum_{n=1}^{\infty} (-1)^{n+1} \left( \frac{n}{2n+1} \right)^n$ .

3. а)  $\sum_{n=1}^{\infty} \frac{x^n}{2n-1}$ ; б)  $\sum_{n=1}^{\infty} \frac{(x-2)^n n}{2n-1}$ .

### Варіант 2

1. а)  $\sum_{n=1}^{\infty} \frac{2^{n-1}}{4n-1}$ ; б)  $\sum_{n=1}^{\infty} \frac{n+4}{\sqrt{n}}$ .

2.  $\sum_{n=1}^{\infty} \frac{(-1)^{n+1}}{(2n+1)!}$ .

3. а)  $\sum_{n=1}^{\infty} \frac{x^{n+1}}{n^5 5^n}$ ; б)  $\sum_{n=1}^{\infty} \frac{(x-2)^{2n}}{3n \cdot 3^n}$ .

### Варіант 3

1. а)  $\sum_{n=1}^{\infty} \frac{(n+2)!}{5+n}$ ; б)  $\sum_{n=1}^{\infty} \left( \frac{n+4}{2n+1} \right)^n$ .

2.  $\sum_{n=1}^{\infty} \frac{(-1)^n n}{4n^2-6}$ .

3. а)  $\sum_{n=1}^{\infty} \frac{3^n x^n}{n\sqrt{n+1}}$ ; б)  $\sum_{n=1}^{\infty} \frac{x^{2n} n}{n+1}$ .

### Варіант 4

1. а)  $\sum_{n=1}^{\infty} \frac{n-7}{n^4+2}$ ; б)  $\sum_{n=1}^{\infty} \frac{n!}{3^n}$ .

2.  $\sum_{n=1}^{\infty} (-1)^{n+1} \frac{1}{(2n-1)^2}$ .

3. а)  $\sum_{n=1}^{\infty} \frac{nx^n}{3^n(n+1)}$ ; б)  $\sum_{n=1}^{\infty} \frac{(n+1)(x+3)^{2n}}{2n+3}$ .

**Варіант 5**

1. а)  $\sum_{n=1}^{\infty} \frac{n+6}{(n+3)(n^2+2)}$ ; б)  $\sum_{n=1}^{\infty} \frac{5^n}{2n+1}$ .
2.  $\sum_{n=1}^{\infty} \frac{(-1)^n \cdot 2^n}{3n+1}$ .
3. а)  $\sum_{n=1}^{\infty} \frac{9^n x^{n+1}}{n+1}$ ; б)  $\sum_{n=1}^{\infty} \frac{(x-3)^n}{(2n+1)\sqrt{2n+1}}$ .

**Варіант 6**

1. а)  $\sum_{n=1}^{\infty} \frac{5n+7}{2n+1}$ ; б)  $\sum_{n=1}^{\infty} \frac{(n+1)!}{4^n}$ .
2.  $\sum_{n=1}^{\infty} (-1)^{n+1} \frac{n^3}{2^n}$ .
3. а)  $\sum_{n=1}^{\infty} \frac{2^n x^n}{n(n+1)}$ ; б)  $\sum_{n=1}^{\infty} \frac{(x-2)^n}{(2n-1)2^n}$ .

**Варіант 7**

1. а)  $\sum_{n=1}^{\infty} \sin n$ ; б)  $\sum_{n=1}^{\infty} \frac{n}{(3n-1)!}$ .
2.  $\sum_{n=1}^{\infty} \frac{(-1)^n (n+1)}{5^n}$ .
3. а)  $\sum_{n=1}^{\infty} \frac{(n+1)x^n}{2^n(n^2+1)}$ ; б)  $\sum_{n=1}^{\infty} \frac{x^{4n}}{5^5(n+2)}$ .

**Варіант 8**

1. а)  $\sum_{n=1}^{\infty} \left( \frac{3n+4}{2n+1} \right)^n$ ; б)  $\sum_{n=1}^{\infty} \frac{(n-1)!}{6^n}$ .
2.  $\sum_{n=1}^{\infty} \frac{(-1)^{n-1}}{n^2+5}$ .
3. а)  $\sum_{n=1}^{\infty} \frac{2^n x^n}{\sqrt{(2n-1)3^n}}$ ; б)  $\sum_{n=1}^{\infty} \frac{(3n-2)(x-3)^n}{(n+1^2)2^{n+1}}$ .

### Варіант 9

1. а)  $\sum_{n=1}^{\infty} \frac{n}{3n^2 + 6n + 7}$ ; б)  $\sum_{n=1}^{\infty} \frac{n}{(2n)!}$ .

2.  $\sum_{n=1}^{\infty} \frac{(-1)^n n^2}{3n - 4}$ .

3. а)  $\sum_{n=1}^{\infty} \frac{x^n}{n10^{n-1}}$ ; б)  $\sum_{n=1}^{\infty} \frac{nx^{2n}}{(n+1)2^n}$ .

### Варіант 10

1. а)  $\sum_{n=1}^{\infty} \frac{1}{\ln^n(n+1)}$ ; б)  $\sum_{n=1}^{\infty} \frac{4n}{n^3 + 5}$ .

2.  $\sum_{n=1}^{\infty} (-1)^n \frac{2n^2}{n^4 - n^2 + 1}$ .

3. а)  $\sum_{n=1}^{\infty} \frac{(n^3)x^n}{3^n(n^2 + 3)}$ ; б)  $\sum_{n=1}^{\infty} \frac{\sqrt[3]{n}(x-2)^n}{n+1}$ .

### Варіант 11

1. а)  $\sum_{n=1}^{\infty} \frac{n^2}{2^n}$ ; б)  $\sum_{n=1}^{\infty} \frac{n}{(2n+1)^2 - 1}$ .

2.  $\sum_{n=1}^{\infty} \frac{(-1)^{n-1}}{n \cdot (2n+1)!}$ .

3. а)  $\sum_{n=1}^{\infty} \frac{x^n}{n(n+3)}$ ; б)  $\sum_{n=1}^{\infty} \frac{5^n \sqrt{nx}^{4n}}{4^n}$ .

### Варіант 12

1. а)  $\sum_{n=1}^{\infty} \frac{n}{(n+1)^3}$ ; б)  $\sum_{n=1}^{\infty} \frac{n^3}{(2n)!}$ .

2.  $\sum_{n=1}^{\infty} \frac{(-1)^n \cdot 2^n}{3n+1}$ .

3. а)  $\sum_{n=1}^{\infty} \frac{x^n}{(2n-1)!}$ ; б)  $\sum_{n=1}^{\infty} \frac{(x+2)^n}{n!}$ .

**Варіант 13**

$$1. \text{ а) } \sum_{n=1}^{\infty} \frac{1}{\sqrt{n(n-1)}}; \text{ б) } \sum_{n=1}^{\infty} \frac{5^n (n+1)^2}{3^n}.$$

$$2. \sum_{n=1}^{\infty} \frac{(-1)^n}{n \cdot 6^n}.$$

$$3. \text{ а) } \sum_{n=1}^{\infty} \frac{n! x^n}{(2n-1)!}; \text{ б) } \sum_{n=1}^{\infty} \frac{(x-2)^n}{(3n+1)2^n}.$$

**Варіант 14**

$$1. \text{ а) } \sum_{n=1}^{\infty} \frac{n^3}{(2n)!}; \text{ б) } \sum_{n=1}^{\infty} \frac{1}{\sqrt{(2n-1)(2n+1)}}.$$

$$2. \sum_{n=1}^{\infty} (-1)^{n-1} \frac{1}{(n+1)2^{2n}}.$$

$$3. \text{ а) } \sum_{n=1}^{\infty} 3^{n^2} x^n; \text{ б) } \sum_{n=1}^{\infty} \frac{(x+5)^{2n-1}}{(2n-1)4^n}.$$

**Варіант 15**

$$1. \text{ а) } \sum_{n=1}^{\infty} \frac{2n+1}{n(n+1)}; \text{ б) } \sum_{n=1}^{\infty} \frac{(n!)^2}{2n^2}.$$

$$2. \sum_{n=1}^{\infty} (-1)^n \frac{2n+1}{n^2(n+1)}.$$

$$3. \text{ а) } \sum_{n=1}^{\infty} \frac{5^n x^n}{\sqrt{3^n} (2n+1)^2}; \text{ б) } \sum_{n=1}^{\infty} \frac{(x-3)^n}{(n+1)5^n}.$$

**Варіант 16**

$$1. \text{ а) } \sum_{n=1}^{\infty} \frac{4^n}{(2^n+1)^2}; \text{ б) } \sum_{n=1}^{\infty} \left( \frac{n}{2n+1} \right)^n.$$

$$2. \sum_{n=1}^{\infty} (-1)^n \frac{n^3}{(n+1)!}.$$

$$3. \text{ а) } \sum_{n=1}^{\infty} \frac{x^n}{5^n}; \text{ б) } \sum_{n=1}^{\infty} \frac{(x-5)^{2n+1}}{3n+8}.$$

**Варіант 17**

$$1. \text{ a) } \sum_{n=1}^{\infty} \frac{n^2}{2n^2 + 1}; \text{ б) } \sum_{n=1}^{\infty} \frac{10^n 2n!}{(2n)!}.$$

$$2. \sum_{n=1}^{\infty} (-1)^n \frac{1}{4^n (2n+1)}.$$

$$3. \text{ a) } \sum_{n=1}^{\infty} \frac{3^n x^n}{\sqrt{(1+4n)5^n}}; \text{ б) } \sum_{n=1}^{\infty} \frac{(x-4)^n}{(3n+1)4^n}.$$

**Варіант 18**

$$1. \text{ a) } \sum_{n=1}^{\infty} \left( \frac{n+2}{3n-1} \right)^{n^2}; \text{ б) } \sum_{n=1}^{\infty} \frac{n}{n^2 + 1}.$$

$$2. \sum_{n=1}^{\infty} (-1)^n \frac{5^n}{(2n)!}.$$

$$3. \text{ a) } \sum_{n=1}^{\infty} \frac{x^n}{3^n (n+2)!}; \text{ б) } \sum_{n=1}^{\infty} \frac{(x-1)^{2n}}{n9^n}.$$

**Варіант 19**

$$1. \text{ a) } \sum_{n=1}^{\infty} \frac{1}{n^2 + 2n}; \text{ б) } \sum_{n=1}^{\infty} \frac{n^2}{(n+2)!}.$$

$$2. \sum_{n=1}^{\infty} (-1)^{n+1} \frac{1}{n^4 \sqrt{2n+3}}.$$

$$3. \text{ a) } \sum_{n=1}^{\infty} \frac{n! x^n}{n}; \text{ б) } \sum_{n=1}^{\infty} \frac{(x+5)^n}{\sqrt{n^2 + 1} \sqrt[3]{n+1}}.$$

**Варіант 20**

$$1. \text{ a) } \sum_{n=1}^{\infty} \frac{1}{\sqrt{n(n-1)}}; \text{ б) } \sum_{n=1}^{\infty} \frac{6^n (n^2 - 1)}{n!}.$$

$$2. \sum_{n=1}^{\infty} (-1)^n \frac{n+1}{\sqrt{n^3}}.$$

$$3. \text{ a) } \sum_{n=1}^{\infty} \frac{x^n}{\sqrt{n}}; \text{ б) } \sum_{n=1}^{\infty} \frac{(x-7)^n}{(2n^2 - 5n)4^n}.$$

**Варіант 21**

$$1. \text{ а) } \sum_{n=1}^{\infty} \frac{n}{(2n+1)^2 - 1}; \text{ б) } \sum_{n=1}^{\infty} \left( \frac{1+n}{n} \right)^{n/3}.$$

$$2. \sum_{n=1}^{\infty} (-1)^n \frac{n}{7^n}.$$

$$3. \text{ а) } \sum_{n=1}^{\infty} \frac{n! x^n}{3^n}; \text{ б) } \sum_{n=1}^{\infty} \frac{(x+4)^n (n^2 + 1)}{5^n}.$$

**Варіант 22**

$$1. \text{ а) } \sum_{n=1}^{\infty} \frac{n}{(n+1)^3}; \text{ б) } \sum_{n=1}^{\infty} \frac{n}{2^{n^2}}.$$

$$2. \sum_{n=1}^{\infty} (-1)^n \frac{1}{\sqrt{n(n+1)}}.$$

$$3. \text{ а) } \sum_{n=1}^{\infty} \frac{3^n n! x^n}{(n+1)^n}; \text{ б) } \sum_{n=1}^{\infty} \frac{\sqrt{n}(x-2)^n}{n^2 + 1}.$$

**Варіант 23**

$$1. \text{ а) } \sum_{n=1}^{\infty} \frac{n\sqrt{4n^2+1}}{5n^2-3}; \text{ б) } \sum_{n=1}^{\infty} \frac{(n+1)!}{n^5}.$$

$$2. \sum_{n=1}^{\infty} (-1)^{n+1} \frac{1+2n}{3n^2+4}.$$

$$3. \text{ а) } \sum_{n=1}^{\infty} \frac{3^n x^n}{n!}; \text{ б) } \sum_{n=1}^{\infty} \frac{(x+2)^n}{2^n n^2}.$$

**Варіант 24**

$$1. \text{ а) } \sum_{n=1}^{\infty} \frac{2^n}{3n!}; \text{ б) } \sum_{n=1}^{\infty} \frac{1}{2^n} \left( \frac{n+1}{n} \right)^{n^2}.$$

$$2. \sum_{n=1}^{\infty} (-1)^n \frac{\sqrt{n} 5^n}{(2n+1)!}.$$

$$3. \text{ а) } \sum_{n=1}^{\infty} \frac{n^2 x^n}{n+1}; \text{ б) } \sum_{n=1}^{\infty} \frac{(x+2)^n}{(2n+1)3^n}.$$

**Варіант 25**

$$1. \text{ а) } \sum_{n=1}^{\infty} \left( \frac{2n+1}{5n+4} \right)^{2n}; \text{ б) } \sum_{n=1}^{\infty} \frac{5^n}{3^n(2n+1)}.$$

$$2. \sum_{n=1}^{\infty} (-1)^n \left( \frac{n}{2n-1} \right)^{2n}.$$

$$3. \text{ а) } \sum_{n=1}^{\infty} \frac{10x^n}{\sqrt{n}}; \text{ б) } \sum_{n=1}^{\infty} \frac{\sqrt{n+1}(x+3)^n}{3^n}.$$

**Варіант 26**

$$1. \text{ а) } \sum_{n=1}^{\infty} \frac{2^n n!}{n^n}; \text{ б) } \sum_{n=1}^{\infty} \frac{4n-3}{\sqrt{n}3^n}.$$

$$2. \sum_{n=1}^{\infty} (-1)^n \frac{4^n}{(2^n+1)^2}.$$

$$3. \text{ а) } \sum_{n=1}^{\infty} \frac{x^n}{n5^{n+1}}; \text{ б) } \sum_{n=1}^{\infty} \frac{(x-3)^n n^2}{(n^4+1)^2}.$$

**Варіант 27**

$$1. \text{ а) } \sum_{n=1}^{\infty} \frac{e^{2n} n!}{n^n}; \text{ б) } \sum_{n=1}^{\infty} \frac{2n^3-3}{n^4+3n}.$$

$$2. \sum_{n=1}^{\infty} \frac{(-1)^{n-1}}{\sqrt{4n+1}}.$$

$$3. \text{ а) } \sum_{n=1}^{\infty} \frac{7^n x^n}{5^n+3^n}; \text{ б) } \sum_{n=1}^{\infty} \frac{(x-1)^n}{2^n(n+3)!}.$$

**Варіант 28**

$$1. \text{ а) } \sum_{n=2}^{\infty} 2^n \left( \frac{n-1}{n} \right)^{n^2}; \text{ б) } \sum_{n=1}^{\infty} \frac{3^n}{(n+1)!4^{n+1}}.$$

$$2. \sum_{n=1}^{\infty} (-1)^{n+1} \frac{n!}{n^2 2^n}.$$

$$3. \text{ а) } \sum_{n=1}^{\infty} \frac{x^n(n+1)}{3^n(n+2)}; \text{ б) } \sum_{n=1}^{\infty} \frac{n!(x+10)^n}{n^2}.$$

### Варіант 29

$$1. \text{ а) } \sum_{n=1}^{\infty} \frac{2^n}{3n!}; \text{ б) } \sum_{n=1}^{\infty} \frac{2n+n^2}{n^4-6n}.$$

$$2. \sum_{n=1}^{\infty} (-1)^{n+1} \frac{n^2}{6^n+2}.$$

$$3. \text{ а) } \sum_{n=1}^{\infty} \frac{x^n 3^n}{\sqrt{2^n(2n-1)}}; \text{ б) } \sum_{n=1}^{\infty} \frac{(x+2)^n}{n!}.$$

### Варіант 30

$$1. \text{ а) } \sum_{n=1}^{\infty} \frac{1-5n^3}{3-2n^5}; \text{ б) } \sum_{n=1}^{\infty} \left( \frac{2n-3}{3n-6} \right)^n.$$

$$2. \sum_{n=1}^{\infty} (-1)^n \frac{n+1}{\sqrt{n^3}}.$$

$$3. \text{ а) } \sum_{n=1}^{\infty} \frac{x^n n^n}{2^n n!}; \text{ б) } \sum_{n=1}^{\infty} \frac{(x-2)^{2n}}{2n \cdot 3^n}.$$

### Контрольні запитання

1. Який числовий ряд називають збіжним, а який – розбіжним?
2. Як у середовищі GNU Octave обчислити суму ряду?
3. У чому полягає необхідна ознака збіжності ряду? Як у середовищі GNU Octave перевірити необхідну умову збіжності ряду?
4. Яку функцію GNU Octave використовують для обчислення границь?
5. Як у середовищі GNU Octave перевірити на збіжність ряд за ознакою порівняння, ознакою Д'Аламбера або ознакою Коші?
6. Які умови треба перевірити для того, щоб дослідити на збіжність знакозмінний ряд за ознакою Лейбніца?
7. Що таке «степеневий ряд»? Як визначають радіус, інтервал та область збіжності степеневого ряду в середовищі GNU Octave?
8. Як у середовищі GNU Octave розвинути функцію в ряд Маклорена?

## Використана література

1. Вища математика : базовий підручник для вузів / під ред. В. С. Пономаренка. – Харків : Фоліо, 2014. – 669 с.
2. Вища математика в прикладних задачах економічного змісту. Ч. 1. Математика фінансів, лінійна та векторна алгебра, аналітична геометрія : навчальний посібник для студентів економічних спеціальностей усіх форм навчання / уклад. Н. І. Блащак, Л. І. Цимбалюк, А. Р. Бойко. – Тернопіль : ТНТУ ім. І. Пулюя, 2020. – 100 с.
3. Вища математика з навчальної дисципліни «Математика для економістів». Лабораторний практикум / І. В. Ветлугіна, К. М. Дубовик, М. В. Кайдаш та ін. – Харків : ХНЕУ, 2009. – 224 с.
4. Вища математика : підручник / Л. М. Малярець, Л. М. Афанасьєва, Т. В. Денисова та ін. – Харків : ХНЕУ, 2012. – 772 с.
5. Волков Ю. І. Вища математика : лекції, завдання для практичних занять та самостійної роботи студентів. Ч. 1. Навчальний посібник / Ю. І. Волков, Н. М. Войналович. – Кропивницький : ПП «Ексклюзив – Систем», 2019. – 73 с.
6. Малярець Л. М. Математика для економістів : практичний посібник до розв'язання задач економічних досліджень у MatLab / Л. М. Малярець, Є. В. Рєзнік, О. Г. Тижненко. – Харків : ХНЕУ, 2008. – 212 с.
7. Вища математика [Електронний ресурс] : методичні рекомендації до самостійної роботи за темою «Диференціальні рівняння» для студентів усіх спеціальностей першого (бакалаврського) рівня / уклад. А. В. Воронін, О. В. Гунько; Харківський національний економічний університет ім. С. Кузнеця. – Самостійне електрон. текстове мережеве вид. (6,03 МБ). – Харків : ХНЕУ ім. С. Кузнеця, 2018. – 75 с. – Режим доступу : <http://repository.hneu.edu.ua/handle/123456789/26217>. – Назва з тит. екрана.
8. Методичні рекомендації до самостійної роботи з теми «Диференціальні рівняння» навчальної дисципліни «Вища математика» [Електронний ресурс] / уклад. Л. М. Малярець, Л. М. Афанасьєва, К. О. Ковальова. – Мультимедійне інтерактивне електрон. вид. комбінованого використ. (48 МБ). – Харків : ХНЕУ ім. С. Кузнеця, 2017. – Режим доступу : <http://library.hneu.edu.ua/katalog.php>. – Назва з тит. екрана.
9. GNU Octave [Electronic resource]. – Access mode : <https://www.gnu.org/>.
10. Introduction to GNU Octave [Electronic resource]. – Access mode : <http://math.jacobs-university.de/oliver/teaching/iub/resources/octave/octave-intro/>.
11. Octave Guidelines [Electronic resource]. – Access mode : <http://www.philender.com/courses/multivariate/notes/matoctave.html>.

НАВЧАЛЬНЕ ВИДАННЯ

**Железнякова** Еліна Юріївна  
**Норік** Лариса Олексіївна

# **ВИЩА МАТЕМАТИКА В GNU OCTAVE**

**Навчально-практичний посібник**

*Самостійне електронне текстове мережеве видання*

Відповідальний за видання *Л. М. Малярець*

Відповідальний редактор *О. С. Вяткіна*

Редактор *О. Г. Доценко*

Коректор *Н. Г. Войчук*

План 2024 р. Поз. № 12-ЕНП. Обсяг 276 с.

---

Видавець і виготовлювач – ХНЕУ ім. С. Кузнеця, 61166, м. Харків, просп. Науки, 9-А

---

*Свідоцтво про внесення суб'єкта видавничої справи до Державного реєстру  
ДК № 4853 від 20.02.2015 р.*